

PREFEITURA MUNICIPAL DE BOM JESUS DO ITABAPOANA-RJ  
SECRETARIA MUNICIPAL DE EDUCAÇÃO, ESPORTE E LAZER

# Atividades Orientadoras



## Educação de Jovens e Adultos

### FASE I



UNIDADE ESCOLAR:

PROFESSORA

DATA

30/08/2021

NOME:

FASE:

CÓDIGO BNCC EF01LP05/EF01LP11/EF01LP17/EF12LP18/  
EF12LP19

## LÍNGUA PORTUGUESA

PEÇA A AJUDA DE ALGUÉM DA FAMÍLIA (OU AMIGO) E LEIA O TEXTO ABAIXO.

**POEMA:** é um texto com rimas, versos e estrofes.

### A CORRIDA DA VIDA

NA CORRIDA DESSA VIDA  
É PRECISO **ENTENDER**  
QUE VOCÊ VAI RASTEJAR,  
QUE VAI CAIR, VAI **SOFRER**  
E A VIDA VAI LHE **ENSINAR**  
QUE SE APRENDE A **CAMINHAR**  
E SÓ **DEPOIS A CORRER**.

A VIDA É UMA CORRIDA  
QUE NÃO SE CORRE **SOZINHO**.  
E VENCER NÃO É CHEGAR,  
É APROVEITAR O **CAMINHO**  
SENTINDO O CHEIRO DAS **FLORES**  
E APRENDENDO COM AS **DORES**  
CAUSADAS POR CADA **ESPINHO**

Bráulio Bessa

**VERSOS** - São as linhas do poema.

**RIMAS** - São palavras que combinam

**ESTROFES** - Nome dado a cada grupo de versos que compõem um poema.



<https://www.google.com/url>

1) O TEXTO É UM:

( ) AVISO

( ) CONVITE

( ) POEMA

2) COPIE O TÍTULO DO POEMA.

3) QUEM É O AUTOR DESSE POEMA?

4) OS VERSOS SÃO AS LINHAS DO POEMA.

QUANTOS VERSOS TEM O POEMA ?

5) AS ESTROFES SÃO OS GRUPOS DE VERSOS DO POEMA.

QUANTAS ESTROFES TEM ESSE POEMA?

6) COMPLETE O POEMA COM AS PALAVRAS QUE RIMAM.

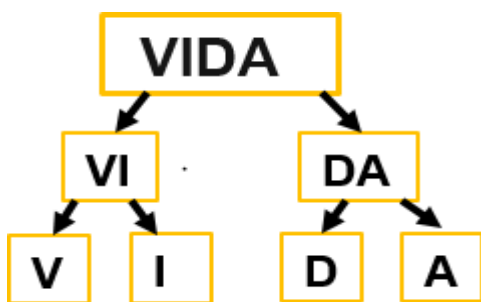
a) É PRECISO **ENTENDER**  
QUE VOCÊ VAI RASTEJAR,  
QUE VAI CAIR, VAI \_\_\_\_\_

b) E A VIDA VAI LHE **ENSINAR**  
QUE SE APRENDE A \_\_\_\_\_

c) QUE NÃO SE CORRE **SOZINHO**.  
E VENCER NÃO É CHEGAR,  
É APROVEITAR O \_\_\_\_\_



7) OBSERVE A PALAVRA ABAIXO:

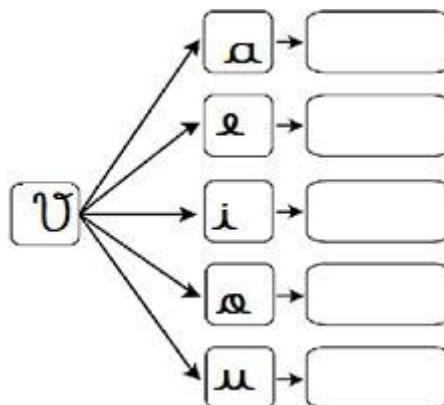
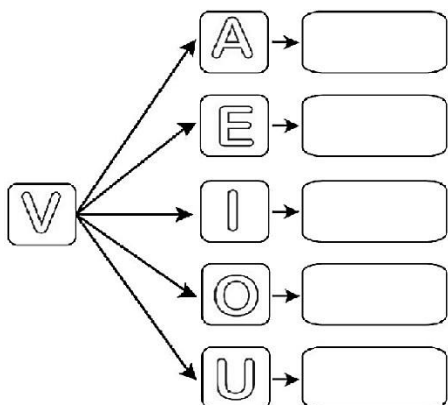


a) QUAL A LETRA INICIAL ?

b) QUAL A LETRA FINAL?

c) QUANTAS LETRAS TEM A PALAVRA?

8) COMPLETE A FAMÍLIA SILÁBICA.





UNIDADE ESCOLAR:

PROFESSORA

DATA  
31/08/2021

NOME:

FASE

CÓDIGO BNCC EF01MA05/EF01MA06/EF01MA07

## MATEMÁTICA

1) OBSERVE O QUADRO ABAIXO E RESPONDA:

21		54	
	81		28
75		63	
	47		96
35		62	

a) QUAL O MAIOR NÚMERO NATURAL?

b) QUAL O MENOR NÚMERO NATURAL?

c) QUAIS SÃO OS NÚMEROS PARES?

2) LIGUE A COMBINAÇÃO DE NÚMEROS QUE POSSUEM A MESMA SOMA.

$7 + 7 + 10$	24	$7 + 2 + 6$
$3 + 4 + 8$		$7 + 6 + 10$
$10 + 3 + 6$		$7 + 7 + 5$
$1 + 7 + 8$		24 $9 + 9 + 6$
$9 + 5 + 9$		$6 + 0 + 10$

3) ESCREVA OS RESULTADOS DAS SOMAS ACIMA EM ORDEM CRESCENTE.

4) DECOMPONHA OS NÚMEROS ABAIXO CONFORME O EXEMPLO:

$$46 = 40 + 6 = 4 \text{ DEZENAS} + 6 \text{ UNIDADES}$$

a)  $12 = \underline{\quad} + \underline{\quad} = \underline{\quad} \text{ DEZENAS} + \underline{\quad} \text{ UNIDADES}$

b)  $21 = \underline{\quad} + \underline{\quad} = \underline{\quad} \text{ DEZENAS} + \underline{\quad} \text{ UNIDADES}$

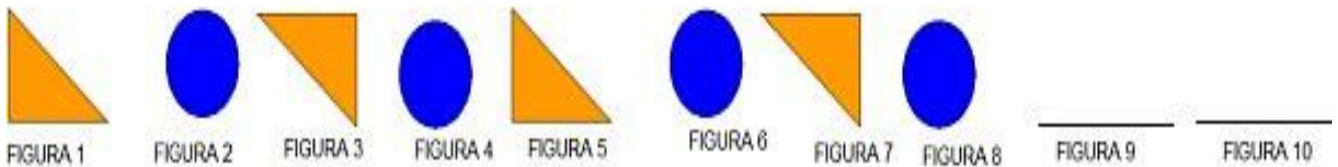
c)  $54 = \underline{\quad} + \underline{\quad} = \underline{\quad} \text{ DEZENAS} + \underline{\quad} \text{ UNIDADES}$

d)  $18 = \underline{\quad} + \underline{\quad} = \underline{\quad} \text{ DEZENAS} + \underline{\quad} \text{ UNIDADES}$

e)  $10 = \underline{\quad} + \underline{\quad} = \underline{\quad} \text{ DEZENAS} + \underline{\quad} \text{ UNIDADES}$

f)  $74 = \underline{\quad} + \underline{\quad} = \underline{\quad} \text{ DEZENAS} + \underline{\quad} \text{ UNIDADES}$

5) OBSERVE O PADRÃO DA SEQUENCIA A SEGUIR.



23\_VV\_MAT\_1ANO\_3BIM\_Sequencia\_didatica\_3\_TR

6) ARME E EFETUE.

a)  $37 + 52 =$

b)  $45 - 24 =$

c)  $56 - 42 =$

d)  $115 + 23 =$

e)  $128 + 41 =$

a) 

D	U

b) 

D	U

e) 

C	D	U

c) 

D	U

d) 

C	D	U





UNIDADE ESCOLAR:

PROFESSORA

DATA

01/09/2021

NOME:

FASE

CÓDIGO BNCC EF01CI02

## CIÊNCIAS

# MEU CORPO



COMO É O SEU CORPO?

ELE É PARECIDO COM O DAS OUTRAS PESSOAS?

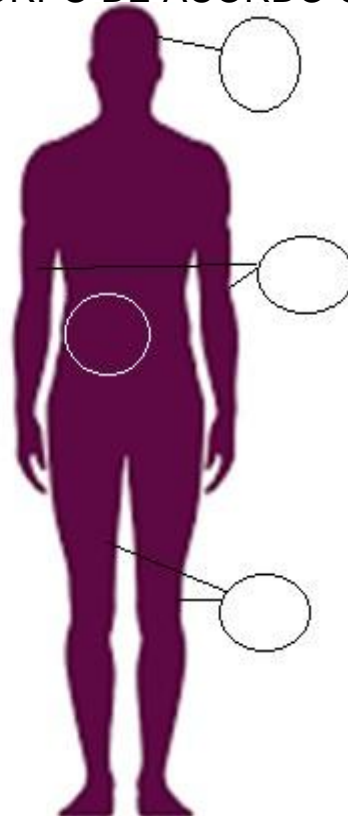
CERTAMENTE VOCÊ JÁ DEVE TER PERCEBIDO QUE EXISTEM SEMELHANÇAS E DIFERENÇAS.

AS PESSOAS SÃO DIFERENTES NA COR DOS CABELOS, OLHOS E PELE; NO SEXO ( MASCULINO E FEMININO).

1) NOSSO CORPO ESTÁ DIVIDIDO EM 3 PARTES ( CABEÇA , TRONCO E MEMBROS ( SUPERIORES E INFERIORES).

NUMERE AS PARTES DO CORPO DE ACORDO COM O QUADRO.

- 1 - CABEÇA
- 2 - TRONCO
- 3 - MEMBROS SUPERIORES
- 4 - MEMBROS INFERIORES



**AS PESSOAS SÃO DIFERENTES NA COR DOS CABELOS, OLHOS E PELE; NO SEXO ( MASCULINO E FEMININO).**

2) O QUE TE FAZ DIFERENTE DAS OUTRAS PESSOAS SÃO SUAS CARACTERÍSTICAS PESSOAIS.

MARQUE COM X AS SUAS CARACTERÍSTICAS.

a) MEUS OLHOS SÃO:

AZUIS

VERDES

CASTANHOS

PRETOS

b) OS MEUS CABELOS SÃO:

CASTANHOS

ONDULADOS

PRETOS

LISOS

LOIROS

RUIVOS

c) MINHA PELE É:

BRANCA

PRETA

AMARELA

PARDA

d) EU SOU:

BAIXO

ALTO

MASCULINO

MAGRO

GORDO

FEMININO



3) ENCONTRE NO CAÇA-PALAVRAS OS NOMES DAS PARTES DO CORPO.



B	N	O	L	H	O	D
N	A	R	I	Z	D	O
T	Y	U	D	G	P	É
T	R	D	M	Ã	O	V
A	B	O	C	A	Y	X
O	R	E	L	H	A	C

MÃO  
OLHO  
PÉ  
BOCA  
ORELHA  
NARIZ



UNIDADE ESCOLAR:

PROFESSORA

DATA  
01/09/2021

NOME:


FASE

CÓDIGO BNCC EF01GE07

## GEOGRAFIA

O TRÂNSITO É COISA SÉRIA,  
NINGUÉM PODE DUVIDAR  
E SE O SINAL ESTÁ VERMELHO,  
MELHOR NÃO ATRAVESSAR.

Trecho do poema "Transito"; autor desconhecido

 TRÂNSITO É O MOVIMENTO DE PESSOAS E VEÍCULOS NAS RUAS, AVENIDAS E ESTRADAS.



© CartStockPhoto.com

**ONDE ESTÁ O PERIGO?**  
CIRCULE NA IMAGEM ATITUDES PERIGOSAS DE PEDESTRES E MOTORISTAS



<https://2.bp.blogspot.com/Lufdwaxc16l/Uj3HJ1OHDbl/AAAAAAAAALo8/dUMvAEZs5il/s640/0000024108.jpg>

**PINTE O SEMÁFORO NAS CORES INDICADAS E LIGUE CORRETAMENTE:**



VERMELHO

AMARELO

VERDE

ATENÇÃO

PODE PASSAR

PARE!



# LEI DETERMINA MUDANÇA, EM MACEIÓ, DE IMAGENS REPRESENTANDO IDOSOS EM PLACAS E SIMILARES

ESSA PLACA SINALIZA PRIORIDADE PARA:



- DEFICIENTES
- IDOSOS
- PEDESTRES.

03 DE SETEMBRO É O DIA DO **GUARDA CIVIL**. VOCÊ JÁ PRECISOU DOS SERVIÇOS DO GUARDA?

- SIM
- NÃO



ENCONTRE A SAÍDA DO LABIRINTO:



Dica: Siga os sinais!



UNIDADE ESCOLAR:

PROFESSORA

DATA  
01/09/2021


NOME:

FASE

CÓDIGO BNCC

## VALORES

 **EMPATIA**



- 1) OBSERVE A IMAGEM :
- a) A IMAGEM MOSTRA DUAS PESSOAS :
- ( ) NA PRAÇA
- ( ) OBSERVANDO UM NÚMERO
- b) O PONTO DE VISTA DAS PESSOAS , INTERFERE NO QUE ELAS VEEM?
- SIM  NÃO

2) NA IMAGEM AO LADO, A CHARGE MOSTRA UMA SITUAÇÃO DE EMPATIA ENTRE OS ANIMAIS.

QUAL DOS ANIMAIS ESTÁ SENDO **EMPÁTICO**?

- ( ) O LEÃO
- ( ) A GIRAFA



# EMPATIA É....

COMPREENDER OS SENTIMENTOS, DESEJOS, IDEIAS E AÇÕES DE OUTRAS PESSOAS, E DE TODO SER VIVO ( PLANTAS, ANIMAIS).

## 05 DE SETEMBRO COMEMORAMOS O DIA DA AMAZÔNIA

3) OBSERVE A CHARGE ABAIXO E RESPONDA:



a) COLOQUE-SE NO LUGAR DESSA AVE. QUAL SERIA SEU SENTIMENTO ?



b) AGORA COLOQUE-SE NO LUGAR DAS PESSOAS NA CHARGE. COMO VOCÊ SE SENTIRIA NESSA SITUAÇÃO?



MARQUE AS CENAS QUE MOSTRAM SITUAÇÕES DE EMPATIA.

