

PREFEITURA MUNICIPAL DE BOM JESUS DO ITABAPOANA-RJ
SECRETARIA MUNICIPAL DE EDUCAÇÃO, ESPORTE E LAZER

Atividades Orientadoras



Educação de Jovens e Adultos

FASE I

UNIDADE ESCOLAR:

PROFESSORA

DATA

NOME:

FASE

CÓDIGO BNCC

LÍNGUA PORTUGUESA

EM BOM JESUS DO ITABAPOANA TEMOS A FEIRA LIVRE NOS SÁBADOS, QUE É UMA CULTURA LOCAL.

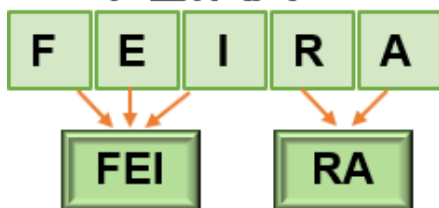
NA FEIRA ENCONTRAMOS UMA VARIEDADE DE PRODUTOS NATURAIS, DIRETO DO PRODUTOR.

1) CIRCULE O NOME DA CIDADE



OBSERVE A PALAVRA ABAIXO

FEIRA



2) QUANTAS LETRAS TEM A PALAVRA?

3) QUAL É A LETRA :
INICIAL? FINAL?

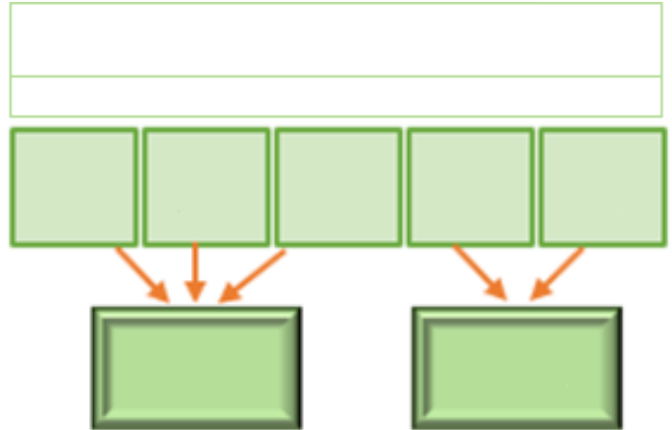
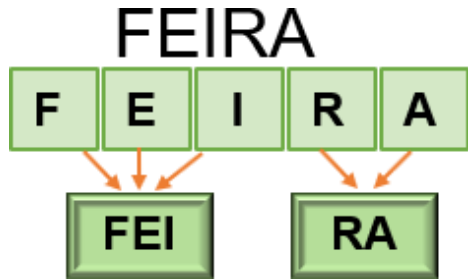

4) QUAIS SÃO AS VOGAIS DA PALAVRA?

E AS CONSOANTES?

5) QUANTAS SÍLABAS TEM?

6) QUANTAS LETRAS TEM A PRIMEIRA SÍLABA?
E A SEGUNDA?

6) REESCREVA A PALAVRA ABAIXO USANDO A LETRA CURSIVA.



7) JUNTE AS SÍLABAS E FORME PALAVRAS:

FI	+	TA	=	
FO	+	TO	=	
FO	+	FA	=	
FI	+	LA	=	
FI	+	O	=	
FA	+	CA	=	

FU	+	MO	=			
FO	+	FO	+	CA	=	
FA	+	RO	+	FA	=	
FU	+	LA	+	NO	=	
BI	+	FE	=			
CA	+	FÉ	=			

8) CONSULTE O QUADRO E ESCREVA O NOME DAS FIGURAS.











CAFÉ
FILA
FOFOCA
FACA

UNIDADE ESCOLAR:

PROFESSORA

DATA
03/08/2021

NOME:

FASE

CÓDIGO BNCC

MATEMÁTICA

ESSE É O NOSSO CALENDÁRIO.

NELE TEMOS AS INFORMAÇÕES DO MÊS, DOS DIAS DA SEMANA, FERIADOS E ATÉ DAS FASES DA LUA.

1) FAÇA A RELAÇÃO ENTRE AS LETRAS INICIAIS E OS DIAS DA SEMANA.

D	SEXTA-FEIRA
S	QUARTA-FEIRA
T	SÁBADO
Q	SEGUNDA-FEIRA
Q	TERÇA-FEIRA
S	DOMINGO
S	QUINTA-FEIRA

2) MARQUE COM (x) A RESPOSTA CERTA.

❖ UMA SEMANA TEM:

() 5 DIAS () 3 DIAS () 7 DIAS

❖ O DIA DA SEMANA QUE TEM FEIRA LIVRE NA CIDADE É:

() SEXTA-FEIRA () SÁBADO

CALENDÁRIO 2021 AGOSTO

DATAS COMEMORATIVAS DO MÊS

- 08- Dia dos Pais
- 22- Dia do Folclore
- 25- Dia do Soldado

DOM	SEG	TER	QUA	QUI	SEX	SAB
1	2	3	4	5	6	7
8	9	10	11	12	13	14
15	16	17	18	19	20	21
22	23	24	25	26	27	28
29	30	31				

Acesse o link abaixo e assista ao vídeo.

https://semeel.com.br/wp-content/uploads/2021/08/lv_0_20210729204737.mp4

3) ENCONTRE NO CAÇA LETRAS, AS LETRAS DO MÊS MOSTRADO NO CALENDÁRIO.

Δ	Ω	P	G	8	&	5
2	A	∞	O	#	T	O
+	\$	q	@	6	P	R
U	3	W	b	S	k	1
i	m	h	9	%	d	X

4) COPIE DO QUADRO ACIMA APENAS OS NÚMEROS.

5) OBSERVANDO O CALENDÁRIO DO MÊS DE AGOSTO, PINTE O RETÂNGULO QUE CONTÉM A RESPOSTA CERTA:

a) EM QUAL DIA DA SEMANA SERÁ O DIA 8.

TERÇA-FEIRA	DOMINGO	QUINTA-FEIRA
-------------	---------	--------------

b) O CALENDÁRIO DIZ QUE ESTAMOS NO ANO DE:

2020	2022	2021
------	------	------

c) SE HOJE É TERÇA-FEIRA, DIA 03 DE AGOSTO, AMANHÃ SERÁ:

SEXTA-FEIRA, DIA 04 DE AGOSTO

QUINTA-FEIRA, DIA 08 DE AGOSTO

QUARTA-FEIRA, DIA 04 DE AGOSTO



d) EM QUE DIA DA SEMANA FOI O PRIMEIRO DIA DO MÊS?

SÁBADO

DOMINGO

SEGUNDA-FEIRA

6) AS DATAS DO CALENDÁRIO ABAIXO FORAM APAGADAS. COMPLETE:



Figura 2

<https://i.pinimg.com/originals/19/18/ee/1918ee1288018d86d8ca09bd2e18731f.p>

UNIDADE ESCOLAR:

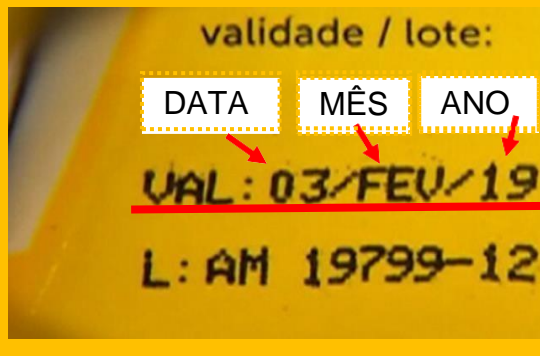
PROFESSORA DATA

NOME:

FASE CÓDIGO BNCC



CIÊNCIAS/MATEMÁTICA



A DATA DE VALIDADE DOS PRODUTOS INFORMA AO CONSUMIDOR POR QUANTO TEMPO O PRODUTO ESTÁ BOM PARA SER CONSUMIDO OU USADO.

A **ANVISA** (Agência Nacional de Vigilância Sanitária) É O ORGÃO QUE FISCALIZA ALÉM DE DETERMINAR OS CRITÉRIOS DE REGULAMENTAÇÃO DOS PRODUTOS.

1) **HOJE** LÚCIA FEZ BISCOITOS CASEIROS PARA VENDER. OS BISCOITOS TÊM VALIDADE DE **15 DIAS**. PREENCHA CORRETAMENTE A ETIQUETA QUE LÚCIA DEVERÁ COLOCAR NA EMBALAGEM.



Val.: ____ / ____ / ____

Fab.: ____ / ____ / ____

2) OBSERVE A DATA DE VALIDADE DO PRODUTO E MARQUE COM (X) O QUE PODE SER CONSUMIDO.



UNIDADE ESCOLAR:

PROFESSORA

DATA

NOME:

FASE

CÓDIGO BNCC

GEOGRAFIA



1) A FOTO AO LADO MOSTRA UMA RUA DA PRAÇA GOVERNADOR PORTELA (desfile escolar do colégio Rio Branco).

a) MARQUE COM (X) A ÉPOCA QUE A FOTO RETRATA .

() PASSADO () PRESENTE

MARQUE COM (X) OS ELEMENTOS QUE MOSTRAM AS CARACTERÍSTICAS DO PASSADO.

() OS PRÉDIOS () O CALÇAMENTO DA RUA () A MÚSICA

() O SOL () AS ROUPAS () AS PESSOAS



2) CIRCULE A IMAGEM COM ELEMENTOS COMUNS AOS DIAS DE HOJE.

Figura 5: Mutirão para limpeza do Colégio, iniciada década de 1980.



Fonte: Arquivo do Instituto Federal Fluminense, Campus Bom Jesus.

FOTOS ANTIGAS DA CAPELA DA USINA SANTA ISABEL



UNIDADE ESCOLAR:

PROFESSORA

DATA
06/08/2021

NOME:

FASE |

CÓDIGO BNCC EF01LP01/EF01LP08

2º DOMINGO DE AGOSTO



Figura 2
<https://i.pinimg.com/originals/19/18/ee/1918ee1288018d86d8ca09bd2e18731f.p>

1) EM QUE DIA DO MÊS DE AGOSTO COMEMORAMOS O DIA DOS PAIS?

2) CIRCULE NO TEXTO ABAIXO A PALVRA ESCRITA COM A LETRA "P"



E COPIE.

3) JUNTE A CONSOANTE COM A VOGAL, PEÇA AJUDA E LEIA.

P	A	→	<input type="text"/>
	E	→	<input type="text"/>
	I	→	<input type="text"/>
	O	→	<input type="text"/>
	U	→	<input type="text"/>

↑ pa pe pi po pu

x

o

x

4) COPIE USANDO A LETRA CURSIVA