

PREFEITURA MUNICIPAL DE BOM JESUS DO ITABAPOANA-RJ  
SECRETARIA MUNICIPAL DE EDUCAÇÃO, ESPORTE E LAZER

# Atividades Orientadoras



## Educação de Jovens e Adultos

### FASE V

UNIDADE ESCOLAR:

PROFESSORA  DATA

NOME:

FASE  CÓDIGO BNCC

# BILHETE

# LP

A tecnologia veio para melhorar muitos aspectos de nossas vidas, mas também quase acabou com algumas tradições. Deixar bilhetes é um bom exemplo. Embora, hoje em dia, as pessoas praticamente só se comuniquem virtualmente, muita gente ainda manda bilhetes.

Bilhete é um tipo de texto cotidiano muito frequente empregado em contextos informais e escrito entre pessoas que possuam um grau de afetividade.

Leia o bilhete abaixo e responda as perguntas a seguir.

**1** Quem escreveu o bilhete?

**2** Para quem foi escrito o bilhete?

**3** Que pedido tem no bilhete?

**4** No bilhete tem um aviso, escreva-o.

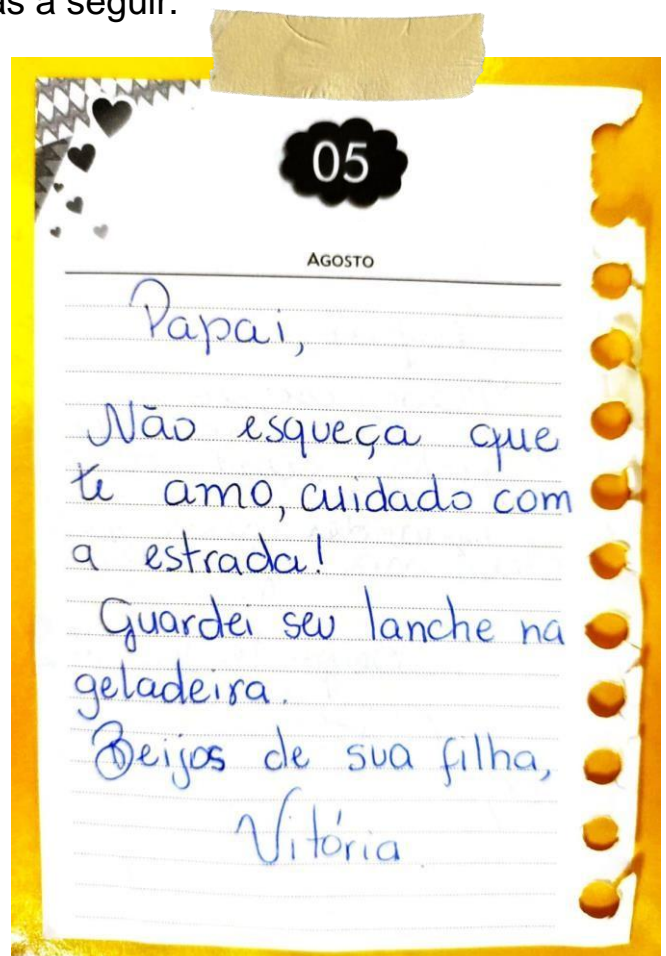


Figura 1 Imagem produzida para essa atividade.

UNIDADE ESCOLAR:

PROFESSORA:

DATA:

NOME:

FASE:

CÓDIGO BNCC:

# CALENDÁRIO MA

1. Com base na observação do calendário do ano de 2021, responda as questões a seguir.

JANEIRO						
D	S	T	Q	Q	S	S
					1	2
3	4	5	6	7	8	9
10	11	12	13	14	15	16
17	18	19	20	21	22	23
24	25	26	27	28	29	30
31	6 - MING.				13 - NOVA	
	20 - CRESC.				28 - CHEIA	

FEVEREIRO						
D	S	T	Q	Q	S	S
	1	2	3	4	5	6
7	8	9	10	11	12	13
14	15	16	17	18	19	20
21	22	23	24	25	26	27
28						16 - CARNAVAL
	4 - MING.				11 - NOVA	
	19 - CRESC.				27 - CHEIA	

MARÇO						
D	S	T	Q	Q	S	S
	1	2	3	4	5	6
7	8	9	10	11	12	13
14	15	16	17	18	19	20
21	22	23	24	25	26	27
28	29	30	31			8 - DIA DA MULHER 20 - INÍCIO DO OUTONO
	5 - MING.				13 - NOVA	
	21 - CRESC.				28 - CHEIA	

ABRIL						
D	S	T	Q	Q	S	S
				1	2	3
4	5	6	7	8	9	10
11	12	13	14	15	16	17
18	19	20	21	22	23	24
25	26	27	28	29	30	
	4 - MING.			11 - NOVA		22 - D. DO BRASIL
	20 - CRESC.			27 - CHEIA		

MAIO						
D	S	T	Q	Q	S	S
						1
2	3	4	5	6	7	8
9	10	11	12	13	14	15
16	17	18	19	20	21	22
23	24	25	26	27	28	29
30	31					
	3 - MING.			11 - NOVA		
	19 - CRESC.			26 - CHEIA		

JUNHO						
D	S	T	Q	Q	S	S
				1	2	3
4	5	6	7	8	9	10
11	12	13	14	15	16	17
18	19	20	21	22	23	24
25	26	27	28	29	30	
	2 - MING.			10 - NOVA		
	18 - CRESC.			24 - CHEIA		

JULHO						
D	S	T	Q	Q	S	S
				1	2	3
4	5	6	7	8	9	10
11	12	13	14	15	16	17
18	19	20	21	22	23	24
25	26	27	28	29	30	31
	1 - MING.			9 - NOVA		
	17 - CRESC.			23 - CHEIA		31 - MING.

AGOSTO						
D	S	T	Q	Q	S	S
1	2	3	4	5	6	7
8	9	10	11	12	13	14
15	16	17	18	19	20	21
22	23	24	25	26	27	28
29	30	31				8 - DIA DOS PAIS
	8 - NOVA			15 - CRESC.		
	22 - CHEIA			30 - MING.		

SETEMBRO						
D	S	T	Q	Q	S	S
				1	2	3
4	5	6	7	8	9	10
11	12	13	14	15	16	17
18	19	20	21	22	23	24
25	26	27	28	29	30	
	6 - NOVA			13 - CRESC.		
	20 - CHEIA			28 - MING.		

OUTUBRO						
D	S	T	Q	Q	S	S
				1	2	
3	4	5	6	7	8	9
10	11	12	13	14	15	16
17	18	19	20	21	22	23
24	25	26	27	28	29	30
31	6 - NOVA			13 - CRESC.		
	20 - CHEIA			28 - MING.		

NOVEMBRO						
D	S	T	Q	Q	S	S
	1	2	3	4	5	6
7	8	9	10	11	12	13
14	15	16	17	18	19	20
21	22	23	24	25	26	27
28	29	30				2 - FINADOS 15 - PROCL. DA REPÚBLICA 20 - CONCIÊNCIA NEGRA
	4 - NOVA			11 - CRESC.		
	19 - CHEIA			27 - MING.		

DEZEMBRO						
D	S	T	Q	Q	S	S
				1	2	3
4	5	6	7	8	9	10
11	12	13	14	15	16	17
18	19	20	21	22	23	24
25	26	27	28	29	30	31
	4 - NOVA			10 - CRESC.		
	19 - CHEIA			26 - MING.		

Figura 2

<https://i.pinimg.com/564x/3d/a7/22/3da72293ea28f36856dc44dd1b65b3c9.jpg>

Accesse o link abaixo e assista ao vídeo.

[https://semeel.com.br/wp-content/uploads/2021/08/iv\\_0\\_20210729204737.mp4](https://semeel.com.br/wp-content/uploads/2021/08/iv_0_20210729204737.mp4)

# ATIVIDADES

- 1) Quantos dias e quantos meses tem o ano? \_\_\_\_\_
- 2) Em que mês estamos? \_\_\_\_\_
- 3) Qual é mês do seu aniversário? Quantos dias têm? \_\_\_\_\_
- 4) Quantos dias úteis tem o mês de agosto? \_\_\_\_\_

Dias úteis são os dias que abrangem de segunda-feira à sexta-feira, com o funcionamento normal dos estabelecimentos de bens e serviços. Estão excluídos feriados, sábados e domingos.

- 5) Em que dia e mês será o feriado da “Festa de Agosto”?

\_\_\_\_\_

- 6) O Dia dos Pais será comemorado em qual dia e mês?

\_\_\_\_\_

- 7) Em que dia da semana do mês de agosto começa a Lua Nova ●? \_\_\_\_\_

- 8) De acordo com as dicas descubra o dia do aniversário do pai de Antônio.

**O aniversário do pai de Antônio é no mês de agosto, é depois do dia 6, mas é antes do segundo domingo do mês.**

- a) Então o aniversário do pai de Antônio é no dia \_\_\_\_\_ de agosto.



UNIDADE ESCOLAR :

PROFESSORA  DATA

NOME:

FASE  CÓDIGO BNCC

2

## AS FASES DA LUA

# CI



Figura 3  
<https://www.todoestudo.com.br/wp-content/uploads/2017/04/Fases-da-Lua.jpg>

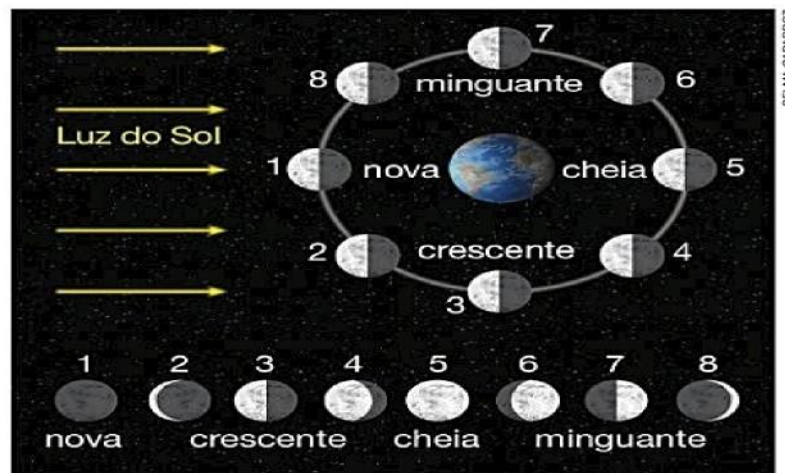
Provavelmente, o Cofço C9I9St9 gu9 mais chama n0ssa atenSã0 n0 céu noturno é a Lua. Ela parece ser maior d0 que as estrelas por estar mais p9rt0 de nos. Ainda assim, a Lua enc0ntra-se a aproximadamente 384 mil quilômetros da Yerra, UMd dISt8ncia suficiente para "caber" cerca de 32 Terf8S I8b0 B I8b0.

OITIO OS §I809t6S, 6 /IJ6 080 §OSSIJ IIJZ gfé§ria. Ela também é iluminada pelo Sol. O que podemos enxergar e aparte da Lua que recebe aluz solar.

NO deC0ff9f d9 US I9S, 0 f0r!Tt0t0 9 0 bfilh0 da Lva sofrem mudan§as aparentes.

A Lua gira em torno da Terra. Conforme realiza esse percurso, ela muda de fase. A fase da lua nova e aquela em que podemos enxergar a parte voltada para a Terra porque a luz solar incide sobre ela. Nas noites seguintes, a parte iluminada cresce até a fase da lua cheia. Em seguida, a parte iluminada diminui até chegar a lua nova seguinte.

Uma volta da Lua em torno da Terra dura 29 dias e meio. Esse período é chamado de mês lunar.



m Representação sem escala.

### A influencia da Lena score a vida Inomana

Mutters pelves aritigos acre<fitavarn que o :mbiente onde viviann se transformava com as fases da Lua.

Ainda hoje, alguris pc>vos incligenas. como os Guarani do Brasil e de parses vizirihos, term o hñbito de nagar entre o quarto crescente e a ma cheia. Nessa epoca. os animals se agitam por causa da luz, tornando-se mais fñcil localizñ-los.

As fases da Lua tambem interferences nas mards. Pescadores sabem que a mare alta de ma cheia e sinal de fartura de amara0.



x Paisagem nc>turnna da Baia cie Taos-cms-Hantc>s em mare baixa.

Mlinas da Margarida (BA). Fnto de 204 4.

## ATIVIDADES

1. Leia o texto “As fases da Lua” e responda as questões a seguir.


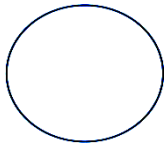
a) Quanto tempo dura o mês lunar?

b) Escreva como a Lua pode influenciar a vida humana?

2) Existem muitas lendas em torno da Lua Cheia. Você conhece alguma? Escreva.

3) Na sua opinião a Lua exerce influência também no crescimento e nos cortes dos cabelos? Justifique sua resposta.

5) Nomeie as quatro fases da Lua.



### Você sabia?

A Lua é capaz de movimentar os oceanos. Ela influencia no movimento das marés. Isso acontece porque os oceanos são grandes massas líquidas, que, conforme a aproximação do satélite são puxadas para mais perto dele. Essa atração é tão significativa que faz com que o mar se aproxime ou se afaste da costa.

Disponível em <https://www.uol.com.br/tilt/ultimas-noticias/redacao/2019/05/17/>

parto-cabelo-afinal-qual-e-a-influencia-da-lua-sobre-as-nossas-vidas.

htm?cmpid=copiaecola

UNIDADE ESCOLAR:

PROFESSORA

DATA

NOME:

FASE

CÓDIGO BNCC

## MOVIMENTO DIÁRIO DO SOL


CI

### OS MOVIMENTOS DA TERRA

Temos o costume de contar a passagem do tempo em anos. Mas por que o ano tem 365 dias?

Considere que a Terra se move em sua órbita, dando voltas em torno do Sol. Esse movimento é conhecido como **translação**.

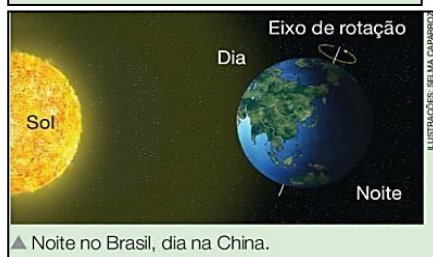
A duração de **um ano** é o tempo gasto pela Terra para dar uma volta completa em torno do Sol.



▲ Movimento de translação da Terra.



▲ Dia no Brasil, noite na China.



▲ Noite no Brasil, dia na China.

Ao mesmo tempo em que faz o movimento de translação, a Terra gira em torno de um eixo imaginário. Esse outro movimento do planeta é chamado de **rotação**.

O período que chamamos de **1 dia** é o tempo gasto pela Terra para fazer um giro completo sobre esse eixo imaginário chamado de **eixo de rotação**. Esse movimento dura **24 horas**.

Assim, quando uma parte do planeta está iluminada pelo Sol, outra está escura. Com a rotação da Terra, anoitece onde era dia e amanhece onde era noite.

Ao amanhecer, podemos ver o Sol a Leste, junto à linha do horizonte. Ao meio-dia, ele está no ponto mais alto do "céu". E, ao final da tarde, ele encontra-se a Oeste, de novo rente ao horizonte. Na verdade esse movimento é realizado pelo planeta Terra, é ele que se movimenta. Podemos perceber a noite, que as estrelas também parecem deslocar-se.

Dizemos então, que a rotação do nosso planeta produz um **movimento aparente do Sol e de outros astros no céu**.



# ATIVIDADES


1) Para localizar os pontos de orientação, guiando-nos pelos lados em que o Sol nasce e o Sol se põe. Ao esticar o braço direito para a direção em que o Sol nasce encontrará o ponto Leste (L).

Em seguida, esticando o braço esquerdo para a outra direção, você encontrará o ponto Oeste (O). À sua frente, você terá o ponto Norte (N) e, atrás de você, o ponto Sul (S).



Figura 4- Pôr do Sol em Bom Jesus do Itabapoana.  
[https://1.bp.blogspot.com/-Lppw1f9ER6Y/XSZ7lqSk1PI/AAAAAAAAABX\\_I/UQ4ODgaRBI8auBZ-6\\_juEVyI7MD9oU\\_0wCLcBGAs/s1600/IMG-20190710-WA0142.jpg](https://1.bp.blogspot.com/-Lppw1f9ER6Y/XSZ7lqSk1PI/AAAAAAAAABX_I/UQ4ODgaRBI8auBZ-6_juEVyI7MD9oU_0wCLcBGAs/s1600/IMG-20190710-WA0142.jpg)  
Imagem modificada para essa atividade

Com base no que você acabou de ler. Identifique os pontos de localização.



2) Após a leitura do texto “Movimento diário do Sol”, responda as questões abaixo.

a) Como é chamado o movimento que a Terra faz em torno do Sol?

b) Quanto tempo é gasto pela Terra para fazer um giro completo sobre esse eixo imaginário?

3) A rotação do nosso planeta produz, um tipo de movimento em relação ao Sol e de outros astros no céu. Qual?



UNIDADE ESCOLAR:

PROFESSORA

DATA

NOME:

FASE

CÓDIGO BNCC

## DIFERENTES LINGUAGENS NO PROCESSO DE COMUNICAÇÃO

HI/ LP

# Pai escreve bilhetes com conselhos para deixar para a filha

Conheça a comovente história do pai diagnosticado com câncer



Por Leonardo Filomeno




Figura 5

<https://mhmcndn.manualdohomemmoderno.com.br/?w=781&h=488&q uality=100&clipping=crop&url=https://manualdohomemmoderno.com.br/files/2014/10/Pai-escreve-bilhetes-com-conselhos-para-deixar-para-a-filha-8.jpg>

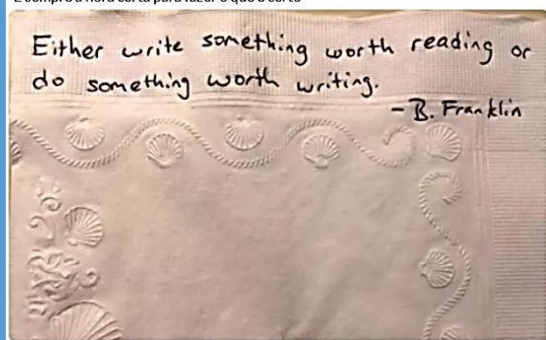
O que você faria se fosse pai de uma filha e descobrisse que um câncer tiraria sua vida em, no máximo cinco anos? Garth, com 44 anos, deixou de lado o pessimismo e a depressão e aproveitou o tempo para deixar um legado fantástico para sua filha: bilhetes com conselhos para todos os dias até ela completar o colegial.

A revelação desastrosa aconteceu depois de ter sido diagnosticado com câncer pela terceira vez. Os conselhos são escritos em guardanapos desde que a filha, Emma estava na segunda série. O objetivo é que ela tenha algo para lembrar do pai quando estiver no colegial, período difícil da adolescência.

Depois de ver que Emma começou a cobrar as mensagens, Garth colocou como meta escrever 826 bilhetes, e dá para a filha um por dia. Os bilhetes futuros estão guardados para o caso do seu falecimento.

Os bilhetes com conselhos são frases curtas que encorajam a filha a viver sem preocupação, ser feliz e não encanar com os problemas e adversidades da vida. O projeto deu tão certo que os bilhetes transformaram-se em livro e a história irá para os cinemas em breve.

"É sempre a hora certa para fazer o que é certo"



"Querida Emma",  
"Às vezes, quando eu preciso de um milagre, eu olho para os seus olhos e chego à conclusão que eu já criei um".

Com amor, Papai

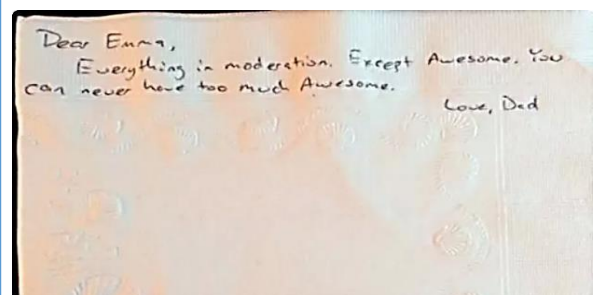


Figura 6

<https://mhmcndn.manualdohomemmoderno.com.br/?w=750&h=450&quality=90&clipping=landscape&url=http://manualdohomemmoderno.com.br/files/2014/10/Pai-escreve-bilhetes-com-conselhos-para-deixar-para-a-filha.jpg>

1. Responda de acordo com suas próprias experiências.

a) Você já escreveu ou recebeu bilhete? Se a resposta for “sim” escreva de quem foi o bilhete que você recebeu ou para quem você escreveu o bilhete.

---

---

b) Você já se emocionou lendo ou escrevendo um bilhete, uma carta, um texto ou um poema?

---

---

c) O que você achou da atitude do pai da reportagem em escrever bilhetes para a filha?

---

---

d) Você já parou para pensar quais lembranças o seu filho ou neto terá de você? E quanto tempo você tem dedicado para construir memórias afetivas junto a sua família? Sabemos que está cada vez mais difícil encontrar tempo para dar a devida atenção aos filhos ou netos. A rotina diária é intensa, muitos trabalham fora e chegando em casa ainda tem os afazeres domésticos e, muitas vezes, somos sugados pelos meios eletrônicos (celular, tv, computador, etc.). Aproveite que está se aproximando uma data muito significativa para as famílias, o Dia dos Pais e diga o quanto você ama seus filhos, seus netos, sua família e o quanto eles são importantes para você.

Você pode escrever um bilhete se quiser ou simplesmente falar. Mas não deixe de expressar seus sentimentos, pois temos que aproveitar cada segundo com as pessoas que são preciosas para nós, o restante é tudo passageiro. (na página 10, tem um espaço para você escrever seu bilhete).

2) Responda baseado no texto e marque a alternativa correta.

a) O texto acima é do gênero:

- Poema
- Anúncio
- Reportagem
- Conto

b) Qual é o título da reportagem?

- Pai escreve bilhete com conselhos para deixar para a filha.
- Bilhetes no guardanapo.
- Pai e filha
- Comovente história do pai

3) Qual era o objetivo do pai em escrever os bilhetes para a filha?

---

Lembre-se de que, para escrever um bilhete, vamos precisar de...

Leia o bilhete que Lore na escreveu para seu pai.

NOJE DO DESTIATARIO  
Q uem vai rece ber o bilhete.

Bom Jesus, 08 de agosto.  
Pai Sebastião,

...uenõ adosl...a qu oruo izer  
que n asn o não podendo estar ai  
com voc e f...amente eu estou em  
coraRao.  
Vo cé a mu.Jto In portanie para mink'  
e a distancia nunca serb capaz rte e-  
diminuir meu nmor por l.  
Obr gado por seu amor e seus  
e s...a n\ entos.

fdENSAñEtd

DE PFDIDA

Um beijo,  
Da sua fill a  
Lorena.

A 1INATIJRA CO RE f1E TENTE  
Ou m v.ei mrs ndor o bilhotc.

BMI hete é uma  
mensagern curta queas  
pessoasusam para  
convidar, pedir,  
agradecer, oferecer,  
informar, se desculpar,  
perguntar etc.

AGORA,  
E CO L1VOÇÊ!!!