

PREFEITURA MUNICIPAL DE BOM JESUS DO ITABAPOANA-RJ
SECRETARIA MUNICIPAL DE EDUCAÇÃO, ESPORTE E LAZER

SEMEEL

A mudança está em nossas mãos

Atividades Orientadoras



1º ano

Ensino Fundamental

UNIDADE ESCOLAR:

PROFESSORA

ANO DE ESCOLARIDADE

DATA

NOME:

HOJE É?

SEGUNDA

TERÇA

QUARTA

QUINTA

SEXTA

CÓDIGO BNCC

LÍNGUA PORTUGUESA

O TEXTO QUE VOCÊ VAI LER É UM LINDO POEMA DE SÔNIA MIRANDA. É SOBRE CRIANÇAS, SEUS BRINQUEDOS E BRINCADEIRAS. VOCÊ VAI GOSTAR!



INFÂNCIA
(Sônia Miranda)

ANINHA
PULA AMARELINHA

HENRIQUE
BRINCA DE PIQUE

MARÍLIA
BRINCA DE MÃE E FILHA

MARCELO
É O REI DO CASTELO

MARIAZINHA
SUA RAINHA

CAROLA
BRINCA DE BOLA

JOÃO
DE POLÍCIA E LADRÃO

JOAQUIM
ANDA DE PATINS

TIETA
DE BICICLETA
E
JANETE
DE PATINETE.

LUCINHA!
EU ESTOU SOZINHA.
VOCÊ QUER BRINCAR COMIGO?



1) ANALISANDO O TEXTO

A) ESSE TEXTO É UM (A):

 POEMA CONVITE RECEITA CARTA

B) ELE TEM :

 24 VERSOS E 10 ESTROFES 20 VERSOS E 14 ESTROFES

C) O ASSUNTO DO TEXTO É:

 ESCOLA E EDUCAÇÃO; ALIMENTAÇÃO E SAÚDE; BRINCADEIRAS E BRINQUEDOS.

D) A PALAVRA QUE RIMA COM **JANETE** :

 PATINETE BOLA PATINS

E) A PALAVRA **MARIAZINHA** TEM:

 10 LETRAS E 4 SÍLABAS; 10 LETRAS E 5 SÍLABAS; 9 LETRAS E 5 SÍLABAS.

F) NA PALAVRA **AMARELINHA** HÁ :

 5 VOGAIS E 3 CONSOANTES; 3 VOGAIS E 3 CONSOANTES; 5 VOGAIS E 5 CONSOANTES.

G) PINTE NO POEMA O NOME DE CADA CRIANÇA E COPIE-OS.



2) CONSULTE O BANCO DE PALAVRAS E COMPLETE A POESIA COM AS PALAVRAS QUE RIMAM.



SOCORRO!

TROPECEI NO FERRO
E DEI UM _____

LEVEI COICE DE UM BURRO
E SOLTEI UM _____

CORRI DO CACHORRO
E SUBI O _____

SOCORRO!

TRANQUEI O CACHORRÃO
NO _____

ESCREVI BEZERRO

E NÃO FIZ NENHUM _____! (LAURA GOES)



ERRO
MORRO
BARRACÃO
BERRO
URRO

3) MESMA LETRA OUTRO SOM. COMPLETE AS PALAVRAS ABAIXO COM "R" OU "RR" CORRETAMENTE:

_____IO

U_____UBU

SE_____EIA

_____ABANETE

SE_____A

BA_____ATA

FO_____Ó

HO_____A

CA_____O

CO_____IDA

JA_____A

_____UA

4) JUNTE AS SÍLABAS PARA FORMAR PALAVRAS (TODAS COM A LETRA R) :

| | | | | | | |
|----|----|----|----|----|-----|----|
| RA | NA | BI | TE | NE | RO | RE |
| BA | TE | TA | RO | LE | JÃO | RU |

UNIDADE ESCOLAR:

PROFESSORA

ANO DE ESCOLARIDADE

1º ANO

DATA

NOME:

HOJE É?

SEGUNDA

TERÇA

QUARTA

QUINTA

SEXTA

CÓDIGO BNCC

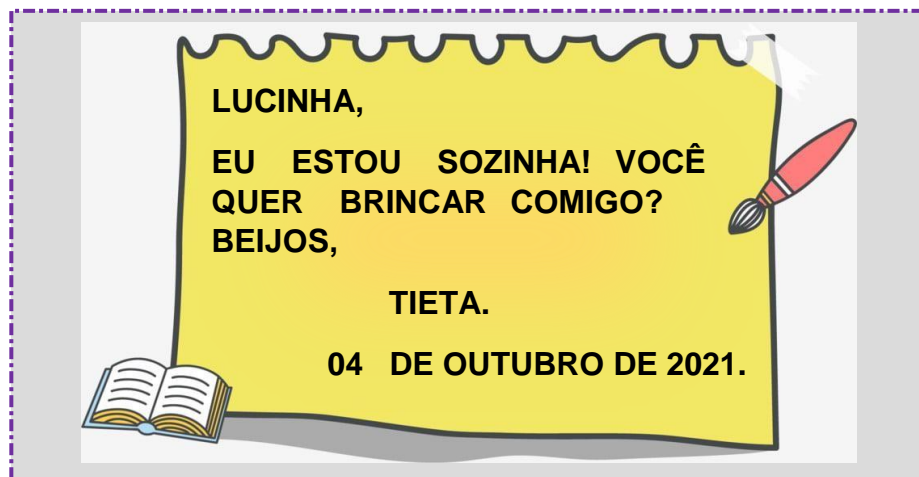
EF01LP20

PRODUÇÃO DE TEXTO

- BILHETE

O BILHETE É UM MEIO DE COMUNICAÇÃO COM MENSAGENS BREVES E SIMPLES, É USADO ENTRE PESSOAS QUE SE CONHECEM .

ANALISE O BILHETE ABAIXO:



A) QUEM ESCREVEU O BILHETE ? _____.

B) A QUEM ELA ESCREVEU O BILHETE ? _____.

C) COPIE A DATA EM QUE O BILHETE FOI ENVIADO : _____.

D) PARA QUE SERVIU O BILHETE ? FAÇA UM X NA RESPOSTA CORRETA.

CONVIDAR


AVISAR

DIVERTIR

LEMBRAR



2. O QUE VOCÊ ACHA QUE A LUCINHA RESPONDEU? PRODUZA UM BILHETE COM A RESPOSTA .



VAMOS BRINCAR DE LER E ESCREVER?

➤ ESCREVA, NO ESPAÇO ABAIXO, VÁRIAS PALAVRAS QUE VOCÊ JÁ SABE LER E ESCREVER.

| | | |
|-------|-------|-------|
| _____ | _____ | _____ |
| _____ | _____ | _____ |
| _____ | _____ | _____ |
| _____ | _____ | _____ |



3) COMPLETE OS NOMES EMPREGANDO CORRETAMENTE A LETRA CURSIVA.



_____ ma _____ oão _____ ilvia
_____ ermardo _____ aique _____ alita
_____ aio _____ uama _____ linnen
_____ avi _____ aria _____ amenza
_____ manuel _____ atan _____ alter
_____ elipe _____ tório _____ avier
_____ untaro _____ aula _____ uri
_____ elma _____ eila _____ elda
_____ nome _____ ubia

**FAÇA COM
ATENÇÃO E
CAPRICHE!**

Você é capaz!



UNIDADE ESCOLAR:

PROFESSORA

ANO DE ESCOLARIDADE

DATA

NOME:

HOJE É?

SEGUNDA

TERÇA

QUARTA

QUINTA


SEXTA

CÓDIGO BNCC

MATEMÁTICA

DEZENAS EXATAS


1) A VENDEDORA DE FLORES DESEJA VENDER TODOS OS VASOS NA FEIRA:




1 DEZENA + 1 DEZENA + 1 DEZENA + 1 DEZENA + 1 DEZENA + 1 DEZENA = _____

- A) QUANTAS FLORES HÁ EM CADA VASO? _____
- B) QUANTAS FLORES HÁ AO TODO? _____
- C) QUANTAS DEZENAS? _____.
- D) A FEIRA ACABOU E ELA VOLTOU PARA CASA COM 2 VASOS. QUANTAS FLORES ELA VENDEU AO TODO? _____.
- E) OS 2 VASOS QUE SOBRARAM CORRESPONDEM A QUANTAS FLORES? _____.

2. ANA E JOÃO FAZEM COLEÇÃO DE BOTÕES .



ANA



JOÃO

- AGRUPE DE 10 EM 10 OS BOTÕES E DEPOIS RESPONDA.

- QUANTOS JOÃO TEM? _____

- QUANTOS ANA TEM? _____

- QUEM TEM MAIS? _____

1) COMPLETE A TABELA NUMÉRICA DE 0 A 69.

| | | | | | | | | | |
|----|----|----|----|---|----|----|----|----|---|
| 0 | 1 | | | 4 | | | | | 9 |
| | | 12 | | | | 16 | | | |
| | 21 | | | | 25 | | | 28 | |
| 30 | | | 33 | | | | | | |
| | | | | | | | 47 | | |
| | 51 | | | | 55 | | | | |
| 60 | | 62 | | | | | | 68 | |




2) COMPLETE DE ACORDO COM O INDICADO EM CADA COLUNA.


| ANTES | ENTRE | DEPOIS |
|-------------------------|----------------------------|-------------------------|
| <input type="text"/> 40 | 10 <input type="text"/> 12 | 20 <input type="text"/> |
| <input type="text"/> 12 | 19 <input type="text"/> 21 | 13 <input type="text"/> |
| <input type="text"/> 32 | 51 <input type="text"/> 53 | 41 <input type="text"/> |
| <input type="text"/> 51 | 9 <input type="text"/> 11 | 30 <input type="text"/> |
| <input type="text"/> 19 | 60 <input type="text"/> 62 | 17 <input type="text"/> |
| <input type="text"/> 23 | 59 <input type="text"/> 61 | 59 <input type="text"/> |



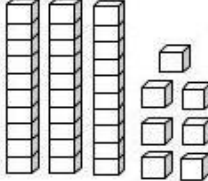
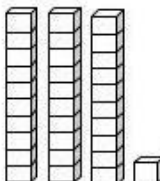
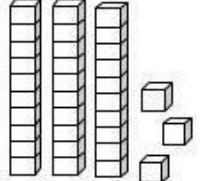
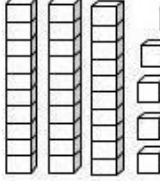
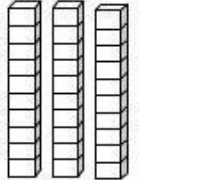
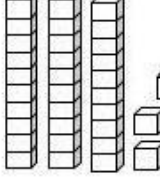
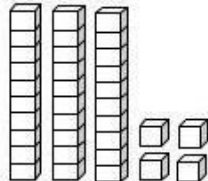
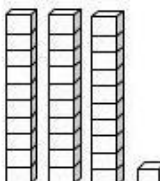
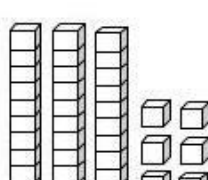
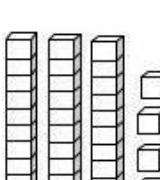


3) PINTE O QUADRINHO QUE CORRESPONDE AO RESULTADO DAS OPERAÇÕES.

|  | 12 | 13 | 14 | 15 |
|---|----|----|----|----|
| $10 + 2$ | | | | |
| $13 + 2$ | | | | |
| $7 + 7$ | | | | |
| $12 + 2$ | | | | |
| $8 + 4$ | | | | |

|  | 16 | 17 | 18 | 19 |
|---|----|----|----|----|
| $10 + 9$ | | | | |
| $8 + 8$ | | | | |
| $9 + 8$ | | | | |
| $10 + 8$ | | | | |
| $10 + 7$ | | | | |

4) PINTE O NÚMERO CORRESPONDENTE AO MATERIAL DOURADO.

| | | | | | | | | | | | | | | | | | | | | | | | | | |
|--|----|----|--|----|----|----|----|----|----|----|----|----|--|--|----|--|----|----|----|----|----|----|----|----|----|
|  <table border="1" style="margin-left: 20px;"> <tr><td></td><td>30</td><td></td></tr> <tr><td>31</td><td>32</td><td>33</td></tr> <tr><td>34</td><td>35</td><td>36</td></tr> <tr><td>37</td><td>38</td><td>39</td></tr> </table> | | 30 | | 31 | 32 | 33 | 34 | 35 | 36 | 37 | 38 | 39 |  <table border="1" style="margin-left: 20px;"> <tr><td></td><td>30</td><td></td></tr> <tr><td>31</td><td>32</td><td>33</td></tr> <tr><td>34</td><td>35</td><td>36</td></tr> <tr><td>37</td><td>38</td><td>39</td></tr> </table> | | 30 | | 31 | 32 | 33 | 34 | 35 | 36 | 37 | 38 | 39 |
| | 30 | | | | | | | | | | | | | | | | | | | | | | | | |
| 31 | 32 | 33 | | | | | | | | | | | | | | | | | | | | | | | |
| 34 | 35 | 36 | | | | | | | | | | | | | | | | | | | | | | | |
| 37 | 38 | 39 | | | | | | | | | | | | | | | | | | | | | | | |
| | 30 | | | | | | | | | | | | | | | | | | | | | | | | |
| 31 | 32 | 33 | | | | | | | | | | | | | | | | | | | | | | | |
| 34 | 35 | 36 | | | | | | | | | | | | | | | | | | | | | | | |
| 37 | 38 | 39 | | | | | | | | | | | | | | | | | | | | | | | |
|  <table border="1" style="margin-left: 20px;"> <tr><td></td><td>30</td><td></td></tr> <tr><td>31</td><td>32</td><td>33</td></tr> <tr><td>34</td><td>35</td><td>36</td></tr> <tr><td>37</td><td>38</td><td>39</td></tr> </table> | | 30 | | 31 | 32 | 33 | 34 | 35 | 36 | 37 | 38 | 39 |  <table border="1" style="margin-left: 20px;"> <tr><td></td><td>30</td><td></td></tr> <tr><td>31</td><td>32</td><td>33</td></tr> <tr><td>34</td><td>35</td><td>36</td></tr> <tr><td>37</td><td>38</td><td>39</td></tr> </table> | | 30 | | 31 | 32 | 33 | 34 | 35 | 36 | 37 | 38 | 39 |
| | 30 | | | | | | | | | | | | | | | | | | | | | | | | |
| 31 | 32 | 33 | | | | | | | | | | | | | | | | | | | | | | | |
| 34 | 35 | 36 | | | | | | | | | | | | | | | | | | | | | | | |
| 37 | 38 | 39 | | | | | | | | | | | | | | | | | | | | | | | |
| | 30 | | | | | | | | | | | | | | | | | | | | | | | | |
| 31 | 32 | 33 | | | | | | | | | | | | | | | | | | | | | | | |
| 34 | 35 | 36 | | | | | | | | | | | | | | | | | | | | | | | |
| 37 | 38 | 39 | | | | | | | | | | | | | | | | | | | | | | | |
|  <table border="1" style="margin-left: 20px;"> <tr><td></td><td>30</td><td></td></tr> <tr><td>31</td><td>32</td><td>33</td></tr> <tr><td>34</td><td>35</td><td>36</td></tr> <tr><td>37</td><td>38</td><td>39</td></tr> </table> | | 30 | | 31 | 32 | 33 | 34 | 35 | 36 | 37 | 38 | 39 |  <table border="1" style="margin-left: 20px;"> <tr><td></td><td>30</td><td></td></tr> <tr><td>31</td><td>32</td><td>33</td></tr> <tr><td>34</td><td>35</td><td>36</td></tr> <tr><td>37</td><td>38</td><td>39</td></tr> </table> | | 30 | | 31 | 32 | 33 | 34 | 35 | 36 | 37 | 38 | 39 |
| | 30 | | | | | | | | | | | | | | | | | | | | | | | | |
| 31 | 32 | 33 | | | | | | | | | | | | | | | | | | | | | | | |
| 34 | 35 | 36 | | | | | | | | | | | | | | | | | | | | | | | |
| 37 | 38 | 39 | | | | | | | | | | | | | | | | | | | | | | | |
| | 30 | | | | | | | | | | | | | | | | | | | | | | | | |
| 31 | 32 | 33 | | | | | | | | | | | | | | | | | | | | | | | |
| 34 | 35 | 36 | | | | | | | | | | | | | | | | | | | | | | | |
| 37 | 38 | 39 | | | | | | | | | | | | | | | | | | | | | | | |
|  <table border="1" style="margin-left: 20px;"> <tr><td></td><td>30</td><td></td></tr> <tr><td>31</td><td>32</td><td>33</td></tr> <tr><td>34</td><td>35</td><td>36</td></tr> <tr><td>37</td><td>38</td><td>39</td></tr> </table> | | 30 | | 31 | 32 | 33 | 34 | 35 | 36 | 37 | 38 | 39 |  <table border="1" style="margin-left: 20px;"> <tr><td></td><td>30</td><td></td></tr> <tr><td>31</td><td>32</td><td>33</td></tr> <tr><td>34</td><td>35</td><td>36</td></tr> <tr><td>37</td><td>38</td><td>39</td></tr> </table> | | 30 | | 31 | 32 | 33 | 34 | 35 | 36 | 37 | 38 | 39 |
| | 30 | | | | | | | | | | | | | | | | | | | | | | | | |
| 31 | 32 | 33 | | | | | | | | | | | | | | | | | | | | | | | |
| 34 | 35 | 36 | | | | | | | | | | | | | | | | | | | | | | | |
| 37 | 38 | 39 | | | | | | | | | | | | | | | | | | | | | | | |
| | 30 | | | | | | | | | | | | | | | | | | | | | | | | |
| 31 | 32 | 33 | | | | | | | | | | | | | | | | | | | | | | | |
| 34 | 35 | 36 | | | | | | | | | | | | | | | | | | | | | | | |
| 37 | 38 | 39 | | | | | | | | | | | | | | | | | | | | | | | |
|  <table border="1" style="margin-left: 20px;"> <tr><td></td><td>30</td><td></td></tr> <tr><td>31</td><td>32</td><td>33</td></tr> <tr><td>34</td><td>35</td><td>36</td></tr> <tr><td>37</td><td>38</td><td>39</td></tr> </table> | | 30 | | 31 | 32 | 33 | 34 | 35 | 36 | 37 | 38 | 39 |  <table border="1" style="margin-left: 20px;"> <tr><td></td><td>30</td><td></td></tr> <tr><td>31</td><td>32</td><td>33</td></tr> <tr><td>34</td><td>35</td><td>36</td></tr> <tr><td>37</td><td>38</td><td>39</td></tr> </table> | | 30 | | 31 | 32 | 33 | 34 | 35 | 36 | 37 | 38 | 39 |
| | 30 | | | | | | | | | | | | | | | | | | | | | | | | |
| 31 | 32 | 33 | | | | | | | | | | | | | | | | | | | | | | | |
| 34 | 35 | 36 | | | | | | | | | | | | | | | | | | | | | | | |
| 37 | 38 | 39 | | | | | | | | | | | | | | | | | | | | | | | |
| | 30 | | | | | | | | | | | | | | | | | | | | | | | | |
| 31 | 32 | 33 | | | | | | | | | | | | | | | | | | | | | | | |
| 34 | 35 | 36 | | | | | | | | | | | | | | | | | | | | | | | |
| 37 | 38 | 39 | | | | | | | | | | | | | | | | | | | | | | | |

UNIDADE ESCOLAR:

PROFESSORA

ANO DE ESCOLARIDADE

1º ANO

DATA

NOME:

HOJE É?

SEGUNDA

TERÇA

QUARTA

QUINTA

SEXTA

CÓDIGO BNCC

EF01GE08

GEOGRAFIA

1) ACOMPANHE A LEITURA DO TRECHO DE UM POEMA:

O CAMINHO DA ESCOLA

VEJO TANTA COISA
O CÉU O SOL E O MAR
PASSARINHOS A CANTAR. (...)

PRÓXIMO DA ESCOLA
COLEGAS BATENDO BOLA
EM FRENTE À LANCHONETE
A TURMINHA DO BASQUETE. (...)



SOLANGE VALADARES, **O CAMINHO DA ESCOLA.**


E VOCÊ, O QUE VÊ NO CAMINHO DA SUA CASA ATÉ A ESCOLA? ESCREVE POR QUAIS LUGARES VOCÊ PASSA.

5) CIRCULE NO POEMA O QUE A CRIANÇA VÊ QUANDO VAI DE CASA ATÉ A ESCOLA.

6) CIRCULE NO POEMA AS PALAVRAS QUE RIMAM.



7) CUBRA COM LÁPIS DE COR O CAMINHO QUE TIAGO GOSTA DE FAZER PARA CHEGAR À ESCOLA.



UNIDADE ESCOLAR:

PROFESSORA

ANO DE ESCOLARIDADE
1º ANO

DATA

NOME:

HOJE É?

SEGUNDA

TERÇA

QUARTA

QUINTA

SEXTA


CÓDIGO BNCC

EF01HI08

HISTÓRIA

• FESTA, BRINCADEIRAS E TRADIÇÃO

BRINCAR FAZ PARTE DA ROTINA DE TODA CRIANÇA. E HOJE, ASSIM COMO ESTUDAR, ESSE É UM DOS SEUS DIREITOS.



1) ENCONTRE, NA TELA, **07** BRINQUEDOS OU BRINCADEIRAS E ESCREVA-OS ABAIXO:

2) ACOMPANHE A LEITURA DE UM TRECHO DO LIVRO O MENINO MALUQUINHO.

| | |
|---------------------------|--------------------|
| E A PIPA | A PIPA TRIANGULAR |
| QUEM FAZIA | COMO O PAPAÍ |
| ERA MESMO O MENININHO | ENSINARA |
| POIS ELE HAVIA APRENDIDO | DO JEITO QUE HAVIA |
| A AMARRAR LINHA E TAQUARA | APRENDIDO |
| A COLAR PAPEL DE SEDA | COM O PAI |
| E A FAZER COM POLVILHO | E O PAI DO PAI |
| O GRUDE PARA COLAR | DO PAPAÍ. |

ZIRALDO. O MENINO MALUQUINHO.

- COM QUEM O MENINO MALUQUINHO APRENDEU A FAZER PIPA? _____
- PINTE NO TEXTO OS MATERIAIS USADOS PARA FAZER PIPA.

O BRASIL É RICO EM FESTAS TRADICIONAIS , COMO AS FOLCLÓRICAS, AS RELIGIOSAS E ORIENTAIS.

3) ORDENE AS SÍLABAS E DESCUBRA NOMES DE FESTAS QUE SÃO TRADICIONAIS EM NOSSO PAÍS.

3 VAL 2 NA 1 CAR _____

2 NI 1 JU 3 NAS _____

1 CA 3 LHA 4 DA 2 VA _____

2 GA 3 DA 1 CON _____

4) QUAL DESSES EVENTOS TRADICIONAIS DA CULTURA BRASILEIRA ESTÁ MAIS PRESENTE EM NOSSA CIDADE? E QUAL EVENTO DA NOSSA CIDADE JÁ SE TORNOU TRADIÇÃO?

UNIDADE ESCOLAR:

PROFESSORA

ANO DE ESCOLARIDADE DATA

1º ANO

NOME:

HOJE É?

SEGUNDA

TERÇA

QUARTA

QUINTA

SEXTA

CÓDIGO BNCC

EF15AR04

ARTES

- RELEITURA DA TELA DE IVAN CRUZ, “AVIÃOZINHO DE PAPEL”.



- OBSERVE A TELA DE IVAN CRUZ E REPRODUZA-A DO SEU JEITO. VOCÊ CONSEGUE!

