

PREFEITURA MUNICIPAL DE BOM JESUS DO ITABAPOANA-RJ
SECRETARIA MUNICIPAL DE EDUCAÇÃO, ESPORTE E LAZER

SEMEEL

A mudança está em nossas mãos

Atividades Orientadoras



2º
ano

Ensino Fundamental

UNIDADE ESCOLAR:

PROFESSOR(A)

ANO DE ESCOLARIDADE

2º ANO

DATA

SEMANA 2

NOME:

HOJE É?

SEGUNDA

TERÇA

QUARTA

QUINTA

SEXTA

CÓDIGO BNCC

D1/D2/D3/D4/D7/D6/D12/D13/D14/DD21/D11/D31

SIMULADO DE LÍNGUA PORTUGUESA

1 - **(D1)** Marque um X no quadradinho onde aparecem apenas letras.

- (A) Disque água – 0800.9933
- (B) Escola Estadual José Lucas
- (C) Lagoa da Prata – 35.590-000.
- (D) Você é uma ★

2 - **(D2)** Ouça com atenção a sequência de letras que vou dizer: **R Q J**.

Marque um X no quadradinho onde está a sequência correta de letras que você ouviu.

- (A) J Q R
- (B) Q R J
- (C) R J Q
- (D) R Q J

3 – **(D3)** Leia a palavra.

TRÂNSITO

Marque um X no quadradinho onde mostra a sílaba final da palavra que você leu.

- (A) NSI
- (B) SI
- (C) TO
- (D) TRAN

4 - **(D4)** Faça um X na frase que está escrita de forma correta.

- (A) Minha comidapreferida é macarronada.
- (B) Minha comida preferidaémacarronada.
- (C) Minha comida preferida é macarronada.
- (D) Minhacomida preferida é macarronada.


5 – **(D7)** Veja a figura abaixo.



Marque um X no quadradinho onde aparece o número de sílabas do nome da figura que você viu.

- (A) 1.
- (B) 2.
- (C) 3.
- (D) 4.

6 – (D6) Veja a figura abaixo.



Marque um X no quadradinho em que a palavra rima com o nome da figura que você viu.

- (A) ANZOL.
- (B) CANETA.
- (C) CARAPAÇA.
- (D) CARAVELA.

7 – (D12) Veja a figura abaixo.



Marque um X no quadradinho onde está escrito o que a figura representa.

- (A) A família está cantando.
- (B) A família está chorando.
- (C) A família está pulando.
- (D) A família está rezando.

8 – (D13) Leia o texto e responda.



Esse texto serve para:

- (A) anunciar sobre a doação de animais.
- (B) convidar para a festa do gato.
- (C) informar sobre a vacinação contra a raiva.
- (D) vender ração de cachorro.

9 - (D14) Leia o texto e responda.

O sapo Cururu na beira do rio.

Quando o sapo canta, ó Maninha, é porque tem frio.

A mulher do sapo é quem está lá dentro.

Fazendo rendinha, ó Maninha, pro seu casamento.



Segundo o texto, onde está o sapo Cururu?

- (A) Na beira do rio.
- (B) Na casa de Maninha.
- (C) Na casa da mulher.
- (D) No seu casamento.

10 – (D21) Leia o texto abaixo.

A tartaruga voadora



Dois gansos, que iam viajar, convidaram a tartaruga para ir com eles.

Ofereceram-se para carregá-la, presa pela boca com um pau, que um seguraria de um lado e o outro de outro. E assim fizeram.

No meio do caminho, a tartaruga ouviu os gansos zombarem dela e, irritada, quis se defender. Abriu então a boca e caiu no chão, espatifando-se toda.

MORAL: Um pequeno descuido pode ter várias consequências.

O texto acima é:

- (A) uma carta.
- (B) uma fábula.
- (C) um anúncio.
- (D) um poema.

11 - (D11) Veja a figura abaixo.



Faça um X no quadradinho onde está escrito o nome da figura.

- (A) BARCO
- (B) BANCO
- (C) BRAÇO
- (D) BRANCO

12 - (D22) Leia o texto abaixo:

Lu,

Precisei sair e não pude esperar que acordasse.

Fui levar sua avó ao médico. Tome seu café e arrume seu quarto.

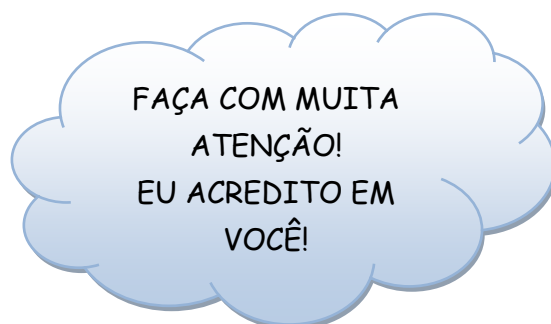
Volto logo.

Beijos. Mamãe.

05/10/2021

O texto acima é:

- A) uma carta.
- B) um bilhete.
- C) um convite.
- D) um poema.



UNIDADE ESCOLAR:

PROFESSOR(A)

ANO DE ESCOLARIDADE

2º ano

DATA

NOME:

HOJE É?

SEGUNDA

TERÇA

QUARTA

QUINTA

SEXTA

CÓDIGO BNCC

D1/D3/D4/D7/D6/D19/30/D10/D28/D22/D17/D31

SIMULADO DE MATEMÁTICA

1 - **(D1)** Observe abaixo as figurinhas que Lívia colou na capa de seu caderno.



Quantas figurinhas, ao todo, Lívia colou na capa de seu caderno?

- (A) 25.
- (B) 24.
- (C) 6.
- (D) 4.

2 - **(D3)** Observe os números naturais.

13	16	12	15	14
----	----	----	----	----

Marque a ordem crescente correta que representa os numerais indicados acima.

- (A) 14 – 15 – 16 – 13 – 12 .
- (B) 13 – 14 – 15 – 12 – 16.
- (C) 12 – 13 – 15 – 16 – 14.
- (D) 12 – 13 – 14 – 15 – 16.

3 - **(D4)** Observe abaixo a trilha que Caio fez para brincar. Ele esqueceu de colocar três números.

11	12		14		16	17	18		20
----	----	--	----	--	----	----	----	--	----

Quais são os números na sequência, que Caio esqueceu de colocar nessa trilha?

- (A) 13, 19 e 15
- (B) 15, 13 e 19
- (C) 19, 15 e 13.
- (D) 13, 15 e 19.

4 – (D7) Observe abaixo a decomposição de um número.

2 DEZENAS E 7 UNIDADES

Essa é a decomposição do número:

- (A) 27.
- (B) 72.
- (C) 207.
- (D) 270.

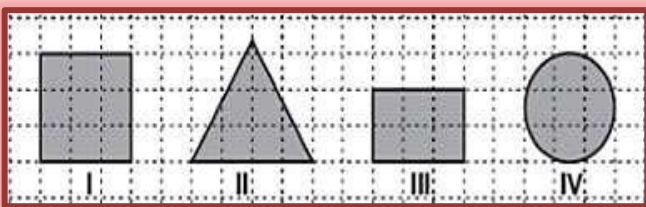
5 – (D6) Na placa está escrito o número da casa de Davi:

45

Marque a resposta que corresponde o número da casa de Davi.

- (A) quarenta e sete.
- (B) quarenta e cinco.
- (C) quarenta.
- (D) cinco.

6 – (D19) Observe as figuras geométricas abaixo.



Qual dessas figuras é um quadrado?

- A) I.
- B) II.
- C) III.
- D) IV.

7 - (D30) A tabela abaixo mostra a quantidade de brinquedos que Léo tem:

Brinquedos	Quantidade
Bola	16
Carrinho	23
Robô	5
Bicicleta	2

O brinquedo que Léo tem em maior quantidade é:

- (A) Bola.
- (B) Carrinho.
- (C) Motocicleta.
- (D) Robô.

8 – (D10) Resolva a operação abaixo.

$$\begin{array}{r} 52 \\ - 40 \\ \hline \end{array}$$

Qual é o resultado dessa operação?

- (A) 10
- (B) 12
- (C) 22
- (D) 92

9 - (D28) Observe abaixo a quantia que Pedro gastou na mercearia.



Qual foi a quantia que Pedro gastou na mercearia?

- (A) 5 REAIS.
- (B) 10 REAIS.
- (C) 2 REAIS.
- (D) 7 REAIS.


10 - (D22) Observe no relógio abaixo o horário que Tereza saiu de casa para passear.



De acordo com esse relógio, em qual horário Tereza saiu de casa para passear?

- (A) 1 HORA E 20 MINUTOS.
- (B) 2 HORAS E 1 MINUTO.
- (C) 12 HORAS.
- (D) 15 HORAS.

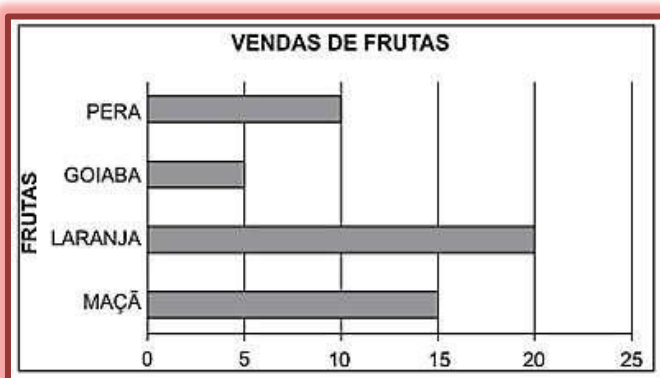
11 - (D17) Observe abaixo as crianças na sala de aula.



Qual é a criança que está entre Pedro e Mateus?

- (A) JÉSSICA
- (B) JOÃO
- (C) LAURA
- (D) MARCOS.

12 - (D31) O gráfico abaixo apresenta a quantidade de frutas que João vendeu na feira em um dia de trabalho.



De acordo com esse gráfico, qual foi a fruta menos vendida?

- (A) GOIABA.
- (B) LARANJA.
- (C) MAÇÃ.
- (D) PERA.





**2º ANO DO ENSINO FUNDAMENTAL – SIMULADO
DIAGNÓSTICO/OUTUBRO**

Atenção

NOME DO (A) ALUNO (A): _____

FOLHA DE RESPOSTAS

Bloco de Língua Portuguesa				
01	A	B	C	D
02	A	B	C	D
03	A	B	C	D
04	A	B	C	D
05	A	B	C	D
06	A	B	C	D
07	A	B	C	D
08	A	B	C	D
09	A	B	C	D
10	A	B	C	D
11	A	B	C	D
12	A	B	C	D

Bloco de Matemática				
01	A	B	C	D
02	A	B	C	D
03	A	B	C	D
04	A	B	C	D
05	A	B	C	D
06	A	B	C	D
07	A	B	C	D
08	A	B	C	D
09	A	B	C	D
10	A	B	C	D
11	A	B	C	D
12	A	B	C	D