

PREFEITURA MUNICIPAL DE BOM JESUS DO ITABAPOANA-RJ
SECRETARIA MUNICIPAL DE EDUCAÇÃO, ESPORTE E LAZER

SEMEEL

A mudança está em nossas mãos

Atividades Orientadoras



2º
ano



Ensino Fundamental

UNIDADE ESCOLAR:

PROFESSOR(A) ANO DE ESCOLARIDADE DATA

2º ANO

13/09/2021 a 17/09/2021

NOME:

HOJE É?

SEGUNDA TERÇA QUARTA QUINTA SEXTA

CÓDIGO BNCC

EF12LP04; EF15LP05; EF02LP08; EF02LP03

LÍNGUA PORTUGUESA

RECEITA: É UM GÊNERO TEXTUAL QUE APRESENTA DUAS PARTES BEM DEFINIDAS – INGREDIENTES E MODO DE FAZER. OS **INGREDIENTES** INDICAM A QUANTIDADE A SER USADA, E O **MODO DE FAZER**, COMO PREPARAR.

BRIGADEIRO

INGREDIENTES:

- 12 COLHERES DE ACHOCOLATADO
- 12 COLHERES DE LEITE EM PÓ
- 2 COLHERES DE MARGARINA
- 1 LATA DE LEITE CONDENSADO
- 1 PACOTE DE CHOCOLATE GRANULADO



MODO DE FAZER:

- COLOQUE AS 12 COLHERES DE ACHOCOLATADO EM UMA BACIA, JUNTE-AS COM AS 12 COLHERES DE LEITE EM PÓ, AS 2 COLHERES DE MARGARINA E O LEITE CONDENSADO.
- LAVE AS MÃOS COM ÁGUA E SABÃO, SEQUE-AS, PASSE UM POUQUINHO DE ÓLEO DE COZINHA E AMASSE TUDO.
- QUANDO ESTIVER BEM AMASSADO, COLOQUE NA GELADEIRA E DEIXE POR 15 MINUTOS.
- RETIRE DA GELADEIRA, HIGIENIZE SUAS MÃOS E FAÇA BOLINHAS.
- PASSE NO CHOCOLATE GRANULADO E ESTÁ PRONTO PARA SE DELICIAIR!

ATIVIDADES

1- O QUE A RECEITA ACIMA ESTÁ ENSINADO A FAZER?


2- A RECEITA TEM QUANTAS PARTES?

() SOMENTE INGREDIENTES

() INGREDIENTES E MODO DE FAZER

3- REESCREVA OS INGREDIENTES SUBSTITUINDO AS FIGURAS POR PALAVRAS:

INGREDIENTES:

12  DE ACHOCOLATADO.

12 COLHERES DE



2 COLHERES DE



1 LATA DE



CONDENSADO.


1 PACOTE DE



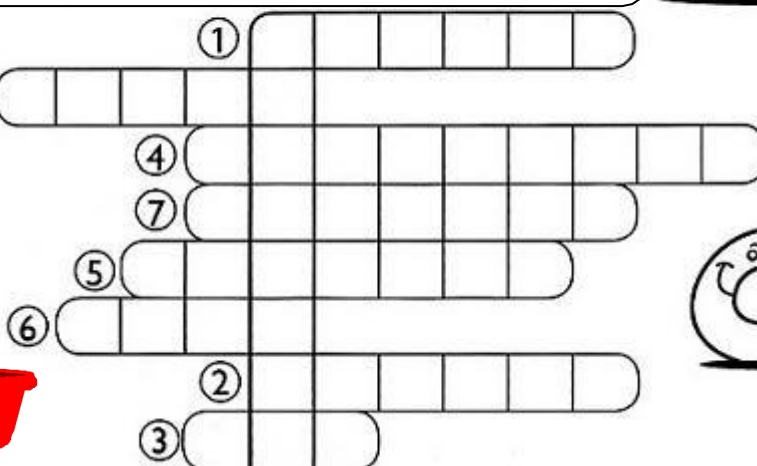

GRANULADO.

4- ENCAIXE NA CRUZADINHA AS PALAVRAS DO QUADRO:

- 1- CEBOLA 2- TECIDO 3- CEM 4- APARECIDA
5- CECÍLIA 6- DOCE 7- CACIQUE 8- BACIA



100



5- OBSERVE A PROPAGANDA ABAIXO:



PROPAGANDA OU ANUNCIO PUBLICITÁRIO: SÃO TEXTOS QUE SÃO, PRECISAMENTE, O CONVENCIMENTO DO CONSUMIDOR PARA A COMPRA DE UM PRODUTO OU SERVIÇO.

- QUAL PRODUTO FOI ANUNCIADO PARA VENDA? _____
- O BRINQUEDO ESTÁ SENDO VENDIDO POR:
() 148 REAIS () 149 REAIS () 150 REAIS

6- AGORA É A SUA VEZ! CRIE UM OBJETO QUE GOSTARIA DE VENDER E ANUNCIE:



DESENHE SEU PRODUTO AO LADO.

NOME DO PRODUTO: _____

O QUE ELE FAZ: _____

QUAL O VALOR? _____ REAIS.

UNIDADE ESCOLAR:

PROFESSOR(A)

ANO DE ESCOLARIDADE

DATA

NOME:

HOJE É?

SEGUNDA

TERÇA

QUARTA

QUINTA


SEXTA

CÓDIGO BNCC

EF02MA04; EF02MA05; EF02MA06; EF02MA29

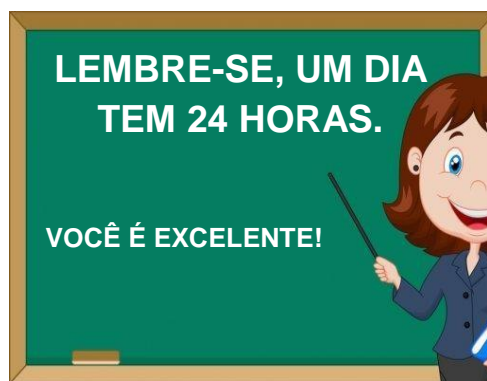
MATEMÁTICA

Medida de tempo Horas



O PONTEIRO GRANDE MARCAM OS MINUTOS E O PONTEIRO PEQUENO, AS HORAS.

- 1- VAMOS ACERTAR OS PONTEIROS CRIANÇAADA? LEIA O POEMA DE VINICIUS DE MORAES E RESPONDA AS ATIVIDADES.

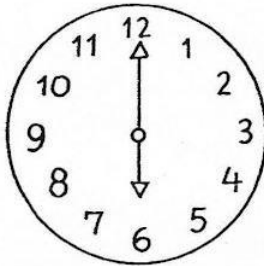


O RELÓGIO DO POEMA ESTÁ MARCANDO _____ HORAS.

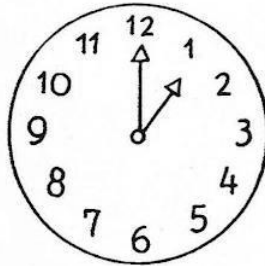
O PONTEIRO MENOR MARCAM AS _____ E O PONTEIRO GRANDE OS

_____.

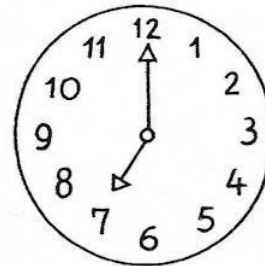
2- INDIQUE A HORA QUE O RELÓGIO ESTÁ MARCANDO:



_____ HORAS

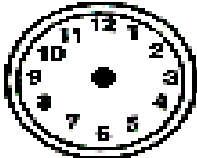

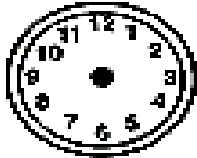

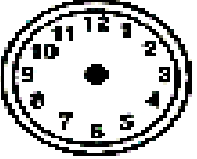

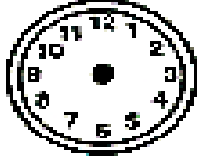



_____ HORA



_____ HORAS

3- DESENHE NO RELÓGIO OS PONTEIROS MARCANDO AS HORAS QUE VOCÊ INDICA PARA ANINHA REALIZAR SUAS AÇÕES.

 <p>ACORDO ÀS _____ HORAS.</p> 	 <p>DURMO ÀS _____ HORAS.</p> 
 <p>VOU PASSEAR ÀS _____ HORAS.</p> 	 <p>ALMOÇO ÀS _____ HORAS.</p> 

4- RESOLVA OS PROBLEMINHAS:

A) LUÍSA TEM 26 BEXIGAS, ESTOURARAM 16. QUANTAS BEXIGAS SOBARAM?

CÁLCULO

RESPOSTA:

SOBRARAM _____ BEXIGAS.



B) NA TURMA DE 2º ANO TEM 14 MENINAS E 10 MENINOS. QUANTOS ALUNOS TEM NA TURMA?

CÁLCULO

RESPOSTA:

A TURMA TEM _____ ALUNOS.



5- VAMOS RELEMBRAR O MATERIAL DOURADO? ANOTE O NÚMERO QUE VOCÊ ENCONTROU. SIGA O EXEMPLO:

A) 11

B)

C)

D)

6- FAÇA COMO O EXEMPLO:

64 = 6 DEZENAS + 4 UNIDADES.

CENTENA	DEZENA	UNIDADE
	6	4

25 = _____

CENTENA	DEZENA	UNIDADE

87 = _____

CENTENA	DEZENA	UNIDADE

112 = _____

CENTENA	DEZENA	UNIDADE


PARA FIXAR...



REPRESENTA 1 UNIDADE



REPRESENTA 1 DEZENA OU 10 UNIDADES



REPRESENTA 1 CENTENA, 10 DEZENAS OU 100 UNIDADES

UNIDADE ESCOLAR:

PROFESSOR(A) ANO DE ESCOLARIDADE DATA

NOME:

HOJE É?

SEGUNDA TERÇA QUARTA QUINTA SEXTA

CÓDIGO BNCC

GEOGRAFIA

O ESPAÇO ESCOLAR

A ESCOLA É O LUGAR ONDE VOCÊ ESTUDA, APRENDE A LER E ESCREVER, BRINCA E FAZ MUITAS OUTRAS ATIVIDADES.

LÁ, VOCÊ CONHECE PESSOAS, FAZ AMIGOS E CONVIVE COM COLEGAS DE CLASSE E FUNCIONÁRIOS.

VAMOS CONVERSAR SOBRE SUA ESCOLA?



1- QUAL É O NOME DE SUA ESCOLA?

2- O QUE VOCÊ MAIS GOSTA NA SUA ESCOLA?

3- VOCÊ MUDARIA ALGUMA COISA EM SUA ESCOLA? SE A RESPOSTA FOR SIM, O QUE MUDARIA?

4- FAÇA COMO O MODELO E ENCONTRE NOMES DOS PROFISSIONAIS DA ESCOLA:

1	2	3	4	5	6	7	8	9	10	11	12
RE	SOR	DEI	TEI	FA	TA	O	DI	PRO	REN	POR	NEI
13	14	15	16	17	18	19	20	21	22	23	24
EN	TOR	FES	ME	RO	XI	CRE	RA	SE	DOR	RI	TÁ

8 + 1 + 14 = _____ DIRETOR _____

5 + 18 + 12 + 17 = _____

9 + 15 + 2 = _____

21 + 19 + 24 + 23 + 7 = _____

16 + 10 + 3 + 20 = _____

7 + 23 + 13 + 6 + 22 = _____

11 + 4 + 17 = _____



5- ENCONTRE NO DIAGRAMA O NOME DAS DEPENDÊNCIAS DA ESCOLA.

BANHEIROS

SALAS DE AULA

PÁTIO

BIBLIOTECA

SECRETARIA

S	E	M	A	J	L	E	I	U	R	T	C
A	S	E	C	R	E	T	A	R	I	A	A
L	R	H	B	O	R	L	A	N	I	R	N
A	T	P	I	K	R	U	A	S	G	U	I
S	U	Á	B	A	N	H	E	I	R	O	S
D	I	C	L	I	R	O	R	U	F	R	E
E	B	R	I	P	Á	T	I	O	R	I	F
A	E	E	O	A	S	A	F	G	U	A	O
U	V	C	T	C	A	N	T	I	N	A	N
L	O	A	E	R	U	S	I	P	A	R	O
A	L	N	C	E	P	D	U	I	L	Á	T
S	Á	T	A	Z	U	B	E	N	I	O	S

6- DESENHE O QUE MAIS GOSTA DE FAZER NA ESCOLA:



UNIDADE ESCOLAR:

PROFESSOR(A)

ANO DE ESCOLARIDADE

2º ANO

DATA

NOME:

HOJE É?

SEGUNDA

TERÇA

QUARTA

QUINTA

SEXTA

CÓDIGO BNCC

EF12EF01; EF12EF02

EDUCAÇÃO FÍSICA

JOGO DO MICO

MATERIAL NECESSÁRIO:

- TESOURA



INSTRUÇÕES:

- ➔ VOCÊ DEVERÁ RECORTAR A TABELA DE ANIMAIS EM ANEXO.
- ➔ PODE JOGAR DE 2 A 3 PESSOAS.

MODO DE JOGAR:

- 1- APÓS RECORTAR TODOS OS ANIMAIS, EMBARALHE AS FICHAS E COLOQUE OS DESENHOS VIRADOS PARA BAIXO.
- 2- O PRIMEIRO JOGADOR DEVERÁ TIRAR DE MODO ALEATÓRIO UMA FICHA, SEM MOSTRAR AOS DEMAIS PARTICIPANTES.
- 3- O ANIMAL QUE ELE TIRAR, TERÁ QUE IMITAR PARA OS DEMAIS JOGADORES ACERTAREM.
- 4- VENCE O PARTICIPANTE QUE MAIS ACERTAR.

DIVIRTA-SE! SE QUISER, ENVIE FOTOS/VÍDEOS PARA SEU PROFESSOR.



ANEXO PARA RECORTE:



ABELHA



ARARA



BALEIA



CACHORRO




COBRA



CANGURU



CAVALO




ELEFANTE



FOCA



GALINHA



GATO



MACACO

