

PREFEITURA MUNICIPAL DE BOM JESUS DO ITABAPOANA-RJ
SECRETARIA MUNICIPAL DE EDUCAÇÃO, ESPORTE E LAZER

SEMEEL

A mudança está em nossas mãos

Atividades Orientadoras



3^o
ano



Ensino Fundamental

UNIDADE ESCOLAR:

PROFESSOR(A)

ANO DE ESCOLARIDADE

3º Ano

DATA

Semana 2

NOME:

HOJE É?

SEGUNDA

TERÇA

QUARTA

QUINTA

SEXTA

CÓDIGO BNCC

D1, D2, D6, D7, D10, D11 e D12

SIMULADO DE LÍNGUA PORTUGUESA

1- **(D2)** Marque a alternativa onde está escrito o nome do desenho:



- (A) Cachorro.
- (B) Macaco.
- (C) Cachecol.
- (D) Menino.

2- **(D6)** Marque a alternativa que rima com a palavra VASSOURA.




3- **(D11)** Veja a figura a baixo:



Agora, faça um X onde mostra o nome da figura:

- (A) Acervo.
- (B) Caderno.
- (C) Inverno.
- (D) Moderno.


4- **(D12)** Observe a imagem:



A frase que melhor representa a cena é:

- (A) O menino está jogando bola.
- (B) O menino está estudando.
- (C) O menino está dormindo.
- (D) O menino gosta de sorvete.

5- (D7) Observe o cartaz!

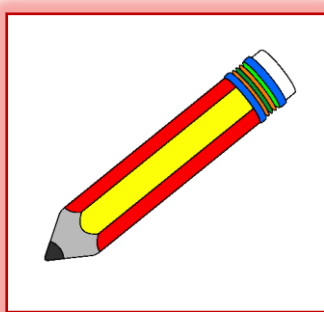


FONTE: <http://proportoseguro.blogspot.com/search/label/Dengue>

Ao olhar a segunda imagem do cartaz, entendemos que o personagem está:

- (A) Zangado.
- (B) Cansado.
- (C) Doente.
- (D) Triste.

6- (D10) Veja a figura abaixo:



O nome da figura é:

- (A) Lata.
- (B) Copo.
- (C) Lápis.
- (D) Mesa.

7 - (D10) Assinale a alternativa que mostra onde está escrito o nome da brincadeira que completa a frase:

As crianças estão brincando de _____.



- (A) Pipa.
- (B) Corda.
- (C) Roda.
- (D) Pião.

8- (D1) Marque a alternativa onde aparecem somente letras:



(C)



(D)





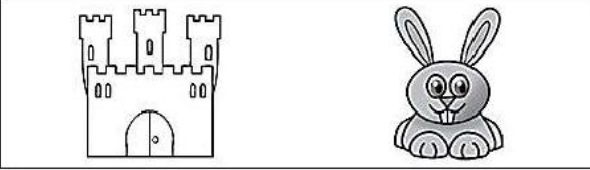

9- (D7) Veja a cena abaixo.

Faça um X na frase que conta o que acontece nessa cena.



- a. A professora compra uma cartola.
- b. A professora conta uma história.
- c. A professora derruba a cadeira.
- d. A professora desenha a palmeira.


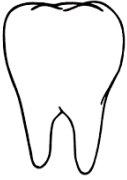


10- (D1) Marque a alternativa onde os nomes das figuras terminam com a mesma sílaba (pedaço).

- (A) 
- (B) 
- (C) 
- (D) 

11- (D6) Assinale a opção que mostra onde está escrita a palavra que resolve a adivinha.

O QUE É, O QUE É?

➤ Tem muitos dentes e nunca come.

- (A) 
PENTE
- (B) 
DENTE
- (C) 
UVA
- (D) 
CORRENTE

12 - (D6) Leia o texto abaixo e responda.

Altíssimo astral



Com a pele amarelada, coberta com manchas marrons e seu enorme pescoço, a girafa nunca passa despercebida. E não é para menos: com mais de 5 metros, é o mamífero mais alto que existe na Terra.

O engraçado é que, apesar do tamanho, o pescoço da girafa se sustenta em apenas sete ossos, como o nosso e o da maioria dos mamíferos.

Além do super pescoço, esse bicho tem uma língua imensa, que pode medir até 40 centímetros de comprimento.

Recreio, ano 1, n. 5, 2000. Fragmento.

Esse texto fala sobre:

- A pele dos mamíferos.
- As características da girafa.
- O tamanho dos animais.
- A alimentação da girafa.



UNIDADE ESCOLAR:

PROFESSOR(A)

ANO DE ESCOLARIDADE

DATA

3º ano

Semana 2

NOME:

HOJE É?

CÓDIGO BNCC

SEGUNDA

TERÇA

QUARTA

QUINTA

SEXTA

D1, D2, D3, D5, D6, D8, D9, D10, D11, D13, D15.

SIMULADO DE MATEMÁTICA

1- **(D1)** Veja os brinquedos que João Pedro ganhou do seu irmão Vítor.



Assinale a alternativa que mostra quantos carros João Pedro ganhou.

- (A) 02
- (B) 04
- (C) 06
- (D) 12

2- **(D3)** Todos os dias Anita, Carolina, Laura e Sofia brincam juntas. Hoje elas resolveram contar as bonecas para saber quem tem a mesma quantidade. Observe abaixo.



Quais dessas meninas têm a mesma quantidade de bonecas?

- (A) Anita e Carolina.
- (B) Anita e Sofia.
- (C) Carolina e Laura.
- (D) Laura e Sofia.

3- **(D5)** Pedrinho escreveu certo número da seguinte forma.

$$\boxed{700} + \boxed{40} + \boxed{5}$$

O número escrito por Pedrinho é:

- (A) 700
- (B) 705
- (C) 740
- (D) 745

4- **(D6)** Viviane foi ao cinema e comprou para o lanche uma pipoca, um refrigerante e um chocolate. Observe abaixo o preço desses alimentos que Viviane comprou.



Quanto Viviane pagou por esse lanche?

- (A) R\$ 13,00
- (B) R\$ 12,00
- (C) R\$ 11,00
- (D) R\$ 10,00



5- (D8) Resolva a adição abaixo:



e)

D	U
4	8
+	2 9
<hr/>	

Qual é o resultado desta operação?

- (A) 66
- (B) 67
- (C) 77
- (D) 79

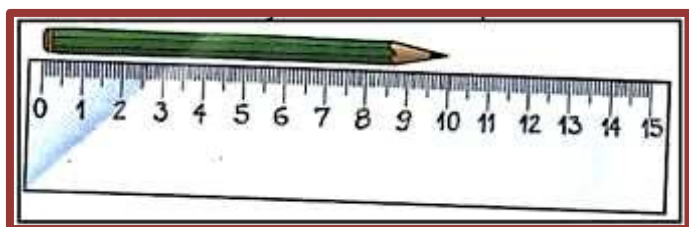
6- (D9) Na brincadeira, cada criança joga 3 bolas para tentar acertar a boca do palhaço.



Mateus acertou 3 bolas na boca do palhaço. Cada acerto vale **5 pontos**.
Quantos pontos Mateus marcou?

- (A) 5 pontos.
- (B) 8 pontos.
- (C) 15 pontos.
- (D) 18 pontos.

7- (D13) Analise a ilustração abaixo e responda com atenção:



Qual a medida do lápis do desenho?

- (A) 9cm
- (B) 4cm
- (C) 10cm
- (D) 5,5cm

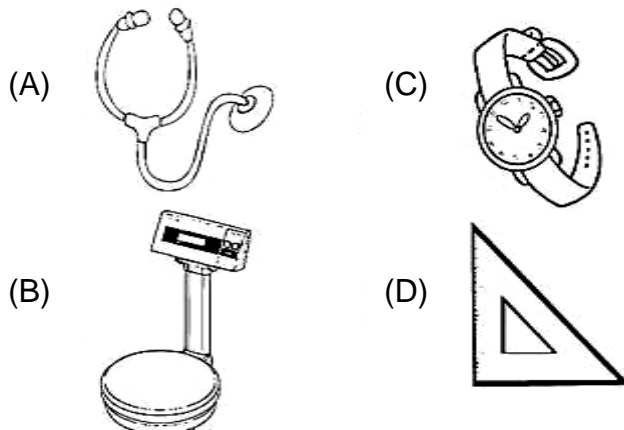
8- (D13) Observe o relógio abaixo.



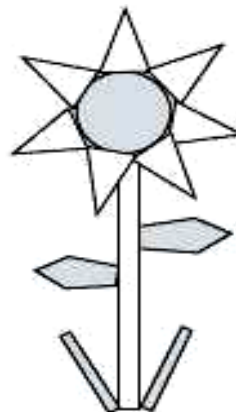
Quantas horas esse relógio está marcando?

- (A) 8 horas.
- (B) 8 horas e 12 minutos.
- (C) 12 horas.
- (D) 12 horas e 35 minutos.

9- (D15) Qual dos instrumentos abaixo Caio deve utilizar para marcar o tempo de duração de um filme?



10- (D11) Ana desenhou a flor abaixo usando 13 figuras geométricas.



Quantos triângulos ela usou para desenhar essa flor?

- (A) 1
- (B) 2
- (C) 3
- (D) 7

11- (D10) Leia a tirinha.



Maurício de Sousa – Chico Bento. A Gazeta da Zona Norte, 5/1/2002.

Ajude Chico Bento e Rosinha a repartir igualmente as goiabas entre eles. Observe o desenho abaixo e descubra com quantas goiabas cada um ficou?



- (A) 7
- (B) 6
- (C) 5
- (D) 4

12- (D2) Observe no desenho abaixo o número da casa de Simone.



Qual é a escrita por extenso do número da casa de Simone?

- (A) Vinte e sete.
- (B) Duzentos e trinta e sete.
- (C) Vinte e três e sete.
- (D) Dois e trinta e sete.

**3º ANO DO ENSINO FUNDAMENTAL – SIMULADO
DIAGNÓSTICO/OUTUBRO**

Atenção

NOME DO (A) ALUNO (A): _____

FOLHA DE RESPOSTAS

Bloco de Língua Portuguesa				
01	A	B	C	D
02	A	B	C	D
03	A	B	C	D
04	A	B	C	D
05	A	B	C	D
06	A	B	C	D
07	A	B	C	D
08	A	B	C	D
09	A	B	C	D
10	A	B	C	D
11	A	B	C	D
12	A	B	C	D

Bloco de Matemática				
01	A	B	C	D
02	A	B	C	D
03	A	B	C	D
04	A	B	C	D
05	A	B	C	D
06	A	B	C	D
07	A	B	C	D
08	A	B	C	D
09	A	B	C	D
10	A	B	C	D
11	A	B	C	D
12	A	B	C	D