

PREFEITURA MUNICIPAL DE BOM JESUS DO ITABAPOANA-RJ
SECRETARIA MUNICIPAL DE EDUCAÇÃO, ESPORTE E LAZER

Atividades Orientadoras



Educação de Jovens e Adultos

FASE I



UNIDADE ESCOLAR:

PROFESSORA DATA

NOME:

FASE CÓDIGO BNCC

LÍNGUA
PORTUGUESA

LP

CARTAZ

CI

CIÊNCIAS



QUAL O ASSUNTO DO TEXTO ACIMA?

- OXIGÊNIO
- ÁGUA
- ÁRVORE



A IMAGEM ACIMA É UM GÊNERO TEXTUAL CHAMADO:

- ANÚNCIO CARTAZ PROPAGANDA

3

MARQUE COM x OS BENEFÍCIOS DE UMA ÁRVORE AO MEIO

AMBIENTE.

PURIFICA O AR

CONTAMINA O SOLO

AQUECE O AMBIENTE

TRAZ SOMBRA

DÁ ABRIGO AOS ANIMAIS

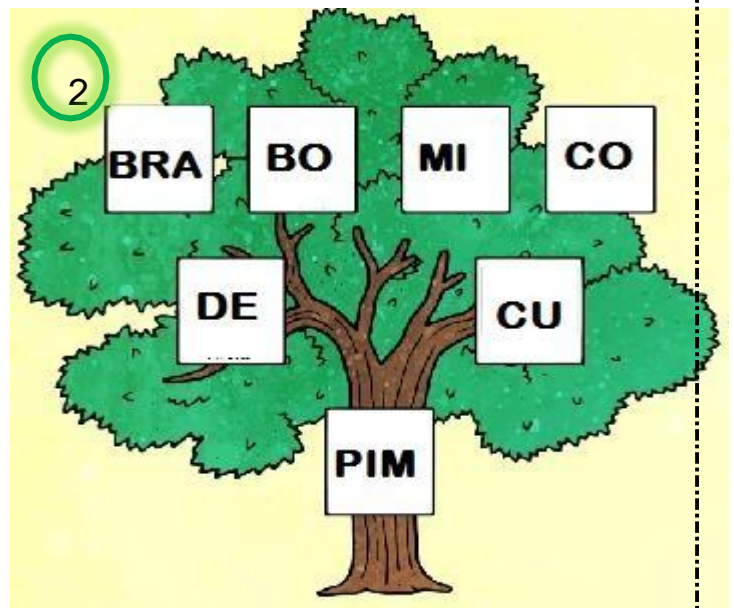
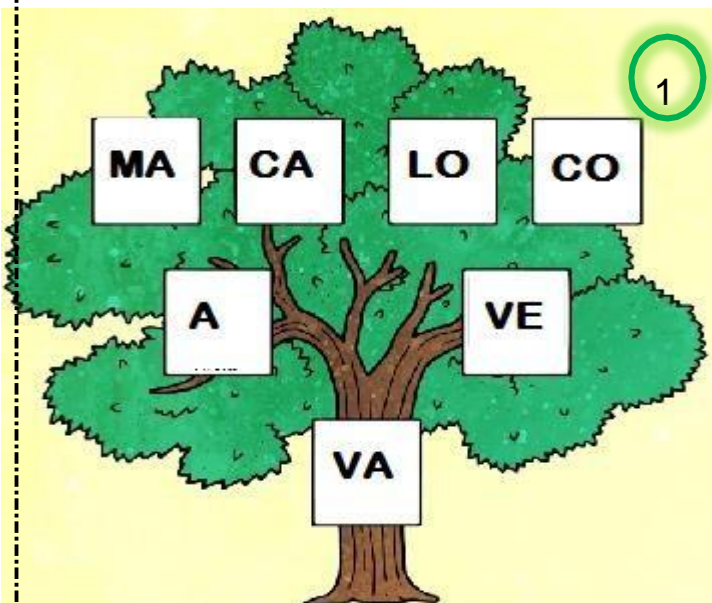
AMEAÇA OS SERES VIVOS

CAUSA POLUIÇÃO

FORNECE ALIMENTO

4

DESCUBRA O NOME DE ANIMAIS QUE SE ABRIGAM NAS ÁRVORES.



UNIDADE ESCOLAR:

PROFESSORA DATA

NOME:

FASE CÓDIGO BNCC

MATEMÁTICA

MAT

SISTEMA DE NUMERAÇÃO DECIMAL



Você sabia?

OS NÚMEROS TEM VÁRIAS
FUNÇÕES NO NOSSO DIA A DIA.



IDENTIFICAR



LOCALIZAR



CONTAR





ORDENAR

MEDIR



OBSERVE AS INFORMAÇÕES ABAIXO:

 ... RESFRIA IGUAL A
10 ARES-CONDICIONADOS
FUNCIONANDO
CONTINUAMENTE **A**

 ... ABSORVE
2 900 LITROS
DE ÁGUA **B**
CHUVA

 ... FILTRA
28 KG
DE POLUENTES
DO AR **C**

RELACIONE OS NÚMEROS MENCIONADOS ACIMA, ESCRIVENDO AS LETRAS COM SUAS FUNÇÕES :

CONTAR

MEDIR

02

PREENCHA A FICHA DE DADOS PESSOAIS, UTILIZANDO OS NÚMEROS QUE TE REPRESENTAM. SE FOR NECESSÁRIO, CONSULTE SEUS DOCUMENTOS.

IDENTIFICAÇÃO

NOME COMPLETO: _____

CPF: _____ RG _____

DATA DE NASCIMENTO: _____ / _____ / _____ (dd/ mm/aaaa)

LOCALIZAÇÃO

ENDEREÇO:

RUA _____

NÚMERO _____, BAIRRO _____

CIDADE : _____ CEP _____

PAÍS : _____

Números Ordinais

Os numerais ordinais indicam um número de ordem ou posição

1º 2º 3º 4º 5º 6º



<https://i.ytimg.com/vi/av6vyvE9dP8/maxresdefault.jpg>

PARA ESCREVERMOS OS NÚMEROS ORDINAIS DEVEMOS COLOCAR ESSE SINAL AO LADO DO NÚMERO.



03

ESCREVA O NÚMERO QUE REPRESENTA A ORDEM DA FILA.

QUINTO - 5º
PRIMEIRO - 1º SEXTO - 6º TERCEIRO - 3º
QUARTO - 4º SEGUNDO - 2º SÉTIMO - 7º

LUIZA PEDRO BIA JOÃO LUCAS MARIA BRUNO

UNIDADE ESCOLAR:

PROFESSORA

DATA

NOME:

FASE

CÓDIGO BNCC

HISTÓRIA

HI



VOCÊ JÁ CONTRIBUI COM A SUA COMUNIDADE, COM O SEU TRABALHO.

01

QUAL O TRABALHO QUE VOCÊ EXERCEU OU EXERCE?

REFLETINDO...



02

MAQUE COM X AS PROFISSÕES MOSTRADAS NAS IMAGENS

- | | | |
|--------------|-----------------|------------------|
| () MÉDICO | () CARPINTEIRO | () CABELEIREIRO |
| () GARI | () PADEIRO | () PROFESSOR |
| () DENTISTA | () COZINHEIRO | () PINTOR |

UNIDADE ESCOLAR:

PROFESSORA DATA

NOME:

FASE CÓDIGO BNCC

MATEMÁTICA

MAT

PROBLEMAS E OPERAÇÕES

01 LEIA COM ATENÇÃO E RESOLVA OS PROBLEMAS:

- a) PAULO POSSUI UM SÍTIO E ESTÁ REVITALIZANDO AS NASCENTES PLANTANDO ÁRVORES. O ANO PASSADO PAULO PLANTOU 13 MUDAS DE ÁRVORES E ESSE ANO PLANTOU MAIS 85. QUAL O TOTAL DE MUDAS PLANTADAS POR PAULO?

CÁLCULO

| | |
|----------|----------|
| D | U |
| | |
| | |
| | |

Resposta:
PAULO PLANTOU _____ MUDAS.



- b) DAS 98 MUDAS QUE PAULO PLANTOU, MORRERAM 15. QUANTAS MUDAS VÃO SE TORNAR ÁRVORE?

CÁLCULO

| | |
|----------|----------|
| D | U |
| | |
| | |
| | |

Resposta:
_____ MUDAS SE TORNARÃO UMA ÁRVORE.



UNIDADE ESCOLAR:

PROFESSORA

DATA

NOME:

FASE

CÓDIGO BNCC

ARTES

AR

EXPRESSÃO ARTÍSTICA

VOCÊ PRECISARÁ DE:

1. PAPEL HIGIÊNICO, LINHA DA MESMA COR DO PAPEL E UMA TESOURA.

2. CORTE CINCO OU SEIS QUADRADOS DO MESMO TAMANHO DO PAPEL HIGIÊNICO E COLOQUE-OS EM CAMADAS.

3. FAÇA UM ACORDEÃO (DOBRANDO EM ZIGUE-ZAGUE).

4. DÊ UM NÓ NO CENTRO DO ACORDEÃO COM UM PEDAÇO DE LINHA.

5. CORTE AS BORDAS DO ACORDEÃO PARA DAR-LHES UMA FORMA ARREDONDADA.

6. DESDOBRE O ACORDEÃO.

7. DOBRE CADA FOLHA PARA DENTRO, UMA A UMA E COM MUITO CUIDADO, PORQUE O PAPEL SE RASGA COM MUITA FACILIDADE.

8. E AÍ ESTÁ, UMA LINDA FLOR PARA DECORAR SUA CASA E COMEMORAR A CHEGADA DA PRIMAVERA, QUE SERÁ DIA 23 DE SETEMBRO!

SE PREFERIR, COLE UM CABINHO E COLOQUE-AS EM UM VASO.



lebazardeboucledor.blogspot.fi

SE VOCÊ PREFERIR PODE ASSISTIR AO VÍDEOEXPLICATIVO NO LINK:
<https://youtu.be/R4AOGJsWouo>



