

PREFEITURA MUNICIPAL DE BOM JESUS DO ITABAPOANA-RJ
SECRETARIA MUNICIPAL DE EDUCAÇÃO, ESPORTE E LAZER

Atividades Orientadoras



Educação de Jovens e Adultos

FASE II



UNIDADE ESCOLAR:

PROFESSORA

DATA

NOME:

FASE

CÓDIGO BNCC

EF15LP18/EF12LP01/EF01LP02/EF02LP04/

LÍNGUA
PORTUGUESA

LP

CARTAZ

CI

CIÊNCIAS

21 DE SETEMBRO – DIA DA ÁRVORE



<https://www.radiocacula.com.br/wp-content/uploads/media/images/6304/63648//5ba1569df3603af8c42c2545a6e182a70f833b054c047.jpe>



QUAL O ASSUNTO DO TEXTO ACIMA?

OXIGÊNIO

ÁGUA

ÁRVORE



A IMAGEM ACIMA É UM GÊNERO TEXTUAL CHAMADO:

ANÚNCIO

CARTAZ

PROPAGANDA



MARQUE COM x OS BENEFÍCIOS DE UMA ÁRVORE AO MEIO AMBIENTE.

PURIFICA O AR

CONTAMINA O SOLO

AQUECE O AMBIENTE

TRAZ SOMBRA

DÁ ABRIGO AOS ANIMAIS

AMEAÇA OS SERES VIVOS

CAUSA POLUIÇÃO

FORNECE ALIMENTO



ORDENE AS PALAVRAS E ESCREVA UMA FRASE.



UMA FRASE SE INICIA COM LETRA MAIÚSCULA E TERMINA COM UM PONTO.

Uma representa de árvore vida. Qualidade



COMPLETE:

A PALAVRA ÁRVORE TEM:

_____ LETRAS , SENDO _____ VOGAIS
E _____ CONSOANTES.

Á R V O R E

┌───┐ ┌───┐ ┌───┐
└───┘ └───┘ └───┘

2



ESCREVA UMA PALAVRA CARINHOSA PARA CADA LETRA DA PALAVRA "ÁRVORE".





OBSERVE A IMAGEM AO LADO E RELACIONE AS PARTES DAS PLANTAS COM AS SUAS DEVIDAS FUNÇÕES.

SÃO RESPONSÁVEIS PELA FORMAÇÃO DOS FRUTOS

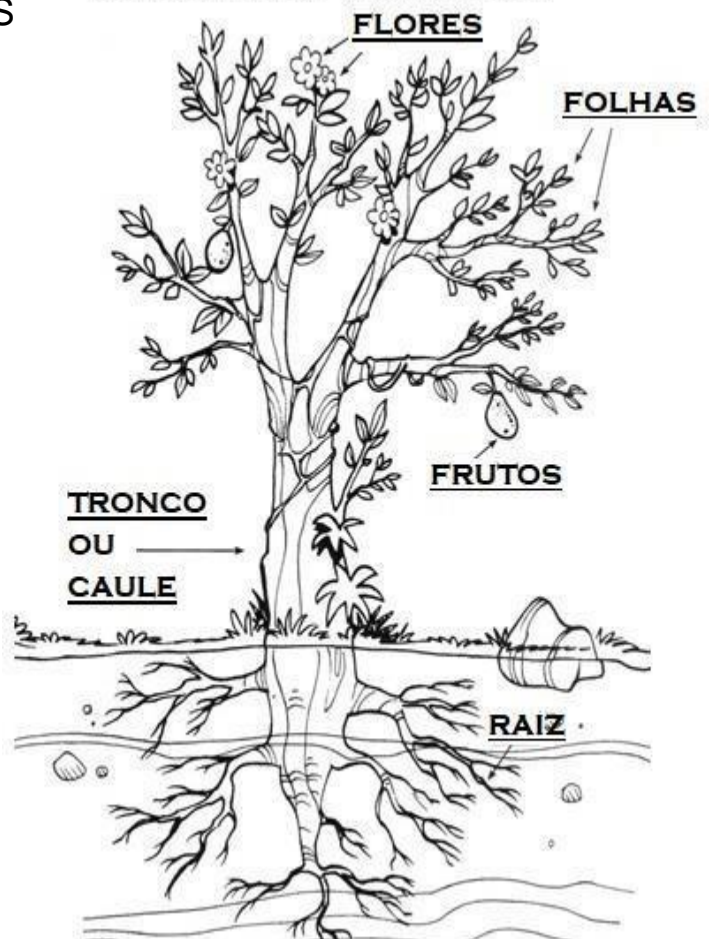
RESPONSÁVEIS PELA RESPIRAÇÃO DAS PLANTAS.

PROTEGEM AS SEMENTES PARA REPRODUÇÃO DE NOVAS PLANTAS

É RESPONSÁVEL POR LEVAR OS NUTRIENTES A TODAS AS PARTES DA PLANTA

FIXA A PLANTA AO SOLO E ABSORVE NUTRIENTES

AS PARTES DE UMA PLANTA



UNIDADE ESCOLAR:

PROFESSORA DATA

NOME:

FASE CODIGO BNCC

MATEMÁTICA

MAT

SISTEMA DE NUMERAÇÃO DECIMAL



Você sabia?

OS NÚMEROS TEM VÁRIAS FUNÇÕES NO NOSSO DIA A DIA.



IDENTIFICAR



CONTAR



LOCALIZAR




ORDENAR

MEDIR




OBSERVE AS INFORMAÇÕES ABAIXO:

... RESFRIA IGUAL A
10 ARES-CONDICIONADOS
FUNCIONANDO
CONTINUAMENTE **A**



... ABSORVE
2 900 LITROS
DE ÁGUA **B**
CHUVA



... FILTRA
28 KG
DE POLUENTES
DO AR **C**



RELACIONE OS NÚMEROS MENCIONADOS ACIMA, ESCRIVENDO AS LETRAS COM SUAS FUNÇÕES :

CONTAR

MEDIR

02

PREENCHA A FICHA DE DADOS PESSOAIS, UTILIZANDO OS NÚMEROS QUE TE REPRESENTAM. SE FOR NECESSÁRIO, CONSULTE SEUS DOCUMENTOS.

IDENTIFICAÇÃO

NOME COMPLETO: _____

CPF: _____ RG _____

DATA DE NASCIMENTO: ____/____/____ (dd/ mm/aaaa)

LOCALIZAÇÃO

ENDEREÇO:

RUA _____

NÚMERO _____, BAIRRO _____

CIDADE : _____ CEP _____

PAÍS : _____.

Números Ordinais

Os numerais ordinais indicam um número de ordem ou posição

1º 2º 3º 4º 5º 6º



<https://i.ytimg.com/vi/av6yvyE9dP8/maxresdefault.jpg>

PARA ESCREVERMOS OS NÚMEROS ORDINAIS DEVEMOS COLOCAR ESSE SINAL AO LADO DO NÚMERO.



03

ESCREVA O NÚMERO QUE REPRESENTA A ORDEM DA FILA.

QUINTO - 5º
PRIMEIRO - 1º SEXTO - 6º TERCEIRO - 3º
QUARTO - 4º SEGUNDO - 2º SÉTIMO - 7º



UNIDADE ESCOLAR:

PROFESSORA

DATA

NOME:

FASE

CÓDIGO BNCC

HISTÓRIA

HI

O TRABALHO NA COMUNIDADE



VOCÊ JÁ CONTRIBUI COM A SUA COMUNIDADE, COM O SEU TRABALHO.

01 

QUAL O TRABALHO QUE VOCÊ EXERCEU OU EXERCE?

REFLETINDO...



02 

MAQUE COM X AS PROFISSÕES MOSTRADAS NAS IMAGENS.

- | | | |
|--------------|-----------------|------------------|
| () MÉDICO | () CARPINTEIRO | () CABELEIREIRO |
| () GARI | () PADEIRO | () PROFESSOR |
| () DENTISTA | () COZINHEIRO | () PINTOR |

UNIDADE ESCOLAR:

PROFESSORA

DATA

NOME:

FASE

CÓDIGO BNCC

MATEMÁTICA

MAT

PROBLEMAS E OPERAÇÕES



LEIA COM ATENÇÃO E RESOLVA OS PROBLEMAS:

- a) PAULO POSSUI UM SÍTIO E ESTÁ REVITALIZANDO AS NASCENTES PLANTANDO ÁRVORES. O ANO PASSADO PAULO PLANTOU 113 MUDAS DE ÁRVORES E ESSE ANO PLANTOU MAIS 85. QUAL O TOTAL DE MUDAS PLANTADAS POR PAULO?

CÁLCULO

C	D	U

Resposta:
PAULO PLANTOU _____ MUDAS.



- b) DAS 198 MUDAS QUE PAULO PLANTOU, MORRERAM 65 MORRERAM. QUANTAS MUDAS VÃO SE TORNAR ÁRVORE?

CÁLCULO

C	D	U

Resposta:
_____ MUDAS SE TORNARÃO UMA ÁRVORE.

UNIDADE ESCOLAR:

PROFESSOR(A): DATA:

NOME:

FASE: II CÓDIGO BNCC: EF15AR04

ARTES

AR

EXPRESSÃO ARTÍSTICA

VOCÊ PRECISARÁ DE:

1. PAPEL HIGIÊNICO, LINHA DA MESMA COR DO PAPEL E UMA TESOURA.

2. CORTE CINCO OU SEIS QUADRADOS DO MESMO TAMANHO DO PAPEL HIGIÊNICO E COLOQUE-OS EM CAMADAS.

3. FAÇA UM ACORDEÃO (DOBRANDO EM ZIGUE-ZAGUE).

4. DÊ UM NÓ NO CENTRO DO ACORDEÃO COM UM PEDAÇO DE LINHA.


5. CORTE AS BORDAS DO ACORDEÃO PARA DAR-LHES UMA FORMA ARREDONDADA.

6. DESDOBRE O ACORDEÃO.

7. DOBRE CADA FOLHA PARA DENTRO, UMA A UMA E COM MUITO CUIDADO, PORQUE O PAPEL SE RASGA COM MUITA FACILIDADE.

8. E AÍ ESTÁ, UMA LINDA FLOR PARA DECORAR SUA CASA E COMEMORAR A CHEGADA DA PRIMAVERA, QUE SERÁ DIA 23 DE SETEMBRO!

SE PREFERIR, COLE UM CABINHO E COLOQUE-AS EM UM VASO



SE VOCÊ PREFERIR PODE ASSISTIR AO VÍDEOEXPLICATIVO NO LINK:
<https://youtu.be/R4AOGJsWouo>



