

PREFEITURA MUNICIPAL DE BOM JESUS DO ITABAPOANA-RJ
SECRETARIA MUNICIPAL DE EDUCAÇÃO, ESPORTE E LAZER

Atividades Orientadoras



Educação de Jovens e Adultos

FASE II



UNIDADE ESCOLAR:

PROFESSORA

DATA

NOME:

FASE

CÓDIGO BNCC

**LÍNGUA
PORTUGUESA**

LP

TEXTO E INTERPRETAÇÃO



Primavera

PRIMAVERA ESTAÇÃO DAS FLORES
OS CAMPOS FICAM EM FESTAS
COM BORBOLETAS MULTICORES
E FLORES DE TODAS AS CORES



O BEIJA-FLORES DE FLOR EM FLOR
E OS PÁSSAROS A CANTAR
ANUNCIAM A PRIMAVERA
A ESTAÇÃO DA COR

VEJO O SOL BRILHAR MAJESTOSO
A ILUMINAR A NATUREZA.
E EU FELIZ, AGRADEÇO A DEUS
O CRIADOR DE TANTA BELEZA!



ADAPTAÇÃO FEITA AO POEMA DE GERUSA RODRIGUES
PINTO



1 QUAL O TEMA DO POEMA?

BEIJA-FLORES

BORBOLETAS

PRIMAVERA



PRI **MA** **VE** **RA**

PRIMAVERA

LETRA INICIAL	LETRA FINAL	TOTAL DE VOGAIS	TOTAL DE CONSOANTES	TOTAL DE LETRAS
<input type="text"/>	<input type="text"/>	<input type="text"/>	<input type="text"/>	<input type="text"/>



A "PRIMAVERA" É :

UMA MOÇA

UMA ESTAÇÃO DO ANO



MARQUE COM "x" OS ANIMAIS QUE APARECEM NO POEMA.

() PÁSSAROS

() SAPO

() BEIJA-FLORES

() LEÃO

() BORBOLETA

A PRIMAVERA TAMBÉM É CHAMADA DE ESTAÇÃO DAS :

() AVES

() ÁGUAS

() FLORES



SEPRE AS SÍLABAS DA PALAVRAS ABAIXO:

a) SAPO

b) PRIMAVERA

c) FLORES

d) ESTAÇÃO

e) ILUMINAR



UNIDADE ESCOLAR : DATA

PROFESSORA

NOME:

FASE


CODIGO BNCC

MATEMÁTICA

MAT

FIGURAS GEOMÉTRICAS PLANAS

ESSAS SÃO AS FIGURAS GEOMÉTRICAS PLANAS
QUE IREMOS ESTUDAR:




CÍRCULO
NAO POSSUI
LADOS E
NEM VERTICES



QUADRADO
4 LADOS
4 VERTICES




RETÂNGULO
4 LADOS
4 VERTICES




TRIÂNGULO
3 LADOS
3 VERTICES




a) O QUADRADO POSSUI ____ LADOS IGUAIS
E ____ VÉRTICES.



b) O TRIÂNGULO POSSUI ____ LADOS. QUE
PODEM SER IGUAIS OU DIFERENTES E
____ VERTICES.



c) O RETÂNGULO POSSUI ____ LADOS,
IGUAIS AOS PARES E ____ VERTICES.



d) O CÍRCULO É UMA FIGURA PLANA QUE
____ POSSUI LADOS NEM VÉRTICES.

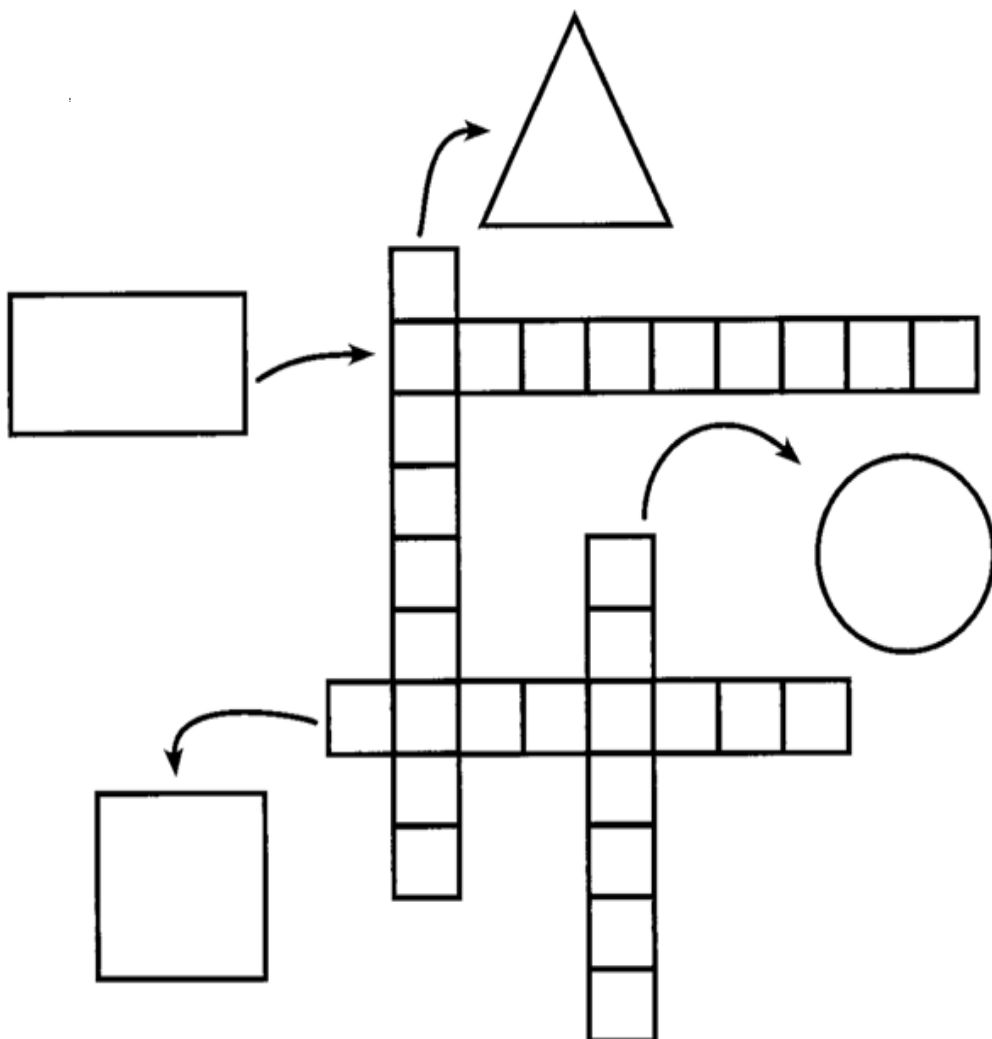
COMPLETE A CRUZADINHA COM O NOME DAS FIGURAS.

QUADRADO

TRIÂNGULO

RETÂNGULO

CÍRCULO



OBSERVE A SEQUÊNCIA DE FIGURAS GEOMÉTRICAS E CONTINUE DESENHANDO.





UNIDADE ESCOLAR:

PROFESSORA

DATA

NOME:

FASE

CÓDIGO BNCC

**LÍNGUA
PORTUGUESA**

LP

TEXTO E INTERPRETAÇÃO



ESCREVA AS LETRAS DO ALFABETO
QUE ESTÃO FALTANDO.

<input type="text"/>	B	<input type="text"/>	<input type="text"/>	E	F
<input type="text"/>	G	<input type="text"/>	<input type="text"/>	J	<input type="text"/>
<input type="text"/>	L	<input type="text"/>	<input type="text"/>	<input type="text"/>	P
<input type="text"/>	Q	<input type="text"/>	<input type="text"/>	<input type="text"/>	<input type="text"/>
U	<input type="text"/>	W	<input type="text"/>	<input type="text"/>	Z

A FLORICULTURA RECEBEU NOVAS FLORES. ORGANIZE UMA LISTA EM ORDEM ALFABÉTICA.

**PRESENTEIE
FLORES!**

MARGARIDAS
CAMÉLIAS
ROSAS
HORTÊNCIAS
BEGÔNIAS
AZALÉIAS
LÍRIOS



Blank lined area for organizing a list of flowers in alphabetical order.

UNIDADE ESCOLAR:

PROFESSORA DATA

NOME:

FASE CÓDIGO BNCC

MATEMÁTICA

MAT

RESOLUÇÃO DE PROBLEMAS

UMA FLORICULTURA RECEBEU :

MARGARIDAS	50
ROSAS	35
LÍRIOS	62

QUANTAS FLORES RECEBEU NO TOTAL?

CÁLCULO

D	U

RESPOSTA:

NO TOTAL A FLORICULTURA
RECEBEU _____ FLORES.

QUANTAS MARGARIDAS RECEBEU A MAIS DO QUE AS ROSAS?

CÁLCULO

D	U

RESPOSTA:

RECEBEU _____ MARGARIDAS A MAIS.

UNIDADE ESCOLAR:

PROFESSORA

DATA

NOME:

FASE

CÓDIGO BNCC

ARTES

AR

EXPRESSÃO ARTÍSTICA

Porta papel higiênico de garrafa Pet

Material:

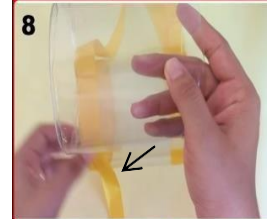
3 GARRAFAS PET;
RÉGUA, TESOURA
E FERRO DE
PASSAR; PINCEL
PARA MARCAÇÃO;
3,30 M DE FITA DE CETIM DA
COR DE SUA PREFERÊNCIA;
COLA INSTANTÂNEA OU COLA
DE SILICONE.

COMO CONFECCIONAR?

1 MARQUE AS GARRAFAS COM O PINCEL SEGUINDO A LINHA QUE JÁ TEM NA GARRAFA, TENDE UTILIZAR A MEDIDA DE 12,5 CM, ENTRE AS MARCAÇÕES.

2 CORTE NA MARCAÇÃO. SE FICAR A MARCA DO PINCEL É SÓ PASSAR UM ALGODÃO UMEDECIDO COM ACETONA QUE SAI.

3 E 4 PARA TIRAR AS REBARBINHAS DAS EXTREMIDADES DO CORTE, ESQUENTE O FERRO DE PASSAR E PRESSIONE O PEDAÇO DA GARRAFA QUE VOCÊ CORTOU COM O FERRO QUENTE PARA DAR ACABAMENTO.





5 FAÇA A MESMA COISA COM AS OUTRAS DUAS GARRAFAS.

6 PEGUE A FITA E POSICIONE-A, IGUALANDO AS PONTAS. PRENDA COM ALFINETE PARA NÃO CORRER O RISCO DE FICAR UM LADO MAIOR COM O OUTRO.

7 E 8 PASSE A COLA NAS LATERAIS DO PEDAÇO DA GARRAFA E COLE A FITA.

9 QUANDO ACABAR DE COLAR A FITA NAS LATERAIS, PASSE UM POUQUINHO DE COLA PARA UNIR UMA FITA NA OUTRA.

10 CONTINUE A COLAR A OUTRA PARTE DA GARRAFA E FAÇA O MESMO PROCEDIMENTO.

11 E 12 ENFEITE O PORTA PAPEL HIGIÊNICO DO JEITO QUE VOCÊ QUISER. COLE FLORES, FUXICOS E ETC. NO FINAL, COLE UM PEDAÇO DE FITA PARA PENDURAR.



SE PREFERIR ASSISTA AO VÍDEO DE CONFECCÃO DO PORTA

PAPEL HIGIÊNICO: [HTTPS://YOUTU.BE/LN-ENF9NXJG](https://youtu.be/LN-ENF9NXJG)

