

PREFEITURA MUNICIPAL DE BOM JESUS DO ITABAPOANA-RJ  
SECRETARIA MUNICIPAL DE EDUCAÇÃO, ESPORTE E LAZER

**SEMEEL**

*A mudança está em nossas mãos*

# Atividades Orientadoras



1º  
ano

## Ensino Fundamental

UNIDADE ESCOLAR:

PROFESSORA

ANO DE ESCOLARIDADE

DATA

NOME:

HOJE É?

SEGUNDA

TERÇA

QUARTA

QUINTA

SEXTA

CÓDIGO BNCC

(EF01LP08) (EF01LP11) (EF01LP06) (EF01LP02) (EF12LP07)

## LÍNGUA PORTUGUESA

1) LEIA O TRAVA-LÍNGUA ABAIXO E CIRCULE AS LETRAS **S** QUE APARECEM NO TEXTO.

**OLHA O SAPO DENTRO DO SACO,  
O SACO COM O SAPO DENTRO.  
O SAPO BATENDO PAPO,  
E O PAPO SOLTANDO O VENTO.**



A) QUANTAS VEZES APARECE A LETRA **S** NO TEXTO?



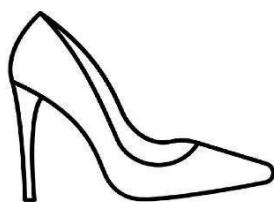
B) QUANTAS VEZES VOCÊ ABRE A BOCA PARA FALAR SAPO?

C) QUANTAS LETRAS TEM A PALAVRA SAPO?

2) AGORA, COMPLETE O TRAVA-LÍNGUA:





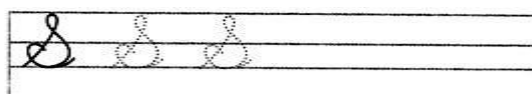

OLHA \_\_\_\_\_ DENTRO DO \_\_\_\_\_,  
O SACO COM \_\_\_\_\_ DENTRO.  
O SAPO \_\_\_\_\_ PAPO,  
E O \_\_\_\_\_ SOLTANDO \_\_\_\_\_.

3) UTILIZE O BANCO DE PALAVRAS PARA ESCREVER O NOME DAS FIGURAS E DEPOIS PINTE BEM BONITO.




**SINO – SAPATO – SAIA – SUCO – SAPO – SELO**


4) COPIE E CUBRA.




sapato



Sueli



Sônia tem medo de sapo.



5) COMPLETE AS PALAVRAS ABAIXO COM:

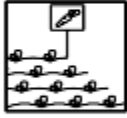
HA - HE - HI - HO - HU - HÃO



\_\_\_\_\_ TEL



\_\_\_\_\_ POPÓTAMO



\_\_\_\_\_ RTA



\_\_\_\_\_ ENA



\_\_\_\_\_ RA



\_\_\_\_\_ LICE

6) COMPLETE A CRUZADINHA ABAIXO UTILIZANDO O BANCO DE PALAVRAS.

**RATO**      **RISO**  
**RÁDIO**    **ROBÔ**  
**REDE**      **RODA**  
**REI**        **RUA**  
**RICO**

UNIDADE ESCOLAR:

PROFESSORA  ANO DE ESCOLARIDADE  DATA

1º ANO

NOME:

HOJE É?

CÓDIGO BNCC

SEGUNDA

TERÇA

QUARTA


QUINTA

SEXTA

(EF01MA21) (EF01MA07) (EF01MA02) (EF01MA04)

## MATEMÁTICA

- 1) AJUDE O BEZERRINHO A ENCONTRAR A MAMÃE VACA PASSANDO PELO CAMINHO CRESCENTE DE 10 EM 10.



2) RESOLVA AS CONTINHAS ABAIXO.

$$\begin{array}{r} 4 \\ + 1 \\ \hline \square \end{array}$$

$$\begin{array}{r} 2 \\ + 4 \\ \hline \square \end{array}$$

$$\begin{array}{r} 5 \\ + 1 \\ \hline \square \end{array}$$

$$\begin{array}{r} 6 \\ + 3 \\ \hline \square \end{array}$$

$$\begin{array}{r} 7 \\ + 2 \\ \hline \square \end{array}$$

$$\begin{array}{r} 5 \\ + 4 \\ \hline \square \end{array}$$

$$\begin{array}{r} 2 \\ + 6 \\ \hline \square \end{array}$$

$$\begin{array}{r} 4 \\ + 3 \\ \hline \square \end{array}$$

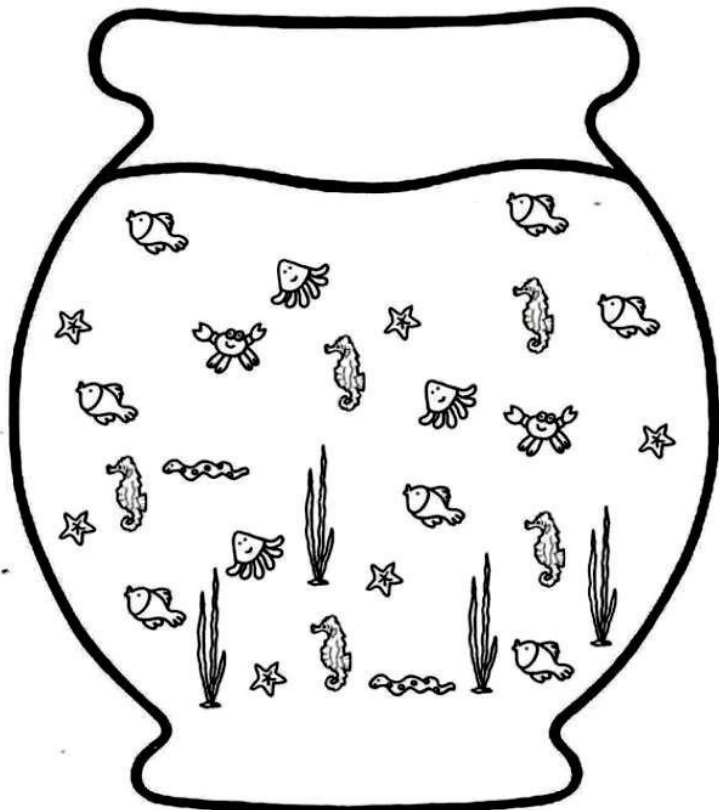

$$\begin{array}{r} 6 \\ + 1 \\ \hline \square \end{array}$$

TREINANDO A ADIÇÃO!




3) VAMOS MONTAR UM GRÁFICO? OBSERVE O AQUÁRIO AOLADO E CONSTRUA A LEGENDA.

QUANTIDADE



AGORA, CONSTRUA O GRÁFICO DE ACORDO COM A LEGENDA ACIMA.



4) PINTE A CEREJA QUE TEM O NÚMERO MAIOR.

|  |  |  |
|--|--|--|
|  |  |  |
|  |  |  |
|  |  |  |

profrafaelak.blogspot.com

5) ESCREVA POR EXTENSO O NOME DOS NÚMEROS ABAIXO:

11

12

13

14

15

16





17

18

19

20

6) DÊ O SUCESSOR (QUE VEM DEPOIS) E O ANTECESSOR (QUE VEM ANTES) DOS NÚMEROS ABAIXO:



|  |    |  |
|--|----|--|
|  | 25 |  |
|  | 18 |  |
|  | 30 |  |

|  |    |  |
|--|----|--|
|  | 95 |  |
|  | 23 |  |
|  | 69 |  |

|  |    |  |
|--|----|--|
|  | 15 |  |
|  | 27 |  |

|  |    |  |
|--|----|--|
|  | 20 |  |
|  | 40 |  |

|  |    |  |
|--|----|--|
|  | 12 |  |
|--|----|--|



UNIDADE ESCOLAR:

PROFESSORA

ANO DE ESCOLARIDADE

DATA

NOME:

HOJE É?

SEGUNDA

TERÇA

QUARTA

QUINTA

SEXTA

CÓDIGO BNCC

(EF01CI05)

# CIÊNCIAS

## ESTACÕES DO ANO

Nascem os frutos,  
Não é frio, nem quente,  
no agradável Outono,  
Eu fico contente.



Faz tanto frio.  
Ao Inverno chegar,  
Não nado, não brinco,  
Não vou passear.



Chegou a Primavera,  
A estação das flores.  
Há pássaros, borboletas  
De todas as cores.



Com muita chuva,  
Chegou o Verão.  
Calor forte e sol  
Faz nesta estação.



Apenas três meses  
Dura cada estação,  
E todas elas trazem  
Alegria no coração.



Filomena Maria da Silva. - Estado de Minas, 22/07/1995.

CIRCULE NO POEMA O NOME DAS ESTAÇÕES DO ANO.

**PRIMAVERA**- 22 DE SETEMBRO A 21 DE DEZEMBRO

**VERÃO**- 21 DE DEZEMBRO A 21 DE MARÇO

**OUTONO**- 22 DE MARÇO A 20 DE JUNHO

**INVERNO**- 21 DE JUNHO A 22 DE SETEMBRO



✚ ESCREVA O NOME DAS ESTAÇÕES DO ANO E CIRCULE A ESTAÇÃO QUE ESTAMOS.



➡ QUAL DAS ESTAÇÕES VOCÊ MAIS GOSTA?

UNIDADE ESCOLAR:

PROFESSORA  ANO DE ESCOLARIDADE  DATA

NOME:

HOJE É?

SEGUNDA

TERÇA

QUARTA

QUINTA



SEXTA

CÓDIGO BNCC

(EF15AR04)

# ARTE

- ✓ VOCÊ SABIA QUE DÁ PRA FAZER UM DESENHO USANDO PARTE DO NOSSO CORPO? VAMOS TENTAR!!!!
- ✓ OBSERVE OS DESENHOS ABAIXO E FAÇA UMA RELEITURA DELES UTILIZANDO A MESMA TÉCNICA.



USE O ESPAÇO ABAIXO PARA VOCÊ FAZER SUA OBRA DE ARTE!!

