

PREFEITURA MUNICIPAL DE BOM JESUS DO ITABAPOANA-RJ
SECRETARIA MUNICIPAL DE EDUCAÇÃO, ESPORTE E LAZER

SEMEEL

A mudança está em nossas mãos

Atividades Orientadoras



5º
ano



Ensino Fundamental

UNIDADE ESCOLAR:

PROFESSOR(A) ANO DE ESCOLARIDADE DATA

NOME:

HOJE É?

CÓDIGO BNCC

SIMULADO DE LÍNGUA PORTUGUESA

- Leia a tirinha e responda as questões de 01 a 04.



Recreio. São Paulo: Abril, ano 10, n. 479, p. 24, 14 maio 2009. (P050619A9_SUP)

- (D4)** A intenção da mãe ao mandar Antoninho pular na água era de:
 - afastá-lo do predador.
 - escondê-lo do macaco.
 - dar um banho no filho.
 - brincar com o filho.
- (D5)** Na história em quadrinhos, percebe-se que Antoninho:
 - ficou com muito medo do predador.
 - estava contente em pular na água.
 - sabia que a mãe queria lhe dar banho.
 - viu um macaco correndo atrás dele.
- (D13)** O traço de humor percebido no texto é o fato de:
 - a mãe ficar com medo de um predador.
 - o Antoninho cair dentro da água de repente.
 - o macaco estar escondido de Antoninho.
 - a mãe enganar seu filho para dar-lhe banho.
- (D12)** No trecho —Lá vem um predador!, o termo destacado dá ideia de:
 - tempo.
 - lugar.
 - modo.
 - dúvida.

- Leia o texto abaixo e responda as questões 5 e 6.

“Crucificado” pela gripe, porco é animal de estimação de famosos

Ainda não há provas que o incriminem definitivamente pelo atual surto de gripe que atingiu 11 países. Mesmo assim, o porco já vem sendo julgado culpado por autoridades mundo afora, que determinam até a morte de criações inteiras.

Na última segunda-feira (27), a OIE (Organização Mundial para a Saúde Animal) reiterou que ainda não foi comprovada a relação entre o vírus e os animais e pediu que a gripe suína seja denominada gripe da América do Norte.

Mas, para algumas pessoas, pouco importa se a culpa é ou não do porco. Para elas, o animal não é um inimigo, e sim, um companheiro para todas as horas.

Fonte: . Acesso em: 04 ago. 2021.

- (D2)** Leia novamente a frase. —Para elas, o animal não é um inimigo, e sim, um companheiro para todas as horas.

De acordo com o texto, a palavra destacada pode ser substituída por:

- algumas pessoas.
- criações inteiras.
- autoridades.
- horas.



- (D11)** O trecho que apresenta uma opinião no texto é:

- (...) o porco já vem sendo julgado culpado por autoridades mundo afora (...)
- (...) o animal não é um inimigo, e sim, um companheiro para todas as horas.
- (...) a OIE reiterou que ainda não foi comprovada a relação entre o vírus e os animais(...)
- ...(a OIE) pediu que a gripe suína seja denominada gripe da América do Norte.

- Leia e responda as questões 7, 8 e 9.

Lavitan Kids

Descrição:

O Lavitan Kids é um suplemento vitamínico para crianças, do laboratório Grupo Cimed. É utilizado para complementação nutricional. Não contém açúcar. Não contém corante. É encontrado em forma líquida em quantidade de 120 mL.

Composição:

Vitamina B2, Vitamina B1, Vitamina B6, Nicotinamida, Vitamina B12, Vitamina C, Vitamina A, Vitamina D3, Ácido pantotênico.

Indicação do Lavitan Kids

Complementação Nutricional.

Modo de Uso do Lavitan Kids

Crianças de 0 a 11 meses: 2 mL, 1 vez ao dia.
Crianças de 1 a 10 anos: 5 mL, 1 vez ao dia.
Consumir este produto conforme a recomendação de ingestão diária constante da embalagem. Gestantes, nutrizes e crianças até 3 (três) anos, somente devem consumir este produto sob orientação de nutricionista ou médico. Contém fenilalanina.

7. (D16) Esse texto é um(a):

- (A) receita.
- (B) bula de remédio.
- (C) manual de instrução.
- (D) classificado.



8. (D9) A finalidade do texto é:

- (A) ensinar como se produz um remédio.
- (B) informar e orientar sobre o uso de um medicamento.
- (C) divulgar um produto destinado ao público infantil.
- (D) narrar uma história em inglês para crianças.

9. (D10) O texto apresenta uma linguagem:

- (A) informal.
- (B) formal.
- (C) regional.
- (D) técnica.

Leia o texto e responda as questões 10,11 e 12.

Procurando Firme

(...) “Era uma vez um castelo, com rei, rainha, príncipe, princesa, muralha, fosso em volta, ponte levadiça e um terrível dragão na frente da porta do castelo, que não deixava ninguém sair.”

- Mas como não deixava?
- Sei lá. A verdade é que ele parecia muito perigoso.

E cada pessoa via um perigo no dragão. Uns reparavam que ele tinha unhas compridas, outros reparavam que ele tinha dentes pontudos, um tinha visto que ele tinha um rabo enorme, com a ponta toda cheia de espinhos... tinha gente que achava que ele era verde, outros achavam que era amarelo, roxo, cor-de-burro-quando-foge... E saía fogo do nariz dele. Saía, sim! Por isso, ninguém se atrevia a cruzar o pátio para sair de dentro das muralhas”.

(...)

Aí chegou o dia do príncipe sair para correr mundo. Ele não quis levar muita bagagem, para não ficar pesado. Saiu de madrugada, bem cedo. E lá se foi correndo, dando cotoveladas, cuspidando no olho de quem passasse perto. Passou pelo dragão, escalou o muro do palácio, caiu do outro lado, nadou pelo fosso, subiu na outra margem e se foi pelo mundo, procurando, não sei bem o quê, mas procurando firme.

Disponível em:

<https://www.portalsaofrancisco.com.br/literatura-infantil/procurando-firme> acesso em 04/09/2021

10- (D8) De acordo com este texto, ninguém saía do castelo porque:

- (A) a muralha era muito alta.
- (B) a ponte levadiça estava quebrada.
- (C) tinham medo do terrível dragão.
- (D) existia um fosso muito largo.

11- (D12) No trecho — Saiu de madrugada, **bem cedo**, a palavra sublinhada indica uma relação de:

- (A) intensidade.
- (B) lugar.
- (C) modo.
- (D) tempo.

12- (D14) O ponto de exclamação do trecho — Saía, sim! expressa:

- (A) dúvida.
- (B) surpresa.
- (C) ênfase.
- (D) entusiasmo.



UNIDADE ESCOLAR:

PROFESSOR(A)

ANO DE ESCOLARIDADE

5º ANO

DATA

NOME:

HOJE É?

SEGUNDA

TERÇA

QUARTA

QUINTA


SEXTA

CÓDIGO BNCC

D2, D4, D6, D7, D8, D10, D14, D15, D19, D20, D24, D27

SIMULADO DE MATEMÁTICA

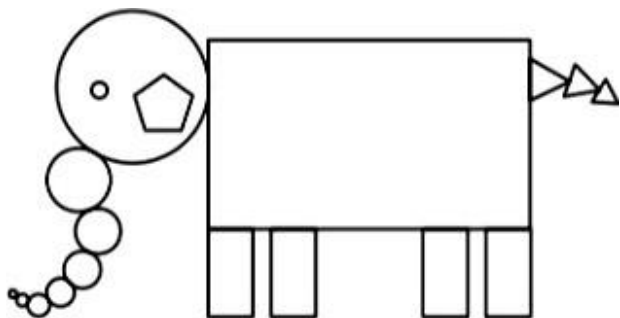
1- **(D2)** O dado é uma figura semelhante ao sólido geométrico chamado cubo.



Para montar um dado são necessárias quantas faces quadradas?

- (A) 4
- (B) 8
- (C) 6
- (D) 12

2- **(D4)** Ana usou 18 figuras geométricas para desenhar o elefante abaixo.



Quantos retângulos ela usou para desenhar esse elefante?

- A) 1
- B) 3
- C) 5
- D) 9

3- **(D6)** Para realizar um trabalho de Geografia, Carmem deverá medir a variação

diária da temperatura de uma cidade durante alguns meses do ano. Para obter os dados desse trabalho, qual é o instrumento de medida que Carmem deverá usar?

- A) Balança.
- B) Fita métrica.
- C) Termômetro.
- D) Velocímetro.

4- **(D7)** A distância da casa de Luísa ao clube é de 1 km. Essa distância, em metros, é igual a:

- A) 1
- B) 10
- C) 100
- D) 1 000

5- **(D8)** Uma partida de futebol tem duração de 90 minutos. Esse tempo corresponde a:

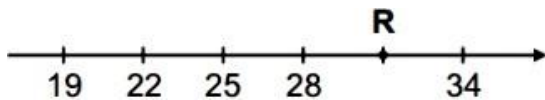
- A) 1 hora e 15 minutos.
- B) 1 hora e 20 minutos.
- C) 1 hora e 30 minutos.
- D) 1 hora e 35 minutos.

6- **(D10)** Marquinho ganhou de sua mãe uma cédula de R\$ 5,00, duas de R\$ 2,00 e três moedas de R\$ 0,25, o que dá um total de:

- (A) R\$ 7,25
- (B) R\$ 7,75
- (C) R\$ 9,25
- (D) R\$ 9,75



7- (D14) Observe a reta numérica abaixo. Ela está dividida em partes iguais.



Qual é o número representado pelo ponto R nessa reta numérica?

- A) 29
- B) 31
- C) 32
- D) 33


8- (D15) Qual é o número formado pela adição abaixo?

$$4000 + 300 + 20 + 1$$

- A) 1 234
- B) 2 134
- C) 3 214
- D) 4 321

9- (D19) Paulo comprou o seguinte material escolar:

1 vidro de cola	R\$ 1,00
1 borracha	R\$ 0,50
1 tesoura	R\$ 2,00
1 apontador	R\$ 1,50



Ao todo, Paulo gastou:

- (A) R\$ 4,00.
- (B) R\$ 4,50.
- (C) R\$ 5,00.
- (D) R\$ 5,50.

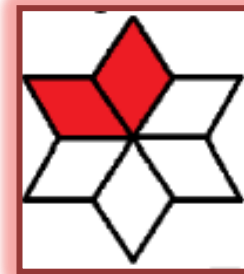
10- (D20) Em uma garagem estão estacionados carros em 8 fileiras. Em cada fileira há 12 carros.



Quantos carros há nesta garagem?


- A) 20
- B) 36
- C) 72
- D) 96

11- (D24) Observe a figura abaixo.



A fração que corresponde à parte colorida na figura acima é:

- A) $\frac{1}{4}$
- B) $\frac{4}{2}$
- C) $\frac{6}{2}$
- D) $\frac{2}{6}$



12- (D27) A turma de Joana resolveu fazer uma pesquisa sobre o tipo de filme que as crianças mais gostavam. Cada criança podia votar em um só tipo de filme. A tabela seguinte mostra o resultado da pesquisa com as meninas e com os meninos.

Tipo de filme	Número de votos	
	Meninas	Meninos
Aventura	6	10
Comédia	7	2
Desenho animado	5	5
Terror	2	4

Qual o tipo de filme preferido pelos meninos?

- (A) Aventura.
- (B) Comédia.
- (C) Desenho animado.
- (D) Terror.



**5º ANO DO ENSINO FUNDAMENTAL - SIMULADO
DIAGNÓSTICO/OUTUBRO**

Atenção!

NOME DO (A) ALUNO (A): _____

FOLHA DE RESPOSTAS

Bloco de Língua Portuguesa				
01	A	B	C	D
02	A	B	C	D
03	A	B	C	D
04	A	B	C	D
05	A	B	C	D
06	A	B	C	D
07	A	B	C	D
08	A	B	C	D
09	A	B	C	D
10	A	B	C	D
11	A	B	C	D
12	A	B	C	D

Bloco de Matemática				
01	A	B	C	D
02	A	B	C	D
03	A	B	C	D
04	A	B	C	D
05	A	B	C	D
06	A	B	C	D
07	A	B	C	D
08	A	B	C	D
09	A	B	C	D
10	A	B	C	D
11	A	B	C	D
12	A	B	C	D