

ATIVIDADES ORIENTADORAS

EDUCAÇÃO INFANTIL

G6



SEMEEL

SECRETARIA MUNICIPAL DE
EDUCAÇÃO, ESPORTE E LAZER

A mudança está em nossas mãos



UNIDADE ESCOLAR:

PROFESSORA

GRUPO ETÁRIO

G6

CÓDIGO BNCC

EI03ET03

EI03EF07

NOME:

HOJE É?

SEGUNDA

TERÇA

QUARTA

QUINTA

SEXTA

COMO ESTÁ O TEMPO HOJE?



DATA

/ /

ATIVIDADE 1

ACOMPANHE A LEITURA DO POEMA:

OS QUATRO ELEMENTOS

E AGORA VAMOS DESCOBRIR
E COM A CIÊNCIA BRINCAR,
QUAIS SÃO OS QUATRO ELEMENTOS,
ÁGUA, FOGO, TERRA E AR.


A ÁGUA QUE CORRE NO RIO.
A ÁGUA QUE VAI PARA O MAR,
A ÁGUA QUE VAIS BEBER,
A ÁGUA PARA TERRA REGAR.



A TERRA QUE COBRE O CHÃO
E FAZ A PLANTA CRESCER,
A TERRA PARA SEMEAR,
ALIMENTO PARA COLHER.



O AR QUE É BRISA, QUE É VENTO.
E VAI ENERGIA GERAR,
O VENTO QUE SOPRA AS VELAS,
E FAZ OS BARCOS ANDAR.



O FOGO QUE ARDE NA LAREIRA
E QUE FAZ A CASA AQUECER,
O FOGO QUE QUEIMA AS ÁRVORES
E FAZ A FLORESTA ARDER.



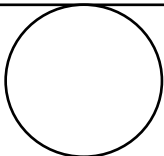
SÃO POIS QUATRO ELEMENTOS,
QUE A NATUREZA TEM,
TEMOS QUE OS RESPEITAR,
PARA O NOSSO PRÓPRIO BEM.

MARIA DO ROSÁRIO MACEDO

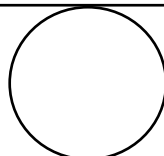
O POEMA FALA SOBRE OS QUATRO PRINCIPAIS ELEMENTOS DA NATUREZA, QUE SÃO:



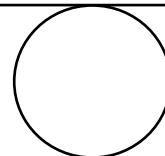
ÁGUA



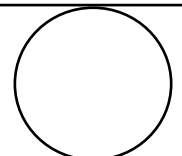
FOGO



TERRA



AR



ENCONTRE ESTAS PALAVRAS NO TEXTO ACIMA, PINTE CADA PALAVRA DE UMA COR, CONTE E ESCREVA NOS CÍRCULOS QUANTAS VEZES VOCÊ A PINTOU.



UNIDADE ESCOLAR:

PROFESSORA

GRUPO ETÁRIO

CÓDIGO BNCC

NOME:

HOJE É?

SEGUNDA TERÇA QUARTA QUINTA SEXTA

COMO ESTÁ O TEMPO HOJE?





DATA

/ /

ATIVIDADE 2

NESTES DESENHOS VOCÊ ENCONTRARÁ OS QUATRO **ELEMENTOS DA NATUREZA**. PINTE-OS NAS DUAS CENAS E CIRCULE OS 7 ERROS ENTRE AS IMAGENS.



resp: 1- MIOLO DA FLOR; 2- CHAMA DA FOQUEIRA;
3- LISTRA NO BALÃO; 4- NUVEM AO CENTRO;
5- DETALHE DO LAGO; 6 - LENHA DA FOQUEIRA
7- MOITA NO CANTO INFERIOR.

UNIDADE ESCOLAR:

PROFESSORA

GRUPO ETÁRIO

G6

CÓDIGO BNCC

EI03ET07

NOME:

HOJE É?

SEGUNDA

TERÇA

QUARTA

QUINTA

SEXTA

COMO ESTÁ O TEMPO HOJE?




DATA

/ /

ATIVIDADE 3

CONTE OS GRUPOS DE UMA DEZENA EM CADA QUADRO E CIRCULE. DEPOIS COMPLETE A TABELA COMO O MODELO:

FIGURAS	QUANTOS GRUPOS DE 10?	QUANTOS ELEMENTOS SOBRARAM?
	1	5
