

**PREFEITURA MUNICIPAL DE BOM JESUS DO ITABAPOANA-RJ**  
**SECRETARIA MUNICIPAL DE EDUCAÇÃO, ESPORTE E LAZER**

# **Atividades Orientadoras**



## **Educação de Jovens e Adultos**

### **FASE V**

UNIDADE ESCOLAR:

PROFESSORA

DATA

NOME:

FASE

CÓDIGO BNCC

**LP**

LÍNGUA PORTUGUESA



**TIRINHA**

Leia a tirinha abaixo. Se precisar, peça a ajuda de alguém para auxiliá-lo na leitura.



Figura 1 <https://kdmagens.com/imagens/viva-a->



Responda as questões.

**A** Você concorda com a Mafalda, de que devemos amar a nossa Pátria todos os dias? Justifique.

**B** Qual é a frase que a Mafalda grita?

**02** Durante todo o ano, diversas datas cívicas compõem o calendário de festividades do Brasil. No geral, são ocasiões comemoradas em todo o território nacional, que tiveram um impacto na História do país ou que são reconhecidas como parte do conjunto de valores nacionais. Quais são as datas cívicas? Marque.

Dia da Proclamação da República

Dia do Trabalho

Carnaval

Páscoa

Dia da Independência do Brasil

Natal

Dia da Bandeira

Dia de Tiradentes


Dia Internacional da Mulher

Ano Novo

Nos quadrinhos, o texto dos personagens aparece dentro de balões. Existem diferentes tipos de balões e cada um tem uma finalidade.

Os principais balões utilizados nos quadrinhos são:

- **balão-fala:** com linha reta ou arredondada, é o mais comum;
- **balão-pensamento:** com bolhas e geralmente em forma de nuvem, indica que o personagem está pensando;
- **balão-zero:** não tem contorno para representar a fala do personagem;
- **balão-berro:** com contorno ondulado para fora, indica voz alta ou grito;
- **balão-trêmulo:** com a linha do contorno retorcida, sugere medo ou insegurança na voz do personagem;
- **balões-intercalados:** no meio do balão de um personagem, aparece outro, como se fosse um diálogo.



03 Identifique o tipo de balão usado em cada um dos quadrinhos a seguir.

**A**

O que ele deveria fazer?  
Ir em frente sozinho,  
ou ir ver o que tinha  
acontecido com Andy?

PEANUTS WORLDWIDE LLC/DIST BY  
UNIVERSAL UCLUCK

SCHULZ, Charles.  
M. Minduim.  
*O Estado de S.Paulo*,  
19 jan. 2011.

**C**

UM PÃO  
VELHO?  
NÃO,  
MOSKA!  
NECA!  
COPO  
DE ÁGUA?  
DA  
TORNEIRA?  
NO!

ANGELI

ANGELI.  
Chiclete com  
Banana.  
*Folha de  
S.Paulo*, 25  
jul. 2006.

**B**

SEI  
EXATAMENTE  
A HORA DE  
CANTAR!

FERNANDO GONSALES

GONSALES,  
Fernando. Níquel  
Náusea. *Folha de  
S.Paulo*, 17 maio 2011.

**D**

VAMOS LÁ...  
SOMENTE EU  
E O GOLEIRO...

BIO

BIO. Jorge Bobo.  
*Central de tiras*.  
São Paulo: Via  
Lettera, 2003.



UNIDADE ESCOLAR:

PROFESSORA  DATA

NOME:

FASE  CÓDIGO BNCC

**MA MATEMÁTICA**



**NUMERAIS/TABELA/RETA NUMÉRICA**


**01** Observe a ilustração e responda às questões.

**A** Qual é o número da senha de quem foi chamado antes desse homem?

**B** Qual será o número da senha de quem for chamado depois dele?



**02** Observe os agrupamentos, complete as lacunas e responda: quantas bolinhas há no total?



1

Ou  
\_\_\_\_ unidades



1

Ou  
\_\_\_\_ unidades



3

Ou  
\_\_\_\_ unidades



5

No total há \_\_\_\_ bolinhas.

**03** Cátia, Jonas e Simone são operadores de caixa em um supermercado. Veja quantas moedas de R\$ 1,00 e cédulas de R\$ 1,00 e de R\$ 100,00 eles tinham no caixa no fim do dia e complete o quadro.

Nome do operador de caixa				Quantia total 
Cátia	7	0	5	
Jonas	8	9	0	
Simone	3	5	7	

**04** Usando somente algarismos, escreva os numerais que estão nos balões de fala.



Sete mil duzentos e quarenta e nove.


Dois mil e oitenta e quatro.



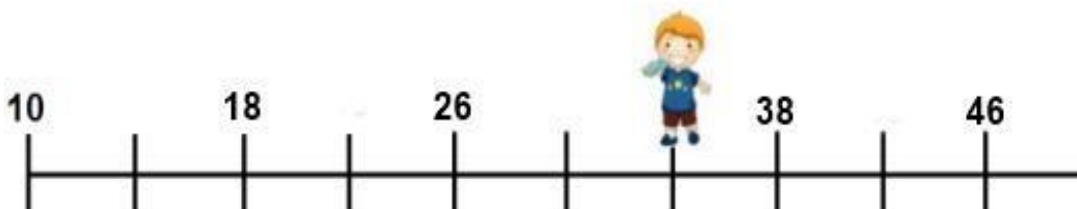

**05** Complete a reta numérica e escreva qual numeral a criança está escondendo.



Número escondido



Número escondido



Número escondido

UNIDADE ESCOLAR:

PROFESSORA

DATA

NOME:

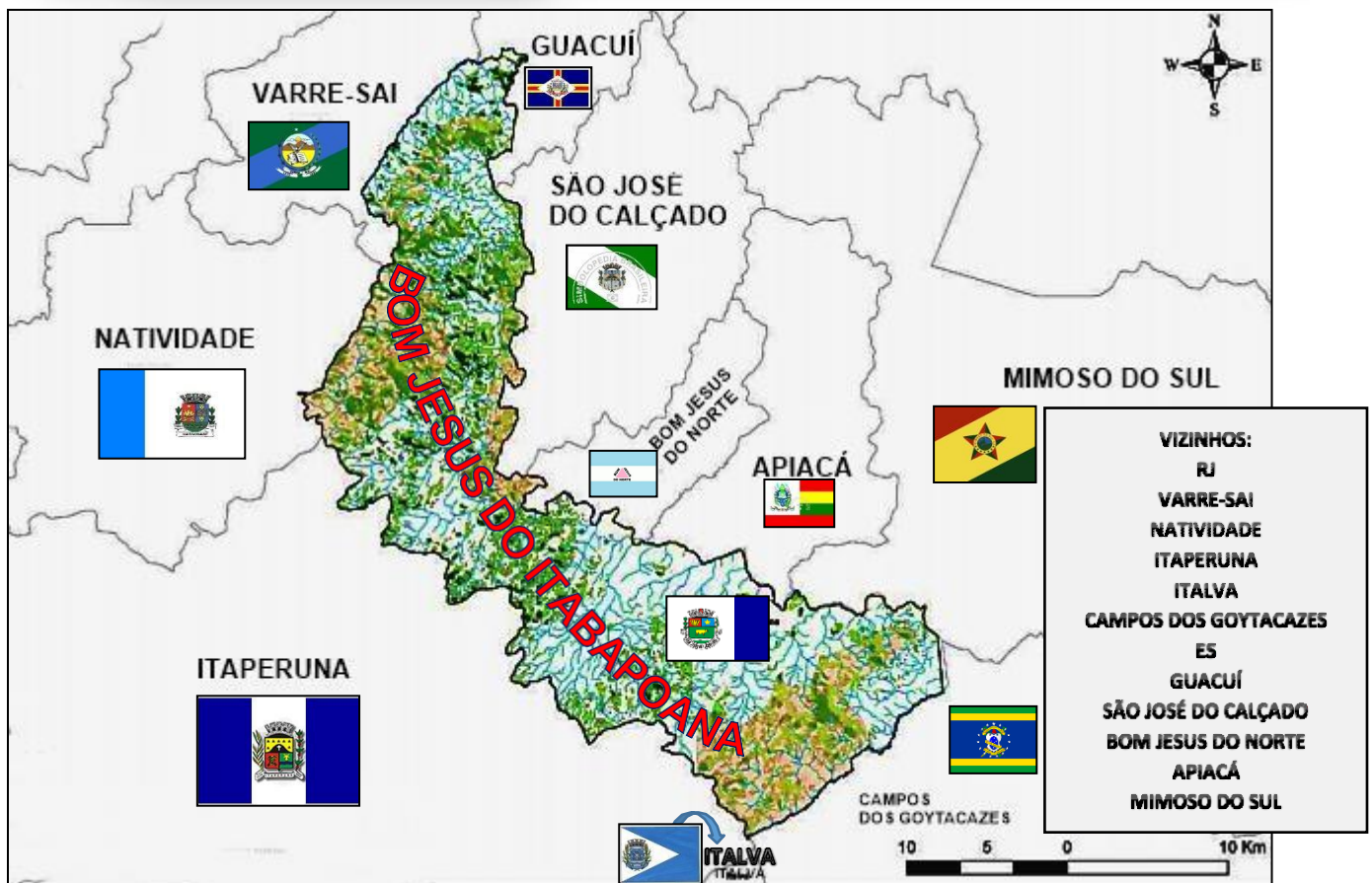
FASE

CÓDIGO BNCC EF04GE05

**CE GEOGRAFIA**



## LIMITES DO MUNICÍPIO



Observe o município de Bom Jesus do Itabapoana. Ele não está isolado. Existem outros municípios que são seus vizinhos.

Para separar um município de outro existem **limites**, também chamados de **divisas** ou **fronteiras**.

### Os limites entre estados e municípios

O limite marca a separação entre dois municípios ou estados. Podem ser constituídos de elementos naturais (rios e serras) ou construídos pelo ser humano (pontes ou estradas). Às vezes podem ser **linhas imaginárias**, apenas nos **mapas**. Observe os municípios vizinhos (isto é, que fazem limite com o nosso município e suas respectivas bandeiras).

# ATIVIDADE

Vivemos num mundo repleto de símbolos. Eles estão por toda parte. O símbolo é sempre uma representação. A bandeira é um símbolo que representa um povo, um país, um município, um time, nossos costumes e ideais.

A bandeira serve de elemento de união e de identidade.



Relacione as bandeiras a seus respectivos municípios.



1



2



3



4



5



6



7



8



9



10



11



VARRE-SAI



NATIVIDADE



ITAPERUNA



GUACUÍ



CAMPOS DOS GOYTACAZES



SÃO JOSÉ DO CALÇADO



BOM JESUS DO NORTE



APIACÁ



MIMOSO DO SUL



BOM JESUS DO ITABAPOANA



ITALVA



Quais são os municípios que fazem limites com o nosso município? Marque.



Italva



Campos dos Goytacazes



Guarapari



Piúma



Bom Jesus do Norte



São José do Calçado



Miracema



Qual é o rio que serve de limite entre os estados do Rio de Janeiro e Espírito Santo, através dos municípios de Bom Jesus do Itabapoana e Bom Jesus do Norte?

UNIDADE ESCOLAR:

PROFESSORA

DATA

NOME:

FASE

CÓDIGO BNCC

## HI HISTÓRIA



## OS SÍMBOLOS NACIONAIS

Segundo a Constituição brasileira, os símbolos oficiais do Brasil são: **a Bandeira Nacional, o Selo Nacional, o Brasão da República e o Hino Nacional.**

### A Bandeira Nacional

A atual Bandeira Nacional foi criada em 19 de novembro de 1889, após a Proclamação da República. Inspirada na antiga bandeira do império, ela foi projetada por Raimundo Teixeira Mendes e por Miguel Lemos e desenhada por Décio Vilares. As constelações que figuram na bandeira correspondem ao aspecto do céu da cidade do Rio de Janeiro em 15 de novembro de 1889. Cada uma das estrelas representa um estado da federação. A Bandeira Nacional pode ser apresentada em manifestações públicas e particulares, desde que tratada com respeito.



▲ A Bandeira Nacional fica permanentemente hasteada na Praça das Três Poderes, em Brasília (DF).



▲ A Bandeira Imperial do Brasil esteve em vigor entre 1822 e 1889.

### O Selo Nacional

Feito com base na esfera central da Bandeira Nacional, o Selo Nacional é utilizado para autenticar documentos oficiais, diplomas e certificados expedidos por escolas oficiais ou reconhecidas.



▲ O Selo Nacional não apresenta uma cor própria.

### O Brasão da República

O Brasão da República, ou Brasão de Armas, foi criado pelo engenheiro Artur Zauer na mesma data em que a Bandeira Nacional. Encomendado pelo presidente Deodoro da Fonseca, é um dos mais importantes símbolos republicanos. Seu uso é obrigatório no palácio da Presidência da República, no Congresso Nacional, nas prefeituras, nas assembleias legislativas, nas câmaras municipais e nos demais prédios públicos.



▲ No centro do Brasão da República está representada a constelação do Cruzeiro do Sul.

### O Hino Nacional

O Hino Nacional como o conhecemos hoje foi oficialmente reconhecido por um decreto de 1922, às vésperas do centenário da Independência. A letra foi composta por Joaquim Osório Duque Estrada e a música, pelo maestro Francisco Manuel da Silva. Comumente executado em solenidades e eventos oficiais, sua execução se tornou obrigatória, desde 2009, em escolas de Ensino Fundamental públicas e privadas, ao menos uma vez por semana





## ATIVIDADE



Quais são os símbolos nacionais do Brasil?

Empty rounded rectangular box for writing the answer to question 01.

02

Nossa atual bandeira foi criada em que data?

Empty rounded rectangular box for writing the answer to question 02.

O que diz a mensagem cifrada? Substitua os símbolos pelas palavras correspondentes e descubra.



BANDEIRA



PAÍS



SÍMBOLOS



SELO










HINO



BRASÃO



BRASILEIRO

O  NACIONAL  FAZ  
PARTE DOS  DO NOSSO  
, ASSIM COMO A   
DO BRASIL, O  E O   
NACIONAIS.



ROGÉRIO BORGES

ADAPTADO DE O ESTADO DE S. PAULO, 1º SET. 2007. ESTADINHO, P. 7.

03

Escreva a frase no espaço abaixo.

Empty rounded rectangular box for writing the answer to question 03.

04

Onde é utilizado o Selo Nacional?

Empty rounded rectangular box for writing the answer to question 04.

Complete a cruzadinha com as palavras em destaque no quadro.

Curiosidade:

A **Bandeira** Nacional é hasteada de manhã e **recolhida** na parte da tarde. Ela não pode ficar exposta à **noite** a não ser que esteja bem iluminada. É obrigatório o seu hasteamento em órgãos públicos como: **escolas, ministérios**, secretarias de governo e repartições públicas.

1

3

2

4

5

6

© SHARTEDES

