

PREFEITURA MUNICIPAL DE BOM JESUS DO ITABAPOANA-RJ
SECRETARIA MUNICIPAL DE EDUCAÇÃO, ESPORTE E LAZER

Atividades Orientadoras



Educação de Jovens e Adultos

FASE III

UNIDADE ESCOLAR:

PROFESSORA DATA

NOME:

FASE III CÓDIGO BNCC EF15LP03/EF03LP02

LP LÍNGUA PORTUGUESA



GÊNERO TEXTUAL:
INTERPRETAÇÃO DE TEXTO

A BANDEIRA NACIONAL

Com a Proclamação da República, era necessária a substituição dos símbolos nacionais que remetessem à monarquia.

Sendo assim, no dia 19 de novembro, quatro dias após a proclamação, a nova bandeira foi apresentada e, oficialmente, adotada como bandeira nacional. A nova bandeira foi adotada a partir do **Decreto nº 04**, assinado pelo presidente provisório Deodoro da Fonseca. Nesse decreto consta¹:



https://encryptedtbn0.gstatic.com/images?q=tbn:ANd9GcSsdP3LbkJWtsyCgXF_YN578NEu-AGohfEZ5w&usqp=CAU



<https://encrypted-tbn0.gstatic.com/images?q=tbn:ANd9GcTDJc7w-9qs1fmWO7ic1s7l-oYqLyojnGbxQQ&usqp=CAU>

de 1889, essa data foi escolhida como o Dia da Bandeira.

O **Dia da Bandeira**, comemorado anualmente no dia 19 de novembro, é uma homenagem à bandeira brasileira, que foi criada logo após a [Proclamação da República](#), em 15 de novembro de 1889. Assim, o Dia da Bandeira passou a ser comemorado somente após a Proclamação da República. Como a nova bandeira brasileira foi apresentada no dia **19 de novembro**

ATIVIDADE



01

O texto acima é um :

informativo

convite

poema

02

Qual o assunto do texto?

03

Em que dia comemoramos o dia da Bandeira?

04

Observe a palavra **Bandeira** e responda :

A

Qual a letra inicial?

B

Qual a letra final?

C

Quantas sílabas tem?

05

Separe em sílabas as palavras abaixo e conte-as:

A

Bandeira –

B

Símbolo –

C

Novembro –


D

Oficialmente –



As palavras **BANDEIRA** e **SÍMBOLO** vêm nos lembrar da regra

ortográfica, em que antes de “P” e “B” só se usa “m”.
Complete corretamente com “M” ou “N”.



ca____po

sa____to

ja____bo

ta____bor

ti____ta

bo____beiro

vi____te

sa____to

te____po cime____to

tene____te po____bo

lâ____pada ve____to

barba____te ra____pa

co____binado co____vite


o____tem

me____te

li____po

sa____ba

Complete a cruzadinha com as palavras do quadro:



- 1-tombo
- 2-bombom
- 3-compadre
- 4 bomba
- 5- empada

- 1- bombeiro
- 2- campeão
- 3- lâmpada
- 4- tambor
- 5- campo

UNIDADE ESCOLAR:

PROFESSORA DATA

NOME:

FASE CÓDIGO BNCC

MA MATEMÁTICA





SISTEMA DE NUMERAÇÃO



Em 19 de novembro de 2021, A Bandeira Nacional completará quantos anos ?

Os numerais assumem valores diferentes, dependendo da posição que ocupam. Observe o material abaixo.

Valor posicional			
UM	C	D	U
 1000	 100	 10	 1
Unidade de milhar	centena	dezena	unidade
1	8	8	9



9 unidades

8 dezenas = 80 unidades

8 centenas = 80 dezenas = 800 unidades

1 unidade de milhar = 10 centenas
= 100 dezenas = 1000 unidades

02

Agora faça como no modelo acima. Dê o valor posicional de cada numeral.

A

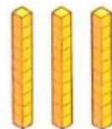
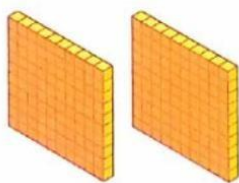

UM	C	D	U
	1	2	6

B

UM	C	D	U
3	3	3	3

03

Escreva o número representado pelo material de valor posicional:



04

Observe a quantia abaixo e responda:



a) Qual o valor em real?

R\$ _____, _____

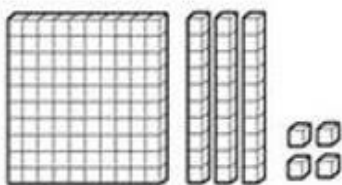
b) Essa quantia representa:

centena dezena

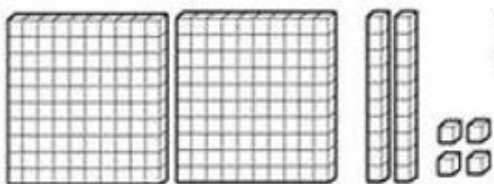
unidade

05

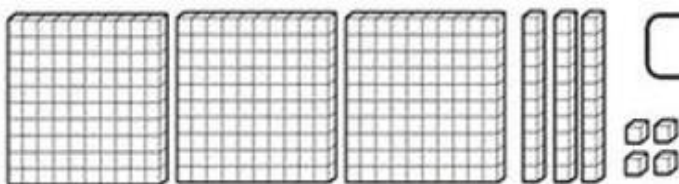
De acordo com a representação, complete :



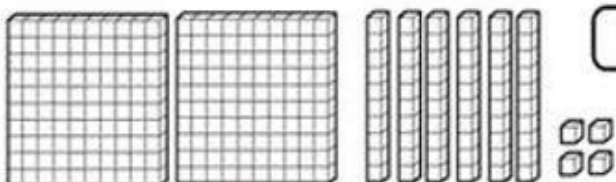
CENTENA, DEZENAS E UNIDADES



CENTENA, DEZENAS E UNIDADES



CENTENA, DEZENAS E UNIDADES



CENTENA, DEZENAS E UNIDADES

06

Arme e efetue:

286 + 73

C	D	U

238 - 56

C	D	U

331 + 89

C	D	U

UNIDADE ESCOLAR:

PROFESSORA DATA

NOME:

FASE CÓDIGO BNCC

HI HISTÓRIA



Os Símbolos Nacionais



Símbolos Nacionais

São manifestações gráficas e musicais, de importante valor histórico, criadas para transmitir o sentimento de união nacional e mostrar a soberania do país. Foram definidos na Lei 5.700 de 1º de setembro de 1971.

O Selo Nacional do Brasil, é um símbolo usado pelo governo em documentos oficiais com o objetivo de autenticar os atos governamentais. Foi criado no Governo Deodoro da Fonseca.

As Armas Nacionais, também conhecidas como Brasão da República, são usadas obrigatoriamente pelas Forças Armadas e os Três Poderes (Executivo, Legislativo e Judiciário).

Ao lado da Bandeira Nacional, o Hino Nacional é um símbolo muito conhecido pela população brasileira. Sua letra foi composta por Joaquim Osório Duque Estrada e musicada por Francisco Manuel da Silva. O Hino foi escolhido por meio de um concurso ocorrido em 1909.



A Bandeira brasileira atual foi concebida logo após a Proclamação da República e foi instituída em 19 de novembro de 1889. Nessa data se comemora o Dia da Bandeira.



1) Quais são os símbolos Nacionais?


ATIVIDADE



2) Qual a lei que definiu os Símbolos Nacionais no Brasil?

--

3) Complete a cruzadinha com as cores da Bandeira Nacional.



UNIDADE ESCOLAR:

PROFESSORA DATA

NOME:

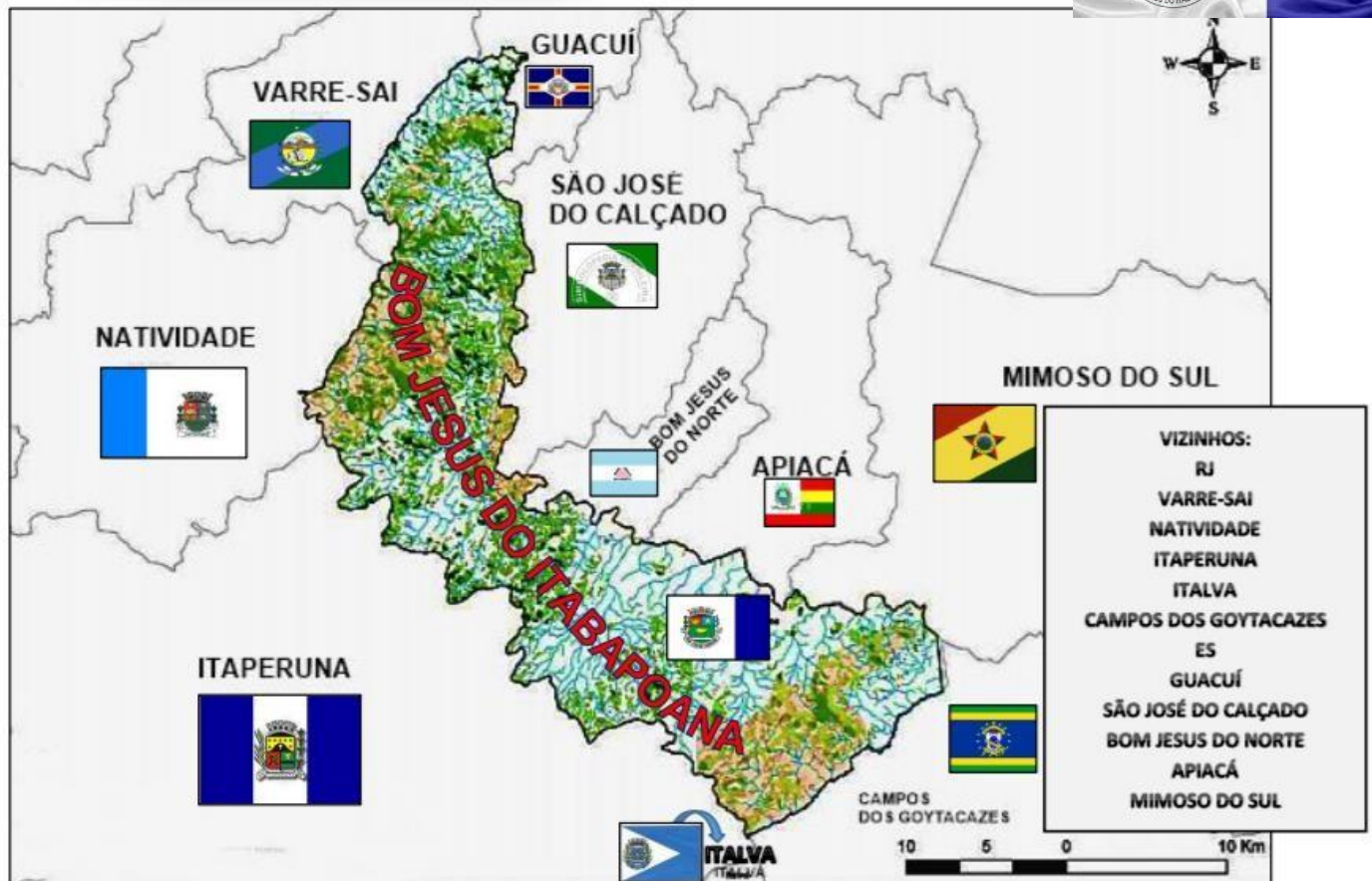
FASE CÓDIGO BNCC

CE GEOGRAFIA



O MUNICÍPIO E SUAS FRONTEIRAS.

NOSSO MUNICÍPIO: Bom Jesus do Itabapoana



As fronteiras são os limites, a separação, entre Municípios; Estados e País. Às vezes esses limites são apenas imaginários ou algum elemento natural como, por exemplo, o Rio Itabapoana, que é o limite entre os **municípios de Bom Jesus do Norte (ES) e Bom Jesus do Itabapoana (RJ)**, e também entre os estados do **Rio de Janeiro e Espírito Santo**.

ATIVIDADE



Relacione as bandeiras aos municípios aos quais pertencem.



MIMOSO DO SUL

ITAPERUNA

VARRE-SAI

CAMPOS DOS GOYTACAZES

APIACÁ

SÃO JOSÉ DO CALÇADO

BOM JESUS DO NORTE

BOM JESUS DO ITABAPOANA

NATIVIDADE

ITALVA

GUACUÍ



Marque com X a resposta certa:

A O município vizinho mais próximo de Bom Jesus do Itabapoana é:

Itaperuna

Italva

Bom Jesus do Norte

B O rio que limita os municípios de Bom Jesus do Norte e Bom Jesus do Itabapoana é:

Rio Muriaé

Rio Itaperuna

Rio Itabapoana