

PREFEITURA MUNICIPAL DE BOM JESUS DO ITABAPOANA-RJ  
SECRETARIA MUNICIPAL DE EDUCAÇÃO, ESPORTE E LAZER

**SEMEEL**

*A mudança está em nossas mãos*

# Atividades Orientadoras



**1º ano**

# Ensino Fundamental

UNIDADE ESCOLAR:

PROFESSORA

ANO DE ESCOLARIDADE

1º ANO

DATA

SEMANA 2 (08 a 12/11)

NOME:

HOJE É?

SEGUNDA

TERÇA

QUARTA

QUINTA

SEXTA


CÓDIGO BNCC

(EF15LP03) (EF01LP13)



## LÍNGUA PORTUGUESA

### 1. LEIA A TIRINHA ABAIXO:



 DE ACORDO COM O TEXTO ACIMA, RESPONDA AS QUESTÕES:

A) EM QUE DIA E ANO FOI PROCLAMADA A REPÚBLICA?

B) QUEM PROCLAMOU A REPÚBLICA NO NOSSO PAÍS?

2. REGISTRE NO QUADRO QUANTAS CONSOANTES TÊM AS PALAVRAS ABAIXO:

**PROCLAMAÇÃO DA REPÚBLICA**

3. COMPLETE COM AS VOGAIS **A, E, I, O, U**:



B R  S  L

N  V  M B R

novembro  
15



R  P  B L  C

4. PROCURE NO CAÇA PALAVRAS , AS PALAVRAS QUE ESTÃO NO QUADRO.

REPÚBLICA DEODORO ELEIÇÃO NOVEMBRO DEMOCRACIA



R R E P Ú B L I C A R O S B B  
D D L B O I P E B R U X A S E  
R R E R P C O N T E N T E L L  
A A I O D E M O C R A C I A S  
T T Ç X D A N S E P O I S N A  
E E A A F O E L E I Ç Ã O S S  
N O V E M B R O O U R A S E Y  
N N O S V A S O O U R A S E Y



# ORTOGRAFIA "LH"



✚ LEIA O TEXTO ABAIXO:

**BOLHA DE SABÃO**

**OLHA A BOLHA DE SABÃO**

**NA PONTA DO CANUDO DE MAMÃO.**

**ARCO-ÍRIS QUE SOBE E SE ESPALHA,**

**ESPELHO QUE FOGUE E ESTOURA.**

**OLHA A BOLHA DE SABÃO,**

**QUE SUMIU MOLHANDO A MINHA MÃO!**



CARMEM FARACO RODRIGUES

1. PINTE NO TEXTO ACIMA TODAS AS PALAVRAS COM LH.
2. ESCREVA NO QUADRO AS PALAVRAS CORRESPONDENTES ÀS SÍLABAS LHA, LHE, LHI, LHO, LHU.

ILHA  
ALHO  
BILHETE  
FILHINHO  
OVELHA  
GALHO  
VELHINHO  
ORELHUDO  
MILHO  
RAMALHETE  
JOELHO  
LHAMA  
ABELHUDO

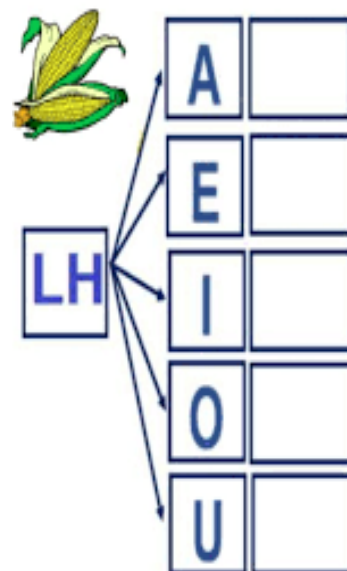
_____	LHA
_____	
_____	

_____	LHE
_____	
_____	

_____	LHI
_____	

_____	LHO
_____	
_____	


_____	LHU
_____	
_____	



3. LIGUE A FIGURA COM O NOME DOS DESENHOS DE FORMA CORRETA.



FOLHA  
FILHA



CHOCALHO  
GALHO



OLHO  
MOLHO



ILHA  
MARAVILHA



MEDALHA  
ESPANTALHO



REPOLHO  
TOALHA



COELHO  
JOELHO



JULHO  
TELHA



MILHO  
FILHO



PILHA  
PIOLHO



MEDALHA  
MALHA



TALHA  
TOALHA

AGORA ESCREVA NO ESPAÇO ABAIXO O NOME DAS FIGURAS DA ATIVIDADE ACIMA:

---

---

---

---

---



UNIDADE ESCOLAR:

PROFESSORA

ANO DE ESCOLARIDADE

1º ANO

DATA

NOME:

HOJE É?

SEGUNDA

TERÇA

QUARTA

QUINTA

SEXTA

CÓDIGO BNCC

(EF01MA06) (EF01MA17)



# MATEMÁTICA

## 1. OBSERVE O CALENDÁRIO ABAIXO E RESPONDA AS QUESTÕES!

A) QUAL O MÊS QUE SE REFERE O CALENDÁRIO?

\_\_\_\_\_

B) QUAL DIA DA SEMANA SERÁ DIA 15 DE NOVEMBRO?

\_\_\_\_\_

C) POR QUE DIA 15 É FERIADO?

\_\_\_\_\_

D) QUAIS DIAS CAEM NO DOMINGO?

\_\_\_\_\_

E) QUANTOS DIAS TEM O MÊS DE NOVEMBRO?

\_\_\_\_\_



**CALENDÁRIO 2021**  
**NOVEMBRO**

DATAS COMEMORATIVAS DO MÊS:  
DIA 2 - FINADOS  
DIA 15 - PROCLAMAÇÃO DA REPÚBLICA

DOM	SEG	TER	QUA	QUI	SEX	SÁB
	1	2	3	4	5	6
7	8	9	10	11	12	13
14	15	16	17	18	19	20
21	22	23	24	25	26	27
28	29	30				

## 2. ESCREVA OS DIAS DA SEMANA QUE VÊM ANTES DE:

SEGUNDA- FEIRA



\_\_\_\_\_

QUARTA-FEIRA



\_\_\_\_\_

SEXTA- FEIRA



\_\_\_\_\_



3. FAÇA O DESAFIO ABAIXO, REALIZANDO O QUE SE PEDE:

CONTE OS DIAS DA SEMANA:

DOMINGO

SEGUNDA

TERÇA

QUARTA

QUINTA

SEXTA

SÁBADO

QUEM VEM ENTRE?

5

7

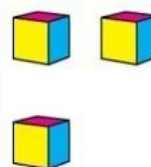

22

24

QUAL É O NÚMERO?

DEZENAS

UNIDADES




DEZENAS

UNIDADES











40

42

35

37

PINTE DE AZUL OS CÍRCULOS DO MESMO TAMANHO



**4. CALCULE E ESCREVA O RESULTADO POR EXTENSO:**

10+9= **DEZENOVE**

10+7= \_\_\_\_\_

10+1= \_\_\_\_\_

10+6= \_\_\_\_\_

10+2= \_\_\_\_\_

10+10= \_\_\_\_\_

10+4= \_\_\_\_\_


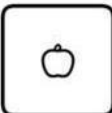
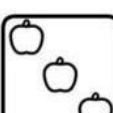
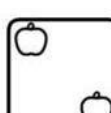

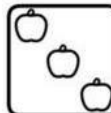



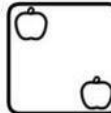






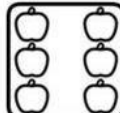



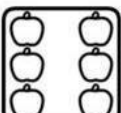

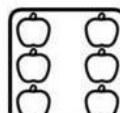
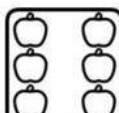
10+5= \_\_\_\_\_



10+8= \_\_\_\_\_

10+3= \_\_\_\_\_

**5. VAMOS RESOLVER AS ADIÇÕES:**



  _____ + _____ = _____	  _____ + _____ = _____	  _____ + _____ = _____
  _____ + _____ = _____	  _____ + _____ = _____	  _____ + _____ = _____
  _____ + _____ = _____	  _____ + _____ = _____	  _____ + _____ = _____
  _____ + _____ = _____	  _____ + _____ = _____	  _____ + _____ = _____





UNIDADE ESCOLAR:

PROFESSORA  ANO DE ESCOLARIDADE  DATA   
1º ANO

NOME:

HOJE É?  CÓDIGO BNCC   
SEGUNDA TERÇA QUARTA QUINTA SEXTA (EF01HI08)

 **HISTÓRIA**



**PARA SABER MAIS**



NO DIA 15 DE NOVEMBRO DE 1889, O BRASIL PASSOU POR UMA TRANSFORMAÇÃO QUE MUDARIA PARA SEMPRE O RUMO DA HISTÓRIA DO PAÍS. ESSE MARCO TÃO IMPORTANTE FOI A **PROCLAMAÇÃO DA REPÚBLICA**.



JUNTO COM SEUS COLEGAS REPUBLICANOS, O **MARECHAL DEODORO DA FONSECA** ENCERROU O PERÍODO DA MONARQUIA, INAUGURANDO A REPÚBLICA BRASILEIRA. POR ISSO, ELE É CONSIDERADO O PRIMEIRO PRESIDENTE DO BRASIL.

APÓS ESSA DATA, O PAÍS DEIXOU DE SER GOVERNADO POR UM MONARCA E PASSOU A SER GOVERNADO POR UM POLÍTICO ELEITO POR MEIO DE ELEIÇÕES. FOI O COMEÇO DO SISTEMA POLÍTICO QUE CONHECEMOS ATUALMENTE.

1. DEPOIS DE REALIZAR A LEITURA DO TEXTO ACIMA, RESPONDA:

A) QUEM FOI CONSIDERADO O PRIMEIRO PRESIDENTE DO BRASIL?

B) PORQUE ESSA DATA FOI TÃO IMPORTANTE PARA A HISTÓRIA?




C) COMO ELEGEMOS O GOVERNANTE ATUALMENTE?

D) EM QUE ANO OCORREU A PROCLAMAÇÃO DA REPÚBLICA?

2 DECIFRE O ENIGMA!!!

✚ ELE FOI UM IMPORTANTE PERSONAGEM DA HISTÓRIA DO BRASIL!

✚ DESCUBRA QUEM É ELE COMPLETANDO A CRUZADINHA COM A LETRA INICIAL DE CADA FIGURA.



<https://www.cantinhoeducativo.com.br/2013/11/atividades-proclamacao-da-republica.html>



UNIDADE ESCOLAR:

PROFESSORA  ANO DE ESCOLARIDADE  DATA

1º ANO

NOME:

HOJE É?

SEGUNDA  TERÇA  QUARTA  QUINTA  SEXTA

CÓDIGO BNCC

(EF15AR01)



# ARTE

 **JOGO DOS 7 ERROS!!! ENCONTRE OS ERROS NA FIGURA ABAIXO E DEPOIS PINTE BEM BONITO.**

