

PREFEITURA MUNICIPAL DE BOM JESUS DO ITABAPOANA-RJ
SECRETARIA MUNICIPAL DE EDUCAÇÃO, ESPORTE E LAZER

SEMEEL

A mudança está em nossas mãos

Atividades Orientadoras



3º
ano



Ensino Fundamental

UNIDADE ESCOLAR:

PROFESSORA

ANO DE ESCOLARIDADE

3º ANO

DATA

3ª SEMANA (15 a 19/11)

NOME:

HOJE É?

SEGUNDA

TERÇA

QUARTA

QUINTA

SEXTA

CÓDIGO BNCC

EF15LP15 – EF15LP16 – EF35LP05 – EF15LP03



LÍNGUA PORTUGUESA


1- Leia o texto:

Mariana...

O mundo de Mariana é mar, rio e ar...

Mariana é negra, alegre, sonhadora e gosta da sua cor.

Mariana carrega no nome o mar, o rio e ri o tempo todo.



A menina sonha com a liberdade. Seu sonho atravessa o Oceano Atlântico e encontra a mãe - África linda e livre. Mariana é mar, rio, ar e voa na imaginação.

*Trecho extraído da obra Meninas Negras de Madu Costa
Editora Maza Edições*

2- Interpretando o texto:

a) A menina da história chama-se:

() Maria.

() Marina.

() Mariana.

() Mari.

b) O mundo de Mariana é:

() Marca, rio e mar.

() Março, rindo e ar.

() Mar, rio e ar.

c) Mariana é uma menina:

() Parda.

() Negra.

() Branca.



3- Complete as frases:

- a) Mariana é _____, _____ e gosta de sua cor.
- b) A menina sonha com a _____.
- c) Mariana é _____, _____, _____ e voa na imaginação.
- d) Mariana sonha:
- () Com o mundo mais justo. () Com Liberdade.
- () Ter uma boneca. () Ganhar uma bicicleta.

4- Na frase "**Na escola**, a professora conta que os negros vieram da África." A expressão grifada indica:

- () Lugar. () Tempo.
- () Causa. () Modo.

5- Mariana aprendeu que os negros vieram da:

- () Europa. () Ásia.
- () África. () América.



6- Leia a frase com atenção:

Mariana é alegre e sonhadora.

- a) Qual é o verbo da frase? _____
- b) Qual é o tempo verbal? _____
- c) Pinte os adjetivos na frase acima.

7- Conjugué o verbo SONHAR nos tempos:

PRESENTE	PRETÉRITO (Passado)	FUTURO
EU sonho	EU sonhava	EU sonharei
TU	TU	TU
ELE	ELE	ELE
NÓS	NÓS	NÓS
VÓS	VÓS	VÓS
ELES	ELES	ELES

Arrase na conjugação dos verbos! Você é capaz!!!

Revisando...

Ortografia AR, ER, IR, OR ou UR.

4- Circule no texto palavras com AR, ER e OR.


5- Acrescente a letra R e forme novas palavras:

Copo	Corpo
cata	
maca	
baba	



6- Complete as palavras com as sílabas em AR, ER, IR, OR e UR.

___so	___vilha	___gola
___dem	___mário	___co
___quiteto	___mão	___te



Ortografia R ou RR

8- Complete as palavras com R ou RR:

No começo eu sou forte, por isso, fico sozinho!

REI

Já no meio, entre as vogais, eu começo a tremer e fico fraco. **ZERO.**



Juntos entre as vogais ficamos bem fortes RR- **CARRO**. Nós nunca aparecemos juntos no início nem no final de uma palavra.

TE__A	FE__ADURA	SOCO__O
BA__ATA	CO__AÇÃO	CACHO__O
CO__ER	MA__ECO	A__AME
JA__A	__UA	BO__ACHA
__ÉGUA	FE__O	BI__A
JACA__É	BU__O	__ATO
__IO	__ODA	CA__OÇA
ZO__O	CADEI__A	__OJÃO
MACA__ÃO	TANGE__INA	GELADEI__A

9- Leia as palavras:

com R/RR

Rato	Resto
Rodo	Arroz
Carro	Ferro
Rede	Barro
Parede	Barata
Faro	Beterraba
Escuro	Ferro

AR ER IR OR UR

Armário	Marca	Partir
Porta	Curso	Perto
Carta	Forte	Construir
Árvore	Orgulho	Urbano
Circo	Urso	Conhecer

UNIDADE ESCOLAR:

PROFESSORA

ANO DE ESCOLARIDADE DATA

3º ANO

NOME:

HOJE É?

SEGUNDA TERÇA QUARTA QUINTA SEXTA

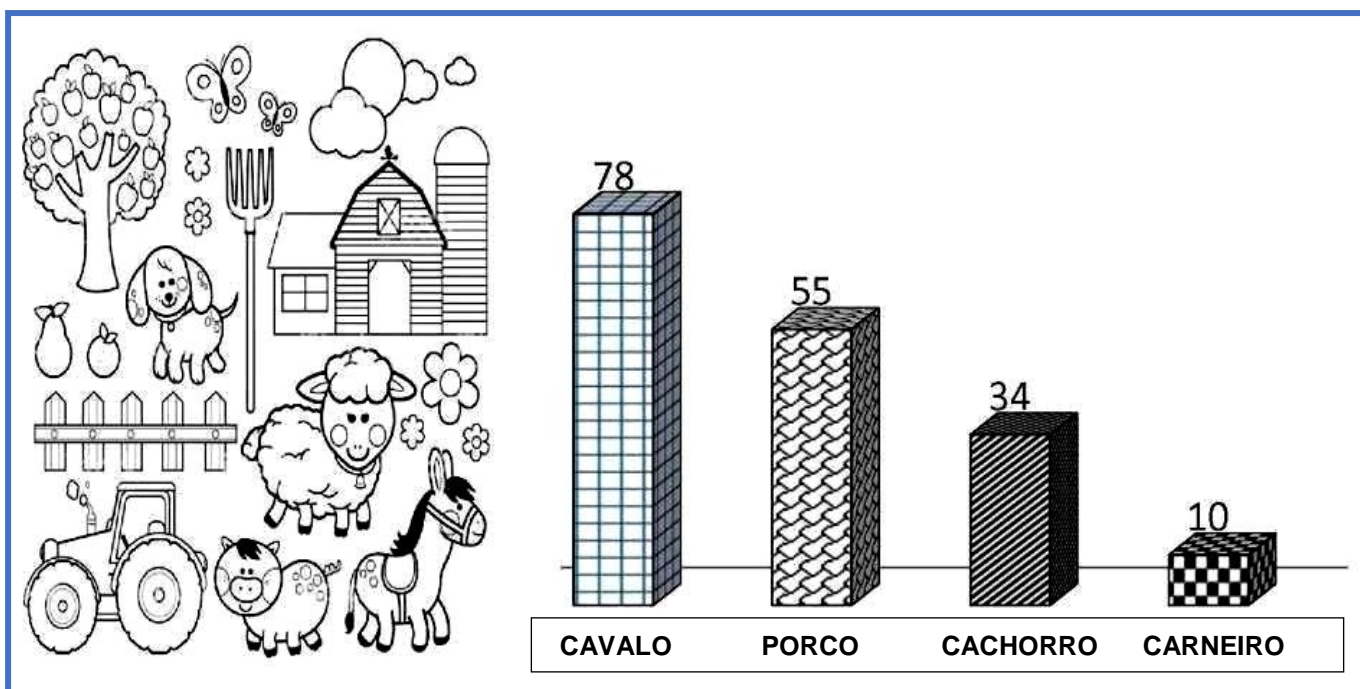
CÓDIGO BNCC

EF03MA27 – EF03MA03 – EF03MA04 – EF03MA01



MATEMÁTICA

1- Observe o gráfico que mostra o animal preferido pelos alunos do 3ºano e responda:



- Qual foi o animal mais votado? _____
- Qual foi o animal menos votado? _____
- Quantos votos teve o cachorro? _____
- Qual animal teve 10 votos? _____
- Qual a diferença entre o cavalo e o porco? _____
- E a diferença entre o porco e o carneiro? _____

CÁLCULO

e)

CÁLCULO

f)

2- Observe os numerais:

488 - 250 - 180 - 350 - 100 - 265 - 550 - 450 - 90

a) Escreva-os em ordem crescente (do menor para o maior):

b) Escreva-os em ordem decrescente (do maior para o menor):

3- Resolva os probleminhas:

a) Na biblioteca da escola de Mariana chegaram 36 livros novos. Ela distribuirá estes livros em 3 prateleiras. Quantos livros serão colocados em cada prateleira?


Cálculo



Resposta:

b) Miguel, irmão de Mariana, tem 3 carrinhos e vai repartir entre 3 amigos. Quantos carrinhos cada amigo receberá?

Cálculo



Resposta:

4- Arme e efetue as operações:

a) $203 + 219 =$ _____

b) $428 - 165 =$ _____

c) $425 \times 4 =$ _____

d) $96 \div 3 =$ _____

a)	b)
c)	d)


5- Complete os quadros abaixo:

ANTECESSOR	-1
	280
	321
	648
	968
	455
	741

SUCESSOR	+1
263	
852	
693	
334	
298	
328	

6- Faça os cálculos necessários:

DEZ ANTES		DEZ DEPOIS
130	140	
	265	
	611	
	587	
	222	



7- Escreva o nome dos numerais por extenso:

- a) 140 _____
- b) 265 _____
- c) 611 _____
- d) 587 _____
- e) 222 _____



UNIDADE ESCOLAR:

PROFESSORA

ANO DE ESCOLARIDADE DATA

3º ANO

NOME:

HOJE É?

CÓDIGO BNCC

SEGUNDA

TERÇA

QUARTA

QUINTA

SEXTA

EF03HI03



HISTÓRIA



1- Leia o texto:

O herói negro

O dia 20 de novembro é muito especial para população negra brasileira. É a data em que o Brasil reverencia o heroísmo de Zumbi de Palmares, símbolo maior da resistência e da luta dos negros contra a escravidão.

Zumbi nasceu livre em Palmares no ano de 1655, mas foi capturado ainda bebê e entregue a um padre jesuíta. Batizado com o nome de Francisco, ele teve educação cristã e estudou português e latim. Mas não abandonou as raízes. Com 15 anos, Zumbi voltou ao Quilombo dos Palmares, onde se tornou estrategista militar.

Em 20 de novembro de 1695, depois de ser traído por um companheiro, foi preso e morto pelas tropas portuguesas.

O Quilombo dos Palmares estava localizado na região da Serra da Barriga, que atualmente, faz parte do município de UNIÃO DOS PALMARES no estado de ALAGOAS.

Era constituído por quilombolas (escravos fugitivos das fazendas que viviam nos quilombos) que tinham sido escravos em fazendas das capitanias da Bahia e Pernambuco. Tornou-se símbolo da resistência negra à escravidão.

1- Coloque (V) se a frase for verdadeira ou (F) se for falsa:

- () Zumbi não representa nada para os negros brasileiros.
- () Com 19 anos, Zumbi voltou ao Quilombo dos Palmares.
- () O Quilombo era situado no interior da Bahia.
- () Zumbi nasceu em 1655.

2- Zumbi dos Palmares é considerado como:

- () Médico do futuro.
- () Homem negro.
- () Herói negro.

3- No dia 20 de novembro é comemorado:

- () O dia da Pátria.
- () O dia do Zumbi.
- () O dia da Consciência Negra.





UNIDADE ESCOLAR:

PROFESSORA

ANO DE ESCOLARIDADE

3º ANO

DATA

NOME:

HOJE É?

SEGUNDA

TERÇA

QUARTA

QUINTA

SEXTA

CÓDIGO BNCC

EF15AR02 - EF15AR04



ARTE

Mosaico é uma arte decorativa que consiste em criar figuras geométricas ou abstratas com pequenos fragmentos de materiais. Essa técnica é aplicada em superfícies planas como pisos, paredes e quadros, além de esculturas.

- Crie o seu mosaico, com o tema consciência negra, utilizando papel colorido, E.V.A picado, folha de revista, papel de presente, etc. Recorte e cole os pedacinhos preenchendo todo o desenho. Escolha uma cor para preencher o fundo. Seja bem criativo(a)!

Sugestão:



20 de novembro

**Consciência
Negra**

