

PREFEITURA MUNICIPAL DE BOM JESUS DO ITABAPOANA-RJ
SECRETARIA MUNICIPAL DE EDUCAÇÃO, ESPORTE E LAZER

Atividades Orientadoras



Educação de Jovens e Adultos

FASE II

UNIDADE ESCOLAR:

PROFESSORA DATA

NOME:

FASE CÓDIGO BNCC

LP

LÍNGUA PORTUGUESA

**Interpretação de Texto
REVISÃO**

**MÊS DE COMBATE AO CÂNCER DE
PELE**

**DEZEMBRO
LARANJA** 

**LEIA A REPORTAGEM ABAIXO. PEÇA AJUDA,
CASO NECESSÁRIO.**

MARÍLIA GABRIELA DESCOBRE CÂNCER NO NARIZ E PASSA POR CIRURGIA PARA RETIRADA DE TUMOR



A APRESENTADORA E ATRIZ, MARÍLIA GABRIELA, DE 72 ANOS, FOI DIAGNOSTICADA COM CÂNCER NO NARIZ E PASSOU POR CIRURGIA PARA RETIRADA DO TUMOR NESTA SEGUNDA-FEIRA (8). NO INSTAGRAM, A APRESENTADORA PUBLICOU UMA FOTO COM OS CURATIVOS PÓS-CIRÚRGICOS. DISSE QUE JÁ RECEBEU ALTA E AGRADECEU A EQUIPE MÉDICA.

ELA HAVIA PROCURADO SEU MÉDICO PORQUE ACHAVA QUE TINHA UMA ESPINHA NO NARIZ. "MEU QUERIDO DR. OTÁVIO NÃO GOSTOU DO QUE VIU E ME MANDOU PARA EXAMES APROFUNDADOS QUE RESULTARAM, UMA SEMANA E MEIA DEPOIS, EM UMA CIRURGIA PARA RETIRADA DE UM SORRATEIRO CARCINOMA BASOCELULAR", ESCREVEU. **CARCINOMA BASOCELULAR É O TIPO MAIS COMUM DE CÂNCER DE PELE**, CORRESPONDENTE A 75% DOS CASOS. TEM, TAMBÉM, GRANDES ÍNDICES DE CURA. DESDE O DIAGNÓSTICO ATÉ A CIRURGIA, A APRESENTADORA DESABAFAVA QUE PASSOU DIAS ANGUSTIANTES. "PASSEI UMA SEMANA BEM ESTRESSANTE, ATÉ HOJE. RECEBI ALTA AGORA A POUCO. TENHO UM CHUMAÇO ME

ENTUPINDO O NARIZ QUE DEVE FICAR ASSIM ATÉ A SEXTA-FEIRA (12)". ELA TAMBÉM DEU UM CONSELHO PARA OS SEGUIDORES: O USO CONTÍNUO DE PROTETOR SOLAR, "MESMO DENTRO DE CASA". O CARCINOMA BASOCELULAR É PROVOCADO PELA EXPOSIÇÃO AO SOL.

<https://g1.globo.com/google/amp/pop-arte/noticia/2021/03/09/marilia-gabriela-descobre-cancer-no-nariz-e-passa-por-cirurgia-para-retirada.ghtml>

ATIVIDADES

01 QUAL É O GÊNERO TEXTUAL APRESENTADO?

- TIRINHA
- REPORTAGEM
- LISTA

02 COMPLETE COM A VOGAL **E** E DESCUBRA QUAL O ASSUNTO DO TEXTO.

CÂNC R D P L

➤ AGORA, SEPRE AS SÍLABAS:

CÂNCER
PELE

<input type="text"/>	<input type="text"/>
<input type="text"/>	<input type="text"/>

03 EM QUAL PARTE DO CORPO APARECEU O CÂNCER DE PELE EM MARÍLIA GABRIELA? MARQUE.

NARIZ

BOCA

ORELHA

04 QUANTAS LETRAS TEM O NOME?

MARÍLIA GABRIELA

05 QUAL A ÚLTIMA PALAVRA DO TEXTO?

ORTOGRAFANDO

07 COMPLETE COM AS LETRAS INDICADAS E LEIA FAZENDO A COMPARAÇÃO.

B

____ATO

____ASTA

____OTE

____ODE

____ULA

____ICO

P

____ATO

____ASTA

____OTE

____ODE

____ULA

____ICO

🌈 COMPLETE COM **B** OU **P**.

____RINCO

____OLO

____EIXE

____ENTE

____ONECA

____OSTE

____RATO

____ARCO

____ANANA

____ETECA

____OI

____OTÃO

____ANELA

____OMBA

____ICUDO

VAMOS RELEMBRAR!
ANTES DE **P E B**, SÓ **M** DEVO ESCREVER.

08

COMPLETE COM **M** OU **N**. FIQUE DE OLHO NA REGRINHA ACIMA!

PI___TINHO

PO___TE

TA___BOR

BA___DEIRA

SA___BISTA

CA___PESTRE

TA___BÉM

FU___DO

BO___BA

MORA___GO

SA___BA

CI___TO

CO___BOIO

TE___PO

ME___TIRA

CA___TIGA

LÂ___PADA

CE___TRO

✚ VAMOS TREINAR A SEPARAÇÃO DE SÍLABAS. QUE TAL?

BOMBA _____

FUNDO _____

CENTRO _____

PONTE _____

BANANA _____

ESCOLA _____

CABELO _____

CEBOLA _____



UNIDADE ESCOLAR:

PROFESSORA DATA

NOME:

FASE CÓDIGO BNCC

MA

MATEMÁTICA

REVISÃO

OBSERVE O CALENDÁRIO E RESPONDA.

1) QUANTOS DIAS TERÁ O MÊS DE DEZEMBRO?

30 29 31

2) OS DIAS 7, 14, 21 E 28 CAIRÃO EM QUAL DIA DA SEMANA ?

- TERÇA-FEIRA
 QUINTA-FEIRA
 SEXTA-FEIRA

DEZEMBRO

DOM	SEG	TER	QUA	QUI	SEX	SÁB
			1	2	3	4
5	6	7	8	9	10	11
12	13	14	15	16	17	18
19	20	21	22	23	24	25
26	27	28	29	30	31	1
2	3	4	5	6	7	8

● 4: Nova ● 10: Cresc ○ 19: Cheia ● 26: Ming

3) EM QUE DIA DO MÊS COMEMORAMOS O FERIADO DE NATAL?

15 22 25

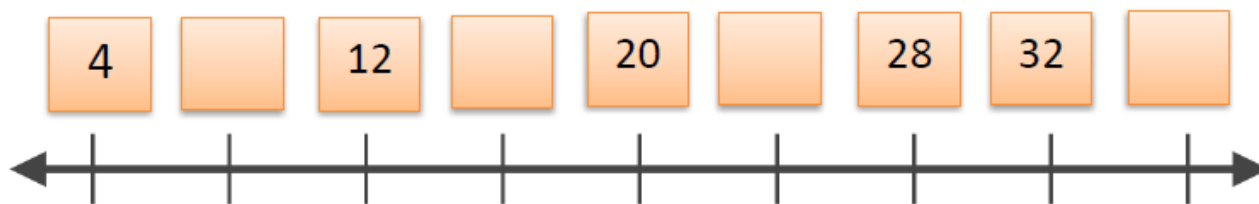
4) O PRIMEIRO DIA DO MÊS CAIRÁ EM QUAL DIA DA SEMANA?

SEGUNDA-FEIRA TERÇA-FEIRA QUARTA-FEIRA

5) QUANTAS SEMANAS TERÁ O MÊS DE DEZEMBRO?

- QUATRO SEMANAS
 CINCO SEMANAS

6) COMPLETE A SEQUÊNCIA DA RETA NUMÉRICA CORRETAMENTE.



❖ A RETA NUMÉRICA ESTÁ SENDO CONTADA DE:

() 3 EM 3

() 4 EM 4

() 5 EM 5



7) LIGUE AS OPERAÇÕES AOS RESULTADOS CORRETOS.

$3 \times 1 =$

$2 \times 2 =$

$3 \times 3 =$

$2 \times 4 =$

$3 \times 5 =$

$2 \times 4 =$

$3 \times 4 =$

$2 \times 7 =$

$2 \times 8 =$

12

16

4

14

9

3

8

12

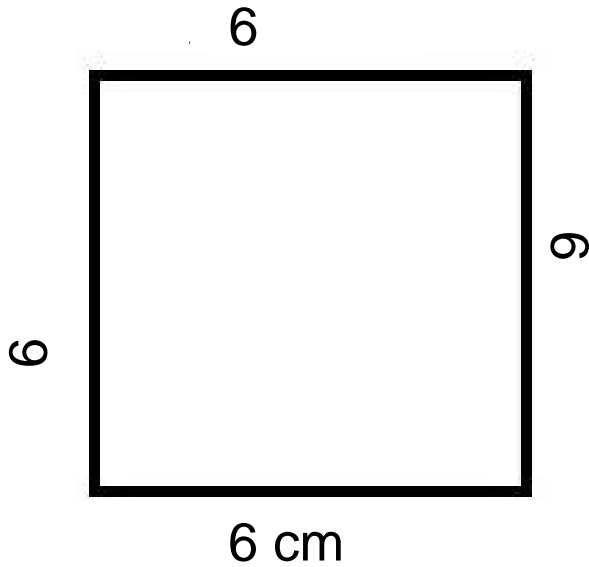
15



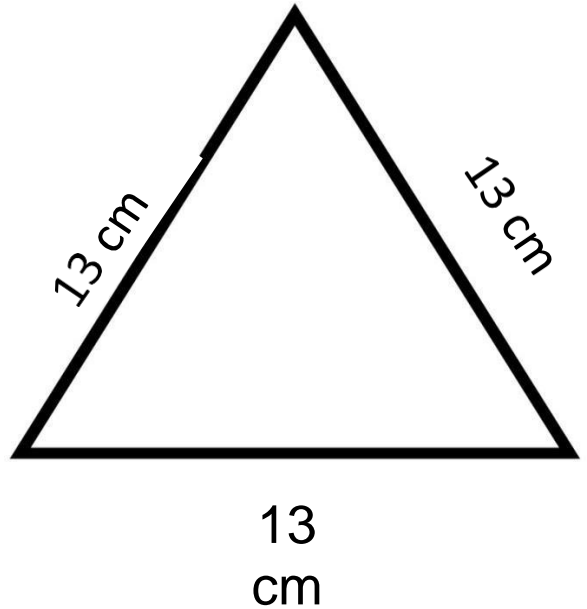
VAMOS
RELEMBRAR?

PERÍMETRO É A **SOMA** DAS MEDIDAS DOS
LADOS DE UMA FIGURA OU OBJETO.

8) SOME OS PERÍMETROS DAS FIGURAS.





PERÍMETRO: _____



PERÍMETRO: _____

9) LIGUE AS FIGURAS AOS NOMES
CORRETAMENTE.



RETÂNGULO

CÍRCULO

QUADRADO

TRIÂNGULO

10) ARME E EFETUE :

$145 + 54$

C	D	U

$221 + 32$

C	D	U

$300 + 25$

C	D	U

$186 + 23$

C	D	U

$213 + 37$

C	D	U

$299 + 11$

C	D	U

SISTEMA MONETÁRIO

11) MARCELA FOI AO SUPERMERCADO COMPRAR DOIS PRODUTOS DE LIMPEZA. OBSERVE ABAIXO.


25 REAIS



15 REAIS



- QUANTAS NOTAS DE 20 REAIS MARCELA USARÁ PARA PAGAR OS DOIS PRODUTOS? MARQUE A QUANTIDADE CORRETA DE NOTAS.





UNIDADE ESCOLAR:

PROFESSORA

DATA

NOME:

FASE

CÓDIGO BNCC

GE

GEOGRAFIA

REVISÃO

01 COM BASE NA APOSTILA DA 3ª SEMANA DE OUTUBRO, SOBRE AS FUNÇÕES DO SOLO, RESPONDA:

A OS SOLOS FORNECEM SERVIÇOS AMBIENTAIS QUE POSSIBILITAM A VIDA NA TERRA?

SIM

NÃO

B CIRCULE AS FIGURAS QUE APRESENTAM BONS SOLOS PARA PLANTIO.



02

COM BASE NA APOSTILA DA 2ª SEMANA DE NOVEMBRO, SOBRE OS TRÊS PODERES DO BRASIL, RESPONDA.

A O PRESIDENTE, GOVERNADORES E PREFEITOS, FAZEM PARTE DE QUAL DOS TRÊS PODERES?

B QUE PODER É RESPONSÁVEL POR FAZER AS LEIS?

LEGISLATIVO

EXECUTIVO

JUDICIÁRIO

03

COM BASE NA APOSTILA DA 3ª SEMANA DE NOVEMBRO, SOBRE OS MUNICÍPIOS LIMÍTROFES (VIZINHOS) DE BOM JESUS DO ITABAPOANA, RESPONDA:

A MARQUE COM UM **X**, A COLUNA QUE REPRESENTA OS MUNICÍPIOS LIMÍTROFES DE BOM JESUS DO ITABAPOANA PELO ESTADO DO ESPÍRITO SANTO.

- VARRE-SAI
- NATIVIDADE
- ITAPERUNA
- ITALVA
- CAMPOS DOS GOYTACAZES

- GUAÇUÍ
- SÃO JOSÉ DO CAÇADO
- BOM JESUS DO NORTE
- APIACÁ
- MIMOSO DO SUL



UNIDADE ESCOLAR:

PROFESSORA DATA

NOME:

FASE CÓDIGO BNCC

HI

HISTÓRIA

REVISÃO

01
COM BASE NA APOSTILA DA 2º SEMANA DE NOVEMBRO, SOBRE A PROCLAMAÇÃO DA REPÚBLICA. RESPONDA:

A EM QUE DIA SE COMEMORA A PROCLAMAÇÃO DA REPÚBLICA?

- 15 DE DEZEMBRO
- 15 DE NOVEMBRO
- 15 DE JANEIRO

B EM QUE ANO ISSO ACONTECEU?

- EM 1889
- EM 1989
- EM 1890

C NO MESMO ANO DA PROCLAMAÇÃO DA REPÚBLICA, ACONTECEU UM GRANDE EVENTO EM BOM JESUS DO ITABAPOANA. QUAL FOI ESSE EVENTO?

- UM BAILE
- UMA REUNIÃO
- UM FESTIVAL

D ESSE BAILE RECEBEU O NOME DE: BAILE DA PROCLAMAÇÃO DA REPÚBLICA.

- VERDADEIRO
- FALSO

02

COM BASE NA APOSTILA DA 3ª SEMANA DE NOVEMBRO, SOBRE OS SÍMBOLOS NACIONAIS, RESPONDA:

A ▶ QUANTOS SÃO OS SÍMBOLOS?

- CINCO SÍMBOLOS
- QUATRO SÍMBOLOS
- DOIS SÍMBOLOS

C ▶ QUAIS SÃO ELES? MARQUE A COLUNA CORRETA.

BRASÃO
BANDEIRA
SELO

BANDEIRA
SELO
HINO NACIONAL

BRASÃO
BANDEIRA
SELO
HINO NACIONAL

D ▶ LIGUE OS SÍMBOLOS AOS SEUS RESPECTIVOS NOMES.



SELO

HINO NACIONAL

BRASÃO

BANDEIRA

UNIDADE ESCOLAR:

PROFESSORA DATA

NOME:

FASE CÓDIGO BNCC

CI

CIÊNCIAS

REVISÃO

COM BASE NAS APOSTILAS ANTERIORES, RESPONDA AS QUESTÕES ABAIXO.

O USO DE MEDICAMENTOS

OLHAR O PRAZO DE VALIDADE DOS REMÉDIOS, EVITA O CONSUMO DE MEDICAMENTOS VENCIDOS. FIQUE SEMPRE ATENTO!

01 PARA O USO CORRETO DOS MEDICAMENTOS DEVEMOS:

- NUNCA OLHAR A VALIDADE.
- SEMPRE OLHAR A VALIDADE.
- TOMAR O MEDICAMENTO COM POUCOS DIAS VENCIDOS.

02 MANTER UMA ALIMENTAÇÃO SAUDÁVEL, FAZ BEM À SAÚDE DO SER HUMANO. CIRCULE OS ALIMENTOS QUE AUXILIAM NESTE PROCESSO.



03 PARA PREVENIR O DIABETES É NECESSÁRIO:

- CONSUMIR MUITOS ALIMENTOS INDUSTRIALIZADOS.
- TER UMA BOA ALIMENTAÇÃO.
- CONSUMIR MUITOS DOCES E REFRIGERANTES.