

PREFEITURA MUNICIPAL DE BOM JESUS DO ITABAPOANA-RJ
SECRETARIA MUNICIPAL DE EDUCAÇÃO, ESPORTE E LAZER

Atividades Orientadoras



Educação de Jovens e Adultos

FASE II



UNIDADE ESCOLAR:

PROFESSORA DATA

NOME:

FASE CÓDIGO BNCC

LP

LÍNGUA PORTUGUESA

Simulado

LEIA O TEXTO. CASO NECESSARIO, PEÇA AJUDA.

UM DIA ESPECIAL

ERA DIA DE ENFEITAR A ÁRVORE DE NATAL.
VITOR LEVANTOU CEDO E COMEÇOU A ENFEITÁ-LA.

NA ÁRVORE, ELE COLOCOU BOLAS COLORIDAS, LAÇOS DOURADOS, ESTRELAS E OUTROS ENFEITES.

VITOR TRABALHOU O DIA INTEIRO E SUA ÁRVORE FICOU LINDA!

AO FINAL DO DIA, TODA A FAMÍLIA SE JUNTOU AO REDOR DA ÁRVORE PARA FAZER UMA PRECE DE AGRADECIMENTO A DEUS POR MAIS UM NATAL QUE ESTAVA CHEGANDO.

PARECE QUE ATÉ A ÁRVORE AGRADECEU, POIS SUAS ESTRELAS BRILHAVAM E PISCAVAM COMO AS ESTRELAS DO CÉU.



ISABEL CRISTINA SILVEIRA SOARES

01

QUAL O TÍTULO DO TEXTO?

- () UM DIA DE NATAL
- () UM DIA ESPECIAL
- () UM DIA FELIZ

02

A PRIMEIRA FRASE DO TEXTO APONTA QUE:

- () ERA DIA DE ENFEITAR A ÁRVORE DE NATAL.
- () ERA DIA DE DESMONTAR A ÁRVORE DE NATAL.
- () ERA DIA DE COMPRAR UMA ÁRVORE DE NATAL.

03

O QUE VITOR FEZ NESSE DIA ESPECIAL?


ACORDOU TARDE.

LEVANTOU CEDO E COMEÇOU A ENFEITAR A ÁRVORE.

DESCANSOU O DIA TODO.

04

DENTRE MUITOS ENFEITES QUE VITOR USOU NA ÁRVORE, QUAIS SÃO OS TRÊS QUE O TEXTO DESTACA? MARQUE.



05

A PRIMEIRA E A ÚLTIMA PALAVRA DO TEXTO.

ERA / CÉU

DIA / CÉU

CÉU / ESTRELAS

06

OBSERVE A PALAVRA:

ÁRVORE

A QUANTAS SÍLABAS ELA POSSUI?

- DUAS SÍLABAS
 TRÊS SÍLABAS
 QUATRO SÍLABAS

B QUANTAS VOGAIS E QUANTAS CONSOANTES? MARQUE.

- 2 VOGAIS E 3 CONSOANTES.
 3 VOGAIS E 2 CONSOANTES.
 3 VOGAIS E 3 CONSOANTES.

07 MARQUE O QUADRINHO QUE APRESENTA O GRUPO DE PALAVRAS COM DUAS SÍLABAS.

ÁRVORE – ESTRELA- DIA

PARA – CEDO - COMO

PARECE – FAZER – NATAL

08 MARQUE UM **X** NO QUADRINHO EM QUE A PALAVRA **ESTRELA** ESTÁ SEPARADA CORRETAMENTE.

EST - RE - LA

ES – TRE - LA





UNIDADE ESCOLAR:

PROFESSORA DATA

NOME:

FASE CÓDIGO BNCC

MA

MATEMÁTICA

SIMULADO

01

OBSERVE O CALENDÁRIO E FAÇA UM **X** EM TODOS OS DIAS DA 2ª SEMANA DO MÊS DE DEZEMBRO DE 2021.

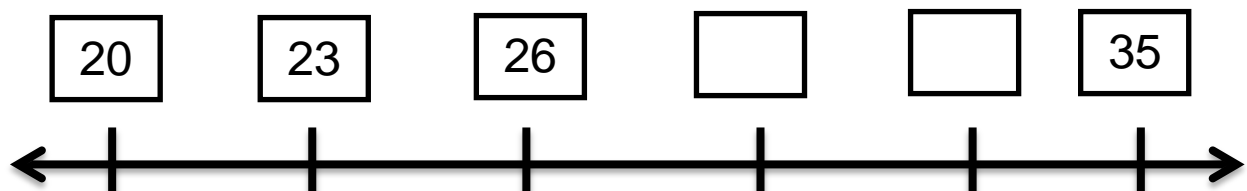
Dezembro 2021						
Domingo	Segunda-feira	Terça-feira	Quarta-feira	Quinta-feira	Sexta-feira	Sábado
			1	2	3	4
5	6	7	8	9	10	11
12	13	14	15	16	17	18
19	20	21	22	23	24	25
26	27	28	29	30	31	

Michel Zbinden / Calendário 621DS

<https://michelzbinden.com/pt/calendario-dezembro-2021->

02

A RETA NUMÉRICA ESTÁ INCOMPLETA. OBSERVE.



➤ QUAIS NÚMEROS FALTAM PARA COMPLETÁ-LA ? MARQUE A OPÇÃO CORRETA.

() 29 E 32

() 29 E 30

() 32 E 33

03

MARQUE O RESULTADO CORRETO DAS MULTIPLICAÇÕES EM CADA COLUNA.

3×3


 6

 9

 10

2×4


 8

 6

 4

3×5


 12

 11

 15

2×7


 16

 13

 14

2×3


 6

 7

 4

3×4


 12

 9

 18

2×8


 6

 12

 16

4×4


 16

 20

 14

04

SOME A QUANTIA DAS CÉDULAS DE DINHEIRO E MARQUE A RESPOSTA CORRETA.

 70 REAIS


 50 REAIS

 100 REAIS

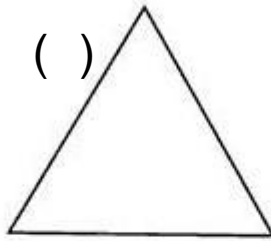

05

FAÇA UM X NA FIGURA QUE MOSTRA O TRIÂNGULO.

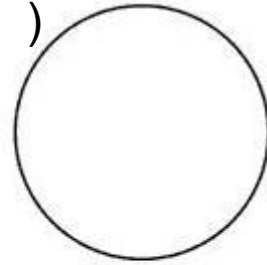
()




()



()



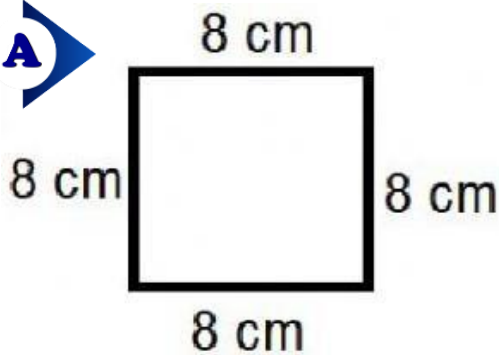
()



06

CALCULE O PERÍMETRO DAS FIGURAS ABAIXO E MARQUE O RESULTADO CORRETO.

A

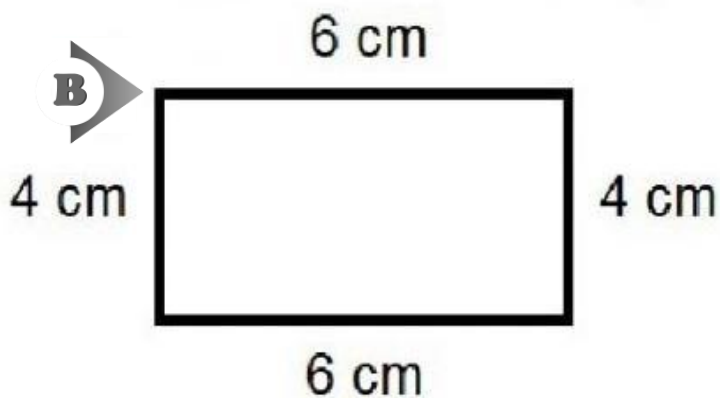


() 32 cm

() 28 cm

() 30 cm

B



() 19 cm

() 20 cm

() 22 cm



UNIDADE ESCOLAR:

PROFESSORA

DATA

NOME:

FASE

CÓDIGO BNCC

CI/
HI/GE

CIÊNCIAS
NATURAIS E HUMANAS

simulado

01

O PODER LEGISLATIVO É RESPONSÁVEL POR:

-) ENCAMINHAR AS LEIS.
-) FAZER AS LEIS.
-) DIGITAR AS LEIS.

02

QUEM SÃO OS COMPONENTES DO PODER EXECUTIVO?

-) PRESIDENTE, GOVERNADORES E ELEITORES.
-) PRESIDENTE, GOVERNADORES E VEREADORES.
-) PRESIDENTE, GOVERNADORES E PREFEITOS.

03

ABAIXO TEMOS ALGUNS MUNICÍPIOS VIZINHOS DE BOM JESUS DO ITABAPOANA.

➤ MARQUE COM **X** O MUNICÍPIO QUE FICA MAIS PRÓXIMO DE BOM JESUS DO ITABAPOANA, QUE PERTENCE AO ESTADO DO ESPÍRITO SANTO.

-) GUAÇUI
-) SÃO JOSÉ DO CAÇADO
-) BOM JESUS DO NORTE
-) ITAPERUNA
-) APIACÁ
-) MIMOSO DO SUL
-) ITALVA

04

O QUE SE COMEMORA NO DIA 15 DE NOVEMBRO?

- DIA DA BANDEIRA
- DIA DO HINO NACIONAL
- PROCLAMAÇÃO DA REPÚBLICA

05

O BRASÃO, A BANDEIRA, O SELO E O HINO NACIONAL SÃO:

- OS SÍMBOLOS DE BOM JESUS
- OS SÍMBOLOS DE BRASÍLIA
- OS SÍMBOLOS NACIONAIS DO BRASIL

06

UMA ALIMENTAÇÃO SAUDÁVEL É COMPOSTA POR:

- COMIDAS ENLATADAS.
- BOLACHAS, DOCES, REFRIGERANTES.
- VERDURAS, LEGUMES, FRUTAS E CARNES.

07

O USO DE MEDICAMENTOS FORA DA VALIDADE PODE SER:

- IDEAL PARA SAÚDE.
- PREJUDICIAL À SAÚDE.

08

LEIA A FRASE ABAIXO.

PRATICAR EXERCÍCIOS FÍSICOS E TER UMA BOA ALIMENTAÇÃO É ESSENCIAL PARA NOSSA SAÚDE!

➤ DE ACORDO COM SEUS ESTUDOS, ESSA AFIRMAÇÃO É:

- VERDADEIRA
- FALSA





UNIDADE ESCOLAR:

PROFESSORA

DATA

NOME:

FASE

CÓDIGO BNCC

AR ARTES



**ÁRVORE DE
NATAL**

MATERIAIS NECESSÁRIOS

- 28 GARRAFAS PET VERDE
- 1 CABO DE VASSOURA
- TESOURA
- VELA
- VASO (OU 1 GARRAFA DE ÁGUA DE 5 L)
- ENFEITES PARA ÁRVORE DE NATAL



CORTE :

- 5 garrafas com 24 cm
- 5 garrafas com 22 cm
- 5 garrafas com 20cm
- 5 garrafas com 18 cm
- 1 garrafa com 16cm
- 1 garrafa com 14cm
- 1 garrafa com 12cm
- 1 garrafa com 10 cm
- 1 garrafa com 8 cm
- 1 garrafa com 6 cm
- 1 garrafa com 4cm
- 1 garrafa com 2 cm



CORTE A GARRAFA EM TIRAS ATÉ PRÓXIMO DO BICO E DEPOIS DOBRE PARA FORA, CONFORME A IMAGEM E REPITA ESSE PROCESSO PARA AS OUTRAS GARRAFAS.



COM MUITO CUIDADO QUEIME AS PONTAS E A PARTE DO MEIO PARA DAR MAIOR REALIDADE. NÃO COLOQUE O PLÁSTICO EM CONTATO DIRETO COM O FOGO, APENAS APROXIME DA VELA.



APÓS QUEIMAR TODAS AS CAMADAS, COM O AUXILIO DE UM VAZO E O CABO DE VASSOURA COLOQUE AS CAMADAS EM ORDEM CRESCENTE.



DEPOIS DISSO DECORE A SUA ÁRVORE CONFORME SEU GOSTO.

<https://www.youtube.com/playlist?list=PLxrATcVF4UG4ULEH7q9fu6jP8XilarbeR>

