

PREFEITURA MUNICIPAL DE BOM JESUS DO ITABAPOANA-RJ  
SECRETARIA MUNICIPAL DE EDUCAÇÃO, ESPORTE E LAZER

# Atividades Orientadoras



## Educação de Jovens e Adultos

### FASE IV



UNIDADE ESCOLAR:

PROFESSORA

DATA

NOME:

FASE

IV

CÓDIGO BNCC

EF15LP03 EF01LP02

**LP**

**LÍNGUA PORTUGUESA**

**SIMULADO**

A D O R A N D O

A J E S U S

Está perto o mês de dezembro. O Natal está se aproximando!

Dentro de poucos dias, as ruas começarão a ficar enfeitadas.

As músicas de Natal vão soar por todos os lados.

Você vai notar uma expressão mais alegre nas pessoas.

Mas o que é o Natal?

O que significa?

Natal é a comemoração da vinda de Jesus ao mundo, a vinda do Salvador para as pessoas.

Muitas pessoas reconhecerão isso, compreenderão quem era o bebê que havia nascido em Belém. Por isso o honrarão, o adorarão.



*Texto extraído da revista Aprendendo da JUERP*



A) O Natal é comemorado em que mês?


B) Onde as músicas de Natal vão soar?

C) Como ficam as ruas na época de Natal?

D) O que é o Natal?

E) Quem era o bebê que nasceu em Belém?

F) Escreva na cruzadinha o nome dos desenhos referentes à época natalina.



02

Marque a alternativa em que todas as palavras estão escritas corretamente.

( ) trinta – tenpo – dança – lembrar – tampa - manga

( ) trimta – tenpo – dança – lenbrar – tanpa - mamga

( ) trinta – tempo – dança – lembrar – tampa - manga

03

Leia o cartaz afixado na lanchonete. No cartaz existem duas palavras que foram escritas de modo errado. Qual? Marque as palavras que foram escritas errada.

( ) patata e bequena

( ) bacon e bequena

( ) patata e bacon

( ) frita e patata



Escreva corretamente as palavras que estão escritas de forma errada no cartaz.

04

Marque as palavras que completam as frases corretamente, depois escreva-as nos espaços em branco.

( ) tombo ( ) tonbo



Matheus e Kauan se machucaram no

( ) pepino ( ) bebino



Eu sei porque as crianças não gostam de

( ) puzina ( ) buzina



Amanhã levarei o carro para consertar a

( ) polacha ( ) bolacha



Amo comer

com café.

( ) dente ( ) pente



Guardo o

na gaveta para não perder.

( ) poné ( ) boné



Eles usam

05

Marque a alternativa em que a separação de sílaba de todas as palavras está correta.

( )

Tam-pa

De-nte

Bo-né

( )

Pa-lh-a-ço

Te-mpo

Ca-nt-ei-ro

( )

Pi-po-ca

Pente

Bo-la-cha

( )

Ca-m-po

En-xa-da

Bu-zi-na





UNIDADE ESCOLAR:

PROFESSORA

DATA

NOME:

FASE

CÓDIGO BNC

**MA**

**MATEMÁTICA**

**SIMULADO**

5

**01** Observe o calendário e responda, marcando a alternativa correta.

O Natal cai em qual dia da semana?

- segunda-feira
- sexta-feira
- sábado
- domingo



Figura 1 dia 08/12 - feriado municipal - Imaculada Conceição

**02** Quantos feriados há no calendário do mês de dezembro?

- 2
- 3
- 1
- 4

**03** Comprei um forno microondas por R\$ 350,00. Revendi por R\$ 300,00. Qual foi a diferença entre o preço que comprei para o valor que revendi?

- R\$ 5,00.
- R\$ 50,00.
- R\$ 500,00.
- R\$ 15,00.

04

Observe o gráfico e marque a resposta certa.



Qual é a diferença de vendas entre o dia que vendeu mais chocolates e o dia que vendeu menos chocolates?

500

400

55

5



Quantos chocolates foram vendidos nos dois primeiros dias da semana?

100

50

150

15



05

Observe a adição que a professora escreveu. Marque o resultado dessa operação:

$$1.645 + 210$$

1.675

1.850

1.855

1.555

06

Observe a tabela de preços da Lanchonete Sandubão e responda marcando a alternativa correta.



### LANCHONETE SANDUBÃO

|                 |          |
|-----------------|----------|
| refrigerante    | R\$ 2,00 |
| suco de laranja | R\$ 2,70 |
| cachorro-quente | R\$ 4,70 |
| torrada         | R\$ 3,30 |
| hambúrguer      | R\$ 5,80 |
| pizza (fatia)   | R\$ 4,20 |
| torta (fatia)   | R\$ 2,80 |
| empada          | R\$ 1,90 |

**A** Bruna comprou um cachorro-quente e um suco de laranja. Ela pagou com uma nota de R\$ 20,00. Quanto recebeu de troco?

- ( ) R\$ 12,60    ( ) R\$ 11,60    ( ) R\$ 12,40    ( ) R\$ 12,40

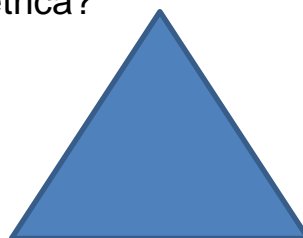
**B** Soraia comprou um hambúrguer e um refrigerante para si e pagou uma torrada e um suco para Oscar. Quanto Soraia gastou ao todo?

- ( ) R\$ 13,80    ( ) R\$ 13,40    ( ) R\$ 12,40    ( ) R\$ 13,20

07

Qual é o nome dessa figura geométrica?

- ( ) quadrado  
 ( ) retângulo  
 ( ) triângulo  
 ( ) círculo



**450X 2**

08

Qual é o resultado da operação?

- ( ) 900  
 ( ) 980  
 ( ) 802  
 ( ) 950





**PORTAL SEMEEL**

A mudança está em nossas mãos



PREFEITURA MUNICIPAL  
**BOM JESUS**  
DO ITABAPOANA

SECRETARIA MUNICIPAL  
DE EDUCAÇÃO, ESPORTE E LAZER

UNIDADE ESCOLAR:

PROFESSORA

DATA

NOME:

EF05CI09, EF05HI02, EF04GE10

FASE

CÓDIGO BNCC

CI/  
HI/GE

CIÊNCIAS  
NATURAIS E HUMANAS

**SIMULADO**

01 Quais são os problemas de saúde ocasionados pela vida sedentária?

- ( ) obesidade, perda muscular e dores articulares.
- ( ) vômito, dor de cabeça e torcicolo.
- ( ) febre, inchaço e perda de apetite.
- ( ) dor de dente, inflamação e dor de barriga.



02 Qual das alternativas abaixo é um ponto turístico de Bom Jesus do Itabapoana?

- ( ) Laginho
- ( ) Prefeitura
- ( ) Escola
- ( ) Mercado

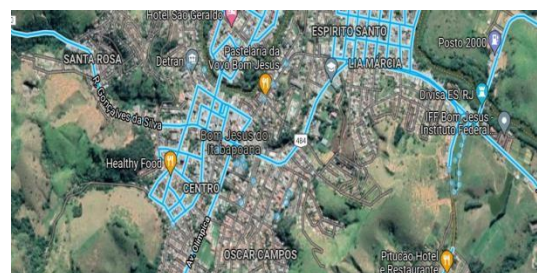


03 Segundo a Constituição brasileira, quais são os símbolos oficiais do Brasil?

- ( ) Faixa Presidencial, Brasão, Hino da República, Bandeira
- ( ) Hino da Independência, Brasão, Exército, Flâmula.
- ( ) Brasão, Bandeira, Estrelas, Lema
- ( ) Brasão da República, Bandeira Nacional, Hino Nacional, Selo Nacional.

04 Qual das alternativas abaixo não é um bairro de Bom Jesus do Itabapoana?

- ( ) Lia Márcia.
- ( ) Santa Rosa.
- ( ) Pimentel Marques.
- ( ) Gonçalves da Silva.



UNIDADE ESCOLAR:

PROFESSORA  DATA

NOME:

FASE  CÓDIGO BNCC

**AR**

**ARTE**

**ESCULTURA (ÁRVORE DE NATAL)**

## Materiais Necessários

- 28 Garrafas PET verde
- 1 cabo de vassoura
- Tesoura
- Vela
- Vaso (OU 1 GARRAFA DE ÁGUA DE 5 L)
- Enfeites para árvore de Natal



### CORTE :

- 5 garrafas com 24 cm
- 5 garrafas com 22 cm
- 5 garrafas com 20cm
- 5 garrafas com 18 cm
- 1 garrafa com 16cm
- 1 garrafa com 14cm
- 1 garrafa com 12cm
- 1 garrafa com 10 cm
- 1 garrafa com 8 cm
- 1 garrafa com 6 cm
- 1 garrafa com 4cm
- 1 garrafa com 2 cm





Corte a garrafa em tiras até próximo do bico e depois dobre para fora ,conforme a imagem e repita esse processo para as outras garrafas.



Com muito cuidado queime as pontas e a parte do meio para dar maior realidade. Não coloque o plástico em contato direto com o fogo, apenas aproxime da vela.



Após queimar todas as camadas, com o auxílio de um vaso e o cabo de vassoura coloque as camadas em ordem crescente.



Depois disso decore a sua árvore conforme seu gosto.

<https://www.youtube.com/playlist?list=PLxrATcVF4UG4ULEH7q9fu6jP8XilarbeR>

