

PREFEITURA MUNICIPAL DE BOM JESUS DO ITABAPOANA-RJ
SECRETARIA MUNICIPAL DE EDUCAÇÃO, ESPORTE E LAZER

SEMEEL

A mudança está em nossas mãos

Atividades Orientadoras



4º
ano

Ensino Fundamental



UNIDADE ESCOLAR:

PROFESSORA

ANO DE ESCOLARIDADE

4º ANO

DATA

2ª SEMANA (14 A 18/02)

NOME:

HOJE É?

SEGUNDA

TERÇA

QUARTA

QUINTA

SEXTA

CÓDIGO BNCC

(EF35LP01) (EF35LP03) (EF15LP03)



LÍNGUA PORTUGUESA

O que é mais importante?

A professora chegou trazendo uma caixa linda e colorida que estava enfeitada com uma fita azul.

Todos ficaram muito curiosos.

A professora falou que, dentro da caixa, eles iam ver o que era mais importante no mundo.

Uns achavam que era uma joia, outros que era dinheiro.

Um, de cada vez, foi a um cantinho da sala olhar o que havia dentro da caixa.

Ninguém acertou, mas todos voltaram sorrindo.

Sabe o que havia lá dentro? Havia um espelho.

Quando a criança olhava, via o seu próprio rosto refletido e, assim, descobria que cada pessoa é a mais importante do mundo.

1- De acordo com o texto, numere os fatos na ordem em que ocorreram.

- () Cada aluno olhou o que havia dentro da caixa.
- () A professora chegou trazendo uma caixa linda e colorida.
- () Os alunos voltavam sorrindo.
- () Os alunos ficaram curiosos.

2- "Ninguém acertou, mas todos voltavam sorrindo."

a) Por que as crianças voltavam sorrindo?



3- A professora disse que, dentro da caixa, eles iriam ver a coisa mais importante do mundo.

a) O que os alunos acharam que seria tão importante?

b) E para você, o que seria a coisa mais importante do mundo?

4- Assinale o que a professora quis ensinar com aquela caixa.

() Que somos todos iguais e que ninguém é importante.

() Cada um é muito especial.

() Que nada é importante, a caixa estava vazia.



Recordando...

Palavras monossílabas - tem 1 sílaba - não

Palavras dissílabas - tem 2 sílabas - ca / ma

Palavras trissílabas - tem 3 sílabas - pi / co / lé

Palavras polissílabas - tem 4 ou mais sílabas - cho / co / la / te

5- Retire do texto.

a) Uma palavra monossílaba com acento agudo:

b) Duas palavras dissílabas:

c) Uma palavra trissílaba com encontro consonantal:

d) Duas palavras polissílabas:



UNIDADE ESCOLAR:

PROFESSORA

ANO DE ESCOLARIDADE

4º ANO

DATA

NOME:

HOJE É?

SEGUNDA

TERÇA

QUARTA

QUINTA

SEXTA

CÓDIGO BNCC

(EF04MA01) (EF04MA05)



1- Descubra o segredo e complete a sequência.

- a) 400 - _____ - _____ - _____ - _____ - _____ - _____ - _____ - _____ - _____ - 410
- b) 200 - _____ - _____ - 215 - _____ - _____ - _____ - _____ - _____ - 240 - _____ - 250
- c) 100 - _____ - _____ - _____ - _____ - _____ - _____ - _____ - _____ - _____ - 1100
- d) 500 - _____ - _____ - _____ - _____ - _____ - 800 - _____ - _____ - _____ - 1000
- e) 700 - _____ - _____ - _____ - 740 - _____ - _____ - _____ - _____ - _____ - 800

2- Usando os números 1, 5 e 7, encontre todos os números formados por eles.

EX: 2,4 E 6 = 246 - 264 - 426 - 462 - 642 - 624

157 - _____ - _____ - _____ - _____ - _____



3- Assinale com a letra V para as sentenças verdadeiras e F para as falsas.

- () A sequência dos números é infinita.
- () O menor número natural é o 0.
- () O número 476 é formado por dois algarismos.
- () O número 342 é par.
- () O número 744 é sucessor de 745.
- () Essa sequência está em ordem decrescente: 504 - 493 - 348 - 210 - 100.



4- Todos os alunos da classe apostaram uma corrida.



a) Quantos alunos há na classe, se Alice chegou em trigésimo terceiro lugar e foi a penúltima?

b) Chegaram 12 alunos antes de Emílio. Em que lugar ele chegou?

c) Depois de Bibi, chegaram apenas 3 alunos. Em que lugar ela chegou?

d) Marcelo foi o campeão. Em que lugar ele chegou?

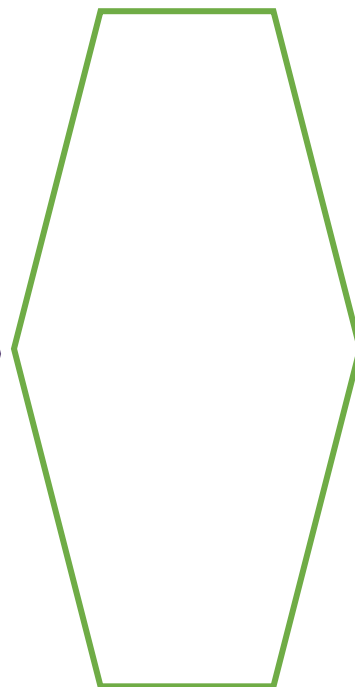
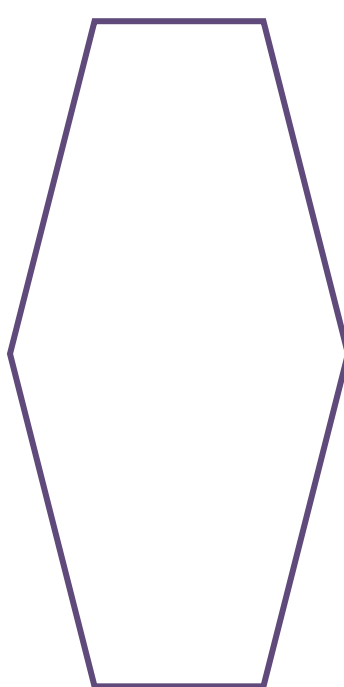
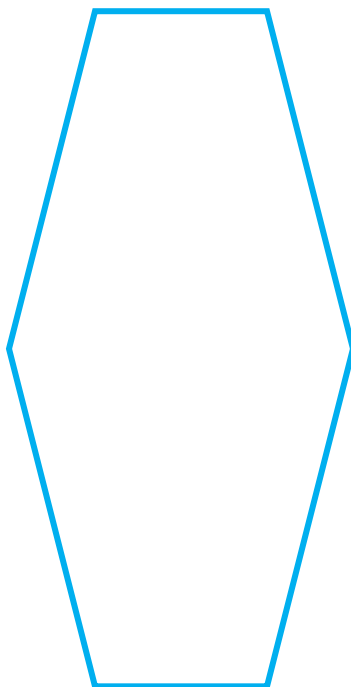
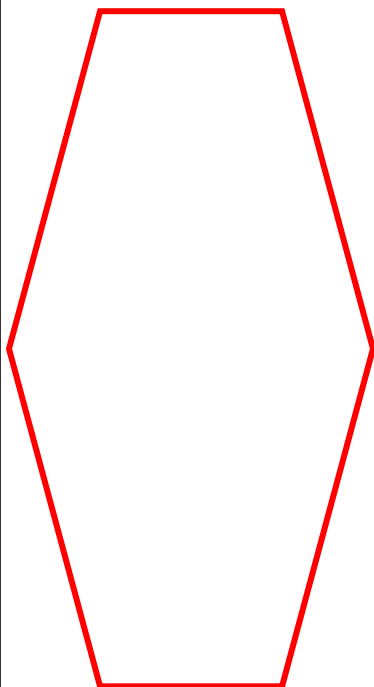
5- Arme e efetue.

a) $2789 + 6548 =$

b) $56890 + 37908 =$

c) $7050 - 3456 =$

d) $9876 - 5673 =$



6- Pinte apenas os resultados ímpares da questão anterior.

UNIDADE ESCOLAR:

PROFESSORA

ANO DE ESCOLARIDADE

4º ANO

DATA

NOME:

HOJE É?

SEGUNDA

TERÇA

QUARTA

QUINTA

SEXTA

CÓDIGO BNCC

(EF04LP04)

LÍNGUA PORTUGUESA

ANTÔNIMOS - são palavras que apresentam significados contrários.

SINÔNIMOS - são palavras que têm o mesmo (ou aproximadamente) sentido que outras.

1- Complete as frases com o antônimo da palavra entre parênteses:

- a) Renato _____ a garrafa térmica. (abriu)
- b) O menino _____ a pipa. (prendia)
- c) O homem _____ levou a carroça. (fraco)
- d) Aquele prédio é muito _____. (baixo)
- e) Marcelo é um menino _____. (triste)
- f) Esta casa é muito _____. (grande)



2- Caçando sinônimos.




C	O	N	T	E	N	T	E	D	I	M	O	V	E	L
O	C	E	R	T	O	E	T	U	P	F	I	M	P	O
M	A	C	I	O	T	R	A	N	Q	U	I	L	O	N
E	P	U	L	A	R	M	O	S	U	G	U	I	S	G
Ç	O	U	V	I	R	I	G	U	I	I	D	O	S	O
A	D	I	S	T	A	N	T	E	D	R	U	T	I	R
R	U	I	D	O	N	A	I	P	A	F	I	A	R	L
O	P	T	O	P	E	R	G	U	N	T	A	R	E	U
I	M	A	P	A	V	O	R	A	D	O	A	M	A	R
T	A	G	A	R	E	L	A	T	R	A	P	I	D	O



1. ALEGRE _____
2. INICIAR _____
3. BARULHO _____
4. FALADEIRA _____
5. ACABAR _____
6. CALMO _____
7. INDAGAR _____
8. ASSUSTADO _____
9. ESCAPAR _____
10. SEDOSO _____

11. VELHO _____
12. PARADO _____
13. AMOLAR _____
14. VELOZ _____
15. CORRETO _____
16. SALTAR _____
17. ESCUTAR _____
18. COMPRIDO _____
19. LONGE _____

Acentuação gráfica



1 - Escreva o nome das figuras. **Atenção!** Todas as palavras são acentuadas.



UNIDADE ESCOLAR:

PROFESSORA ANO DE ESCOLARIDADE DATA

NOME:

HOJE É?
 SEGUNDA TERÇA QUARTA QUINTA SEXTA

CÓDIGO BNCC



MATEMÁTICA

1- Resolva os problemas.

a) A capacidade de um teatro é de 493 espectadores. Já foram vendidos 145 ingressos hoje. Quantas pessoas ainda podem comprar ingressos?



Resposta: _____

b) Para uma festa foram compradas 5 dúzias de rosas, 2 dezenas de hortênsias e 1 dezena de palmas. Quantas flores enfeitaram a festa?



Resposta: _____

c) Em um trem de ferro viajam 252 passageiros em pé e 180 sentados. Quantos passageiros há no trem?



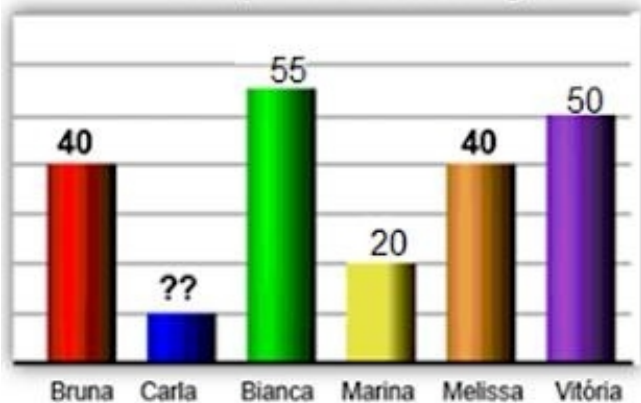
Resposta: _____

2- Registre os números na tabela abaixo:

- a) Trezentos e setenta e um.
- b) Oitocentos e noventa e quatro.
- c) Vinte.
- d) Cento e quarenta.
- e) Nove.
- f) Seiscentos e sete
- g) Noventa e nove
- h) Três.

C	D	U

Campanha da Reciclagem



3- De acordo com o gráfico, quantas latinhas Carla conseguiu arrecadar, sendo que foram 30 a menos que Bruna?

- a) 20 latinhas.
- b) 10 latinhas.
- c) 8 latinhas.
- d) 15 latinhas.

4- Max montou uma loja e resolveu colocar os preços em algumas mercadorias como mostra a tabela abaixo:

MERCADORIAS	PREÇOS
Café	R\$ 5,00
Açúcar	R\$ 2,00
Bolacha	R\$ 8,00
Sal	R\$ 3,00

Quais mercadorias possuem o maior e o menor preço, respectivamente?

- a) Café e açúcar.
- b) Bolacha e açúcar.
- c) Café e bolacha.
- d) Açúcar e sal.

5- Complete:

- a) 100 unidades = _____ dezenas
- b) 100 unidades = _____ centenas

6- Seguindo o exemplo:

a) Decomponha os números $143 = 100 + 40 + 3$

$945 =$ _____

$49 =$ _____

$63 =$ _____

$372 =$ _____

b) Componha os números $400 + 30 + 2 = 432$

$50 + 3 =$ _____

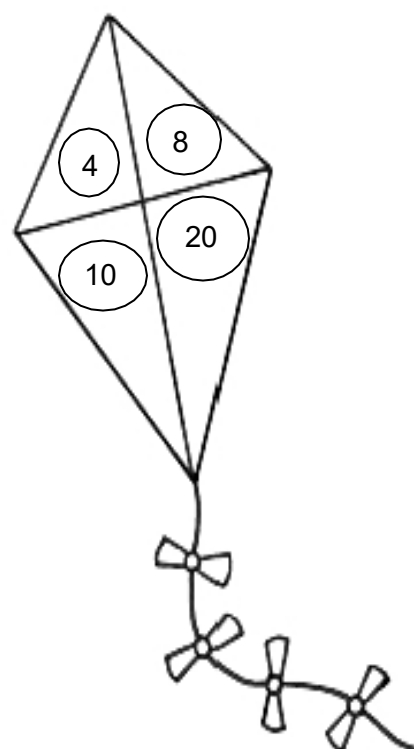
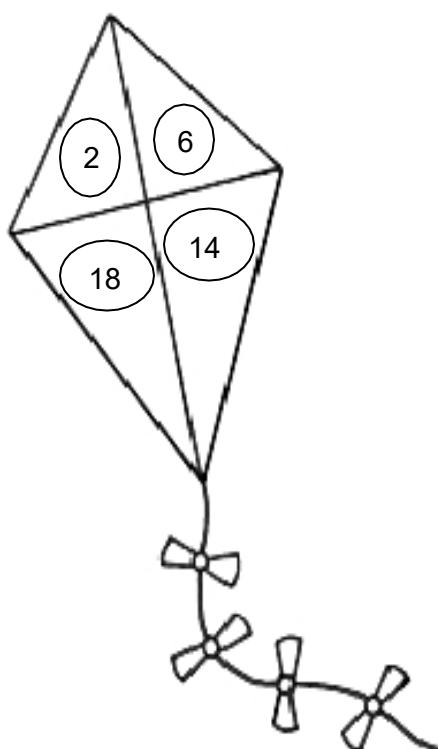
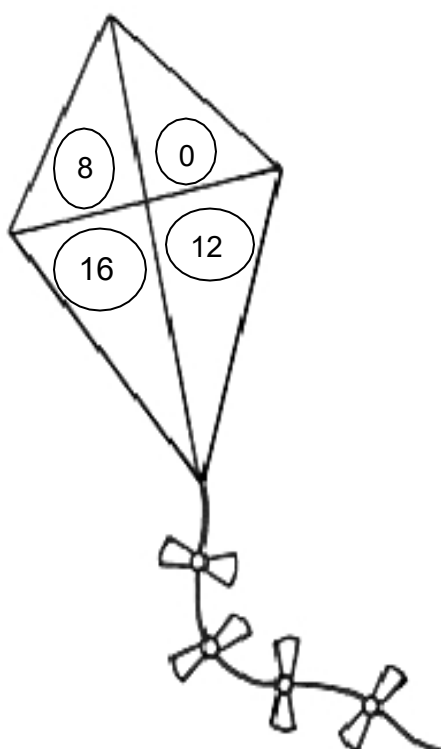
$900 + 5 =$ _____

$100 + 40 + 7 =$ _____

$600 + 90 =$ _____

7- Multiplique e pinte de acordo com a legenda.

$2 \times 0 =$	Amarelo	$2 \times 6 =$	Verde escuro
$2 \times 1 =$	Vermelho	$2 \times 7 =$	Verde claro
$2 \times 2 =$	Laranja	$2 \times 8 =$	Rosa
$2 \times 3 =$	Azul escuro	$2 \times 9 =$	Roxo
$2 \times 4 =$	Azul claro	$2 \times 10 =$	Preto
$2 \times 5 =$	Marrom		





UNIDADE ESCOLAR:

PROFESSORA

ANO DE ESCOLARIDADE

4º ANO

DATA

NOME:

HOJE É?

SEGUNDA

TERÇA

QUARTA

QUINTA

SEXTA

CÓDIGO BNCC

(EF15LP05) (EF35LP04)

PRODUÇÃO TEXTUAL



Turma da Mônica Mauricio de Sousa



1- Este gênero textual é:

- Carta
- Receita
- Tirinha
- Fábula

2- Em que o Chico Bento está pensando nos dois primeiros quadrinhos?

- Se a goiaba está doce ou não.
- Em como pegar a goiaba sem subir na árvore.
- Se tem goiaba o suficiente para fazer uma deliciosa goiabada.
- Quem teria colocado aquela placa na goiabeira.

3- A expressão do fazendeiro ao ver Chico Bento e Zé Lelé indica que ele ficou:

- () Alegre.
- () Triste.
- () Bravo.
- () Contente.

4- O que deveria estar escrito na placa para que o Chico Bento não pegasse goiaba.

- () Proibido mexer na goiabeira.
- () Proibido subir no amigo.
- () Proibido pedir ajuda para pegar goiaba.
- () Proibido pegar goiaba.

Você sabe o que é um aviso?

Já viu em algum lugar?

AVISO é um pequeno texto que traz uma informação ou comunicado sobre alguma coisa.



()



()



()



()

1- Enumere as placas da página anterior de acordo com a legenda:

(A) Placa que podemos ver no portão de um condomínio.

(B) Placa que podemos ver em um ambiente fechado.

(C) Placa que podemos ver na piscina.

(D) Placa que podemos ver na escada.

Agora é sua vez...

Desenhe uma placa e escreva um aviso.