

PREFEITURA MUNICIPAL DE BOM JESUS DO ITABAPOANA-RJ
SECRETARIA MUNICIPAL DE EDUCAÇÃO, ESPORTE E LAZER

SEMEEL

A mudança está em nossas mãos

Atividades Orientadoras



1º
ano

Ensino Fundamental

UNIDADE ESCOLAR:
PROFESSOR(A) ANO DE ESCOLARIDADE DATA
 1º ano 9ª semana (11/04 a 13/04)
NOME:

HOJE É? CÓDIGO BNCC
 SEGUNDA TERÇA QUARTA QUINTA SEXTA EF01LP07 / EF01LP09


LP LÍNGUA PORTUGUESA



1. QUANTAS LETRAS EXISTEM NESTA PALAVRA?

- A) 7
- B) 6
- C) 9


DOMINÓ



2. QUANTAS VEZES VOCÊ ABRE A BOCA PARA FALAR A PALAVRA ABAIXO?

- A) 5
- B) 2
- C) 3

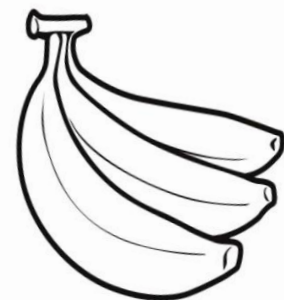
BATATA



3. QUE PALAVRA TERMINA COM O MESMO SOM DO NOME DO DESENHO?

- A) CAMA
- B) CANA
- C) DIA


BANANA



4. QUANTAS VOGAIS HÁ NA PALAVRA?

- A) 3
- B) 4
- C) 1

PIPOCA



5. QUANTAS CONSOANTES HÁ NA PALAVRA?

- A) 5
- B) 3
- C) 2

DOUTOR



6. MARQUE O QUADRINHO ONDE ESTÁ ESCRITO O NOME DAS GRAVURAS:



DADO – PIPA – BONECA


DOMINÓ – PETECA – BOLA

DADO – PIÃO – BOLA

7. MARQUE A LETRA QUE INDICA A ÚLTIMA PALAVRA DA FRASE:


A PATA PEPITA PÔS UM PRATO DE SOPA NA PIA.

- A) PATA
- B) PRATO
- C) PIA



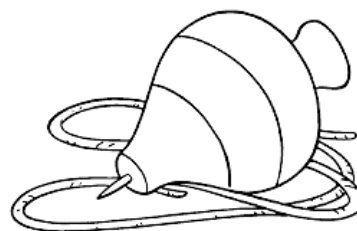
8. MARQUE UM X ONDE AS LETRAS ESTÃO EM ORDEM ALFABÉTICA:

- A) J – X – C
- B) A – F – H
- C) R – S – T




9. MARQUE A ALTERNATIVA ONDE TODAS AS PALAVRAS TÊM TIL.

- A) CAFÉ – VOVÓ – PÉ
- B) PÃO – MÃO – PIÃO
- C) VOVÔ – VOCÊ – MÊS.



10. MARQUE A ALTERNATIVA ONDE A FRASE ESTÁ ESCRITA CORRETAMENTE:

- A) PACATATU CUTIA NÃO.
- B) PACA, TATU CUTIANÃO.
- C) PACA, TATU, CUTIA NÃO.




11. MARQUE A ALTERNATIVA ONDE A SÍLABA DA PALAVRA ESTÁ SEPARADA CORRETAMENTE:

- A) PA – NE – LA
- B) PAN – E – LA
- C) PA – LA – NE



GABARITO



1	A	B	C
2	A	B	C
3	A	B	C
4	A	B	C
5	A	B	C
6	A	B	C
7	A	B	C
8	A	B	C
9	A	B	C
10	A	B	C
11	A	B	C

UNIDADE ESCOLAR:

PROFESSOR(A) ANO DE ESCOLARIDADE DATA

1º ano 9ª semana (11/04 a 13/04)

NOME:

HOJE É?

SEGUNDA TERÇA QUARTA QUINTA SEXTA

CÓDIGO BNCC

EF01MA07/ EF01MA10/ EF01MA15

MA MATEMÁTICA



1. ESCREVA OS NÚMEROS:

DOIS _____		UM _____
CINCO _____		SEIS _____
SETE _____		NOVE _____
QUATRO _____		OITO _____
TRÊS _____		DEZ _____

2. COMPLETE A SEQUÊNCIA NUMÉRICA COM OS NÚMEROS FALTOSOS:


1		3			6	7			10
	12		14	15			18		
21		23			26				29

3. QUEM VEM ANTES E DEPOIS?

_____ 3 _____ _____ 7 _____ _____ 8 _____

_____ 5 _____ _____ 9 _____ _____ 4 _____

4. OBSERVE O DESENHO E MARQUE A RESPOSTA CERTA:



- A LATA DE TINTA ESTÁ:

- DO LADO DIREITO DO MENINO.
 DO LADO ESQUERDO DO MENINO.

- A MAÇÃ ESTÁ:

- ENTRE O GATO E O MENINO.
 ENTRE A LATA E O MENINO.

- O MENINO ESTÁ:

- DO LADO DIREITO DA MAÇÃ;
 DO LADO ESQUERDO DA MAÇÃ.

- O GATO ESTÁ:

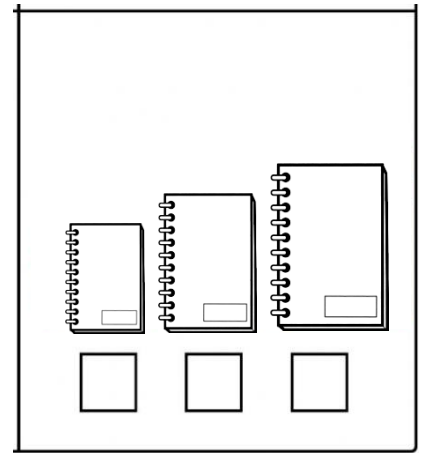

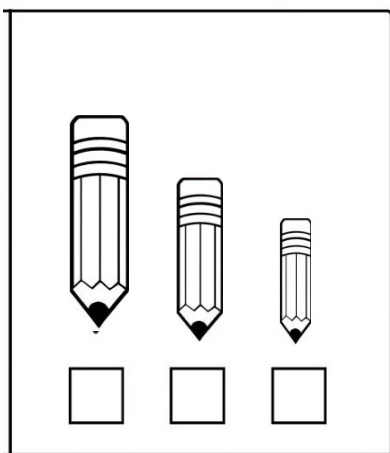
- À DIREITA DA MAÇÃ;
 À ESQUERDA DA MAÇÃ.

5. ENUMERE CADA GRUPO PARA IDENTIFICAR O TAMANHO DE CADA OBJETO:







1 – PARA PEQUENO

2 – PARA MÉDIO









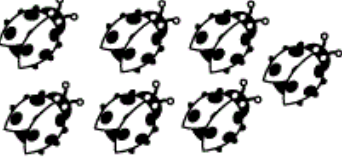

3 - PARA GRANDE



6. QUAL CONJUNTO DE LARANJAS DEVEMOS USAR, EM CADA RECIPIENTE, PARA QUE TODOS FIQUEM CHEIOS?

<p>A</p> 	•	
<p>B</p> 	•	
<p>C</p> 	•	

7. RESOLVA A SOMA DOS ELEMENTOS:

HAVIAM	CHEGARAM	TOTAL
		$\begin{array}{r} 4 \\ + 3 \\ \hline 7 \end{array}$
		$\begin{array}{r} \dots \\ + \dots \\ \hline \dots \end{array}$
		$\begin{array}{r} \dots \\ + \dots \\ \hline \dots \end{array}$
		$\begin{array}{r} \dots \\ + \dots \\ \hline \dots \end{array}$
		$\begin{array}{r} \dots \\ + \dots \\ \hline \dots \end{array}$



UNIDADE ESCOLAR:

PROFESSOR(A) ANO DE ESCOLARIDADE DATA

1º ano 9ª semana (11/04 a 13/04)

NOME:

HOJE É? SEGUNDA TERÇA QUARTA QUINTA SEXTA

CÓDIGO BNCC

EF01CI02



CIÊNCIAS



1. NOSSO CORPO.

NOSSO CORPO - (SE ESSA RUA FOSSE MINHA)

NOSSO CORPO, NOSSO CORPO
SE DIVIDE.
EM TRÊS PARTES,
EM TRÊS PARTES, DIFERENTES.
CABEÇA, TRONCO E MEMBROS, MINHA GENTE
FORMA O CORPO DESSA GENTE TÃO CONTENTE!

HÁ MEMBROS QUE CHAMAMOS SUPERIORES
SÃO AQUELES QUE USAMOS PARA ABRAÇAR.
E OS OUTROS QUE SE CHAMAM INFERIORES
TODOS NÓS OS USAMOS PRA PULAR.
PRA PULAR, PRA PULAR. (BIS)



ISABEL CRISTINA SILVEIRA SOARES

2. QUAL O TÍTULO DA MÚSICA?

3. EM QUANTAS PARTES O CORPO SE DIVIDE?

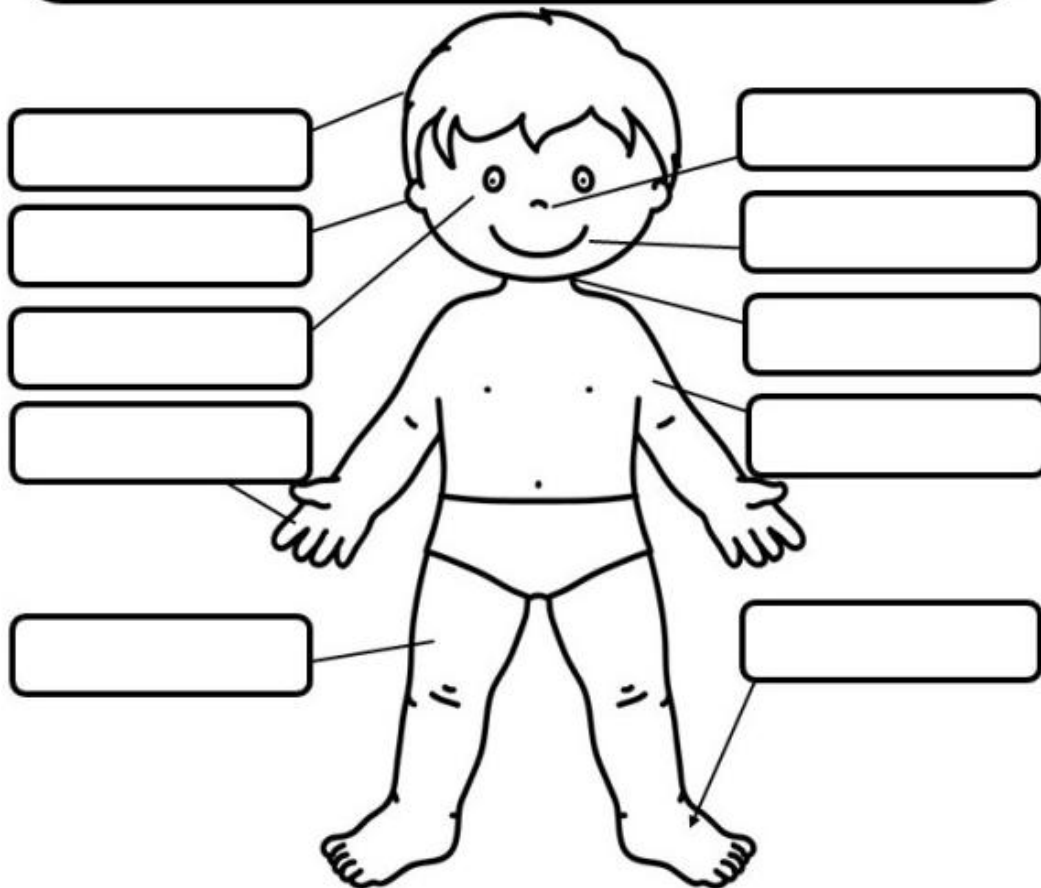
5 2 3

4. OS MEMBROS SÃO CHAMADOS:

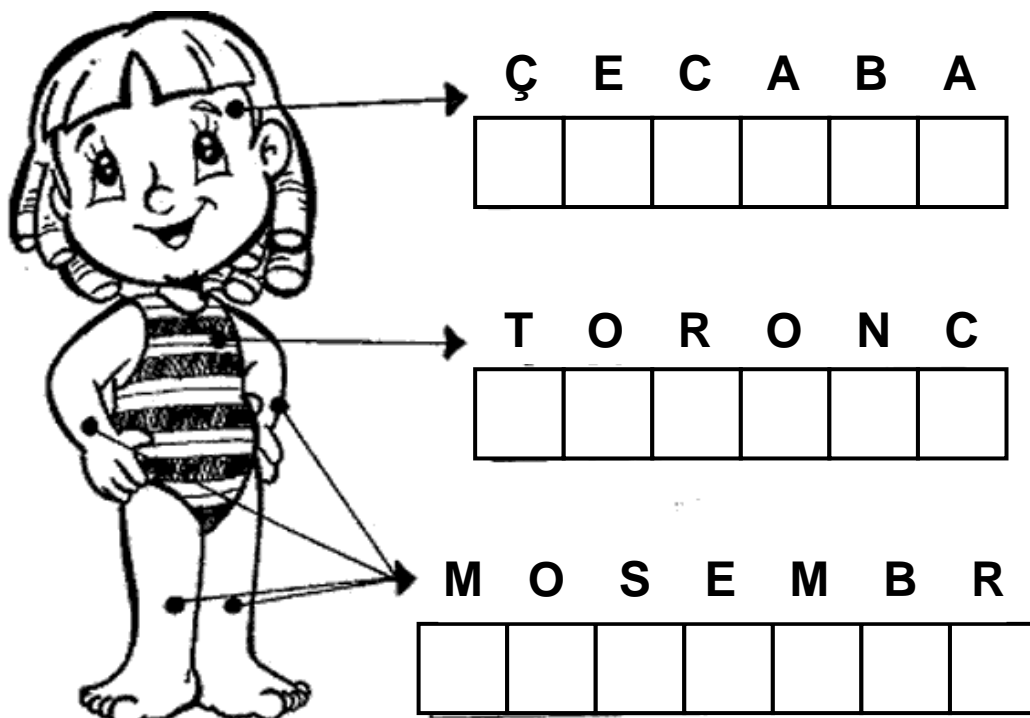
INFERIORES E TRONCO SUPERIORES E INFERIORES
 SUPERIORES E CABEÇA.

5. ESCREVA AS PARTES DO CORPO DE ACORDO COM A TABELA:

CABEÇA - PÉ - BOCA - MÃO -
ORELHA - BRAÇO - NARIZ - OLHO
- PESCOÇO - PERNA



6. DESCUBRA A PALAVRA EMBARALHADA E COPIE-A:



6. LEIA OS NOMES DO CORPO E ESCREVA DE ACORDO COM O MODELO NO QUADRO ABAIXO:

COTOVELOS	CALCANHARES	DENTES	ORELHAS
MÃO	DEDOS DA MÃO	BOCA	BARRIGA
BRAÇOS	UNHAS DA MÃO	ESTÔMAGO	COSTAS
COXAS	UMBIGO	JOELHOS	PEITO
OLHOS	LÍNGUA	PERNAS	PÉS


QUADRO DAS PARTES DO CORPO

CABEÇA	TRONCO	MEMBROS SUPERIORES	MEMBROS INFERIORES
OLHOS	UMBIGO		
			JOELHOS

7. QUANTOS VOCÊ TEM?



CORPO



UNIDADE ESCOLAR:

PROFESSOR(A)

ANO DE ESCOLARIDADE

1º ano

DATA

9ª semana (11/04 a 13/04)

NOME:

HOJE É?

SEGUNDA

TERÇA

QUARTA

QUINTA

SEXTA

CÓDIGO BNCC

EF01ER06

ER ENSINO RELIGIOSO



1. COMPLETE AS PALAVRAS COM AS LETRAS QUE FALTAM E ESCREVA-AS NO POEMA:

1 A S C A

5 C H C O T

2 V A

6 P Z

3 M R

7 A L G R

4 E N H R

A PÁSCOA

APRENDI QUE A _____

É _____ NOVA, É _____ !

AGORA JÁ SEI

A PÁSCOA É RESSURREIÇÃO DO _____ !

GANHAR _____ É BOM!

O MAIS IMPORTANTE,

A CADA DIA,

É SER MELHOR,

VIVER EM _____ E _____ !

