

PREFEITURA MUNICIPAL DE BOM JESUS DO ITABAPOANA-RJ
SECRETARIA MUNICIPAL DE EDUCAÇÃO, ESPORTE E LAZER

SEMEEL

A mudança está em nossas mãos

Atividades Orientadoras



1º
ano

Ensino Fundamental

UNIDADE ESCOLAR:

PROFESSOR(A)

ANO DE ESCOLARIDADE

DATA

NOME:

HOJE É?

SEGUNDA TERÇA QUARTA QUINTA SEXTA

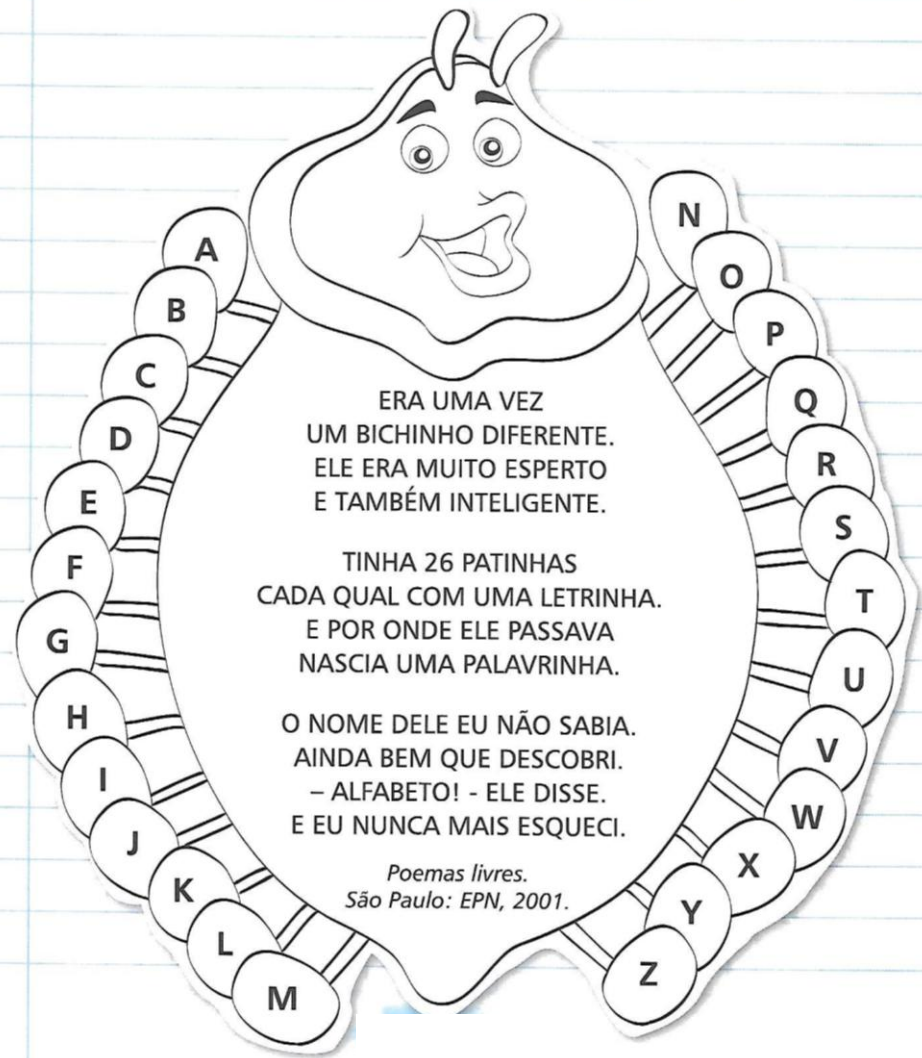
CÓDIGO BNCC

LÍNGUA PORTUGUESA



1. VAMOS CONHECER O POEMA ABAIXO E RESPONDER AS QUESTÕES:

UM BICHINHO DIFERENTE
(Priscila Ramos de Azevedo)



ERA UMA VEZ
UM BICHINHO DIFERENTE.
ELE ERA MUITO ESPERTO
E TAMBÉM INTELIGENTE.

TINHA 26 PATINHAS
CADA QUAL COM UMA LETRINHA.
E POR ONDE ELE PASSAVA
NASCIA UMA PALAVRINHA.

O NOME DELE EU NÃO SABIA.
AINDA BEM QUE DESCOBRI.
- ALFABETO! - ELE DISSE.
E EU NUNCA MAIS ESQUECI.

*Poemas livres.
São Paulo: EPN, 2001.*

2. QUAL O TÍTULO DO POEMA?

3. COMO ERA O BICHINHO DO POEMA?

E

4. QUANTAS PATINHAS ELE TINHA?

6

16

26

36

5. QUAL O NOME DO BICHINHO DO POEMA?

6. MARQUE UM X NA QUANTIDADE DE VERSOS DO POEMA:

10

11







12

13

14


7. QUANTAS ESTROFES HÁ NO POEMA?

8. NO BICHINHO DIFERENTE HÁ LETRAS. ESCREVA A VOGAL QUE INICIA O NOME DE CADA DESENHO.



9. ESCREVA AS VOGAIS DO ALFABETO:

10. PINTE OS ESPAÇOS QUE CONTÊM VOGAIS E DESCUBRA O ANIMAL QUE ESTÁ ESCONDIDO.



- ESCREVA O NOME DO ANIMAL QUE VOCÊ ENCONTROU: _____

- SE EU TROCAR A CONSOANTE **G** POR **P**, QUAL O NOME DE ANIMAL QUE FORMO?

- DESENHE ESSE ANIMAL:

11. PINTE OS ENCONTROS VOCÁLICOS QUE A PROFESSORA DITAR:

AI	UAI	OU	IA
EU	OI	UI	AU

UNIDADE ESCOLAR:

PROFESSOR(A)

ANO DE ESCOLARIDADE

DATA

NOME:

HOJE É?

SEGUNDA

TERÇA

QUARTA

QUINTA

SEXTA

CÓDIGO BNCC

MATEMÁTICA



1. VAMOS LER E CIRCULAR O NOME DO OBJETO QUE APARECE NO TEXTO:

JOGO DE DADOS

(Waldirene Dias)


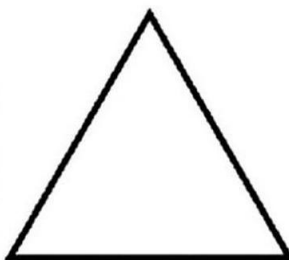
O DEDO NO DADO
O DADO NO DEDO
O DADO ROLA
E DÁ MEDO!

QUANTOS PONTOS
VOU SOMAR?
UM, DOIS, TRÊS
GANHEI MAIS UMA VEZ!




- QUAIS OS NÚMEROS QUE APARECEM NO DESENHO DO DADO DO TEXTO?

- QUAL A FORMA GEOMÉTRICA DO DADO?



2. CALCULE AS ADIÇÕES REPRESENTADAS NOS DADOS:

	+		=	
	+		=	
	+		=	
	+		=	
	+		=	
	+		=	



3. COMPLETE A SEQUÊNCIA NUMÉRICA DE 0 A 19:

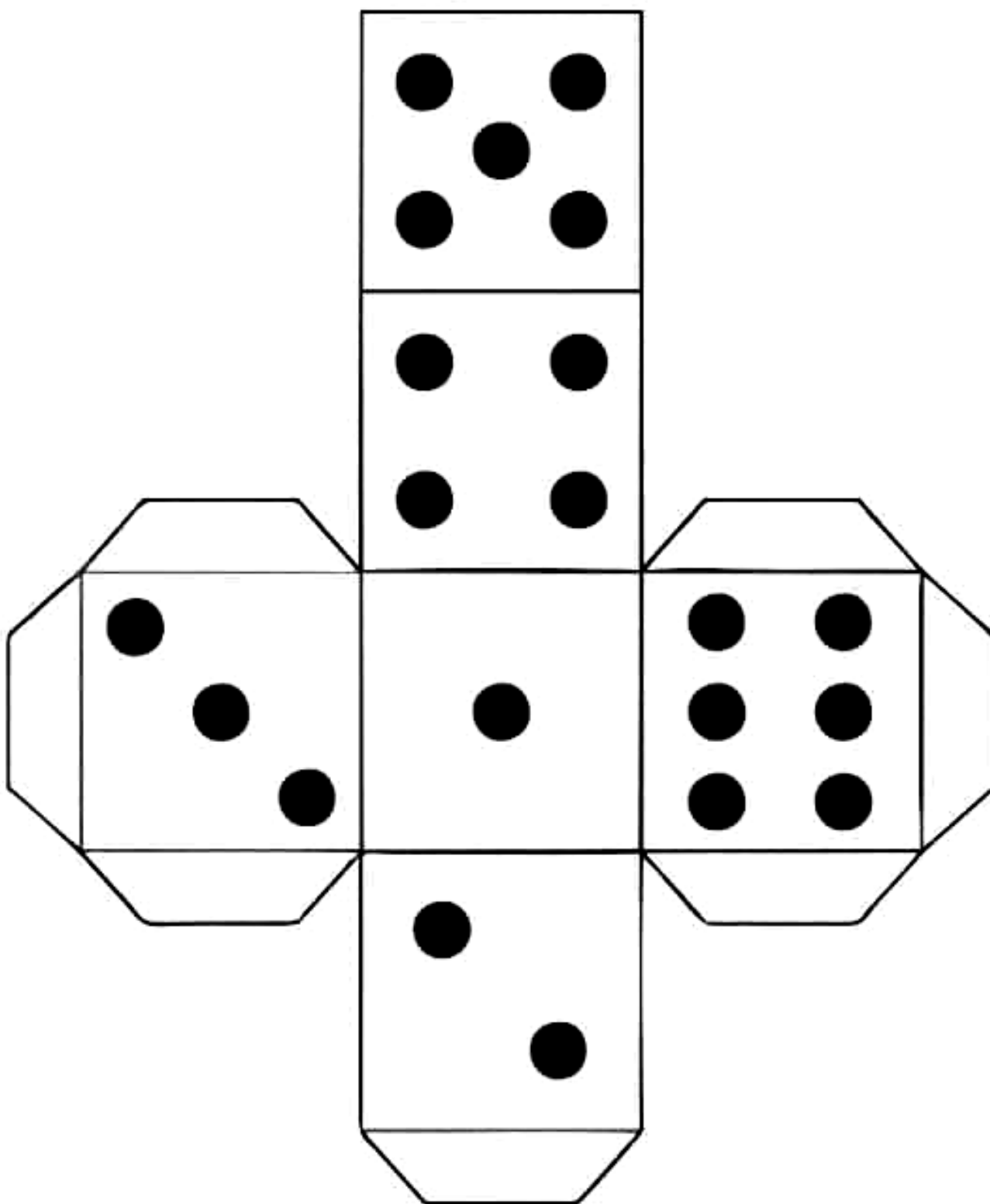
0									

4. COMPLETE COM ANTECESSOR E SUCESSOR:

<input type="text"/>	—	10	—	<input type="text"/>
<input type="text"/>	—	16	—	<input type="text"/>
<input type="text"/>	—	14	—	<input type="text"/>

<input type="text"/>	—	18	—	<input type="text"/>
<input type="text"/>	—	12	—	<input type="text"/>

5. VAMOS RECORTAR E MONTAR O DADO:



UNIDADE ESCOLAR:

PROFESSOR(A)

ANO DE ESCOLARIDADE

1º ANO

DATA

6ª SEMANA (21 a 25/03)

NOME:

HOJE É?

SEGUNDA

TERÇA

QUARTA

QUINTA

SEXTA

CÓDIGO BNCC

EF01CI04

CIÊNCIAS



1. QUEM SOMOS NÓS? OBSERVE A IMAGEM ABAIXO:



- ESSA IMAGEM MOSTRA VÁRIAS PESSOAS. ELAS SÃO IGUAIS? _____.

- VAMOS ESCREVER ALGUMAS CARACTERÍSTICAS FÍSICAS QUE VOCÊ OBSERVOU NAS PESSOAS DA IMAGEM ?

2. SOMOS MUITOS, MAS SOMOS ÚNICOS, CADA PESSOA TEM UMA HISTÓRIA E UMA FAMÍLIA DIFERENTE. DESENHE VOCÊ E SUA FAMÍLIA.

3. PREENCHA AS LINHAS COM ALGUMAS INFORMAÇÕES SOBRE VOCÊ.

NOME: _____

IDADE: _____

CIDADE: _____

PAÍS: _____

NOME DO PAI: _____

NOME DA MÃE: _____

COM QUEM VOCÊ SE PARECE MAIS? _____

QUANTOS IRMÃOS? _____

QUANTAS IRMÃS? _____

QUANTAS PESSOAS MORAM NA SUA CASA? _____



UNIDADE ESCOLAR:

PROFESSOR(A)

ANO DE ESCOLARIDADE

DATA

NOME:

HOJE É?

SEGUNDA TERÇA QUARTA QUINTA SEXTA

CÓDIGO BNCC

MATEMÁTICA



20 VINTES
2 DEZENAS

QUANTOS SÃO DUAS DEZENAS?

D	U

21 - 22 - 23 - 24 - 25 - 26 - 27 - 28 - 29

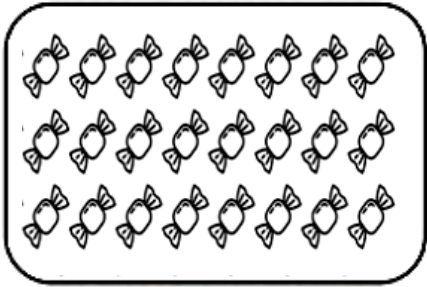





➤ VAMOS TREINAR:

20 - 21 - 22 - 23 - 24
 25 - 26 - 27 - 28 - 29

➤ COMPLETE AS CASINHAS COM OS NÚMEROS QUE ESTÃO FALTANDO:

D U □ □	D U 2 1	D U □ □	D U □ □	D U □ □
D U 2 5	D U □ □	D U □ □	D U □ □	D U 2 9

➤ VAMOS CONTAR E REGISTRAR A QUANTIDADE:

 <input style="width: 40px; height: 30px; margin-left: 10px;" type="text"/>	 <input style="width: 40px; height: 30px; margin-left: 10px;" type="text"/>
 <input style="width: 40px; height: 30px; margin-left: 10px;" type="text"/>	 <input style="width: 40px; height: 30px; margin-left: 10px;" type="text"/>
 <input style="width: 40px; height: 30px; margin-left: 10px;" type="text"/>	 <input style="width: 40px; height: 30px; margin-left: 10px;" type="text"/>

UNIDADE ESCOLAR:

PROFESSOR(A)

ANO DE ESCOLARIDADE

DATA

NOME:

HOJE É?

SEGUNDA

TERÇA

QUARTA

QUINTA

SEXTA




CÓDIGO BNCC




EF01LP18




LÍNGUA PORTUGUESA



COMPLETE O TRAVA-LÍNGUA:




É UM  _____, É UM  _____, É UM  _____.

É UM  _____, É UM  _____, É UM  _____.

É UM  _____, É UM  _____, É UM  _____.

É UM  _____, É UM  _____, É UM  _____.


É UM  _____, É UM  _____, É UM  _____.

É UM  _____, É UM  _____, É UM  _____.

(CULTURA POPULAR)



DADO



DIA



DEDO