

PREFEITURA MUNICIPAL DE BOM JESUS DO ITABAPOANA-RJ
SECRETARIA MUNICIPAL DE EDUCAÇÃO, ESPORTE E LAZER

Atividades Orientadoras



Educação de Jovens e Adultos

FASE III

UNIDADE ESCOLAR:

PROFESSORA DATA

NOME:

FASE CÓDIGO BNCC

LP

LÍNGUA PORTUGUESA



FIQUE POR DENTRO

BIOGRAFIA DE MONTEIRO LOBATO

MONTEIRO LOBATO (1882-1948) FOI UM ESCRITOR E EDITOR BRASILEIRO. "**O SÍTIO DO PICA-PAU AMARELO**" É SUA OBRA DE MAIOR DESTAQUE NA LITERATURA INFANTIL. CRIOU A "EDITORA MONTEIRO LOBATO" E MAIS TARDE, A "COMPANHIA EDITORA NACIONAL". FOI UM DOS PRIMEIROS AUTORES DE LITERATURA INFANTIL DE NOSSO PAÍS E DE TODA AMÉRICA LATINA. AO LADO DA LITERATURA INFANTIL, MONTEIRO LOBATO TAMBÉM DEIXOU EXTENSA OBRA VOLTADA PARA O PÚBLICO ADULTO.


NASCEU EM **TAUBATÉ**, SÃO PAULO, **NO DIA 18 DE ABRIL DE 1882**. ERA FILHO DE JOSÉ BENTO MARCONDES LOBATO E OLÍMPIA MONTEIRO LOBATO. ALFABETIZADO PELA MÃE, LOGO DESPERTOU O GOSTO PELA LEITURA, LENDO TODOS OS LIVROS INFANTIS DA BIBLIOTECA DE SEU AVÔ, O VISCONDE DE TREMEMBÉ.

[https://www.ebiografia.com/monteiro_lobato/#:~:text=Monteiro%20Lobato%20\(1882%2D1948\),e%20de%20toda%20Am%C3%A9rica%20Latina.](https://www.ebiografia.com/monteiro_lobato/#:~:text=Monteiro%20Lobato%20(1882%2D1948),e%20de%20toda%20Am%C3%A9rica%20Latina.)

1 QUEM FOI MONTEIRO LOBATO?

2 EM QUAL CIDADE ELE NASCEU?

3 QUAL A SUA OBRA DE MAIOR DESTAQUE?



4 MARQUE NO CALENDÁRIO O DIA DO NASCIMENTO DE MONTEIRO LOBATO.

calendário mensal ANO 2022 www.jogral.com.br						
abril						
Dom	Seg	Ter	Qua	Qui	Sex	Sab
					1	2
3	4	5	6	7	8	9
10	11	12	13	14	15	16
17	18	19	20	21	22	23
24	25	26	27	28	29	30

GÊNERO TEXTUAL: FÁBULA

O BURRO JUIZ

DISPUTAVA A **GRALHA** COM O **SABIÁ**, AFIRMANDO QUE A SUA VOZ VALIA A DELE. COMO AS OUTRAS AVES RISSEM DAQUELA PRETENSÃO, A BULHENTA MATRACA DE PENAS, FURIOSA, DISSE:

— NADA DE BRINCADEIRAS. ISTO É UMA QUESTÃO MUITO SÉRIA, QUE DEVE SER DECIDIDA POR UM JUIZ. CANTA O SABIÁ, CANTO EU, E A SENTENÇA DO JULGADOR DECIDIRÁ QUEM É O MELHOR ARTISTA. TOPAM?— TOPAMOS! PIARAM AS AVES. MAS QUEM SERVIRÁ DE JUIZ?

ESTAVAM A DEBATER ESTE PONTO, QUANDO ZURROU UM **BURRO**.

— NEM DE ENCOMENDA! EXCLAMOU A GRALHA. ESTÁ LÁ UM JUIZ DE PRIMEIRÍSSIMA PARA JULGAMENTO DE MÚSICA, POIS NENHUM ANIMAL POSSUI MAIORES ORELHAS. CONVIDÊ-MO-LO. ACEITOU O BURRO O JUIZADO E VEIO POSTAR-SE NO CENTRO DA RODA.

— VAMOS LÁ, COMECEM! ORDENOU ELE.

O SABIÁ DEU UM PULINHO, ABRIU O BICO E CANTOU. CANTOU COMO SÓ CANTAM SABIÁS, GARGANTEANDO OS TRINOS MAIS MELODIOSOS E LÍMPIDOS. UMA PURA MARAVILHA, QUE DEIXOU MERGULHADO EM ÊXTASE O AUDITÓRIO EM PESO.

— AGORA EU! DISSE A GRALHA, DANDO UM PASSO À FRENTE.

E ABRINDO A BICANCA MATRAQUEOU UMA GRITA DE ROMPER OS OUIDOS AOS PRÓPRIOS SURDOS. TERMINADA A JUSTA, O MERITÍSSIMO JUIZ DEU A SENTENÇA:

— DOU GANHO DE CAUSA À EXCELENTÍSSIMA SENHORA DONA GRALHA, PORQUE CANTA MUITO MAIS FORTE QUE MESTRE SABIÁ. (*)

MORAL DA HISTÓRIA:

*QUEM BURRO NASCE, TOGADO OU NÃO, BURRO MORRE.

MONTEIRO LOBATO

5 QUAL O TÍTULO DO TEXTO?

6 QUEM SÃO OS PERSONAGENS QUE APARECEM NA HISTÓRIA?

7 QUAL A MORAL DA HISTÓRIA?

8 QUEM É O AUTOR DA FÁBULA?



PALAVRAS COM RR

9 CIRCULE NO TEXTO PALAVRAS QUE TENHAM RR.

10 SEPARE AS SÍLABAS DAS PALAVRAS:

A) CARRUAGEM _____

B) BETERRABA _____

C) CORRIDA _____

D) TORRADA _____

E) TERRENO _____

F) CACHORRO _____

11 EM CADA COLUNA, HÁ DUAS PALAVRAS COM A GRAFIA ERRADA. LOCALIZE-AS.

CARAPATO	ROSA	RROMÃ
MORANGO	BARRIGA	LARRANJA
TOURADA	RREPOLHO	CEREJA
TANGERRINA	ARUDA	RELÓGIO



UNIDADE ESCOLAR:

PROFESSORA DATA

NOME:

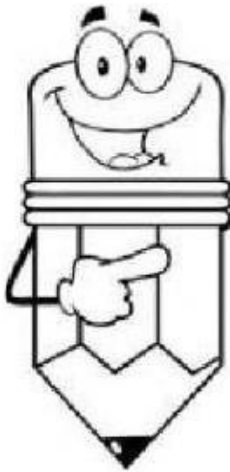
FASE CÓDIGO BNCC

MA

MATEMÁTICA



MEDIDAS DE TEMPO: DÉCADA, SÉCULO E MILÊNIO



Na contagem do tempo, também usamos como unidade de medida:

- **DÉCADA** = 10 anos.
- **SÉCULO** = 100 anos.
- **MILÊNIO** = 1.000 anos.

ATIVIDADES...

1 Com relação às medidas de tempo, responda a quantos anos equivalem:

a) 1 década

e) 5 décadas

i) 2 séculos e meio

b) 2 séculos

f) 7 séculos

j) 3 milênios e meio

c) 1 milênio

g) 4 milênio

k) 4 décadas e meia


d) Meia década

h) Meio milênio

l) 10 milênios

VOCÊS JÁ SE DEPARARAM COM ALGARISMOS ROMANOS EM ALGUM MOMENTO DE SUAS VIDAS?

OS ALGARISMOS ROMANOS SÃO ORIGINÁRIOS DA ROMA ANTIGA. EMBORA TENHAM SIDO DESENVOLVIDOS HÁ MAIS DE 2.000 ANOS COMO UMA FORMA DE IDENTIFICAÇÃO MATEMÁTICA SIMPLES, NOS DIAS DE HOJE NÃO É DIFÍCIL ENCONTRÁ-LOS EM MOSTRADORES DE RELÓGIOS, NA NUMERAÇÃO DE ARTIGOS DE DOCUMENTOS OU DE CAPÍTULOS DE LIVROS, DIFERENCIANDO PAPAS, RAINHAS E REIS COM O MESMO NOME (REI LUÍS XV, PAPA PAULO VI), NA IDENTIFICAÇÃO DE SÉCULOS, ENTRE OUTRAS SITUAÇÕES.



O sistema romano de numeração utiliza os seguintes símbolos:

Símbolo	I	V	X	L	C	D	M
Valor	1	5	10	50	100	500	1000

2 RESOLVA AS ADIÇÕES E COLOQUE A RESPOSTA EM NÚMERO ROMANO, CONFORME O MODELO.

a)	$1 + 1 = 2 \rightarrow II$
c)	$5 + 1 = \underline{\quad} \rightarrow \underline{\quad}$
e)	$10 + 1 = \underline{\quad} \rightarrow \underline{\quad}$
g)	$40 + 5 = \underline{\quad} \rightarrow \underline{\quad}$
i)	$60 + 17 = \underline{\quad} \rightarrow \underline{\quad}$

b)	$5 + 3 = \underline{\quad} \rightarrow \underline{\quad}$
d)	$30 + 10 = \underline{\quad} \rightarrow \underline{\quad}$
f)	$50 + 30 = \underline{\quad} \rightarrow \underline{\quad}$
h)	$70 + 15 = \underline{\quad} \rightarrow \underline{\quad}$
j)	$90 + 6 = \underline{\quad} \rightarrow \underline{\quad}$

3 ESCREVA QUE HORAS CADA RELÓGIO ESTÁ MARCANDO.



4 ESCREVA OS SUCESSORES DOS NÚMEROS ABAIXO.

I _____

IX _____

III _____

VII _____

VI _____

V _____

5 COLOQUE EM ORDEM CRESCENTE OS NÚMEROS ROMANOS DAS SEQUÊNCIAS ABAIXO.

a) X V I IV VII

b) XX L XL LX XXX

6 TRANSFORME OS NÚMEROS ROMANOS EM NÚMEROS NATURAIS.

a) XL IX CM DX

b) XC DV CD LV

UNIDADE ESCOLAR:

PROFESSORA DATA

NOME:

FASE CÓDIGO BNCC

HI HISTÓRIA

ÍNDIOS – OS PRIMEIROS HABITANTES DO BRASIL

OS ÍNDIOS SÃO COMO NOS REFERIMOS AOS POVOS ORIGINÁRIOS QUE HABITAVAM NO TERRITÓRIO NACIONAL ANTES DA **CHEGADA DOS PORTUGUESES**, EM 1500. APESAR DO TERMO “ÍNDIO” SER GENERALIZANTE, OS POVOS INDÍGENAS SÃO MARCADOS POR UMA ENORME DIVERSIDADE CULTURAL. ATUALMENTE, OS INDÍGENAS LUTAM, POLITICAMENTE, PARA GARANTIR SEU DIREITO DE DEMARCAÇÃO TERRITORIAL.




A **CELEBRAÇÃO DO DIA DO ÍNDIO** É FEITA NO DIA 19 DE ABRIL E TEM COMO PROPÓSITO TAMBÉM A PRESERVAÇÃO DA MEMÓRIA E A REFLEXÃO CRÍTICA NAS UNIVERSIDADES, ESCOLAS E DEMAIS INSTITUIÇÕES SEMELHANTES SOBRE O PASSADO DA RELAÇÃO DE DOMINAÇÃO E CONQUISTA DAS CIVILIZAÇÕES EUROPEIAS NO CONTINENTE AMERICANO.

<https://brasilecola.uol.com.br/datas-comemorativas/19-abril-dia-Indio.htm>

1 COMPLETE A CRUZADINHA COM AS PALAVRAS DO QUADRO.

CACIQUE	CANOVA	ARCO	COCAR	OCA
---------	--------	------	-------	-----



2 COMPLETE.

A) OS _____ SÃO COMO NOS REFERIMOS AOS POVOS ORIGINÁRIOS QUE HABITAVAM NO TERRITÓRIO _____ ANTES DA _____.

B) OS POVOS _____ SÃO MARCADOS POR UMA ENORME _____ CULTURAL.

O DESCOBRIMENTO DO BRASIL

A EXPEDIÇÃO DE PEDRO ÁLVARES CABRAL CHEGOU ÀS TERRAS BRASILEIRAS NO DIA 22 DE ABRIL DE 1500. APORTARAM EM PORTO SEGURO, NO ESTADO DA BAHIA. QUANDO DESEMBARCARAM, PERO VAZ DE CAMINHA, ESCRIVÃO DA ESQUADRA PORTUGUESA, ESCREVEU AO REI DE PORTUGAL CONTANDO A BELEZA DA TERRA AQUI ENCONTRADA.



OS PORTUGUESES DERAM OUTROS NOMES À TERRA BRASILEIRA ANTES DE SE CHAMAR BRASIL: **ILHA DE VERA CRUZ** E **TERRA DE SANTA CRUZ**.

O NOME BRASIL FOI ESCOLHIDO POR CAUSA DA MADEIRA PAU-BRASIL, QUE AQUI ERA ENCONTRADA EM GRANDE QUANTIDADE. O PAU-BRASIL ERA MUITO UTILIZADO NA EUROPA PARA FAZER NAVIOS E TINGIR ROUPAS. SUA COR É VERMELHA COMO BRASA, DAÍ O NOME **BRASIL**.

3 RESPONDA

A) QUEM FOI O PRIMEIRO EUROPEU A CHEGAR AO BRASIL?

B) QUAL FOI A DATA DO DESCOBRIMENTO DO BRASIL PARA OS PORTUGUESES?

() 22 DE MAIO DE 1500 () 22 DE ABRIL DE 1500 () 20 DE ABRIL DE 1500

C) QUAIS OUTROS NOMES OS PORTUGUESES DERAM AO BRASIL?

D) POR QUAL MOTIVO ESCOLHERAM O NOME BRASIL?



INCONFIDÊNCIA MINEIRA



FOI O PRIMEIRO MOVIMENTO PELA INDEPENDÊNCIA DO BRASIL. DENTRE OS INCONFIDENTES DESTACOU-SE **JOAQUIM JOSÉ DA SILVA XAVIER**, APELIDADO DE TIRADENTES. OS MINERADORES NÃO CONSEGUAM PAGAR OS IMPOSTOS COBRADOS POR PORTUGAL. A METRÓPOLE DECRETOU, ENTÃO, A DERRAMA, QUE ERA A COBRANÇA FORÇADA DOS IMPOSTOS ATRASADOS.



OS INCONFIDENTES QUERIAM O FIM DOS IMPOSTOS SOBRE O OURO, O PERDÃO DE TODAS AS DÍVIDAS ATRASADAS, O FIM DO DOMÍNIO PORTUGUÊS DE MINAS GERAIS, A INSTITUIÇÃO DE UMA REPÚBLICA, A FUNDAÇÃO DE UMA UNIVERSIDADE EM VILA RICA, A ABERTURA DE ESCOLAS PARA O POVO E A CRIAÇÃO DO SERVIÇO MILITAR OBRIGATÓRIO.

A INCONFIDÊNCIA FRACASSOU. SILVÉRIO DOS REIS, UM DOS INCONFIDENTES, DENUNCIOU OS PLANOS ÀS AUTORIDADES DE MINAS GERAIS. TODOS OS PARTICIPANTES FORAM PRESOS E O LÍDER, TIRADENTES, FOI CONDENADO À MORTE E ENFORCADO, NO DIA 21 DE ABRIL DE 1792, NO RIO DE JANEIRO.

4 RESPONDA.

A) QUAL APELIDO DE JOAQUIM JOSÉ DA SILVA XAVIER? _____

B) QUE NOME SE DAVA À COBRANÇA FORÇADA DOS IMPOSTOS?

() QUINTA () DERRAMA () IPTU

5 ENCONTRE NO DIAGRAMA AS PALAVRAS DESTACADAS NO QUADRO ABAIXO

Joaquim José da Silva Xavier queria libertar o Brasil-Colônia de **PORTUGAL** e participou do movimento conhecido como Inconfidência Mineira. Abandonou o exército, sendo considerado um **INCONFIDENTE**. Seu apelido era **TIRADENTES** porque também era dentista. Ele foi preso e condenado à **FORÇA**.

S	V	P	X	M	B	Z	C	X	N	X	H
H	X	O	R	C	R	C	J	R	P	D	X
T	I	R	A	D	E	N	T	E	S	X	M
H	L	T	P	X	M	B	S	V	P	X	M
C	V	U	R	Q	X	N	X	H	Q	F	O
N	V	G	V	K	X	F	O	R	C	A	X
G	M	A	L	G	K	N	C	L	N	M	F
S	S	L	S	V	P	X	M	P	X	M	B
I	N	C	O	N	F	I	D	E	N	T	E