

PREFEITURA MUNICIPAL DE BOM JESUS DO ITABAPOANA-RJ
SECRETARIA MUNICIPAL DE EDUCAÇÃO, ESPORTE E LAZER

SEMEEL

A mudança está em nossas mãos

Atividades Orientadoras



1º
ano

Ensino Fundamental

UNIDADE ESCOLAR:

PROFESSOR(A)

ANO DE ESCOLARIDADE

1º ANO

DATA

13ª SEMANA (09 A 13/05)

NOME:

HOJE É?

SEGUNDA

TERÇA

QUARTA

QUINTA

SEXTA

CÓDIGO BNCC

EF01LP16/EF01LP02/EF01LP07/EF01LP09

LP LÍNGUA PORTUGUESA



TRAVA – LÍNGUA

É UMA ESPÉCIE DE JOGO VERBAL, QUE CONSISTE EM DIZER, COM CLAREZA E RAPIDEZ, VERSOS OU FRASES COM SÍLABAS DIFÍCEIS DE PRONUNCIAR OU DE SÍLABAS FORMADAS COM O MESMO SOM, MAS EM ORDEM DIFERENTE.

1. VAMOS LER COM A PROFESSORA O TRAVA – LÍNGUA ABAIXO:

ALÔ, O TATU TÁ AÍ?
NÃO, O TATU NÃO TÁ!
MAS A MULHER DO TATU TANDO,
É O MESMO QUE O TATU TÁ!



- PINTE AS LETRAS T DO TEXTO.

2. COMPLETE OS QUADROS COM AS LETRAS E AS SÍLABAS DO NOME DO DESENHO:





TATU



--	--	--	--

--	--

3. PINTE AS SÍLABAS QUE FORMAM O NOME DOS DESENHOS E COPIE:


	TA		TO
	TI		NA
	TU		MA
	TO		TO
	TE		TE

	TU		TE
	TE		TU
	BA		CA
	TO		NO
	RÃO		TI

	TA		TI
	PE		TU
	BI		LI
	TE		PA
	MO		BA


4. ENCONTRE O NOME DOS DESENHOS E COPIE:

GATO




G	T	T	G	F
O	O	A	A	A
T	C	T	T	T
A	A	U	O	O

MOTO




F	A	T	O	M
O	O	U	L	O
T	S	E	M	T
U	R	A	O	O
M	N	P	N	T

PATA



F	A	M	A	F	P
B	L	B	A	A	A
I	A	D	C	T	T
A	F	G	A	M	A

TATU



T	U	T	T	V	T
A	C	A	V	A	A
F	A	T	C	F	T
U	O	U	O	U	O

UNIDADE ESCOLAR:

PROFESSOR(A)

ANO DE ESCOLARIDADE

DATA

NOME:

HOJE É?

SEGUNDA

TERÇA

QUARTA

QUINTA

SEXTA

CÓDIGO BNCC



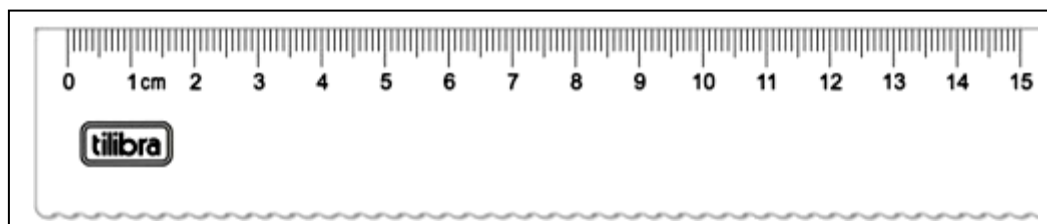
MATEMÁTICA



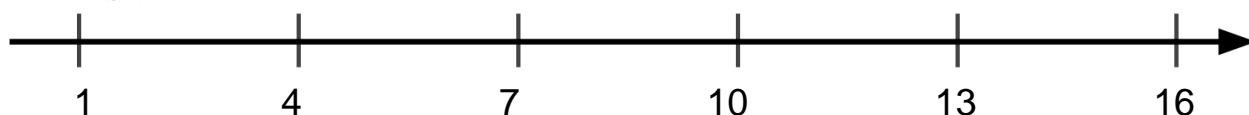
RETA NUMÉRICA

É UMA RETA NUMERADA, USADA GERALMENTE PARA MEDIR DISTÂNCIA.

A RÉGUA É UM EXEMPLO DE RETA NUMÉRICA

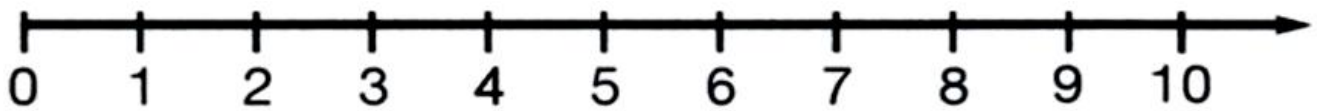


1. VAMOS LOCALIZAR EM QUE PONTO DA RETA NUMERADA ESTÃO OS OBJETOS DO MENINO?



O DADO? _____ O MENINO? _____ A BOLA? _____

2. OBSERVE A RETA NUMÉRICA E RESPONDA:



- QUAL É O MENOR NÚMERO DA RETA? _____

- QUAL É O MAIOR NÚMERO? _____

- QUAL NÚMERO VEM LOGO ANTES DE 2? _____

- QUAL NÚMERO VEM DEPOIS DE 6? _____

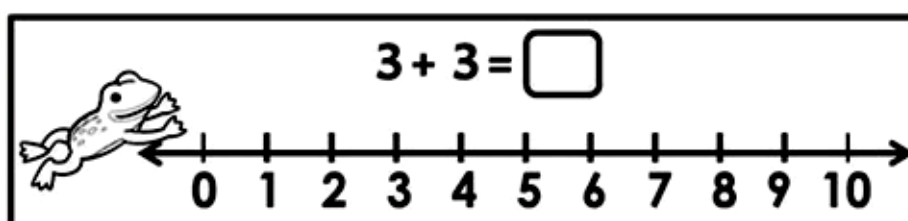
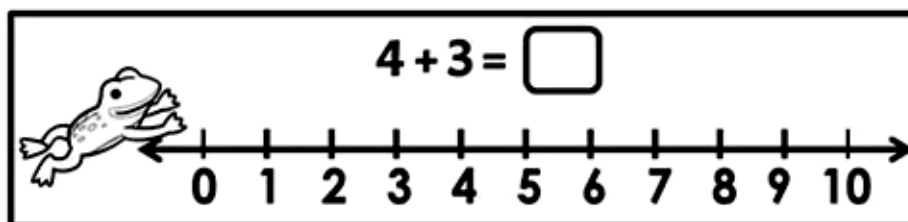
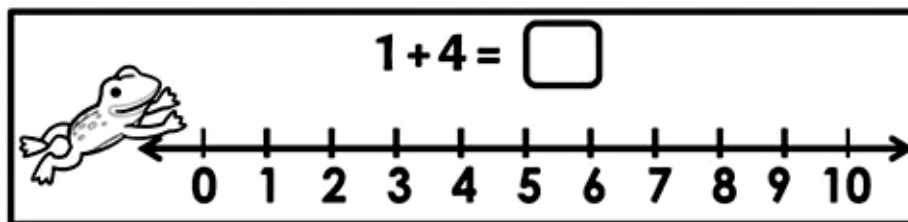
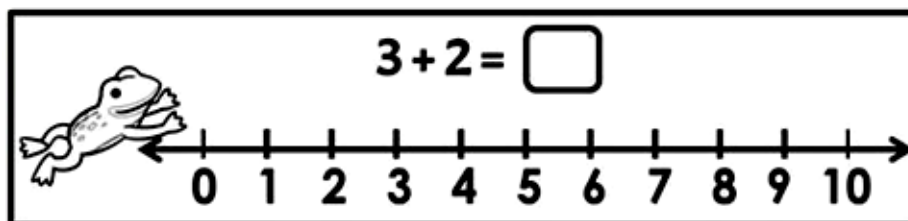
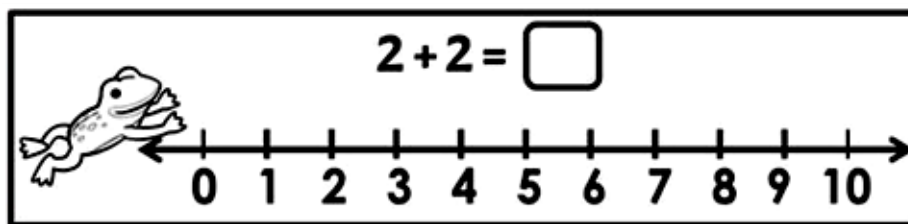
- COPIE OS NÚMEROS DA RETA NUMÉRICA EM ORDEM CRESCENTE:

- COPIE OS NÚMEROS EM ORDEM DECRESCENTE:

- QUAIS NÚMEROS ESTÃO ENTRE 1 E 7? _____

- QUAIS NÚMEROS ESTÃO ENTRE 5 E 10? _____

3. VAMOS SOMAR COM A RETA NUMÉRICA:



UNIDADE ESCOLAR:

PROFESSOR(A)

ANO DE ESCOLARIDADE
1º ANO

DATA
13ª SEMANA (09 A 13/05)

NOME:

HOJE É?

SEGUNDA TERÇA QUARTA QUINTA SEXTA

CÓDIGO BNCC


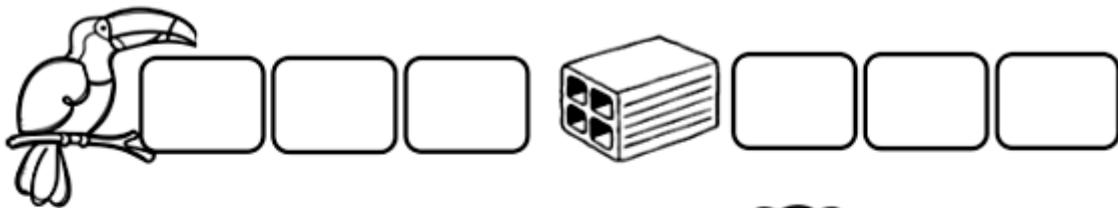
EF01LP16//EF01LP02/EF01LP07/EF01LP09

LP LÍNGUA PORTUGUESA

1. LEIA O TEXTO E CIRCULE AS PALAVRAS INICIADAS COM T.

COM T ESCREVO TOALHA, TATU,
TESOURA, TOMATE E TELEVISÃO.
REINA FERROZ NO OCEANO
DANDO NOME AO TUBARÃO.

2. SEPRE AS SÍLABAS DO NOME DOS DESENHOS QUE APARECEM NO TEXTO:




3. ENCONTRE PALAVRAS COM A LETRA T NO CAÇA-PALAVRAS E ESCREVA-AS:



1-.....
2-.....
3-.....
4-.....
5-.....


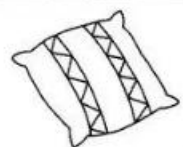





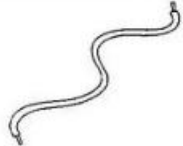

4. PINTE SOMENTE OS DESENHOS QUE TÊM A LETRA T. DEPOIS ESCREVA OS NOMES.



.....
.....
.....
.....
.....
.....

5. FAÇA O QUE SE PEDE:

D LOTERIA DO SABER T

DESENHO	PALAVRA	T	D	COPIE
	____ELEFONE	<input type="checkbox"/>	<input type="checkbox"/>	
	ALMOFA____A	<input type="checkbox"/>	<input type="checkbox"/>	
	____ESOURA	<input type="checkbox"/>	<input type="checkbox"/>	
	CAPACE____E	<input type="checkbox"/>	<input type="checkbox"/>	
	CA____EIRA	<input type="checkbox"/>	<input type="checkbox"/>	
	ESPAN____ALHO	<input type="checkbox"/>	<input type="checkbox"/>	
	PRA____ELEIRA	<input type="checkbox"/>	<input type="checkbox"/>	
	CA____ARÇO	<input type="checkbox"/>	<input type="checkbox"/>	
	____AMAN____UÁ	<input type="checkbox"/>	<input type="checkbox"/>	

UNIDADE ESCOLAR:

PROFESSOR(A)

ANO DE ESCOLARIDADE
1º ANO

DATA
13ª SEMANA (09 A 13/05)

NOME:

HOJE É?

SEGUNDA TERÇA QUARTA QUINTA SEXTA

CÓDIGO BNCC

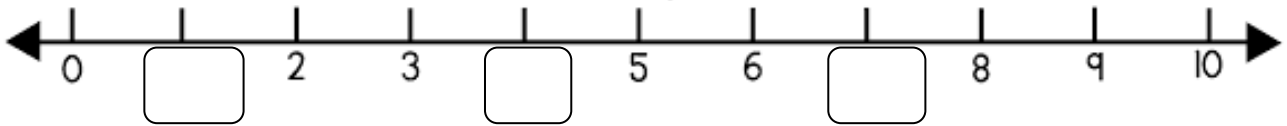
EF01MA01/EF01MA05/EF01MA09

MA MATEMÁTICA

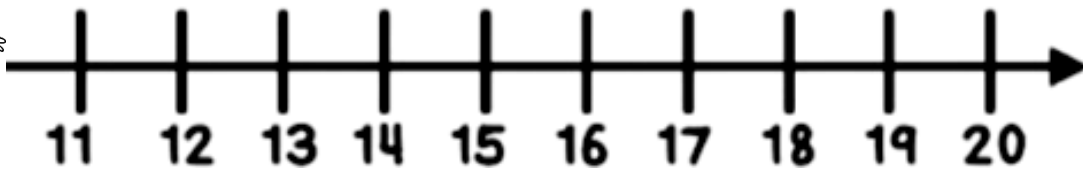


1. OBSERVE OS PERSONAGENS DO GAME DE JOSÉ.

- PEDRO CAMINHA NA PISTA NUMERADA. COMPLETE OS NÚMEROS QUE FALTAM.



2. OBSERVE O CAMINHO:



SIGA POR ELE PARA RESPONDER E COMPLETE:

- MARIA ESTAVA NO 11. DEU MAIS 4 PASSOS E CHEGOU NO _____.
- PEDRO ESTAVA NO 15. DEU 3 PASSOS E CHEGOU NO _____.
- JOSÉ ESTAVA NO 15. DEU MAIS _____ E CHEGOU NO 20.

3. OBSERVE NOVAMENTE O CAMINHO NO JOGO DE GAME:



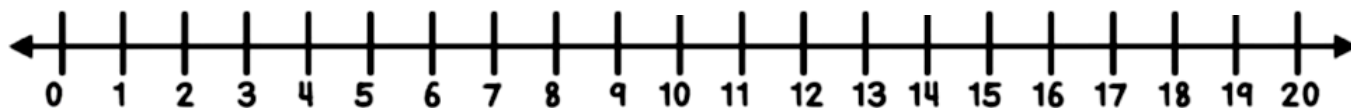
C



A



B



RESPONDA:

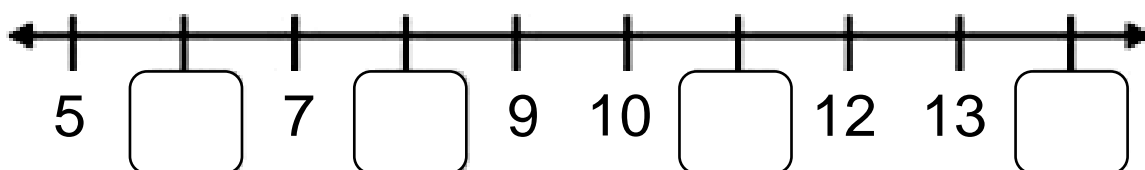
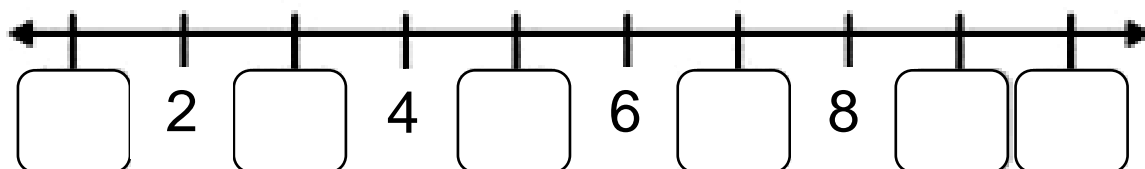
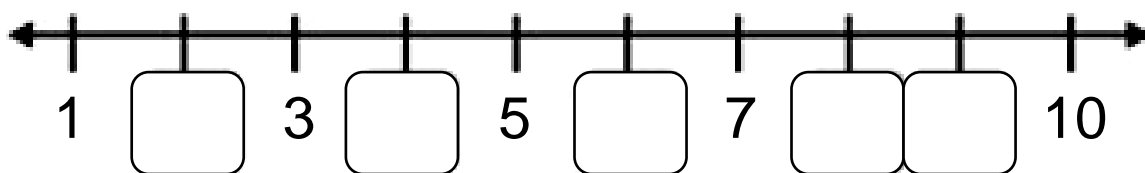
SE MARIA (A) ESTÁ NO 14, QUANTOS PASSOS FALTAM PARA ELA CHEGAR NO 20?

SE ISABEL(B) ESTÁ NO 19, QUANTOS PASSOS ELA DEU DEPOIS DO 10?

QUAL DAS DUAS ESTÁ MAIS PERTO DO 20? MARIA OU ISABEL? EXPLIQUE.

SE JOSÉ (C) ESTÁ NO 10 E ISABEL (B) ESTÁ NO 19, QUAL DOS DOIS ESTÁ MAIS PERTO DO 20? EXPLIQUE.

4 – ESCREVA OS NÚMEROS QUE FALTAM NA RETA NUMÉRICA:



UNIDADE ESCOLAR:

PROFESSOR(A)

ANO DE ESCOLARIDADE
1º ANO

DATA
13ª SEMANA (09 A 13/05)

NOME:

HOJE É?

SEGUNDA TERÇA QUARTA QUINTA SEXTA

CÓDIGO BNCC

EF01LP16 / EF15LP15



**13 DE MAIO - ABOLIÇÃO DA
ESCRAVATURA**

1. POEMA:

FIM DA ESCRAVIDÃO

OS PORTUGUESES PARA EXPLORAR
AS RIQUEZAS DO BRASIL
PRECISAVAM DE GENTE PARA TRABALHAR
E TROUXERAM MUITOS NEGROS PARA CÁ

TRABALHAVAM COMO ESCRAVOS
SEM DIREITO À IGUALDADE
MAS EM 13 DE MAIO DE 1888
CONQUISTARAM A LIBERDADE.

COM A LEI ÁUREA ASSINADA
PELA PRINCESA ISABEL
A ABOLIÇÃO FOI PROCLAMADA
E ESSA DATA FICOU MARCADA.



MARIA DE FÁTIMA DA SILVA DELFINO

2. ASSINALE A ALTERNATIVA CORRETA DE ACORDO COM O POEMA:

A) QUAL A LEI QUE ABOLIU A ESCRAVIDÃO NO BRASIL?

ÁUREA BRASIL

B) QUEM ASSINOU ESSA LEI?

TIRADENTES PRINCESA ISABEL

C) QUANDO ESSA LEI FOI ASSINADA?

22 DE ABRIL DE 1500. 13 DE MAIO DE 1888.

D) QUEM ERAM ESCRAVIZADOS?

NEGROS BRANCOS

E) OS NEGROS FORAM TRAZIDOS DA ÁFRICA PARA O BRASIL A FIM DE:

TRABALHAR PASSEAR

F) COMO ERA O TRABALHO DOS NEGROS?

ESCRAVO VOLUNTÁRIO

G) COMO VOCÊ ACHA QUE OS ESCRAVOS SE SENTIAM?

FELIZES TRISTES

H) DE ONDE OS NEGROS FORAM TRAZIDOS PARA TRABALHAR NO BRASIL?

PORTUGAL ÁFRICA

I) POR QUEM OS NEGROS ERAM ESCRAVIZADOS?

BRANCOS NEGROS

J) ERA CONSIDERADO TRABALHO ESCRAVO PORQUE OS NEGROS:

TRABALHAVAM MUITO, ERAM MALTRATADOS E NÃO RECEBIAM SALÁRIO.

TRABALHAVAM POUCO, ERAM BEM TRATADOS E RECEBIAM SALÁRIO.

