

PREFEITURA MUNICIPAL DE BOM JESUS DO ITABAPOANA-RJ  
SECRETARIA MUNICIPAL DE EDUCAÇÃO, ESPORTE E LAZER

**SEMEEL**

*A mudança está em nossas mãos*

# Atividades Orientadoras



**2º**  
ano

## Ensino Fundamental

UNIDADE ESCOLAR:

PROFESSOR(A)

ANO DE ESCOLARIDADE

DATA

2º ANO

10ª SEMANA (18 A 20/04)

NOME:

HOJE É?

SEGUNDA

TERÇA

QUARTA


QUINTA

SEXTA

CÓDIGO BNCC

EF02LP26 / EF02LP02 / EF02LP07

# LP LÍNGUA PORTUGUESA



## A ABELHA LILI

LILI É UMA LINDA ABELHINHA.  
LILI VOA, VOA PELO JARDIM.  
ELA COLHE O NÉCTAR DAS FLORES.  
LILI LEVA O NÉCTAR PARA A COLMEIA.  
SUAS IRMÃS TRANSFORMAM O NÉCTAR EM UM  
DELICIOSO MEL.  
LILI É UMA ABELHA MUITO TRABALHADEIRA.



**KÁTIA TEIXEIRA**

### COMPREENSÃO DO TEXTO

1 – QUAL É O TÍTULO DO TEXTO?

2 – LILI É:

UMA LAGARTA

UMA ABELHA

UMA BORBOLETA

UMA CIGARRA




3 – ONDE LILI VOA?

4 – AS PALAVRAS QUE CARACTERIZAM LILI SÃO:

GULOSA E LINDA

TEIMOSA E TRABALHADEIRA

LINDA E TRABALHADEIRA



5 – PARA ONDE LILI LEVA O NÉCTAR?


6 – AS ABELHAS TRANSFORMAM O NÉCTAR EM:

SUCO

LEITE

MEL





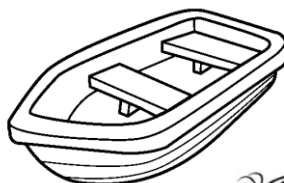
7 – ESCREVA O NOME DO DESENHO. DEPOIS, COLOQUE CADA SÍLABA EM UM QUADRINHO.




8 – COMPLETE O TABULEIRO COM AS LETRAS FALTOSAS.

	A					D					
											M
					P						
		U									


9 – OBSERVE OS DESENHOS ABAIXO E ESCREVA OS SEUS NOMES NOS RETÂNGULOS, EM ORDEM ALFABÉTICA.





10 - ESCREVA AS PALAVRAS NO SINGULAR E NO PLURAL:




O \_\_\_\_\_



OS \_\_\_\_\_




O \_\_\_\_\_




OS \_\_\_\_\_


11 – LEIA AS PALAVRAS E ILUSTRE:



pamela



tomate



boca

12 – AGORA É SUA VEZ! JUNTE AS SÍLABAS E FORME NOVAS PALAVRAS:



ca	ma	ma	te	me	ta
ba	me	za	pa	pe	va

---

---

---

---

---

---

13 – PINTE OS NOMES IGUAIS DA MESMA COR:

carvalo      tijolo      SAPATEIRO      BARATA

FAROFA      DINAMITE      urubu

barata      farofa      CAVALO

sapateiro      URUBU      TIJOLO      dinamite



UNIDADE ESCOLAR:

PROFESSOR(A)

ANO DE ESCOLARIDADE

DATA

NOME:

HOJE É?

SEGUNDA  TERÇA  QUARTA  QUINTA  SEXTA

CÓDIGO BNCC

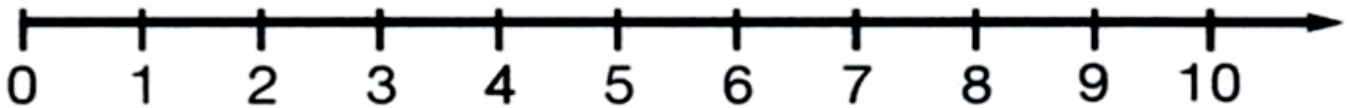
EF02MA04 / EF02MA05 / EF02MA12



# MATEMÁTICA



1 – OBSERVE A RETA NUMÉRICA E RESPONDA:



QUAL O MENOR NÚMERO DA RETA? \_\_\_\_\_

QUAL O MAIOR NÚMERO DA RETA? \_\_\_\_\_

QUAL O NÚMERO VEM LOGO ANTES DO 2? \_\_\_\_\_

QUAL O NÚMERO VEM LOGO DEPOIS DO 6? \_\_\_\_\_

QUE NÚMEROS ESTÃO ENTRE 5 E 10? \_\_\_\_\_

2 – SEGUINDO O MODELO, COMPONHA E DECOMPONHA OS NÚMEROS ABAIXO:

$20 + 1$

$21$

$16$

$10 + 6$

$10 + 2$

$27$

$30 + 3$

$18$

$20 + 4$

$39$

$30 + 5$

$20$

3 - COMPLETE OS NÚMEROS NO QUADRO OBSERVANDO A SEQUÊNCIA NUMÉRICA:

50		52	53		55				59
60	61			64			67		
70		72			75			78	
80							87		89
90		92			95			98	

4 – PAULO FEZ UM LONGO PERCURSO PARA PEGAR SEU SKATE. VEJA A FIGURA 1. AGORA, AJUDE PAULO A CHEGAR EM CASA, SEGUINDO O PERCURSO MAIS CURTO E DESENHE NA FIGURA 2.

Figura 1

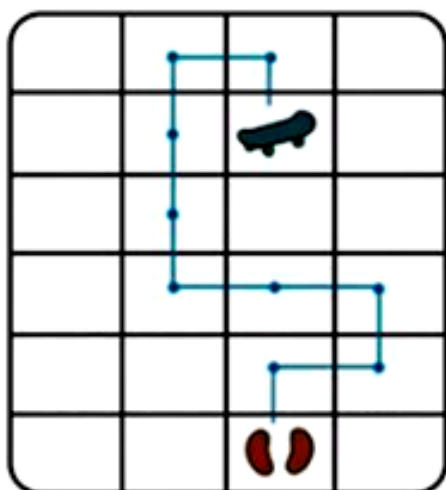
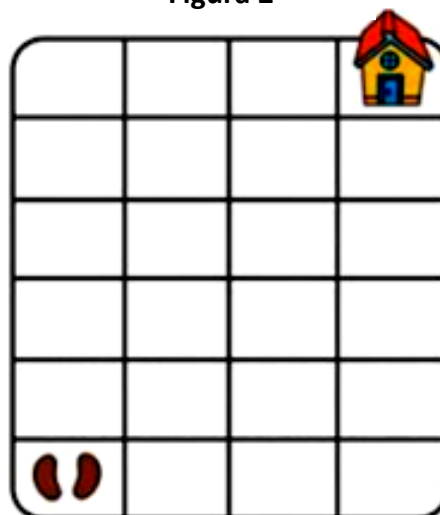


Figura 2



5 – MARCELA TEM DUAS TARTARUGAS. BILILA ESTÁ À **DIREITA**, PINTE-A DE VERDE. CANDINHA ESTÁ À **ESQUERDA** DELA, CIRCULE-A DE AZUL.

