

PREFEITURA MUNICIPAL DE BOM JESUS DO ITABAPOANA-RJ
SECRETARIA MUNICIPAL DE EDUCAÇÃO, ESPORTE E LAZER

Atividades Orientadoras



Educação de Jovens e Adultos

FASE I



UNIDADE ESCOLAR:

PROFESSORA

DATA

4ª SEMANA

NOME:

FASE

CÓDIGO BNCC

LP

LÍNGUA PORTUGUESA



1

LEIA O ALFABETO E RESPONDA:

A	B	C	D	E	F	G
H	I	J	K	L	M	N
O	P	Q	R	S	T	U
V	W	X	Y	Z		

A ESCREVA NOS QUADRINHOS:

1º LETRA DO ALFABETO

ÚLTIMA LETRA DO ALFABETO

A LETRA QUE VEM APÓS O F

A LETRA QUE COMPLETA A SEQUÊNCIA

2 FAÇA UM X NA OPÇÃO QUE TEM APENAS **VOGAIS**.

- (A) U/O/E.
- (B) P/T/A.
- (C) D/T/B.
- (D) C/J/M.

3 MARQUE UM X NA OPÇÃO QUE POSSUI APENAS **CONSOANTES**.

- (A) S/L/P/O.
- (B) A/R/T/K.
- (C) G/X/L/C.
- (D) E/T/U/Y.

4 OBSERVE A FIGURA ABAIXO.



PREGO

QUAL DAS FIGURAS ABAIXO TEM A MESMA QUANTIDADE DE SÍLABAS DA FIGURA EM DESTAQUE?



(A)



(B)



(C)



(D)

5

QUAL A FRASE ESTÁ ESCRITA CORRETAMENTE?

- (A) CHEGUEI ATRASADO NA AULA.
- (B) CHEGUEI A TRASADO NA AULA.
- (C) CHEGUEI ATRASADO NAAULA.
- (D) CHEGUEI ATRASADO NA AULA.

6

JUNTE AS SÍLABAS, FORME PALAVRAS, COPIE E LEIA. AGORA DIGA QUANTOS SONS TEM CADA PALAVRA.

BO — LA _____ ○

BO — NÉ _____ ○

BO — NE CA _____ ○

PE — LE _____ ○

PE — TE CA _____ ○

PE — NA _____ ○

LU — A _____ ○

LU — VA _____ ○

LU — NE TA _____ ○



UNIDADE ESCOLAR:

PROFESSORA

DATA

4ª SEMANA

NOME:

FASE

CÓDIGO BNCC

MA

MATEMÁTICA



1

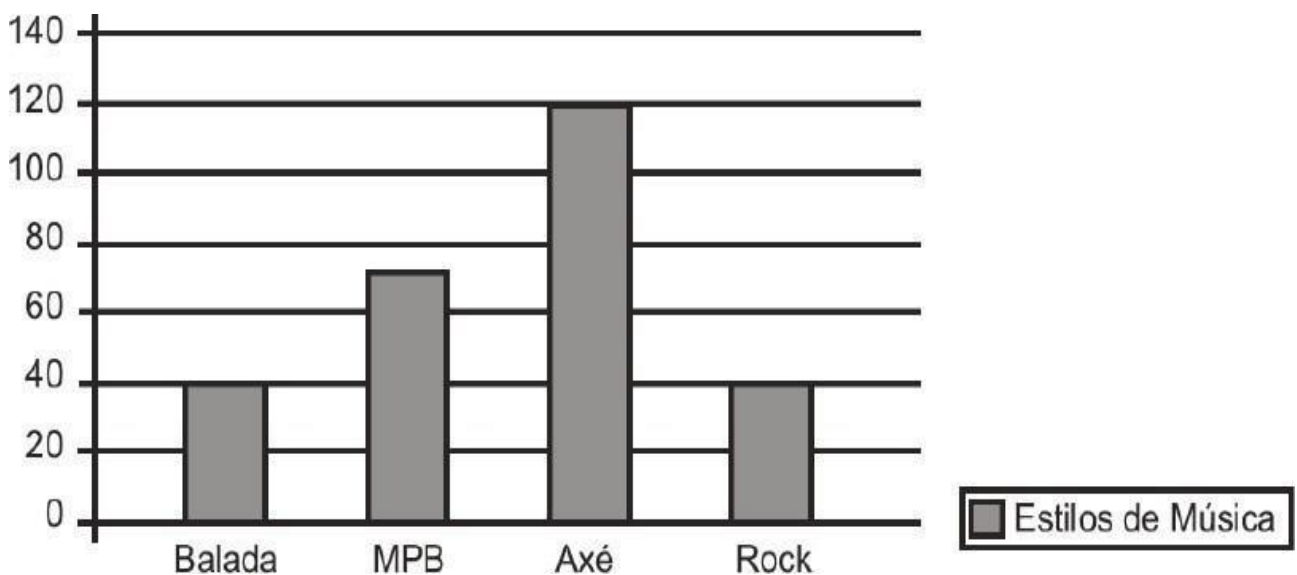
O DONO DA LOJA DE SUCOS FEZ UMA PESQUISA NO SEU LOCAL DE TRABALHO, SOBRE OS SABORES PREFERIDOS DOS FUNCIONÁRIOS E OBTEVE O SEGUINTE RESULTADO:

SABOR DO SUCO	VOTOS	CLASSIFICAÇÃO
SUCO VERDE	08	
SUCO DE LARANJA	12	1º
SUCO DE BETERRABA	04	
SUCO DE TOMATE	02	
SUCO DE ABACAXI	04	
SUCO DE UVA	07	
SUCO DE CENOURA COM LARANJA	08	
SUCO DE MELANCIA	02	
SUCO DE ABACAXI COM HORTELÃ	10	
SUCO DE COUVE COM GENGIBRE	02	
TOTAL DOS VOTOS		

A NA TERCEIRA COLUNA DA TABELA, REGISTRE A CLASSIFICAÇÃO DA VOTAÇÃO FEITA. LEMBRE-SE QUE PARA OS RESULTADOS DE EMPATE, A COLOCAÇÃO É A MESMA.

- B** QUAL FOI O TOTAL DE VOTOS? **PREENCHA NA TABELA.**
- C** QUAL SUCO FOI MAIS VOTADO? _____.
- D** QUAL FOI O SEGUNDO COLOCADO? _____.
- E** QUAL SUCO FOI MENOS VOTADO? _____.
- F** HOUVE EMPATE DE VOTOS? _____.
- G** QUAIS SUCOS EMPATARAM? _____.

2 O GRÁFICO ABAIXO MOSTRA OS DADOS OBTIDOS EM UMA PESQUISA, REALIZADA EM UM CLUBE, SOBRE A PREFERÊNCIA DE ESTILO DE MÚSICA.



- A** O ESTILO DE MÚSICA PREFERIDO PELAS PESSOAS ENTREVISTADAS É:
- A- () BALADA.
- B- () MPB.
- C- () AXÉ.
- D- () ROCK.

3 LIGUE CADA NOTA DE DINHEIRO AO SEU VALOR CORRESPONDENTE E ESCREVA A QUANTIDADE POR EXTENSO COMO NO MODELO:



R\$ 5,00

CINCO REAIS

R\$ 10,00

R\$ 2,00

R\$ 20,00

R\$ 50,00

R\$ 100,00

4

LEIA E RESOLVA AS SITUAÇÕES-PROBLEMA.

A DONA MARIA FEZ 15 COXINHAS PARA O LANCHE DA TARDE. SEUS FILHOS COMERAM 5. QUANTAS COXINHAS SOBRARAM?

SOBRARAM _____ COXINHAS.

CÁLCULO

B MARIANA TEM UMA CAIXA COM 24 LÁPIS DE COR. NA AULA DE ARTE, ELA GANHOU MAIS 13 DA SUA AMIGA. COM QUANTOS LÁPIS MARIANA FICOU?

MARIANA FICOU COM _____ LÁPIS DE COR.

CÁLCULO

5

COMPLETE A SEQUÊNCIA NUMÉRICA DE 1 A 50.

1				5				9	10
11	12						18		20
21				25					30
31	32						38		40
41				45					50



UNIDADE ESCOLAR:

PROFESSORA

DATA

4ª SEMANA

NOME:

FASE

CÓDIGO BNCC

LP

LÍNGUA PORTUGUESA



1 OBSERVE A IMAGEM E RESPONDA AS QUESTÕES.



A A IMAGEM ACIMA MOSTRA:

- (A) A MULHER OUVINDO MÚSICA.
- (B) A MULHER LAVANDO A CALÇADA.
- (C) A MULHER VARRENDO A CALÇADA.
- (D) A MULHER DANÇANDO NA CALÇADA.

B QUAL OBJETO A MULHER ESTÁ SEGURANDO NA IMAGEM ACIMA?

- (A) VESTIDO.
- (B) VASSOURA.
- (C) VERDURA.
- (D) VASILHA.

O que faz uma empregada doméstica?

Uma empregada doméstica, às vezes também chamada de "secretária" por considerar-se "empregada" uma palavra pejorativa, é uma mulher que faz o trabalho doméstico.

No Brasil é comum em casas de famílias de classe alta e média alta, sobretudo quando há crianças.


As empregadas domésticas realizam tarefas como: cozinhar, lavar, passar, limpar a casa, fazer pequenas compras, cuidar dos bebês ou crianças menores quando não estão na escola. Quando há pessoas idosas ou incapacitadas na família podem assumir também as tarefas de enfermeira ou cuidadora.

O uso do uniforme é normalmente obrigatório nas mansões e casas de famílias ricas, sendo menos comum nas casas de classe média. Nos edifícios as empregadas normalmente usam o elevador de serviço.

Podem dormir no emprego - mais comum em cidades grandes - ou permanecer no local de serviço apenas durante o horário de trabalho, que normalmente é das 8 às 5 ou 6 da tarde. Trabalham de segunda a sábado e descansam domingos e feriados.





Eu uso...



2

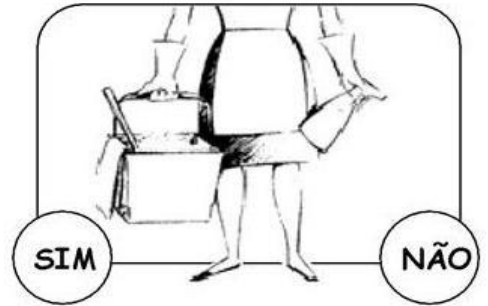


- | | |
|------------------------------------|-------------------------------------|
| <input type="radio"/> - aspirador | <input type="radio"/> - espanador |
| <input type="radio"/> - balde | <input type="radio"/> - lava louças |
| <input type="radio"/> - detergente | <input type="radio"/> - rodo |
| <input type="radio"/> - esfregão | <input type="radio"/> - vassoura |

Trabalho em...



3

OBSERVE AS TAREFAS DE UMA CASA. MARQUE **SIM** PARA AS QUE SÃO OBRIGAÇÕES DA EMPREGADA DOMÉSTICA E **NÃO** PARA AS QUE NÃO SÃO SUAS OBRIGAÇÕES.



4

LEIA A PALAVRA E COMPLETE O QUADRO.

DOMÉSTICAS

A	QUANTAS LETRAS?	
B	QUANTAS VOGAIS?	
C	QUANTAS CONSOANTES?	
D	QUANTAS SÍLABAS? (PEDACINHOS)	
E	QUAL A PRIMEIRA LETRA DA PALAVRA?	



UNIDADE ESCOLAR:

PROFESSORA

DATA

4ª SEMANA

NOME:

FASE

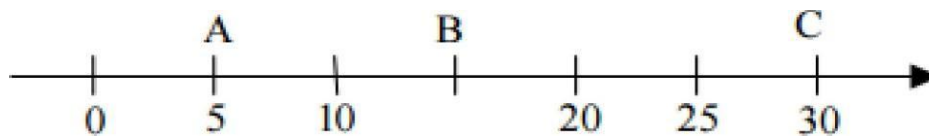
CÓDIGO BNCC

MA

MATEMÁTICA



1 ARMANDO(A), BÁRBARA(B) E CARLOS(C) MORAM NA MESMA RUA. PARA ENTREGAR UMA CORRESPONDÊNCIA, O CARTEIRO DEVERIA DESCOBRIR O ENDEREÇO COMPLETO DE BÁRBARA, SABENDO QUE AS CASAS ESTÃO DISPOSTAS SEGUNDO A FIGURA ABAIXO:

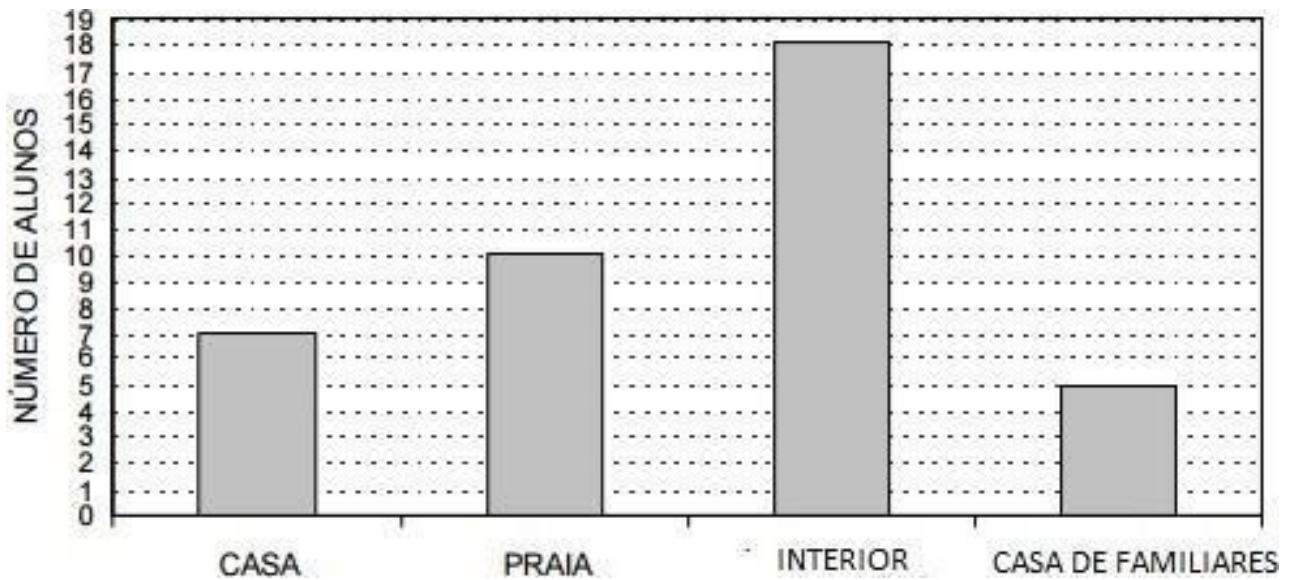


http://portal.mec.gov.br/arquivos/pdf/4_matematica.pdf

2 A CASA DE BÁRBARA FICA LOCALIZADA NO NÚMERO:

- (A) 11.
- (B) 12.
- (C) 13.
- (D) 15.

3 NO FINAL DO ANO, OS ESTUDANTES DO MÓDULO II FIZERAM UMA PESQUISA NA SALA, PARA SABER ONDE CADA UM IRIA PASSAR O CARNAVAL. CADA ESTUDANTE PODIA ESCOLHER UM SÓ LUGAR.



[HTTP://PORTAL.MEC.GOV.BR/ARQUIVOS/PDF/4_MATEMATICA.PDF](http://portal.mec.gov.br/arquivos/pdf/4_mateatica.pdf)

A DE ACORDO COM O GRÁFICO, QUAL LOCAL FOI O PREFERIDO PELA MAIORIA?

- (A) PRAIA
- (B) INTERIOR
- (C) CASA DE FAMILIARES
- (D) CASA

4 ESCREVA OS VIZINHOS DOS NUMERAIS:

	19	
--	-----------	--

	78	
--	-----------	--

	50	
--	-----------	--

	11	
--	-----------	--

	49	
--	-----------	--

	39	
--	-----------	--

	40	
--	-----------	--

	60	
--	-----------	--

5

RESOLVA OS PROBLEMAS.

A PAULO COMPROU UMA CAIXA COM 25 LARANJAS. 10 LARANJAS ESTAVAM ESTRAGADAS. QUANTAS LARANJAS ESTAVAM BOAS?

_____ LARANJAS ESTAVAM BOAS.

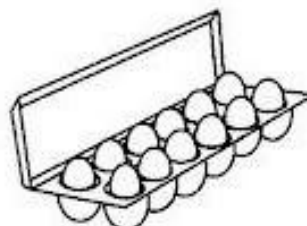


B NO ANIVERSÁRIO DE ANA PAULA, ESTAVAM 20 HOMENS E 15 MULHERES. QUANTAS PESSOAS ESTAVAM NO ANIVERSÁRIO DE ANA PAULA?

ESTAVAM NO ANIVERSÁRIO _____ PESSOAS.

C NO CAMPINHO ESTAVAM 17 CRIANÇAS JOGANDO BOLA. CHEGARAM MAIS 7 CRIANÇAS. QUANTAS CRIANÇAS FICARAM AO TODO?

AO TODO, FICARAM _____ CRIANÇAS.

6 CIRCULE OS PRODUTOS QUE SÃO COMPRADOS EM QUILO.





UNIDADE ESCOLAR:

PROFESSORA

DATA

4ª SEMANA

NOME:

FASE

CÓDIGO BNCC


LP

LÍNGUA PORTUGUESA



1

VAMOS ORGANIZAR UMA LISTA DE COMPRAS EM ORDEM ALFABÉTICA PARA IRMOS AO MERCADO.



2

LEIA O BILHETE COM A AJUDA DO PROFESSOR.

BELINHA,

PASSEI NA SUA CASA PARA CONTAR O QUE ACONTECEU
COMIGO ONTEM À NOITE.

TELEFONE PARA MIM HOJE À TARDE, QUE VOU CONTAR
TUDINHO PARA VOCÊ!

UM BEIJINHO DA AMIGA JULIANA.

15/04/2022

A

MARQUE A RESPOSTA CERTA

ESTE GÊNERO TEXTUAL É UM:

CARTÃO AVISO BILHETE

B

QUEM ESCREVEU O BILHETE FOI:

BELINHA JULIANA PAULA

C

PARA QUEM O BILHETE FOI ESCRITO:

BELINHA JULIANA PAULA

D

A DATA DO BILHETE É:

15 DE JANEIRO DE 2022.

15 DE ABRIL DE 2022.

15 DE MARÇO DE 2022.