

PREFEITURA MUNICIPAL DE BOM JESUS DO ITABAPOANA-RJ
SECRETARIA MUNICIPAL DE EDUCAÇÃO, ESPORTE E LAZER

Atividades Orientadoras



Educação de Jovens e Adultos

FASE II



UNIDADE ESCOLAR:

PROFESSORA

DATA

1ª SEMANA MAIO

NOME:

FASE

CÓDIGO BNCC

1



Língua Portuguesa

DIA DO TRABALHO.

A DATA FOI ESCOLHIDA EM HOMENAGEM AO ESFORÇO DOS TRABALHADORES DOS ESTADOS UNIDOS, QUE, NUM SÁBADO, 1º DE MAIO DE 1886, FORAM ÀS RUAS DAS MAIORES CIDADES DO PAÍS PARA PEDIR A REDUÇÃO DA CARGA HORÁRIA MÁXIMA DE 13 HORAS PARA 08 HORAS DE TRABALHO POR DIA.






A DATA INTERNACIONAL SURTIU DEPOIS DE PROTESTOS E MORTES DE OPERÁRIOS.

01

COMPLETE A TABELA ABAIXO.



TRABALHADORES

 A	QUANTAS CONSOANTES TEM A PALAVRA?	
 B	QUANTAS VOGAIS?	
 C	QUAL A PRIMEIRA LETRA?	
 D	QUAL A ÚLTIMA LETRA?	
 E	QUANTAS LETRAS TEM A PALAVRA?	

02 CAÇA-PALAVRAS DIA DO TRABALHO. ENCONTRE AS PROFISSÕES.

E	O	M	É	D	I	C	O	F	S	P	A	I	F	A	N	R	F
L	C	T	E	A	A	O	M	M	E	C	P	B	L	A	E	A	L
E	A	D	N	O	N	M	I	P	S	E	E	E	D	D	N	R	S
T	R	E	E	T	N	E	I	E	S	S	D	U	A	T	D	T	D
R	C	M	O	T	O	R	I	S	T	A	R	N	Y	N	H	E	C
I	H	O	H	L	A	C	P	C	S	O	E	T	O	I	V	S	T
C	E	N	L	E	E	I	R	A	D	N	I	R	U	I	I	Ã	C
I	L	D	W	F	F	A	M	D	I	G	R	G	T	E	O	O	N
S	A	E	E	A	S	N	O	O	D	A	O	O	U	K	O	K	N
T	R	E	N	L	G	T	E	R	S	R	Y	D	B	M	H	N	W
A	D	G	E	N	F	E	R	M	E	I	R	O	E	U	T	H	H
P	C	A	D	T	S	I	O	O	E	T	E	A	R	H	T	B	S

ARTESÃO – COMERCIANTE – ELETRICISTA – ENFERMEIRO – GARI – MOTORISTA – MÉDICO – PEDREIRO – PESCADOR – YOUTUBER

O QUE A CLT DIZ SOBRE CARTEIRA DE TRABALHO.

ART. 13. É ADOTADA NO TERRITÓRIO NACIONAL, A CARTEIRA PROFISSIONAL, PARA AS PESSOAS MAIORES DE DEZOITO ANOS, SEM DISTINÇÃO DE SEXO, E QUE SERÁ OBRIGATÓRIA PARA O EXERCÍCIO DE QUALQUER EMPREGO OU PRESTAÇÃO DE SERVIÇOS REMUNERADOS.

A CRIAÇÃO DA CLT (CONSOLIDAÇÃO DAS LEIS DE TRABALHO) FOI INSTITUÍDA ATRAVÉS DO DECRETO-LEI Nº 5.452, EM 1º DE MAIO DE 1943, NA GESTÃO DE GETÚLIO VARGAS. ELA REGULAMENTA AS RELAÇÕES TRABALHISTAS, TANTO DO TRABALHO URBANO QUANTO DO RURAL, DE RELAÇÕES INDIVIDUAIS OU COLETIVAS.



03 OS TRABALHADORES SÃO PROTEGIDOS PELAS LEIS TRABALHISTAS, QUE DITAM SEUS DIREITOS. MARQUE A SIGLA CORRETA ONDE ESTÃO ESSAS LEIS.

() LTC () CLT () TCL

04 O QUE SIGNIFICA A SIGLA CLT?

- () CONSOLIDAÇÃO DAS LEIS TRABALHISTAS.
- () CONSELHO DAS LEIS TRABALHISTAS.



TAPETE

TAPUME

TAPADO



TENTA

TÊNIS

TINTA



TOPETE

TOMATE

TOLERA



TIGELA

TIJUCO

TIJOLO



TANGO

TAMBOR

TAMPO



TUCANO

TÚMULO

TUTANO



TENHA

TENDA


TELHA



TOMADA

TOCADA

TOPADA



TOCAIA

TOALHA

TOMARA

UNIDADE ESCOLAR:

PROFESSORA

DATA

1ª SEMANA MAIO

NOME:

FASE

le II

CÓDIGO BNCC EF02MA07/EF02MA23/EF02MA18

MA

Matemática

O DIA DO TRABALHO OU DIA DO TRABALHADOR É COMEMORADO ANUALMENTE EM 1º DE MAIO EM DIVERSOS PAÍSES DO MUNDO.

O DIA DO TRABALHO É FERIADO NACIONAL NO BRASIL, EM PORTUGAL, RÚSSIA, FRANÇA, ESPANHA, ARGENTINA, ENTRE OUTRAS NAÇÕES.

Maio 2022

Domingo	Segunda-feira	Terça-feira	Quarta-feira	Quinta-feira	Sexta-feira	Sábado
1	2	3	4	5	6	7
8	9	10	11	12	13	14
15	16	17	18	19	20	21
22	23	24	25	26	27	28
29	30	31				



01 CIRCULE NO CALENDÁRIO ACIMA O DIA QUE COMEMORA O DIA DO TRABALHO NO BRASIL.

02 QUANTOS DOMINGOS TEM O MÊS DE MAIO EM 2022?

() 3

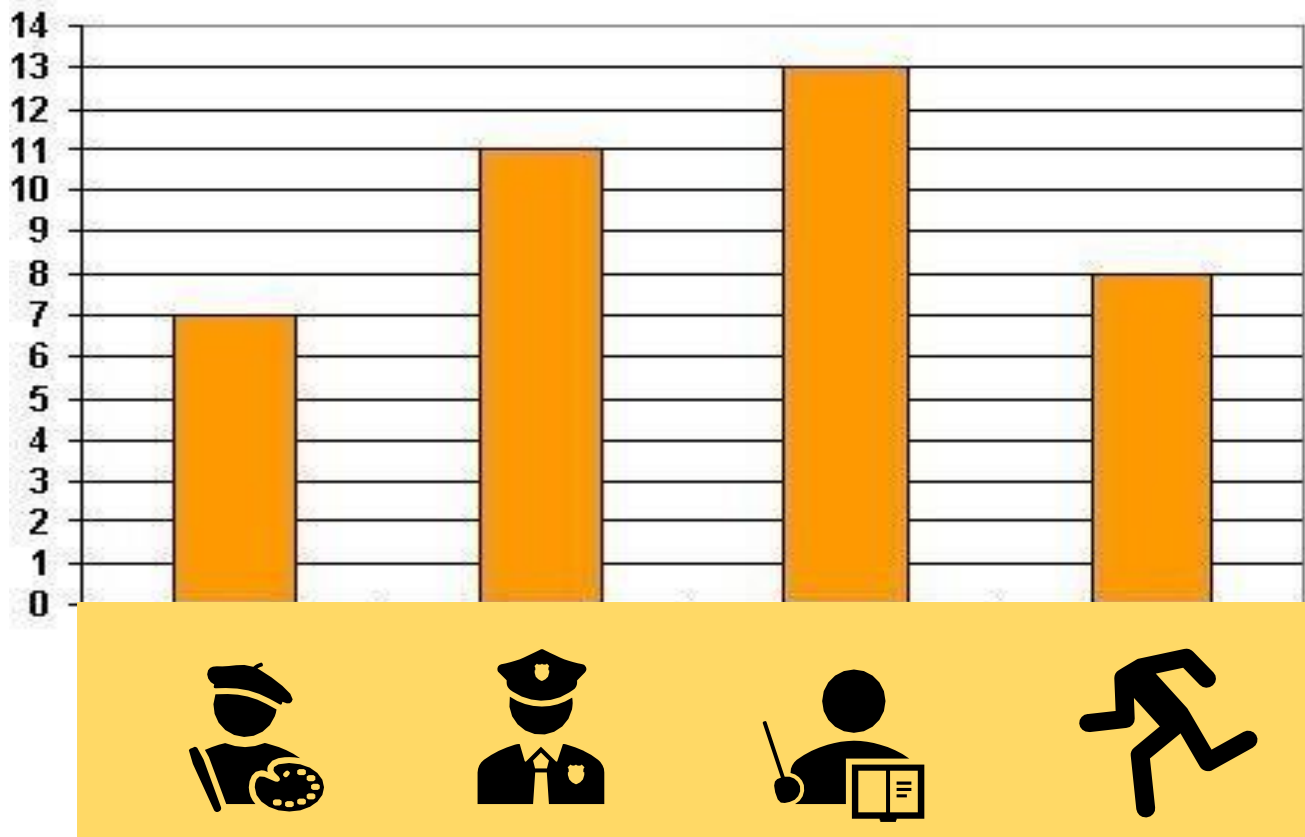
() 7

() 29

() 5

03

OBSERVE O GRÁFICO DAS PROFISSÕES E RESPONDA.



A QUE PROFISSÃO TEM MAIS NO GRÁFICO?

- () JOGADOR DE FUTEBOL.
 () PINTOR.
 () PROFESSOR.
 () POLICIAL.

B QUE PROFISSÃO TEM MENOS NO GRÁFICO?

- () JOGADOR DE FUTEBOL.
 () PINTOR.
 () PROFESSOR.
 () POLICIAL.



MULTIPLICAÇÃO – ADIÇÃO DE PARCELAS IGUAIS.

A MULTIPLICAÇÃO É UMA FORMA MAIS RÁPIDA DE SOMAR VÁRIAS VEZES O MESMO NÚMERO.

04 COMPLETE OS QUADRINHOS ABAIXO, FAZENDO AS ADIÇÕES E AS MULTIPLICAÇÕES.



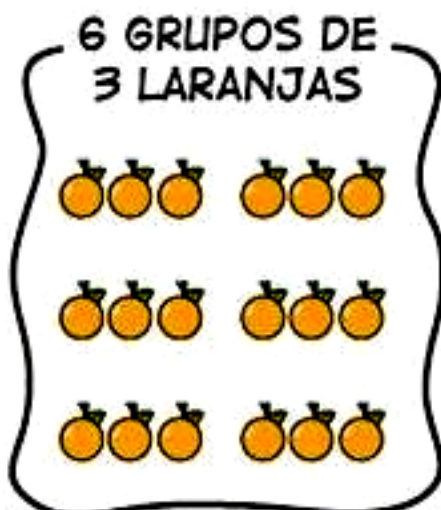
$$2+2+2+2+2=\square$$

$$2 \times 5=\square$$



$$4+4+4+4=\square$$

$$4 \times 4=\square$$



$$3+3+3+3+3+3=\square$$

$$6 \times 3=\square$$



$$6+6=\square$$

$$2 \times 6=\square$$



UNIDADE ESCOLAR:

PROFESSORA

DATA

NOME:

FASE

CÓDIGO BNCC

GE

Geografia

A **AGRICULTURA** É UMA ATIVIDADE ECONÔMICA QUE SE DESENVOLVE NA ZONA RURAL. A **PECUÁRIA** É A ATIVIDADE QUE TRATA DA CRIAÇÃO DE GADO. JUNTAS PODEM SER CHAMADAS DE **AGROPECUÁRIA**.

01 OBSERVE AS FIGURAS E MARQUE A ATIVIDADE ECONÔMICA.



- A** () PECUÁRIA.
- B** () AGRICULTURA.
- C** () EXTRATIVISMO.



- A** () PECUÁRIA.
- B** () AGRICULTURA.
- C** () EXTRATIVISMO.

02 QUE PROFISSIONAL SOU EU?

- A** CUIDO DA LAVOURA.
() PECUARISTA. () AGRICULTOR.
- B** CUIDO DO GADO.
() PECUARISTA. () AGRICULTOR.



A PALAVRA **EXTRATIVISMO** VEM DE EXTRAIR, RETIRAR ALGO, NO CASO, RETIRAR DA NATUREZA.

03 RELACIONE A EXTRAÇÃO AO TIPO DE ATIVIDADE REALIZADA.

(1) EXTRATIVISMO MINERAL.

(2) EXTRATIVISMO ANIMAL.

(3) EXTRATIVISMO VEGETAL.

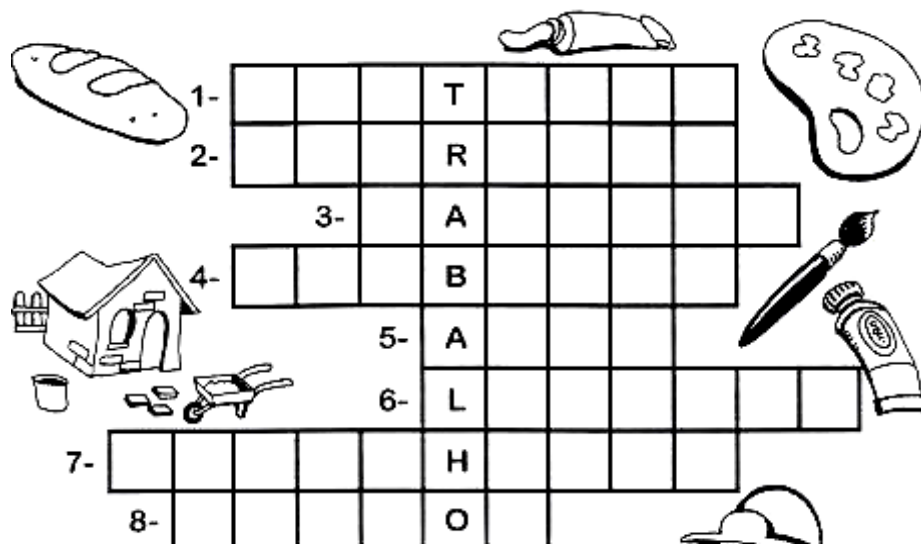
() COLETA DE PRODUTOS DA VEGETAÇÃO NATIVA.

() EXTRAÇÃO DE ROCHAS E MINERAIS DA NATUREZA.

() É PRATICADA NOS MARES, RIOS, AÇUDES ONDE HÁ PEIXES.



04 PREENCHA A CRUZADINHA COM OS PROFISSIONAIS DE ACORDO COM SEU TRABALHO.



1- CUIDA DOS DENTES.

2- CONSTRÓI CASAS.

3- FAZ PÃES.

4- APAGA INCÊNDIOS.

5- TRABALHA EM TEATROS, FILMES...

6- RECOLHE O LIXO EM FRENTE ÀS CASAS.

7- FAZ DESENHOS.

8- PINTA QUADRO, PAREDES.

UNIDADE ESCOLAR:

PROFESSORA DATA

NOME:

FASE CÓDIGO BNCC

NO História

TODAS AS PROFISSÕES SÃO IMPORTANTES PARA NOSSAS VIDAS, POIS DEPENDEMOS UNS DOS OUTROS. ALÉM DISSO, DEVEMOS RESPEITAR TODAS ELAS, POIS NOS AUXILIAM EM NOSSAS VIDAS.

01 EM QUE DIA COMEMORA O DIA DO TRABALHO?

MARQUE UM X NA RESPOSTA CORRETA.

- () PRIMEIRO DE JUNHO
- () PRIMEIRO DE ABRIL
- () PRIMEIRO DE MAIO



02 LEIA AS AFIRMAÇÕES ABAIXO E MARQUE UM X NA COLUNA QUE PODEMOS IDENTIFICAR OS TRABALHOS DA ZONA RURAL OU DA ZONA URBANA.

	ZONA RURAL	ZONA URBANA
SALVA VIDAS.		
GERENTE DE FAZENDAS.		
PECUARISTA.		
MECÂNICO.		
AGRICULTOR.		
MÉDICO CIRURGIÃO.		
LEITEIRO.		
MOTORISTA DE ÔNIBUS.		

A DIVISÃO DO TRABALHO ANTIGAMENTE SE DAVA A PARTIR DO SEXO, OU SEJA, MULHERES FICAM EM CASA, CUIDAM DOS FILHOS E DO MARIDO. JÁ O HOMEM TRABALHAVA FORA DE CASA E PAGAVA AS CONTAS.

A EVOLUÇÃO DOS MATERIAIS DE TRABALHO.



03 QUAIS OS NOMES DOS OBJETOS ACIMA?

- () ESCRIVANINHA E COMPUTADOR.
- () MÁQUINA DE ESCREVER E NOTEBOOK.
- () DATILOGRAFIA E COMPUTADOR.

04 ESCREVA O NOME DAS DUAS PROFISSÕES DE ANTIGAMENTE.





UNIDADE ESCOLAR:

PROFESSORA DATA


NOME:

FASE CÓDIGO BNCC

AR **Arte**

MAIO: Mês do Trabalhador

1- OBSERVE A OBRA “OPERÁRIOS”, DE TARSILA DO AMARAL. PRESTE ATENÇÃO NAS CORES UTILIZADAS PELA ARTISTA, NOS DETALHES DO TRAÇO, NA EXPRESSÃO DO ROSTO E NO COLORIDO DOS PERSONAGENS, NA DUREZA CINZA DAS CHAMINÉS E DAS LINHAS RETAS DOS PRÉDIOS E EM OUTROS ELEMENTOS QUE VOCÊ CONSIDERAR INTERESSANTES.



Tarsila do Amaral. *Operários*, 1933. Óleo sobre tela, 150 cm x 205 cm. Acervo do Palácio Boa Vista, Campos do Jordão (SP).

AGORA, DISCUTA COM SEU PROFESSOR E COLEGAS.

A) QUEM SÃO OS PERSONAGENS REPRESENTADOS NO QUADRO?

() TRABALHADORES RURAIS

() TRABALHADORES DE UMA FÁBRICA

RESPONDA ORALMENTE.

B) PELAS EXPRESSÕES DOS ROSTOS, COMO VOCÊ LÊ O SENTIMENTO DOS OPERÁRIOS?

C) DISCUTA SOBRE AS CONDIÇÕES DE TRABALHO DA CLASSE TRABALHADORA NOS DIAS ATUAIS. O QUE VOCÊ ACHA DA JORNADA, DA REMUNERAÇÃO? ACHA QUE O TRABALHADOR BRASILEIRO DISPÕE DE QUALIDADE DE VIDA?

PRODUÇÃO COM COLAGEM

2- COM A ORIENTAÇÃO DO SEU PROFESSOR, FORME GRUPOS E FAÇA UMA COLAGEM RETRATANDO A OBRA OPERÁRIOS DE TARSILA DO AMARAL. INSPIRE-SE NO MODELO ABAIXO.

