

PREFEITURA MUNICIPAL DE BOM JESUS DO ITABAPOANA-RJ
SECRETARIA MUNICIPAL DE EDUCAÇÃO, ESPORTE E LAZER

Atividades Orientadoras



Educação de Jovens e Adultos

FASE III

UNIDADE ESCOLAR:

PROFESSORA DATA

NOME:

FASE

CÓDIGO BNCC

LP

LÍNGUA PORTUGUESA



DIAGRAMA DOS NOMES

1 ENCAIXE, NO DIAGRAMA ABAIXO, OS NOMES EM DESTAQUE. **DICA:** OBSERVE A POSIÇÃO DA LETRA QUE ESTÁ EM DESTAQUE NO DIAGRAMA.



TADEU



JULIANA



ALISSON



ENZO



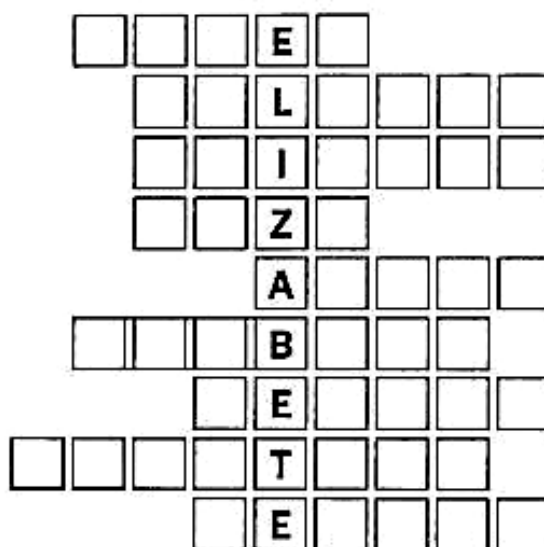
ANDRÉ



BÁRBARA



CRISTINA



TERESA



RENATO





2 FAÇA UMA LISTA COM OS NOMES DA ATIVIDADE 1, SEPARANDO OS NOMES FEMININOS E MASCULINOS. LEMBRE-SE, TAMBÉM, DE DISPÔ-LOS EM ORDEM ALFABÉTICA.

NOMES MASCULINOS


NOMES FEMININOS

CLASSIFICAÇÃO DE SÍLABAS

DE ACORDO COM A QUANTIDADE DE SÍLABAS

	SOL 1 sílaba - MONOSSÍLABA
	O-LHO 2 sílabas - DISSÍLABA
	CE-LU-LAR 3 sílabas - TRISSÍLABA
	A-BA-CA-XI 4 sílabas ou mais - POLISSÍLABA


7 DISTRIBUA OS NOMES DESTES ANIMAIS NA ÚLTIMA COLUNA DO QUADRO, CONFORME O NÚMERO DE SÍLABAS.



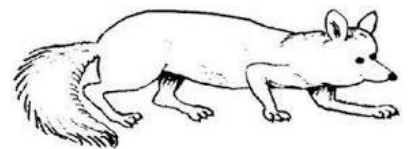
RATO



RÃ



RINOCERONTE



RAPOSA

Classificação	Número de sílabas	Exemplo
monossílabo	uma sílaba	
dissílabo	duas sílabas	
trissílabo	três sílabas	
polissílabo	quatro ou mais sílabas	

8 PREENCHA O QUADRO ABAIXO DE ACORDO COM O QUE SE PEDE.

PALAVRA	SEPRE EM SÍLABAS	CLASSIFICAÇÃO
MACHADO		
TORNEIRA		
MÃE		
BORBOLETA		
SONHO		

UNIDADE ESCOLAR:

PROFESSORA

DATA

NOME:

FASE

CÓDIGO BNCC

MA

MATEMÁTICA



MEDIDAS DE MASSA

1 OBSERVE OS RÓTULOS DOS PRODUTOS ABAIXO.



2 QUAIS SÃO AS UNIDADES DE MASSA APRESENTADAS NOS RÓTULOS DAS EMBALAGENS?

3 COMPLETE A TABELA, EM ORDEM CRESCENTE, COM O NOME DO PRODUTO E SEU RESPECTIVO PESO.

PRODUTO	PESO

4 QUAL É O PRINCIPAL INSTRUMENTO USADO PARA MEDIR O PESO?

5 QUAL É A UNIDADE DE MASSA DO QUILOGRAMA E DO GRAMA?

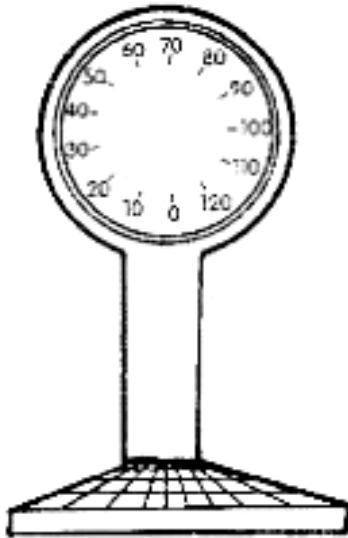
L e ml

kg e g

km e m

SUBINDO NA BALANÇA

6 MARQUE NA BALANÇA, APROXIMADAMENTE, O SEU PESO ATUAL.

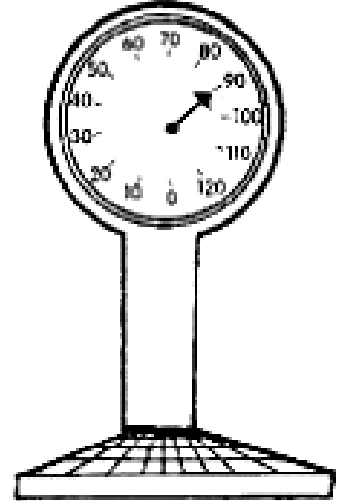
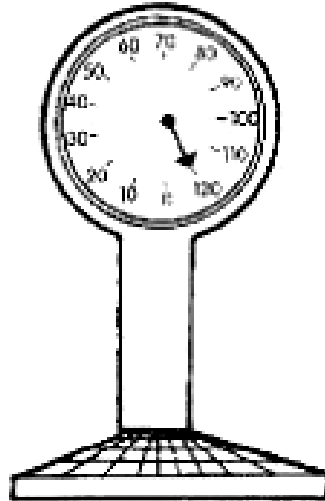
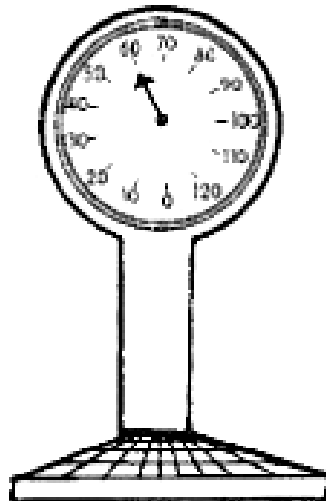
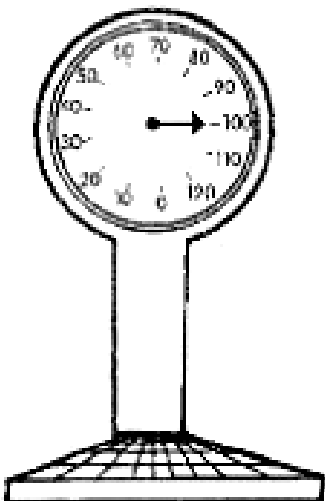


Meu peso é kg.

NÃO SE ESQUEÇA:
QUILO É ABREVIACÃO
DE QUILOGRAMA!



7 OBSERVE OS DESENHOS ABAIXO. CIRCULE A BALANÇA QUE TEM O MAIOR PESO E RISQUE AQUELA QUE TEM O MENOR PESO.



O BRIGADEIRO

Ingredientes

- 1 lata de leite condensado.
- A mesma medida de leite.
- 3 colheres de sopa de chocolate em pó.
- 2 colheres de sopa de manteiga ou margarina.

Modo de fazer

- Misture todos os ingredientes em uma panela.
- Leve ao fogo, misturando sempre, até que veja o fundo da panela. Deixe esfriar e enrole os docinhos.

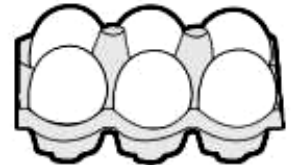


8 DE ACORDO COM A RECEITA ACIMA, COMPLETE O QUADRO ABAIXO:

BRIGADEIRO				
NÚMERO DE RECEITA	LEITE CONDENSADO	LEITE COMUM	CHOCOLATE	MANTEIGA MARGARINA
1 RECEITA	1 LATA	1 LATA (MÉDIA)	3 COLHERES	2 COLHERES
3 RECEITAS				
4 RECEITAS				
10 RECEITAS				

SISTEMA MONETÁRIO

8 DESCUBRA QUAL O TROCO QUE DONA SANDRA IRÁ RECEBER AO PAGAR AS COMPRAS:



	1 KG FEIJÃO	1 KG ARROZ	1 LITRO DE LEITE	MEIA DÚZIA DE OVOS
VALOR	R\$ 6,00	R\$ 9,00	R\$ 3,00	R\$ 2,00
PAGAMENTO	R\$ 10,00	R\$ 20,00	R\$ 5,00	R\$ 2,00
OPERAÇÃO	10 - 6	___ - ___	___ - ___	___ - ___
TROCO	R\$ 4,00			

9 FAÇA UMA PESQUISA E DESCUBRA O PREÇO DE CADA UM DESSES PRODUTOS QUE COMPRAMOS NO SUPERMERCADO.

PRODUTO	VALOR UNIDADE	VALOR 3 UNIDADES
 ACHOCOLATADO		
 LATA DE ÓLEO		
 1 KG DE FEIJÃO		
 1 LITRO DE LEITE		
 PÃO FRANCÊS		

UNIDADE ESCOLAR:

PROFESSORA DATA

NOME:

FASE CÓDIGO BNCC

ER

ENSINO RELIGIOSO

PÁSCOA



A PÁSCOA É UMA TRADICIONAL COMEMORAÇÃO REALIZADA NAS **RELIGIÕES** CRISTÃS, QUE RELEMBRAM A CRUCIFICAÇÃO E MORTE DE JESUS CRISTO E CELEBRAM SUA RESSURREIÇÃO. ORIGINALMENTE, A **PÁSCOA** FOI INICIADA PELOS JUDEUS E NO CRISTIANISMO PASSOU A SER COMEMORADA COM NOVO SIGNIFICADO.

A **PÁSCOA** CRISTÃ É UMA DAS FESTIVIDADES MAIS IMPORTANTES PARA O CRISTIANISMO. A DATA É COMEMORADA, ANUALMENTE, NO PRIMEIRO DOMINGO APÓS A PRIMEIRA LUA CHEIA, QUE OCORRE NO INÍCIO DA PRIMAVERA (NO HEMISFÉRIO NORTE) E DO **OUTONO (NO HEMISFÉRIO SUL ONDE O BRASIL ESTÁ LOCALIZADO)**. **EM 2022 O OUTONO COMEÇOU NO DIA 20 DE MARÇO E A PRIMEIRA LUA CHEIA FOI EM 28 DE MARÇO.**



1 NA SUA FAMÍLIA, A PÁSCOA É COMEMORADA?

() SIM () NÃO

SE SIM, COMO ACONTECE ESSA COMEMORAÇÃO?

2 MARQUE A ALTERNATIVA CORRETA:

A POR QUE O DOMINGO FOI O DIA DA SEMANA ESCOLHIDO PARA COMEMORAR O MOMENTO MAIS IMPORTANTE DA PÁSCOA?

() PORQUE FOI O DIA DA SEMANA QUE JESUS CRISTO RESSUSCITOU.

() PORQUE É O DIA QUE FICAMOS EM CASA COM A FAMÍLIA.

() PORQUE É O PRIMEIRO DIA DA SEMANA.

B PARA OS CRISTÃOS DA ATUALIDADE, O QUE A PÁSCOA COMEMORA?

() É O PERÍODO DE VENDER E COMER OVOS DE PÁSCOA.

() COMEMORA-SE A RESSURREIÇÃO DE JESUS CRISTO.

() É TEMPO DE VISITAR OS PARENTES.

C SOBRE A PÁSCOA, ASSINALE A ALTERNATIVA **VERDADEIRA**:

(A) A PÁSCOA CELEBRA O NASCIMENTO DE JESUS CRISTO.

(B) A PALAVRA PÁSCOA SIGNIFICA FESTA PARA COMER CHOCOLATE.

(C) É O PERÍODO MAIS IMPORTANTE PARA OS CRISTÃOS, QUE RELEMBRAM A CRUCIFICAÇÃO E MORTE DE JESUS CRISTO E CELEBRAM SUA RESSURREIÇÃO.