

PREFEITURA MUNICIPAL DE BOM JESUS DO ITABAPOANA-RJ
SECRETARIA MUNICIPAL DE EDUCAÇÃO, ESPORTE E LAZER

Atividades Orientadoras



Educação de Jovens e Adultos

FASE IV

UNIDADE ESCOLAR:

PROFESSORA

DATA

NOME:

FASE **IV e V**

CÓDIGO BNCC

LP

LÍNGUA PORTUGUESA



LISTAS

Lista

É um tipo de texto que traz os nomes colocados abaixo um do outro, por ordem ou não, de algum produto, nomes de pessoas ou coisas, com o objetivo de organizar o que se planeja fazer.

Lista de compras

- 10 kg de arroz;
- 2 kg de feijão;
- 2 kg de macarrão;
- 1 pct depó de café;
- 10 kg de açúcar;
- 1 kg de farinha;
- 3 lt de óleo de soja.
- 6 sabonete;
- 4 barras de sabão;
- 2 vidros de xampu;
- 3 cx. de creme dental;
- 10 rolos de papel higiênico.

LISTA DE MATERIAIS DE CONSTRUÇÃO

500 lajotas

10 sacos de cimento

5 m de areia

LISTA DO QUE NÃO POSSO ESQUECER DE LEVAR PARA O PASSEIO

escova de dente
secador de cabelo

casaco
blusa de babado rosa
documentos pessoais

lençol e travesseiro

LISTA DAS MINHAS MÚSICAS FAVORITAS

Raridade
Espírito Santo
Jó

Deus de milagres
Ninguém explica Deus
Lugar segredo

Não pare
Ousado amor
Deus proverá

LISTA DE DOCUMENTOS PARA ABERTURA DE CONTA BANCÁRIA

CPF

RG

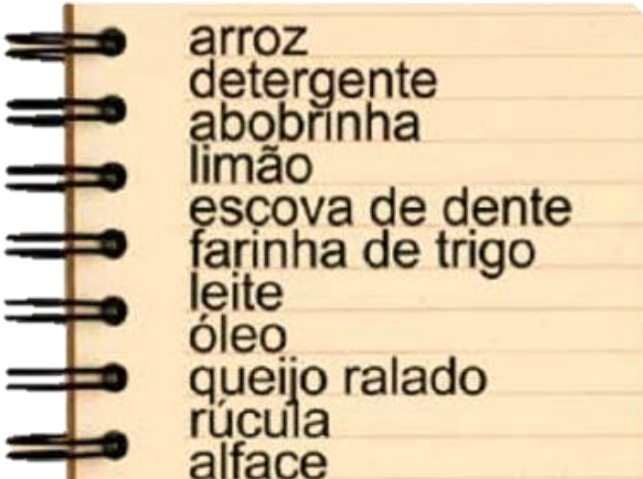
COMPROVANTE DE RESIDÊNCIA

ATIVIDADES...



1 Por que as pessoas escrevem listas?

2 Leia o texto com atenção, e a seguir responda.



A O assunto principal do texto acima é:
(A) Lista de compras.
(B) Lista de material escolar.
(C) Lista de músicas preferidas.
(D) lista telefônica.


B Esse texto tem como finalidade:
(A) Informar (B) Convidar
(C) Divertir (D) Relacionar

- ANTÔNIO
- BERNARDO
- CLARICE
- DEBORA
- _____

3 Observando o texto com atenção e seguindo a ordem alfabética, qual seria o próximo nome da lista?

- (A) Alice
- (B) Eliane
- (C) Beto
- (D) José

4 Em dupla vocês vão escrever uma lista que tem como regra: nomes de alimentos com a letra **J**. A letra **J** pode aparecer na sílaba inicial da palavra, no meio ou na sílaba final.



5

Escreva com a ajuda de sua professora uma lista de nomes dos alunos da sua turma em ordem alfabética.

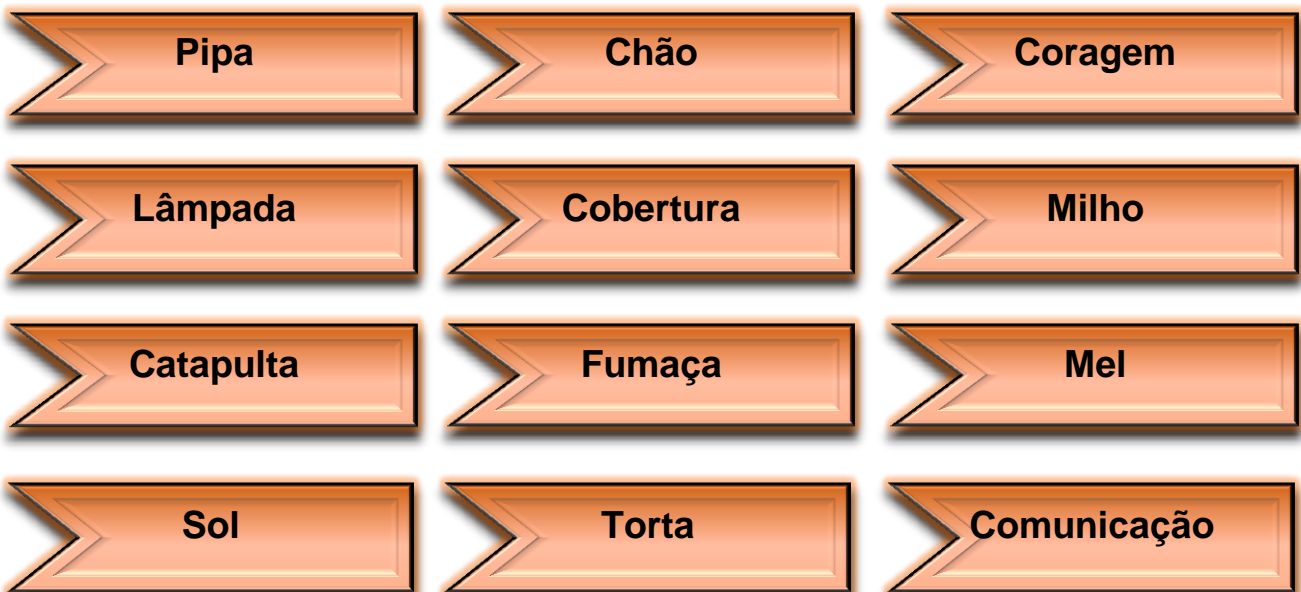


As letras estão em ordem para facilitar a organização dos nomes da lista em ordem alfabética.



6

Classifique as palavras quanto ao número de sílabas.



1 SÍLABA



MONOSSÍLABAS

Three horizontal lines for writing monosyllabic words.

2 SÍLABAS



DISSÍLABAS

Three horizontal lines for writing dissyllabic words.

3 SÍLABAS



TRISSÍLABAS

Three horizontal lines for writing trissyllabic words.

4 SÍLABAS OU MAIS



POLISSÍLABAS

Three horizontal lines for writing polysyllabic words.

7 Complete as palavras com as letras **F** ou **V**, marque as letras e em seguida escreva a palavra.

Palavras	F	V	Escreva aqui a palavra
.....ácil			
.....ôlei			
.....avela			
.....ela			
.....ebre			
.....aca			
.....aca			
.....erso			
.....ôlego			
.....utebol			
.....iolão			
....eludo			
....idro			
....raco			
.....eado			
o.....o			
....ofo			
.....eira			





UNIDADE ESCOLAR:

PROFESSORA

DATA

NOME:

FASE **IV e V**

CÓDIGO BNCC EF05MA19, EF01MA08 e EF05MA24

MA

MATEMÁTICA



MEDIDAS DE MASSA



O quilograma é a unidade padrão de medida de massa.
1 quilograma é equivalente a 1000 gramas.
 $1 \text{ kg} = 1000 \text{ g}$



Outra unidade de medida de massa que é muito utilizada é o miligrama (mg).

$$1 \text{ g} = 1000 \text{ mg}$$

Os produtos a seguir são, geralmente vendidos em quilograma, grama ou miligrama (kg, g ou mg).



Outra unidade de medida utilizada para medir grandes massas é a tonelada (t). Uma tonelada corresponde a 1000 kg



ATIVIDADES...

1 Observe a tabela com o peso em gramas de algumas frutas. Em seguida, calcule o peso total das frutas que estão na balança.

FRUTA	PESO (g)
Maçã	100
Laranja	100
Pêra	100
Uva	150
Banana	70
Limão	60




O peso total das frutas na balança é de: _____ gramas
ou _____ kg e _____ g

ESPAÇO PARA OS CÁLCULOS

1 000 gramas(g)
= 1 quilograma(kg)



2 Descubra qual das balanças está marcando a medida errada. Marque.



() () () ()



3 A tabela abaixo mostra o peso de alguns animais.

Animal	Peso
Beija-flor	10 g
Pardal	50 g
Hamster	120 g
Gato	6 kg
Foca	80 kg



Quantas gramas o pardal pesa a mais que o beija-flor?

- (A) 10 g.
- (B) 40 g.
- (C) 20 g.
- (D) 30 g.

Hoje é sábado dia de feira. Vou até a Barraca do Vovô para comprar os seguintes produtos:

- 1 kg de batata;
- ½ kg (meio quilo) de cenoura ;
- 3 milhos;
- 1 pé de alface;
- 1 kg de tomate;
- 2 rabanetes;
- 1 kg de pimentão.



4

Quanto pagarei por todos os produtos da lista? Faça os cálculos e registre:

R\$

5

Observe o encarte e responda as questões a seguir.



- A Qual o nome e o valor do produto mais barato?
- B Qual o nome e o valor do produto mais caro?
- C Quanto custará 5 pacotes de açúcar?
- D Qual o preço da pipoca mais a lasanha?
- E Quanto custará 7 quilos de carne?
- F Qual o preço da ração para cachorro?



UNIDADE ESCOLAR:

PROFESSORA

DATA

NOME:

FASE **IV e V**

CÓDIGO BNCC **EF04CI08**

ER

ENSINO RELIGIOSO



O verdadeiro significado da

Páscoa



A Páscoa é uma tradicional comemoração realizada nas **religiões** cristãs, que relembram a crucificação e morte de Jesus Cristo e celebram sua ressurreição. Originalmente, a **Páscoa** foi iniciada pelos judeus e no cristianismo passou a ser comemorada com novo significado.

A **Páscoa** cristã é uma das festividades mais importantes para o cristianismo. A data é comemorada anualmente no primeiro domingo após a primeira lua cheia que ocorre no início da primavera (no hemisfério norte) e do **outono (no hemisfério sul onde o Brasil está localizado)**. **Em 2022 o outono começou no dia 20 de março e a primeira lua cheia foi em 28 de março.**

ATIVIDADES...

1 Na sua família, a Páscoa é comemorada?

() sim () não

Se sim, como acontece essa comemoração?

2 Marque a alternativa correta:

A Por que o domingo foi o dia da semana escolhido para comemorar o momento mais importante da Páscoa?

- Por que foi o dia da semana que Jesus Cristo ressuscitou.
- Por que é o dia que ficamos em casa com a família.
- Por que é o primeiro dia da semana.

B Para os cristãos da atualidade, o que a Páscoa comemora?

- O período de vender e comer ovos de Páscoa.
- Comemora-se a ressurreição de Jesus Cristo.
- O tempo de visitar os parentes.

C Sobre a Páscoa, assinale a alternativa **verdadeira**:

- (A) A Páscoa celebra o nascimento de Jesus Cristo.
- (B) A palavra Páscoa significa festa para comer chocolate.
- (C) É o período mais importante para os cristãos, que relembram a crucificação e morte de Jesus Cristo e celebram sua ressurreição.

UMA FELIZ E ABENÇOADA PÁSCOA!

