

PREFEITURA MUNICIPAL DE BOM JESUS DO ITABAPOANA-RJ
SECRETARIA MUNICIPAL DE EDUCAÇÃO, ESPORTE E LAZER

Atividades Orientadoras



Educação de Jovens e Adultos

FASE IV

UNIDADE ESCOLAR:

PROFESSORA

DATA

NOME:

FASE

IV e V


CÓDIGO BNCC

EF01LP02, EF01LP06, EF01LP08, EF01LP10 e
EF01LP11

LP

LÍNGUA PORTUGUESA

Revisão Mensal



1

Leia as palavras abaixo, todas relacionadas a alimentos.

**Macarrão – arroz - feijão – espinafre – frango – bife –
peixe- batata – ovo - alface – óleo - alho**

2

Reescreva o nome dos alimentos em ordem alfabética.

1.	2.
3.	4.
5.	6.
7.	8.
9.	10.
11.	12.

3

As vogais já estão escritas nos círculos. Escreva as consoantes minúsculas que estão faltando.

a	○	○	○	e	○	○	○
i	○	○	○	○	o	○	○
○	○	○	u	○	○	○	○

4 Escreva uma palavra que tenha:

3 vogais e 4 consoantes.

4 vogais e 3 consoantes

1 consoante e 2 vogais

JOÃO

SAIA

CHAPELÃO

TOMADA

AVIÃO

PÃO

MACARRÃO

CAIXOTE

5 Forme palavras com as letras abaixo.

R U A E G M T P
F O L H I D S

6 Ordene as palavras e forme frases.

A passarinho bem cantou O alto

B galinha ninho A fez quintal seu no

7 Separe as sílabas e escreva o número de sílabas.

PALAVRAS	SEPARAÇÃO SILÁBICA	Nº DE SÍLABAS
relógio		
caixa		
mão		
tomateiro		



UNIDADE ESCOLAR:

PROFESSORA

DATA

NOME:

FASE **IV e V**

CÓDIGO BNCC EF05MA24, EF04MA25

MA

MATEMÁTICA

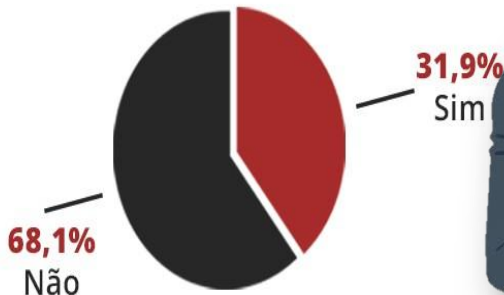
Revisão Mensal



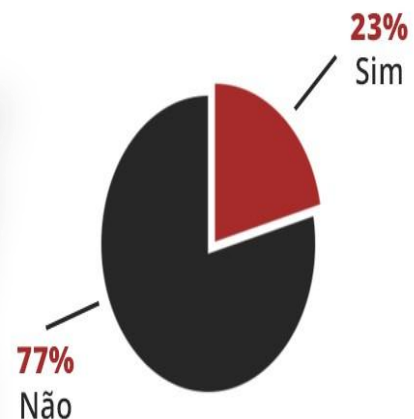
- 1 Observe os gráficos que mostram o mercado de trabalho para as empregadas domésticas e depois responda as questões a seguir.

Mercado de trabalho para empregadas domésticas ainda é **INFORMAL**

Carteira assinada
(Quarto trimestre de 2016)



Trabalhadoras Informais que contribuem com o INSS



Fonte: PNADC/IBGE

- 2 Coloque V para alternativa verdadeira e F para alternativa falsa.
- () Há mais empregadas domésticas com carteira assinada do que sem carteira assinada.
 - () Menos da metade das empregadas domésticas trabalham de carteira assinada.
 - () 77% das trabalhadoras informais não contribuem com o INSS.
 - () Menos de 10% das trabalhadoras informais contribuem com o INSS.

- 3 Qual é a diferença entre o número de porcentagem de empregadas domésticas com carteira assinada e sem carteira assinada?

4 Observe os preços na tabela:

A Maria levou R\$ 12,00 para gastar na festa. Faça uma lista do que ela pode comprar sem que sobre troco ou falte dinheiro.

Pipoca	R\$ 0,50
Suco	R\$ 1,00
Pipocão	R\$ 1,50
Refrigerante	R\$ 1,50
Cachorro Quente	R\$ 3,00
Churrasquinho	R\$ 4,00
Doces e Salgados	R\$ 2,00
Vinagrete	R\$ 1,00

B Agora, faça uma lista do que ela pode comprar, sendo que dos R\$ 12,00 sobrem R\$ 5,50.

5 Analise a tabela ao lado.

A Qual o produto mais barato?

B Qual o produto mais caro?

C Qual o valor da mochila mais o estojo?

D Qual o valor total dos materiais?

E O que posso comprar com R\$ 30,00?

Mochila	R\$ 48,00
Estojo	R\$ 9,00
Lapiseira	R\$ 6,00
Caderno	R\$ 16,00
Lápis	R\$ 1,00

6 Geraldo quer trocar sua nota de R\$100,00 por notas de menor valor. Qual opção corresponde ao mesmo valor?

A () 2 notas de R\$ 20,00 e 4 notas de R\$ 5,00.

B () 3 notas de R\$ 10,00 e 1 nota de R\$ 50,00.

C () 3 notas de R\$ 50,00 e 2 notas de R\$ 10,00.

D () 4 notas de R\$ 20,00 e 2 notas de R\$ 10,00.





UNIDADE ESCOLAR:

PROFESSORA DATA

NOME:

FASE **IV e V**

CÓDIGO BNCC

LP

LÍNGUA PORTUGUESA

Revisão Mensal



1

VAGA PARA EMPREGADA DOMÉSTICA

Requisitos:

- Disponibilidade de horário
- Residir em Pouso Alegre

Envie seu currículo para
selecao.lacus@gmail.com
até o dia: **02/10** ou deixe seu
currículo no endereço: Av.
Coronel Alfredo Custódio de
Paula, 320, Medicina - Pouso
Alegre



LACUS

2

Babá

Bairro - Auxiliadora

Salário: R\$1.300 + R\$ 200 (bonificação) + VT
De segunda à sexta - feira.

Atividades: todos os cuidados relacionados ao bebê.

Exigências: ter experiência comprovada como
babá.

Tem interesse na vaga, envie seu currículo
atualizado com nome completo, bairro e cidade
onde mora para nosso whatsapp.

 (51) 99845 - 3535 Ester



CLICK  **EMPREGADA
DOMÉSTICA**

1 Observe o anúncio 1 e responda.

A O que o anúncio deseja oferecer?

B Quais são os requisitos para ocupar a vaga de empregada doméstica?

C A pessoa que desejar a vaga anunciada precisa fazer o quê?

2 Observe o anúncio 2 e responda.

A Qual é o salário oferecido no anúncio?

B Qual é a exigência para ocupar a vaga de babá?

C Qual dos dois anúncios é mais atraente para os interessados às vagas? Por quê?

3 Encontre no diagrama palavras com L e U.

A	U	T	O	F	A	L	A	N	T	E
S	B	E	R	I	M	B	A	U	E	S
T	E	E	S	X	T	R	A	U	S	M
R	S	A	L	O	U	R	O	N	O	A
O	O	A	C	E	L	G	A	I	U	L
N	U	B	S	T	R	O	E	D	R	T
A	R	A	R	I	T	E	S	R	A	E
U	O	C	A	L	Ç	A	D	O	R	L
T	Z	A	U	T	O	M	O	V	E	L
A	J	L	P	U	L	S	E	I	R	A
X	M	H	T	O	S	T	R	S	M	N
J	P	A	L	M	E	I	R	A	A	I
O	X	U	Y	S	E	W	A	L	C	D
R	P	I	C	A	P	A	U	N	A	S
N	Z	C	A	L	D	E	I	R	Ã	O
A	S	O	L	S	R	O	U	P	A	I
L	V	A	R	A	L	H	A	M	E	L

Bacalhau	Berimbau
Palmeira	Tesoura
Astronauta	Pulseira
Esmalte	Auto-falante
Sol	Besouro
Pica-pau	Louro
Calçado	Mel
Roupa	Acelga
Sal	Automóvel
Varal	Caldeirão
Jornal	Salsa

4 Complete o quadro com o que se pede e observe a explicação sobre o número de sílabas.

Monossílaba – palavra de 1 sílaba.
Dissílaba – palavra de 2 sílabas.
Trissílaba – palavra de 3 sílabas.
Polissílaba – palavra de 4 sílabas ou mais.



Palavra	Divisão silábica	Número de sílabas	Classificação
pedalada	pe-da-la-da	4 sílabas	polissílaba
céu			
abuso			
nó			
disco			
felicidade			
carretel			
nota			
viagem			
recreio			
sol			
duelo			
dama			





UNIDADE ESCOLAR:

PROFESSORA

DATA

NOME:

FASE **IV e V**

CÓDIGO BNCC EF04MA02, EF04MA25, EF05MA19, EF01MA05

MA

MATEMÁTICA

Revisão Mensal



- 1 Mônica e seu esposo Celio estão com gripe. Foram ao médico. Observe os medicamentos receitados pelo médico.



Mônica
Medicamento X
Tomar 250 mg
de 6 em 6 horas
por 7 dias.



Celio
Medicamento Y
Tomar 500 mg
de 8 em 8 horas
por 7 dias.

- A Quanto miligrama de medicação cada um tomará por dia?

- B Quem tomará maior quantidade de medicação por dia?

- 2 Complete.

A 1 kg tem gramas.

B $\frac{1}{2}$ kg tem gramas.

- 3 Escreva por extenso.


A 12 kg

B 120 g

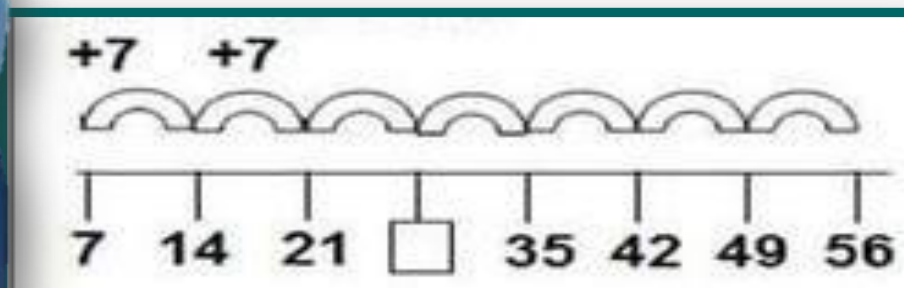
C 1,5 kg

3 Complete com o antecessor e sucessor.

_____ 350 _____	_____ 429 _____
_____ 598 _____	_____ 999 _____
_____ 1020 _____	_____ 1211 _____
_____ 1345 _____	_____ 1455 _____



4 Observe a reta numérica e responda.



Que número está faltando?

5 Escreva três possibilidades diferentes de se ter 50 reais utilizando apenas cédulas de:



6 Decomponha os numerais abaixo.

205

97

1002



UNIDADE ESCOLAR:

PROFESSORA

DATA

NOME:

FASE

IV e V

CÓDIGO BNCC

EF35LP29, EF15LP02, EF15LP03, EF35LP03,
EF03LP01e EF89LP33

LP

LÍNGUA PORTUGUESA

Revisão Mensal



1 O neto do Sr. Nilton, Leandro, escreveu um bilhete para o amigo João Luís, mas não separou as palavras. Que tal ajudá-lo? Reescreva o texto a seguir, organizando-o de maneira adequada.

25/10/03

João Luís Hoje eu não posso ir
a sua casa brincar, pois minha
vó vem me visitar. Telefone
amanhã. Tchau, Leandro.

2

Angélica está tão ansiosa com os preparativos para o seu aniversário que misturou, na mesma lista, os convidados e o que precisa ser comprado. Ajude-a a separar tudo, escrevendo cada palavra no seu devido lugar.



CONVIDADOS

COMPRAS

BEATRIZ
COPOS
GUARDANAPOS
AMANDA
SHEILA
BEXIGAS
RICARDO

GARFINHOS
IVÃ
PRATINHOS
VELA
LUCIANA
CAIO
BALAS

JULIANO
CHOCOLATE
REFRIGERANTE
DANIELA
PÃO
MARCELO
PIPOCA