

PREFEITURA MUNICIPAL DE BOM JESUS DO ITABAPOANA-RJ  
SECRETARIA MUNICIPAL DE EDUCAÇÃO, ESPORTE E LAZER

**SEMEEL**

*A mudança está em nossas mãos*

# Atividades Orientadoras



**3º**  
ano



## Ensino Fundamental

UNIDADE ESCOLAR:

PROFESSOR(A)  ANO DE ESCOLARIDADE  DATA   
3º ano 14ª semana (16 a 20/05)

NOME:

HOJE É?

SEGUNDA  TERÇA  QUARTA  QUINTA  SEXTA

CÓDIGO BNCC

EF15LP02 / EF15LP16 / EF03LP08

## **LP** LÍNGUA PORTUGUESA

O **conto** é um texto narrativo do gênero literário. Ele tem o foco em um fato ou um determinado acontecimento, geralmente é uma ficção, ou seja, é uma história inventada. Os contos são fantasiosos, histórias de faz de conta que são muito contadas para as crianças.

✚ Leia o texto a seguir e responda ao que se pede.

### O bicho escondido

Era uma vez um mágico que entrou no bosque atrás de inspiração.

Estava cansado de tirar coelhos da cartola e moedas atrás das orelhas dos outros.

Passeando pelo bosque, o mágico viu araras multicoloridas e macacos pulando no alto das árvores. Foi então que encontrou uma trilha.

Algo havia passado por ali correndo e derrubando tudo.

O mágico se perguntou: “Mas que animal conseguiria fazer tamanho estrago?”



[...] Mario Roberto da Silva. Fauninha Brasileira. São Paulo: Rideel, 2004. p. 33-34.

1. Copie o título do texto:

\_\_\_\_\_

2. Quem entrou no bosque?

\_\_\_\_\_

3. Qual foi o motivo que o personagem teve para entrar no bosque?

\_\_\_\_\_

4. O personagem estava cansado de quê?

\_\_\_\_\_

5. O que o personagem viu no bosque?

---

6. O que o personagem viu na trilha?

---

7. Reescreva o que o personagem se perguntou:

---

8. Copie o nome do autor do texto.

---

9. Marque com um (X) as alternativas corretas:

a) Qual é o gênero textual apresentado?

- Fábula
- Carta
- História em quadrinhos
- Conto



b) Quantos parágrafos tem o texto apresentado?

- 5 parágrafos
- 6 parágrafos
- 4 parágrafos
- 3 parágrafos

c) A história acontece em um tempo não determinado. Qual expressão define essa característica?

- Neste instante...
- Ontem...
- Era uma vez...
- Pela manhã...



d) Qual é o lugar onde acontece a história?

- Num boteco
- Num bonde
- Num bosque
- Num barco

10. Qual bicho você imagina que havia passado pelo bosque? Explique.

---

---

---

11. Você gostou do conto? Justifique.

---

---



UNIDADE ESCOLAR:

PROFESSOR(A)

ANO DE ESCOLARIDADE

DATA

NOME:

HOJE É?

SEGUNDA

TERÇA

QUARTA

QUINTA

SEXTA

CÓDIGO BNCC

EF03MA05 / EF03MA06 / EF03MA15 / EF03MA10



## MATEMÁTICA



1. Veja o número da casa da Maria, **203**. A opção que apresenta a decomposição do número da casa de Maria é:

- A. ( )  $2 + 0 + 3$
- B. ( )  $20 + 3$
- C. ( )  $200 + 3$
- D. ( )  $200 + 33$

2. Mauro e Jean estavam em um jogo de computador. Mauro fez 125 pontos e Jean, 107. Quantos pontos Jean precisa conseguir para ficar com a mesma quantidade de Mauro?

- A. ( ) 18
- B. ( ) 28
- C. ( ) 132
- D. ( ) 323

3. Paulo começou um jogo com 35 figurinhas, mas, depois de algumas rodadas perdeu 6 figurinhas. Qual a quantidade de figurinhas que Paulo ficou?

- A. ( ) 31
- B. ( ) 29
- C. ( ) 23
- D. ( ) 21

4. Veja a conta  **$1\ 578 + 234 =$**  resolva e marque o resultado.

- A. ( ) 812
- B. ( ) 1344
- C. ( ) 1433
- D. ( ) 1812

5. A professora Marina realizou uma pesquisa para saber quais são os lanches que seus alunos preferem consumir durante o intervalo de aula. Na tabela abaixo está o resultado dessa pesquisa.

Qual é o lanche preferido da turma?

- A. ( ) Bolacha  
B. ( ) Bolo  
C. ( ) Frutas  
D. ( ) Pão com recheio

LANCHES	QUANTIDADE DE ALUNOS
Bolo	46
Fruta	32
Bolacha	36
Pão com recheio	23

6. Observe abaixo a trilha que Caio fez para brincar. Ele esqueceu de colocar três números.

<b>16</b>		<b>26</b>		<b>36</b>	<b>41</b>	<b>46</b>		<b>56</b>	<b>61</b>
-----------	--	-----------	--	-----------	-----------	-----------	--	-----------	-----------

Quais são os números na sequência, que Caio esqueceu de colocar nessa trilha?

- A. ( ) 17, 27 e 48  
B. ( ) 20, 30 e 50  
C. ( ) 21, 31 e 51  
D. ( ) 21, 31 e 47
7. Um navio chegou ao porto com **196** tripulantes a bordo. Esse número de tripulantes corresponde a:

- A. ( ) cento e sessenta e nove  
B. ( ) cento e noventa e seis  
C. ( ) duzentos e noventa e seis  
D. ( ) seiscentos e noventa e um



8. Veja os números abaixo colocados no quadro.

<b>124</b>	<b>70</b>	<b>58</b>	<b>96</b>	<b>110</b>
------------	-----------	-----------	-----------	------------

Qual das sequências abaixo representa os números em ordem crescente?

- A. ( ) 124 – 110 – 96 – 58 - 70  
B. ( ) 58 – 70 – 96 – 110 - 124  
C. ( ) 70 – 58 - 96 – 110 - 124  
D. ( ) 110 – 96 – 58 – 70 - 124
9. Em uma gincana escolar, Adriana arrecadou 28 kg de alimentos, Raquel arrecadou 33 kg e Rodrigo 30 kg. No total, quantos quilogramas de alimentos os três arrecadaram nessa gincana?
- A. ( ) 80  
B. ( ) 81  
C. ( ) 90  
D. ( ) 91

10. Veja a figura abaixo. Ela tem uma aparência que nos lembra qual sólido geométrico?

- A. (    ) cilindro
- B. (    ) cubo
- C. (    ) esfera
- D. (    ) paralelepípedo



## GABARITO DE MATEMÁTICA

- MARQUE SOMENTE UMA RESPOSTA PARA CADA QUESTÃO;
- PINTE O QUADRINHO COMPLETAMENTE:
- SE HOUVER MAIS DE UM QUADRINHO PINTADO POR QUESTÃO, A MESMA SERÁ ANULADA.

QUESTÕES				
1	A	B	C	D
2	A	B	C	D
3	A	B	C	D
4	A	B	C	D
5	A	B	C	D
6	A	B	C	D
7	A	B	C	D
8	A	B	C	D
9	A	B	C	D
10	A	B	C	D





UNIDADE ESCOLAR:

PROFESSOR(A)

ANO DE ESCOLARIDADE  
3º ANO

DATA  
14ª semana (16 a 20/05)

NOME:

HOJE É?

SEGUNDA

TERÇA

QUARTA

QUINTA

SEXTA

CÓDIGO BNCC

EF02LP01 / EF03LP02

# LP LÍNGUA PORTUGUESA

**SUBSTANTIVOS** são palavras que identificam ou nomeiam os seres: pessoas, lugares, animais, vegetais, sentimentos etc.

- Retire do texto o substantivo que nomeia a personagem principal.  
\_\_\_\_\_
- O título do texto é "O bicho escondido". Retire do texto um sinônimo do substantivo bicho.  
\_\_\_\_\_
- Retire do texto os substantivos que nomeiam três animais diferentes.
- Qual substantivo do texto nomeia este tipo de chapéu da ilustração ao lado?  
\_\_\_\_\_
- Qual substantivo do texto é sinônimo de mata ou floresta não muito extensa?  
\_\_\_\_\_
- Qual substantivo do texto nomeia uma parte do corpo humano?  
\_\_\_\_\_
- A qual substantivo do texto cada uma destas definições se refere?

**A**

Peça de metal que representa um certo valor, como R\$ 0,05; R\$ 0,10; R\$ 0,25; R\$ 0,50 ou R\$ 1,00.


**B**

Vegetal de tronco longo, no alto do qual crescem os galhos e as folhas.



### Fique sabendo...

No final da história, o mágico descobre que o bicho escondido era uma anta, animal que atinge até dois metros de comprimento e só se alimenta durante a noite.



ANTA



## ATENÇÃO

\***Substantivo comum** dá nome aos seres da mesma espécie (animais, plantas, objetos) e são grafados com letra minúscula, por exemplo: **pessoa, gente, criança, cidade, país.**

Ex.: A **mulher** não entrou no **banco** porque esqueceu o **cartão**.

\***Substantivo próprio** é aquele que particulariza um ser da espécie, os quais são grafados com letra maiúscula, por exemplo: **Brasil, Catarina, São Paulo.**

Ex.: **Catarina** não entrou no banco porque esqueceu o cartão.

8. Complete a brincadeira da “ADEDONHA” com os substantivos pedidos e que iniciem com as letras já sorteadas. Fique esperto(a).

✓ LETRA	✓ NOME	✓ ANIMAL	✓ FRUTA	✓ OBJETO
A				
M				
P				

9. Reescreva as palavras do quadro abaixo, classificando-as em **substantivos próprios** ou em **substantivos comuns**:

Ana	Mochila	Brasil
Praia	Estojo	País
Casa	Cachorro	Caneta
Guaratingetá	Alfredo	Lorena

Próprio	Comum





UNIDADE ESCOLAR:

PROFESSOR(A)  ANO DE ESCOLARIDADE  DATA

NOME:

HOJE É?      CÓDIGO BNCC

# MA MATEMÁTICA

1. Observe como a professora de Miguel distribuiu os alunos em sala de aula. Kerllon é o aluno mais próximo da porta e Ana Clara está sentada bem à frente da mesa da professora. Kauan está sentado na quarta carteira da fila de Ana Clara.

Localize as carteiras de Kerllon, Ana Clara e Kauan.

❖ Kerllon está sentado na:

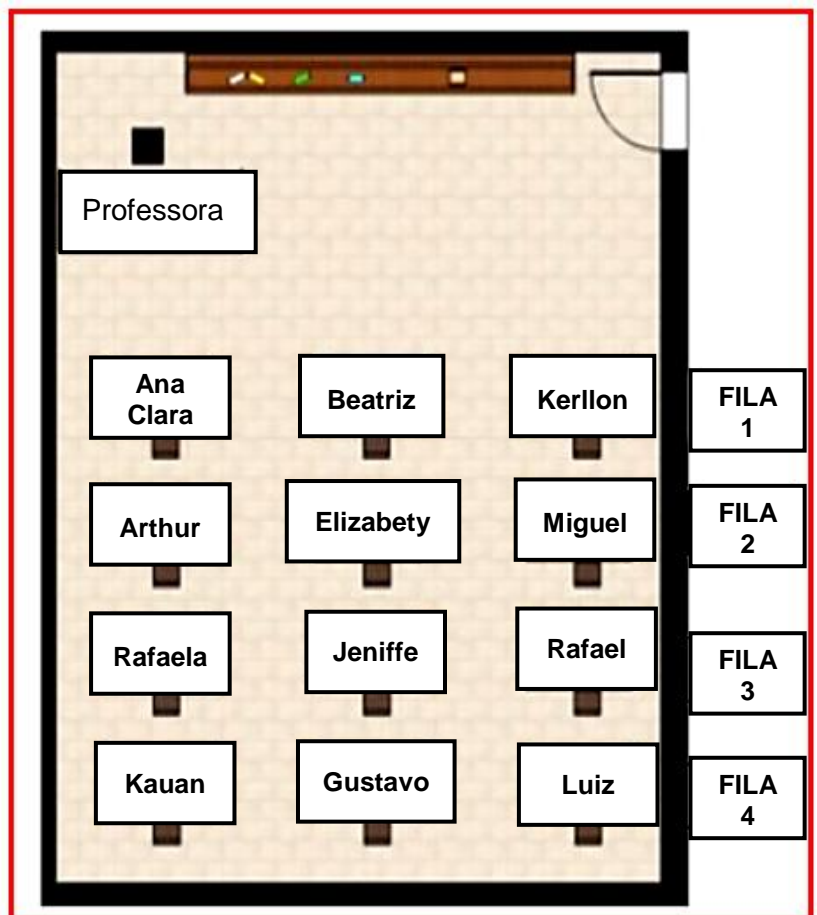
- A) ( ) fila 1, primeira carteira  
B) ( ) fila 1, terceira carteira  
C) ( ) fila 1, segunda carteira

❖ Ana Clara está sentada:

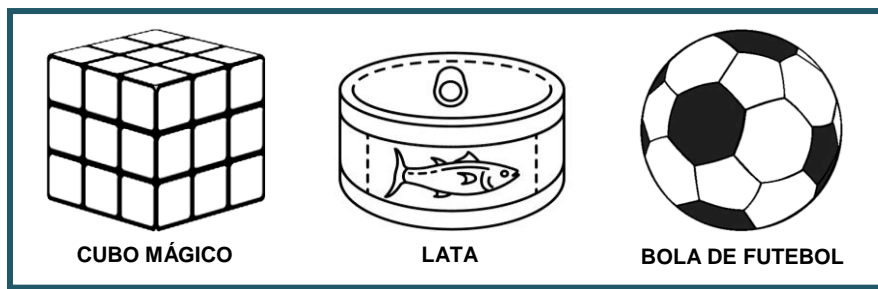
- A) ( ) fila 1, terceira carteira  
B) ( ) fila 1, segunda carteira  
C) ( ) fila 2, primeira carteira

❖ Kauan está sentado:

- A) ( ) fila 3, última carteira  
B) ( ) fila 4, terceira carteira  
C) ( ) fila 1, última carteira



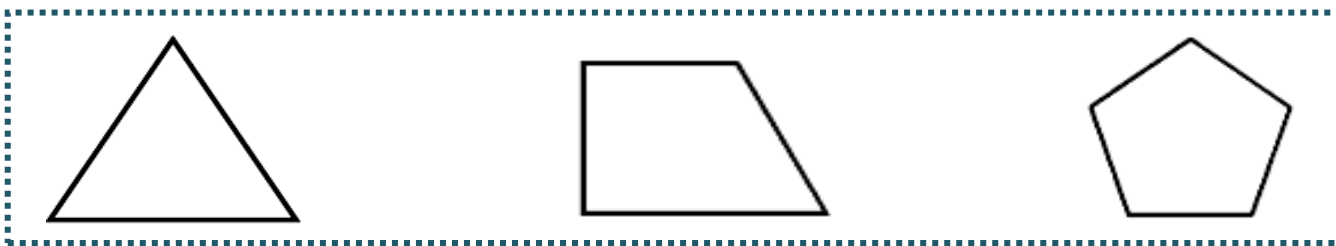
2. No dia-a-dia observamos diversas formas geométricas em objetos que estão à nossa volta. Veja alguns exemplos:



A lata de atum está representada por qual forma geométrica?

- A) ( ) esfera
- B) ( ) cilindro
- C) ( ) pirâmide
- D) ( ) cubo

3. Observe cada figura geométrica abaixo e marque a alternativa que corresponde a um de seus elementos corretamente:



- |                    |                   |                   |
|--------------------|-------------------|-------------------|
| a) ( ) 4 lados.    | a) ( ) 4 lados    | a) ( ) 3 lados    |
| b) ( ) 3 vértices. | b) ( ) 2 vértices | b) ( ) 4 vértices |
| c) ( ) 5 ângulos.  | c) ( ) 3 ângulos  | c) ( ) 5 ângulos  |

4. Observe as figuras abaixo:



Sabendo que cada carrinho de supermercado tem 4 rodas, quantas rodas terão os quatro carrinhos juntos?

- A) ( ) 8 rodas
- B) ( ) 10 rodas
- C) ( ) 16 rodas
- D) ( ) 12 rodas

UNIDADE ESCOLAR: \_\_\_\_\_

PROFESSOR(A) \_\_\_\_\_

ANO DE ESCOLARIDADE  
3º ANO

DATA  
14ª semana (16 a 20/05)

NOME: \_\_\_\_\_

HOJE É?

SEGUNDA  TERÇA  QUARTA  QUINTA  SEXTA

CÓDIGO BNCC


EF35LP09 / EF35LP07/ EF15LP14

# LP LÍNGUA PORTUGUESA



## Produção textual

1. Observe a sequência das imagens e escreva uma história: Capriche na letra!



Um dia \_\_\_\_\_

Os dois estavam \_\_\_\_\_

De repente \_\_\_\_\_

A dona da casa \_\_\_\_\_

Os dois \_\_\_\_\_

Depois de toda confusão \_\_\_\_\_