

PREFEITURA MUNICIPAL DE BOM JESUS DO ITABAPOANA-RJ
SECRETARIA MUNICIPAL DE EDUCAÇÃO, ESPORTE E LAZER

SEMEEL

A mudança está em nossas mãos

Atividades Orientadoras



**2º
ano**

Ensino Fundamental

UNIDADE ESCOLAR:

PROFESSOR(A)

ANO DE ESCOLARIDADE

DATA

NOME:

HOJE É?

SEGUNDA TERÇA QUARTA QUINTA SEXTA

CÓDIGO BNCC

LÍNGUA PORTUGUESA



1- O QUE GARFIELD QUERIA FAZER COM O BICHINHO?

CONVERSAR

MATAR

CHAMAR PARA LANCHAR

2- RELACIONE AS COLUNAS:

1º QUADRINHO

GARFIELD EXCLAMA ALGO.

2º QUADRINHO

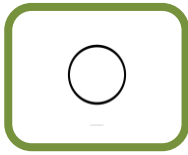
GARFIELD PERGUNTA ALGO.

3º QUADRINHO

GARFIELD DECLARA ALGO.

3- PINTE DE AMARELO O SINAL DE PONTUAÇÃO USADO NO FINAL DE CADA FRASE DOS TRÊS BALÕES.

➤ AS FRASES SEMPRE TERMINAM COM UM SINAL DE PONTUAÇÃO.



O **PONTO-FINAL** INDICA O FINAL DE UMA FRASE DECLARATIVA, QUE PODE SER AFIRMATIVA OU NEGATIVA.



O **PONTO DE EXCLAMAÇÃO** INDICA UM PEDIDO, ORDEM OU EMOÇÃO, COMO SURPRESA, MEDO, ADMIRAÇÃO, ALEGRIA.



O **PONTO DE INTERROGAÇÃO** INDICA UMA PERGUNTA.

4- ESCREVA UMA FRASE SOBRE CADA ILUSTRAÇÃO. PONTUE DE ACORDO COM A INTENÇÃO INDICADA.



5- USE OS SINAIS DE PONTUAÇÃO QUE VOCÊ ACABOU DE APRENDER PARA PONTUAR AS FRASES A SEGUIR.

A) QUE TEMPORAL HORRÍVEL

B) ONDE ESTÁ A PROFESORA

C) O MENINO ESTÁ FAMINTO



UNIDADE ESCOLAR:

PROFESSOR(A)

ANO DE ESCOLARIDADE

DATA

NOME:

HOJE É?

SEGUNDA TERÇA QUARTA QUINTA SEXTA


CÓDIGO BNCC

EF02MA06

MATEMÁTICA



1 – FRANJINHA FEZ 5 BOLHAS DE SABÃO GRANDES E 5 PEQUENAS. QUANTAS BOLHAS ELE FEZ NO TOTAL?



RESPOSTA: ELE FEZ NO TOTAL _____ BOLHAS.

1 – NO JOGO DE XADREZ, CEBOLINHA FEZ 2 PONTOS E CASCÃO FEZ 8. QUANTOS PONTOS ELES FIZERAM JUNTOS?



RESPOSTA: ELES FIZERAM JUNTOS _____ PONTOS.

1 – CHICO BENTO SAIU PARA PESCARIA. NO RIO TINHA 2 PEIXES E ELE PESCOU 1. QUANTOS PEIXES TEM AO TODO?



RESPOSTA: TEM AO TODO _____ PEIXES.

1 – A TURMINHA ESTÁ JOGANDO CARTAS. AS MENINAS FIZERAM 9 PONTOS E OS MENINOS 3. QUANTOS PONTOS ELES FIZERAM NO TOTAL?



RESPOSTA: ELES FIZERAM NO TOTAL _____ PONTOS.

UNIDADE ESCOLAR:

PROFESSOR(A)

ANO DE ESCOLARIDADE

DATA

NOME:

HOJE É?

SEGUNDA TERÇA QUARTA QUINTA SEXTA

CÓDIGO BNCC

EF02LP04

LÍNGUA PORTUGUESA



1- JUNTE AS LETRAS, FORME SÍLABAS E COMPLETE AS PALAVRAS COM A SÍLABA FORMADA.

BL + U =

CL + I =

FL + O =

GL + O =

PL + A =

TL + E =



2- QUE ENCONTROS CONSONANTAIS HÁ NAS PALAVRAS QUE VOCÊ FORMOU?

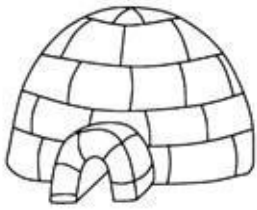
3- COPIE A FRASE COM O NOME DA FIGURA AO LADO.

A) FLÁVIA TOCA _____ MUITO BEM.

B) O GUARDA ANOTOU A _____ DO CARRO.



4- CIRCULE O NOME CORRETO DE CADA FIGURA.



IGLU

IGRU



BRUSA

BLUSA




ZEBRA

ZEBLA



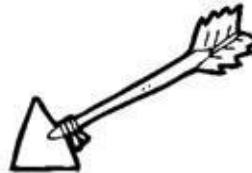
DLAGÃO

DRAGÃO



ESTRELA

ESTLELA



FLECHA

FRECHA



PRACA

PLACA



LIVRO

LIVLO



IGLEJA

IGREJA



TROFÉU

TLOFÉU



GLOBO

GROBO



BICICLETA

BICICLETA

UNIDADE ESCOLAR:

PROFESSOR(A)

ANO DE ESCOLARIDADE

DATA

NOME:

HOJE É?

SEGUNDA

TERÇA

QUARTA

QUINTA

SEXTA

CÓDIGO BNCC

MATEMÁTICA



ADIÇÃO E SUBTRAÇÃO: OPERAÇÕES INVERSAS

A **SUBTRAÇÃO** É A OPERAÇÃO INVERSA DA **ADIÇÃO**.

DO **TOTAL**, VOCÊ VAI TIRAR UMA **PARCELA** E O RESULTADO SERÁ A OUTRA **PARCELA**.

$\begin{array}{r} 4 \\ + 2 \\ \hline 6 \end{array}$	\times	$\begin{array}{r} \boxed{6} \\ - 2 \\ \hline 4 \end{array}$	<p>PARCELA</p> <p>PARCELA</p> <p>SOMA OU TOTAL</p>
---	----------	---	--

LOGO, PODEMOS VERIFICAR QUE A **ADIÇÃO** É A OPERAÇÃO INVERSA DA **SUBTRAÇÃO**.


SOMA-SE O **RESTO** AO **SUBTRAENDO**, O RESULTADO SERÁ O **MINUENDO**.

$\begin{array}{r} 8 \\ - 3 \\ \hline 5 \end{array}$	\times	$\begin{array}{r} \boxed{5} \\ + 3 \\ \hline 8 \end{array}$	<p>MINUENDO</p> <p>SUBTRAENDO</p> <p>RESTO OU DIFERENÇA</p>
---	----------	---	---





1 - CALCULE E TIRE A PROVA REAL:


$$\begin{array}{r} 25 \\ + 12 \\ \hline \end{array}$$




$$\begin{array}{r} 11 \\ + 48 \\ \hline \end{array}$$




$$\begin{array}{r} 93 \\ - 70 \\ \hline \end{array}$$



$$\begin{array}{r} 66 \\ - 42 \\ \hline \end{array}$$



VAMOS COLORIR?



UNIDADE ESCOLAR:

PROFESSOR(A)

ANO DE ESCOLARIDADE

DATA

NOME:

HOJE É?

SEGUNDA TERÇA QUARTA QUINTA SEXTA

CÓDIGO BNCC

LÍNGUA PORTUGUESA



1- O TEXTO A SEGUIR ESTÁ FORA DE ORDEM.

➤ NUMERE CADA PARÁGRAFO E COPIE CORRETAMENTE O TEXTO.

A CICLISTA

- () APRECIA VÁRIOS BEIJA-FLORES.
- () CLARINHA É CICLISTA.
- () TODAS AS MANHÃS ELA SAI COM SUA BICICLETA.
- () E APROVEITA PARA COLHER CRAVOS.

