

PREFEITURA MUNICIPAL DE BOM JESUS DO ITABAPOANA-RJ
SECRETARIA MUNICIPAL DE EDUCAÇÃO, ESPORTE E LAZER

SEMEEL

A mudança está em nossas mãos

Atividades Orientadoras



2º
ano

Ensino Fundamental

UNIDADE ESCOLAR:

PROFESSOR(A)

ANO DE ESCOLARIDADE

DATA

NOME:

HOJE É?

SEGUNDA
 TERÇA
 QUARTA
 QUINTA
 SEXTA

CÓDIGO BNCC

EF02MA20

MATEMÁTICA



TABELA DE PREÇO

REFRIGERANTE	5 REAIS
PIPOCA	2 REAIS
CANJICA	3 REAIS
CACHORRO-QUENTE	3 REAIS
MILHO	2 REAIS



1 - SE PEDRO COMPRAR UM REFRIGERANTE, UM CACHORRO-QUENTE E UMA PIPOCA, QUANTO VAI GASTAR?

R: PEDRO VAI GASTAR _____ REAIS.

2 MARIANA QUER UMA CANJICA. VAI PAGAR COM UMA NOTA DE 5 REAIS. QUANTO ELA RECEBERÁ DE TROCO?

R: MARIANA RECEBERÁ DE TROCO _____ REAIS.

3- JUCA TEM DEZ REAIS PARA GASTAR NA FESTA. ELE QUER GASTAR TUDO. ESCREVA UMA OPÇÃO COM A QUAL ELE PODERÁ GASTAR SEU DINHEIRO TODO NA FESTA.

UNIDADE ESCOLAR: _____

PROFESSOR(A) _____

ANO DE ESCOLARIDADE
2º ANO

DATA
19ª semana (20 a 24/06)

NOME: _____

HOJE É?

SEGUNDA **TERÇA** **QUARTA** **QUINTA** **SEXTA**

CÓDIGO BNCC

EF02LP12


LÍNGUA PORTUGUESA



VOCÊ CONHECE ESTA MÚSICA? VAMOS CANTÁ-LA?

O BALÃO VAI SUBINDO
VAI CAINDO A GAROA
O CÉU É TÃO LINDO
E A NOITE TÃO BOA.

SÃO JOÃO, SÃO JOÃO
ACENDE A FOGUEIRA
DO MEU CORAÇÃO.



1- COPIE DO TEXTO AS PALAVRAS QUE FALTAM PARA COMPLETÁ-LO.

O _____ VAI SUBINDO VAI

CAINDO A _____

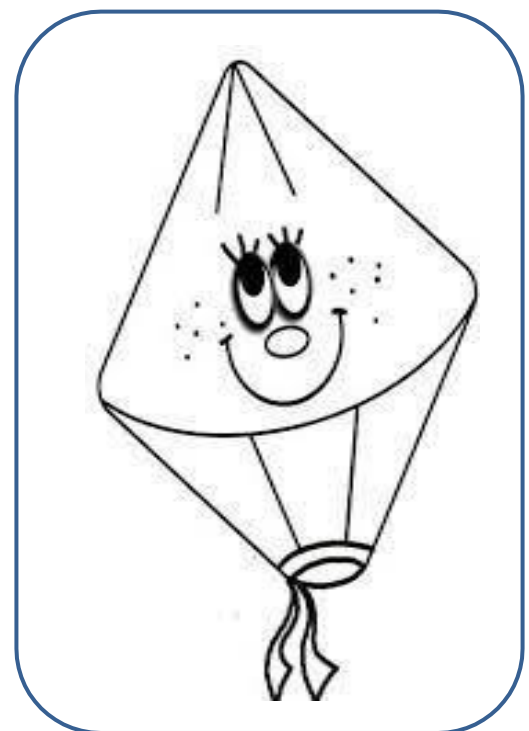
O _____ É TÃO _____

E A _____ TÃO _____.

_____ JOÃO, SÃO _____

ACENDE A _____

DO MEU _____.





UNIDADE ESCOLAR:

PROFESSOR(A)

ANO DE ESCOLARIDADE

DATA

NOME:

HOJE É?

SEGUNDA TERÇA QUARTA QUINTA SEXTA


CÓDIGO BNCC

EF02MA05

MATEMÁTICA





1 – CALCULE COM ATENÇÃO!




$\begin{array}{r} 6 \\ - 2 \\ \hline \end{array}$	$\begin{array}{r} 2 \\ + 1 \\ \hline \end{array}$	$\begin{array}{r} 5 \\ - 4 \\ \hline \end{array}$
$\begin{array}{r} 8 \\ - 7 \\ \hline \end{array}$	$\begin{array}{r} 6 \\ + 3 \\ \hline \end{array}$	$\begin{array}{r} 10 \\ - 5 \\ \hline \end{array}$
$\begin{array}{r} 7 \\ - 2 \\ \hline \end{array}$	$\begin{array}{r} 8 \\ + 5 \\ \hline \end{array}$	$\begin{array}{r} 5 \\ - 4 \\ \hline \end{array}$
$\begin{array}{r} 9 \\ - 9 \\ \hline \end{array}$	$\begin{array}{r} 10 \\ + 3 \\ \hline \end{array}$	$\begin{array}{r} 5 \\ - 5 \\ \hline \end{array}$
$\begin{array}{r} 8 \\ - 6 \\ \hline \end{array}$	$\begin{array}{r} 9 \\ + 4 \\ \hline \end{array}$	$\begin{array}{r} 9 \\ - 3 \\ \hline \end{array}$

2- PINTE ACIMA OS FATOS QUE REPRESENTAM AS SUBTRAÇÕES A SEGUIR:

A) 

B) 

C) 

UNIDADE ESCOLAR:

PROFESSOR(A)

ANO DE ESCOLARIDADE

DATA

NOME:

HOJE É?

SEGUNDA TERÇA QUARTA QUINTA SEXTA

CÓDIGO BNCC

EF02LP08

LÍNGUA PORTUGUESA



ESTRELA

ES

TRE

LA

✚ A PALAVRA ESTRELA É PRONUNCIADA EM TRÊS GRUPOS DE SONS; CADA UM DELES É UMA SÍLABA.

SÍLABA É UM SOM OU GRUPO DE SONS QUE SE PRONUNCIA DE UMA VEZ SÓ.

NA LÍNGUA PORTUGUESA, AS PALAVRAS PODEM SER CLASSIFICADAS DE ACORDO COM O NÚMERO DE SÍLABAS.

MONOSSÍLABA - POSSUI UMA SÍLABA.

DISSÍLABA - POSSUI DUAS SÍLABAS.

TRISSÍLABA - POSSUI TRÊS SÍLABAS.

POLISSÍLABA - POSSUI QUATRO SÍLABAS OU MAIS.

1- LEIA O TEXTO E ESCREVA AS PALAVRAS DESTACADAS NA COLUNA CERTA.

VAI TER FESTA JUNINA!

VENHAM TODOS: UM, DOIS, TRÊS...

TE CONVIDO MAIS UMA VEZ!

VAI TER **PIPOCA**, **CANJICA**, **QUENTÃO**

QUADRILHA E FORROZÃO!

COM A **SANFONA**, BATO O **PÉ** E BATO A **MÃO**!

VOCÊ NÃO PODE FICAR DE FORA NÃO!

MENINAS DE LAÇO DE FITA E VESTIDO DE CHITÃO.

MENINOS DE CHAPÉU **CAPIRA** E **BOTA** DE **PEÃO**.

VIVA SÃO PEDRO, SANTO ANTÔNIO E SÃO JOÃO!

MONOSSÍLABAS: _____

DISSÍLABAS: _____

TRISSÍLABAS: _____



MURILLO

UNIDADE ESCOLAR:

PROFESSOR(A)

ANO DE ESCOLARIDADE

DATA

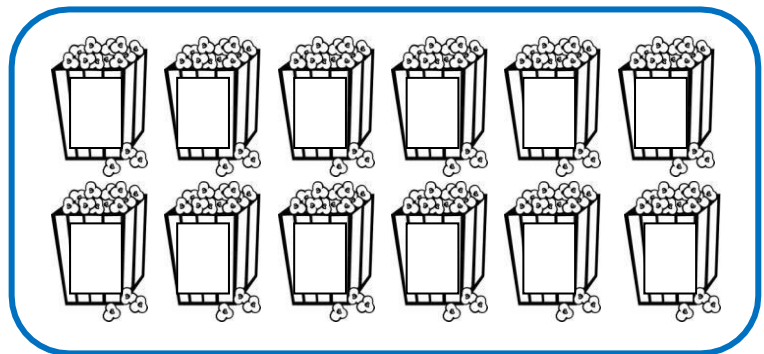
NOME:

HOJE É?


SEGUNDA TERÇA QUARTA QUINTA SEXTA

CÓDIGO BNCC

MATEMÁTICA



1- NUMERE OS SAQUINHOS DE PIPOCA. AGORA COLOQUE OS NÚMEROS EM ORDEM DECRESCENTE (DO MAIOR PARA O MENOR).



2- QUANTOS SAQUINHOS DE PIPOCA TEM ACIMA?

() 1 DÚZIA () 1 DEZENA

3- DISTRIBUA IGUALMENTE OS SAQUINHOS DE PIPOCA ENTRE MAGALI E CEBOLINHA. CIRCULE OS DA MAGALI E FAÇA UM RISCO NOS DO CEBOLINHA.

4- QUANTOS SAQUINHOS DE PIPOCA GANHOU CADA UM?

() 5 () 6 () 4

5- PINTE DE AMARELO OS SAQUINHOS COM OS NÚMEROS ÍMPARES.