

PREFEITURA MUNICIPAL DE BOM JESUS DO ITABAPOANA-RJ
SECRETARIA MUNICIPAL DE EDUCAÇÃO, ESPORTE E LAZER

SEMEEL

A mudança está em nossas mãos

Atividades Orientadoras



3º
ano



Ensino Fundamental



UNIDADE ESCOLAR:

PROFESSOR(A)

ANO DE ESCOLARIDADE
3º ANO

DATA
16ª semana (30/05 a 03/06)

NOME:

HOJE É?

SEGUNDA

TERÇA

QUARTA

QUINTA

SEXTA

CÓDIGO BNCC


EF15LP14 / EF15LP16

LÍNGUA PORTUGUESA



- Observe a história em quadrinhos sobre o conto da Chapeuzinho Vermelho:

A Chapeuzinho Vermelho



1. Leia as frases e enumere os quadrinhos na sequência correta. Caso necessite, conte com a ajuda de seu professor:

A Chapeuzinho Vermelho

Era uma vez uma menina chamada Chapeuzinho Vermelho.

- Chapeuzinho Vermelho resolveu levar doces para a vovozinha e foi caminhando pela floresta.
- Chapeuzinho Vermelho encontrou o lobo mau.
- O lobo mau chegou na casa da vovó primeiro que Chapeuzinho Vermelho.
- O lobo mau escondeu a vovozinha.
- O lobo mau vestiu o pijama e deitou-se na cama da vovozinha.
- Chapeuzinho Vermelho abriu a porta e foi até o quarto da vovó.
- Chapeuzinho Vermelho se sentou na cama e achou estranho a vovó e lhe fez umas perguntas.
- O lobo mau queria pegar a Chapeuzinho e ela saiu gritando socorro.
- O caçador chegou e espantou o lobo mau.
- O lobo mau assustado saiu correndo para a floresta.
- A vovó agradecida convidou o caçador e a Chapeuzinho Vermelho para tomarem um lanche.

2. Faça a correspondência com os gêneros textuais apresentados abaixo:

(HI) Histórias em Quadrinhos

(C) Contos

- É um gênero caracterizado por ser **uma narrativa literária curta**, tendo começo, meio e fim da história, narrados de maneira breve, porém o suficiente para contar a história completa.
- Apresentam diversidades de publicações e tom **humorístico**, contribuindo para uma visão crítica da sociedade e interpretação de contextos atemporais.
- Podem ser vistas em jornais, revistas, sites e outros suportes.
- São fantasiosos, histórias de faz de conta que são muito contadas.

3. Escreva o nome de um conto que você conhece.

4. Escreva o nome de um personagem de uma história em quadrinhos que você gosta.

UNIDADE ESCOLAR:

PROFESSOR(A)

ANO DE ESCOLARIDADE

DATA

NOME:

HOJE É?

SEGUNDA TERÇA QUARTA QUINTA SEXTA

CÓDIGO BNCC

MATEMÁTICA



✚ Resolva os problemas com atenção.

1. A mãe da Chapeuzinho foi ao supermercado e comprou os ingredientes para fazer docinhos para a vovó. Ela levou R\$ 250,00 e gastou R\$125,00. Quanto sobrou para a mãe de Chapeuzinho?



Resposta: _____

2. Chapeuzinho levou 25 rosquinhas de leite, 16 bolinhos de chocolate e 12 biscoitinhos para a vovó. Quantos lanchinhos ao todo, Chapeuzinho levou?



Resposta: _____

UNIDADE ESCOLAR:

PROFESSOR(A) ANO DE ESCOLARIDADE DATA

NOME:

HOJE É?
 SEGUNDA TERÇA QUARTA QUINTA SEXTA

CÓDIGO BNCC
EF03LP05 / EF03LP06

LÍNGUA PORTUGUESA



- Relembrando a classificação das palavras:
- **monossílabas:** palavras com **uma** sílaba. Ex.: mãe.
 - **dissílabas:** palavras com **duas** sílabas. Ex.: pa - to.
 - **trissílabas:** palavras com **três** sílabas. Ex.: a - mo - ra.
 - **polissílabas:** palavras com **quatro** ou **mais sílabas**. Ex.: es - cri - tó - rio.

1. Separe as sílabas das palavras abaixo e classifique quanto ao número de sílabas:

Palavras	Sílabas	Classificação
Chapeuzinho		
lobo		
caçador		
mau		

2. Pinte apenas a sílaba tônica de cada palavra e classifique-as quanto à tonicidade:
oxítona, paroxítona ou proparoxítona.

- a) árvore _____
 b) vovó _____
 c) floresta _____
 d) caçador _____
 e) vermelho _____



UNIDADE ESCOLAR:

PROFESSOR(A) ANO DE ESCOLARIDADE DATA

NOME:

HOJE É? CÓDIGO BNCC

MATEMÁTICA



1. No fim do dia, um carteiro ainda tem 5 cartas para entregar. Para facilitar seu trabalho, ele deve colocá-las em ordem crescente, de acordo com o número das casas:

126 482 698 276 522

- a) () 126 – 698 – 522 – 482 – 276
b) () 522 – 276 – 698 – 482 – 126
c) () 126 – 276 – 482 – 522 – 698


2. Escolha a alternativa em que o número **509**, está escrito de maneira correta:

- a) () cinquenta e nove
b) () cinco e nove
c) () quinhentos e nove



3. Uma ótica encomendou 250 armações, destes 114 foram entregues. Quantos ainda faltam chegar?

- a) () 150
b) () 136
c) () 114



4. Pedro quer comprar um carrinho que custa R\$ 21,00. Escolha a alternativa que representa quantas notas ele irá precisar para realizar esta compra.

- a) () 3 notas de R\$ 2,00 + 1 nota de R\$ 5,00 + 1 nota de R\$ 10,00
- b) () 2 notas de R\$ 10,00
- c) () 6 notas de R\$ 2,00 + 2 notas de R\$ 5,00

5. Arme e efetue as contas abaixo:

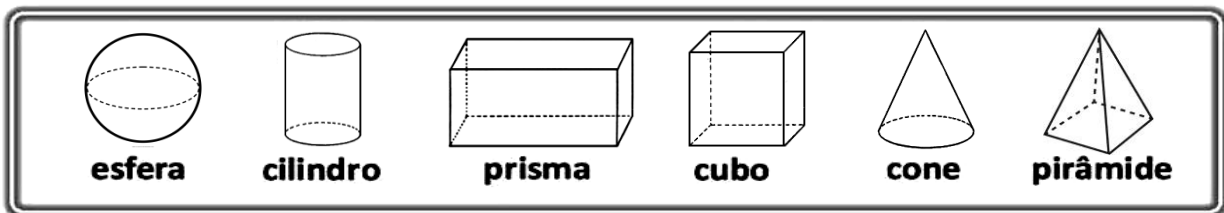
a) $1450 + 655 =$

b) $487 + 97 =$

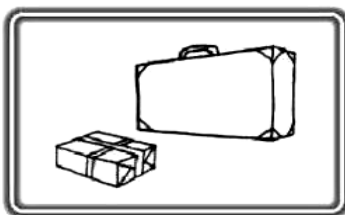
c) $974 - 644 =$


d) $547 - 157 =$

1. Observe os sólidos geométricos:





➤ Escreva os nomes dos sólidos geométricos que se assemelham a cada grupo:













UNIDADE ESCOLAR:

PROFESSOR(A)

ANO DE ESCOLARIDADE
3ª ANO

DATA
16ª semana (30/05 a 03/06)

NOME:

HOJE É?

SEGUNDA TERÇA QUARTA QUINTA SEXTA

CÓDIGO BNCC

EF03LP01/EF03LP02

LÍNGUA PORTUGUESA



ORTOGRAFIA

1. Complete as palavras com r ou rr.

m) ten__a

i) be__o

e) pe__e__eca

a) en__ugar

n) ba__a

j) co__uja

f) ma__ujo

b) te__eiro

o) a__a__a

k) ama__elo

g) ma__avilha

c) ca__etel

p) cha__ete

l) fe__o

h) ba__ata

d) en__olado

2. Forme palavras conhecidas acrescentado mais um r. Veja o exemplo:

era → <u>erra</u>	caro → _____	muro → _____
fera → _____	tora → _____	aranha → _____
mira → _____	more → _____	careta → _____

3. Complete as palavras com s ou ss.

s) mai__ena

g) trave__ura

a) ro__eira

m) a__im

t) ma__agem

h) ga__olina

b) ca__aco

n) ma__a

u) intere__e

i) pê__ego

c) __abugo

o) blu__a

v) a__inatura

j) __apato

d) pe__oa

p) fo__a

w) profi__ão

k) defe__a

e) prince__a

q) to__e

x) ali__amento

l) pa__eio

f) so__ego

r) a__eio