

PREFEITURA MUNICIPAL DE BOM JESUS DO ITABAPOANA-RJ
SECRETARIA MUNICIPAL DE EDUCAÇÃO, ESPORTE E LAZER

SEMEEL

A mudança está em nossas mãos

Atividades Orientadoras



**3º
ano**



Ensino Fundamental

UNIDADE ESCOLAR:

PROFESSOR(A)

ANO DE ESCOLARIDADE

3º ANO

DATA

18ª semana (13 a 17/06)

NOME:

HOJE É?

SEGUNDA

TERÇA

QUARTA

QUINTA

SEXTA

CÓDIGO BNCC

EF15LP16/EF15LP02/EF35LP05

LÍNGUA PORTUGUESA



✚ Leia o texto:

O Patinho Feio

Mamãe Pata ficou muito **feliz** quando seus cinco patinhos nasceram. Porém, a vizinhança achou um deles meio **desajeitado** e, quando ele passava, comentavam o quanto ele era **feio**.

O **pequeno** patinho estava **infeliz** e decidiu fugir.

Assim que seus irmãos sentiram sua falta, saíram à procura do **pequeno**. Quando o encontraram, Mamãe Pata lhe perguntou:

-- Por que você fugiu?

--Estou indo embora, mamãe! Sou muito **feio** e **desajeitado** para ficar com vocês!

--Você é o patinho mais **lindo** que já vi, o que os outros veem ou dizem não é importante, mas sim, sua bondade e personalidade! Explicou Mamãe Pata.

Foi então que o patinho percebeu que não precisava ter beleza exterior, pois o que traziaem seu coração era mais **bonito**.



Compreensão da leitura

1. De acordo com o texto, marque um (X) nas alternativas corretas:

a) Como a mamãe Pata ficou quando os filhotes nasceram?

- Nervosa
- Muito triste
- Muito feliz

b) O que a vizinhança achou dos filhotes da mamãe Pata?

- Achou um deles meio **desjeitado**.
- Achou um deles meio **desajeitado**.
- Achou um deles meio **desejado**.



c) Por que o pequeno patinho fugiu?

- O **pequeno** pintinho estava **infeliz** e decidiu fugir.
- O **pequeno** patinho estava **feliz** e decidiu fugir.
- O **pequeno** patinho estava **infeliz** e decidiu fugir.

d) O que a mamãe Pata fez quando encontrou o pequeno patinho?

- Mamãe Pata lhe parou:
- Mamãe Pata lhe perguntou:
- Mamãe Pata lhe prendeu:



e) Qual é o gênero textual do texto?

- fábula
- poesia
- conto

2. Qual é o assunto do texto? _____

3. Você gostou da história? Explique.

UNIDADE ESCOLAR:

PROFESSOR(A)

ANO DE ESCOLARIDADE

DATA

3º ANO

18ª semana (13 a 17/06)

NOME:

HOJE É?

SEGUNDA

TERÇA

QUARTA

QUINTA

SEXTA

CÓDIGO BNCC

EF03MA20/EF03MA05.RJ/EF03MA02/EF03MA26/
EF03MA12/EF03MA13

MATEMÁTICA




1. Marcos estava com 100 reais e 50 centavos disponíveis em sua conta.

Esse valor pode ser encontrado em:

A.



C.



B.



D.




2. Veja a conta: **1 479 + 32**

Qual o resultado dessa conta?

- A) 1.521
- B) 5.111
- C) 1.511
- D) 1.501

3. Alberto foi com sua neta ao seu sítio colher laranjas. Juntos, eles colheram 207 laranjas. A quantidade de laranjas colhidas por eles foi:

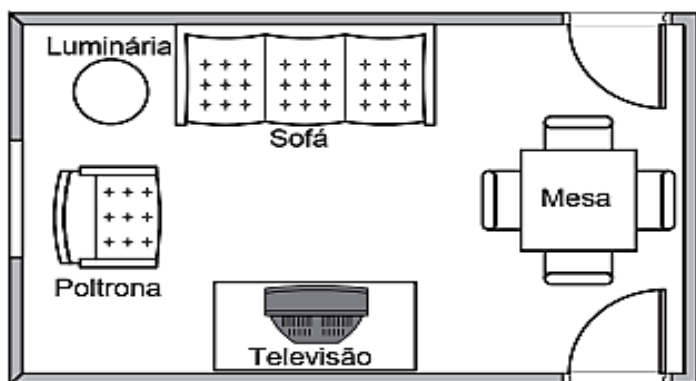
- A) vinte e sete.
- B) setecentos e dois.
- C) duzentos e setenta.
- D) duzentos e sete.



4. Veja o número: **950**. Uma das decomposições desse número é:

- A) $900 + 500$
- B) $900 + 50$
- C) $90 + 50$
- D) $9 + 5 + 0$

5. Observe abaixo o quarto de Camila:



De acordo com esse desenho, qual móvel ficou mais próximo da luminária?

- A) Mesa
- B) Televisão
- C) Poltrona
- D) Sofá


6. Veja a conta: **1752 – 046**. O resultado dessa conta é:

- A) 1 756
- B) 1 776
- C) 1 726
- D) 1 706

7. Veja a figura plana ao lado.

Esta figura geométrica é um:

- A) cilindro.
- B) cubo.
- C) cone.
- D) paralelepípedo.



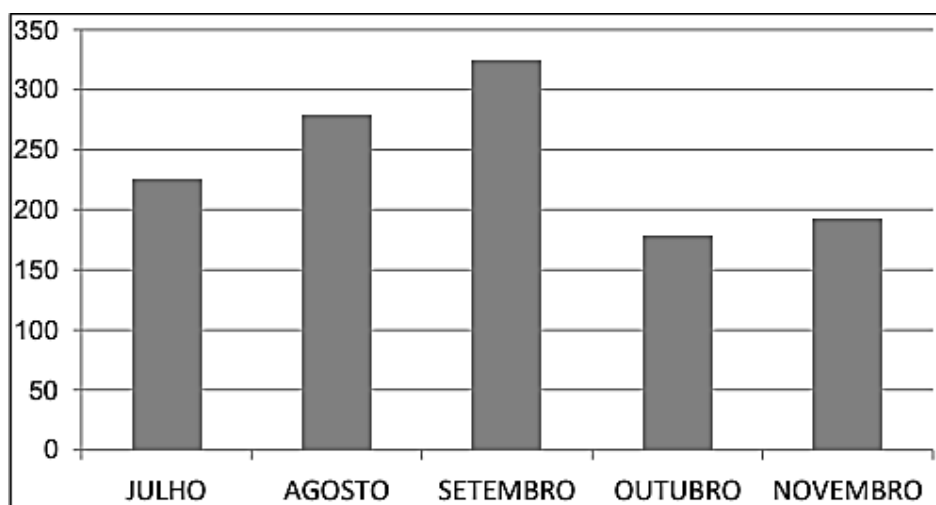
8. Observe o boneco de neve ao lado.

A barriga do boneco de neve tem a forma:

- A) circular.
- B) quadrada.
- C) retangular.
- D) triangular.



9. O gráfico, a seguir, mostra o número de refeições em um restaurante durante alguns meses do ano.



De acordo com o gráfico, o mês que obteve o menor número de refeições vendidas, foi:

- A) agosto
- B) julho
- C) outubro
- D) setembro

10. Observe os números no quadro abaixo:

302 – 320 – 203 – 232

Qual desses números é o maior?

- A) 232
- B) 203
- C) 320
- D) 302

- MARQUE SOMENTE UMA RESPOSTA PARA CADA QUESTÃO;
- PINTE O QUADRINHO COMPLETAMENTE;
- SE HOUVER MAIS DE UM QUADRINHO PINTADO POR QUESTÃO, A MESMA SERÁ ANULADA.

QUESTÕES

1	A	B	C	D
2	A	B	C	D
3	A	B	C	D
4	A	B	C	D
5	A	B	C	D
6	A	B	C	D
7	A	B	C	D
8	A	B	C	D
9	A	B	C	D
10	A	B	C	D

GABARITO



**A sua dedicação faz toda a
diferença!**

UNIDADE ESCOLAR:

PROFESSOR(A) ANO DE ESCOLARIDADE DATA

NOME:

HOJE É? CÓDIGO BNCC

LÍNGUA PORTUGUESA 

Adjetivo →

É toda palavra que caracteriza o substantivo, indicando-lhe **qualidade, defeito, estado, condição**, etc. Ex.: homem **bom** (qualidade), patinho **feio** (defeito), moça **feliz** (estado), família **rica** (condição).



Flávio, você é um menino carinhoso, bonito e alegre.



Você Aninha, é linda, elegante e amiga.

❖ As palavras: **carinhoso, bonito, alegre, linda, elegante e amiga**, são adjetivos.
❖ **O adjetivo acompanha o substantivo** e nos informa como ele é, podendo vir antes ou depois dele.

1. Leia o bilhete abaixo, **circule os adjetivos** e reescreva-os na lista ao lado:

Este recado é pra você que gosta de gatos

Tenho seis gatinhos lindos, peludos e fofinhos precisando de um dono carinhoso e brincalhão.

Eles são espertos, travessos e já se alimentam de ração.

Se você quiser um, fale comigo.

Eduardo, 4º MC

UNIDADE ESCOLAR:

PROFESSOR(A)

ANO DE ESCOLARIDADE
3º ANO

DATA
18ª semana (13 a 17/06)

NOME:

HOJE É?

SEGUNDA

TERÇA

QUARTA

QUINTA

SEXTA


CÓDIGO BNCC

EF03LP09

LÍNGUA PORTUGUESA



1. Pinte o adjetivo mais adequado para cada figura.



BONITO

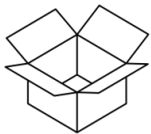
ALTO

GROSSO

CONFORTÁVEL

ESPERTA

LONGA



VAZIA

QUADRADA

NOVA

CURTA

AQUÁTICA

ESPAÇOSA



GELADO

DELICADO

FINO

DOCE

CHEIO

MORENO



MEDROSO


CALADO

VELOZ

FELIZ

EDUCADA

AFIADA



COLORIDO

CONFORTÁVEL

PESADO

MACIA

TRISTONHA

BONDOSA



GORDO

ZANGADO

SEGURO

ALEGRE

SORRIDENTE

PEQUENA

