

PREFEITURA MUNICIPAL DE BOM JESUS DO ITABAPOANA-RJ  
SECRETARIA MUNICIPAL DE EDUCAÇÃO, ESPORTE E LAZER

**SEMEEL**

*A mudança está em nossas mãos*

# Atividades Orientadoras



**2º**  
ano

# Ensino Fundamental

UNIDADE ESCOLAR:

PROFESSOR(A)

ANO DE ESCOLARIDADE

DATA

NOME:

HOJE É?

SEGUNDA

TERÇA

QUARTA

QUINTA

SEXTA

CÓDIGO BNCC

EF12LP18 / EF02LP05



## LÍNGUA PORTUGUESA

### FAMÍLIA

VOU CONTAR PARA VOCÊS  
COMO É A MINHA FAMÍLIA  
COMO É A NOSSA CASA  
E O NOSSO DIA A DIA.

MORO COM MEUS PAIS  
E TAMBÉM COM MEU IRMÃO  
DE VEZ EM QUANDO A GENTE BRIGA,  
MAS É APENAS DISCUSSÃO.


MINHA MÃE SABE O QUE É ISSO  
ELA TAMBÉM TEM IRMÃO  
ELE É O MEU TIO PAULO  
O MEU TIO DO CORAÇÃO.

QUANDO CHEGA O DOMINGO  
A IDEIA É UMA SÓ  
REUNIR TODA FAMÍLIA  
LÁ NA CASA DA VOVÓ.

TODO MUNDO OUVINDO HISTÓRIAS  
AO REDOR DO VOVÔ DITO  
PRIMO, PRIMA, TIOS E TIAS  
CACHORRO, GATO E PERIQUITO.

SALATIEL SILVA





# COMPREENENDO O TEXTO

1- O TEXTO É UM: ( ) BILHETE ( ) POEMA ( ) CONTO

2- QUAL É O TÍTULO DO TEXTO? \_\_\_\_\_

3- QUEM É O AUTOR? \_\_\_\_\_

4- O PERSONAGEM DO TEXTO MORA COM...


( ) OS AVÓS ( ) OS AMIGOS ( ) OS PAIS E O IRMÃO

5- O TEXTO DIZ: "DE VEZ EM QUANDO A GENTE BRIGA, / MAS É APENAS DISCUSSÃO."

ASSINALE O SIGNIFICADO DA PALAVRA **DISCUSSÃO**.

( ) AS BRIGAS SÃO SÉRIAS.

( ) A GENTE BRIGA, MAS LOGO FAZ AS PAZES.



6- DE ACORDO COM O TEXTO, O QUE SIGNIFICA **MEU TIO DO CORAÇÃO?**

( ) UMA PESSOA RICA ( ) UMA PESSOA QUE AMO MUITO

( ) UMA PESSOA BONITA ( ) UMA PESSOA MUITO BRAVA

7- TODA FAMÍLIA, PRIMO, PRIMA, TIOS E TIAS. QUEM MAIS SE REÚNE PARA OUVIR AS HISTÓRIAS DO VOVÔ DITO?

\_\_\_\_\_

8- E VOCÊ, TAMBÉM TEM ALGUM TIO, TIA, PRIMO OU PRIMA DO CORAÇÃO?

\_\_\_\_\_

9- RETIRE DO TEXTO UMA PALAVRA:

A) COM TIL

\_\_\_\_\_

B) COM ACENTO CIRCUNFLEXO

\_\_\_\_\_

C) COM ACENTO AGUDO E DUAS SÍLABAS

\_\_\_\_\_



UNIDADE ESCOLAR:

PROFESSOR(A)

ANO DE ESCOLARIDADE

DATA

NOME:

HOJE É?

SEGUNDA
  TERÇA
  QUARTA
  QUINTA
  SEXTA

CÓDIGO BNCC

EF02MA05 / EF02MA18



# MATEMÁTICA

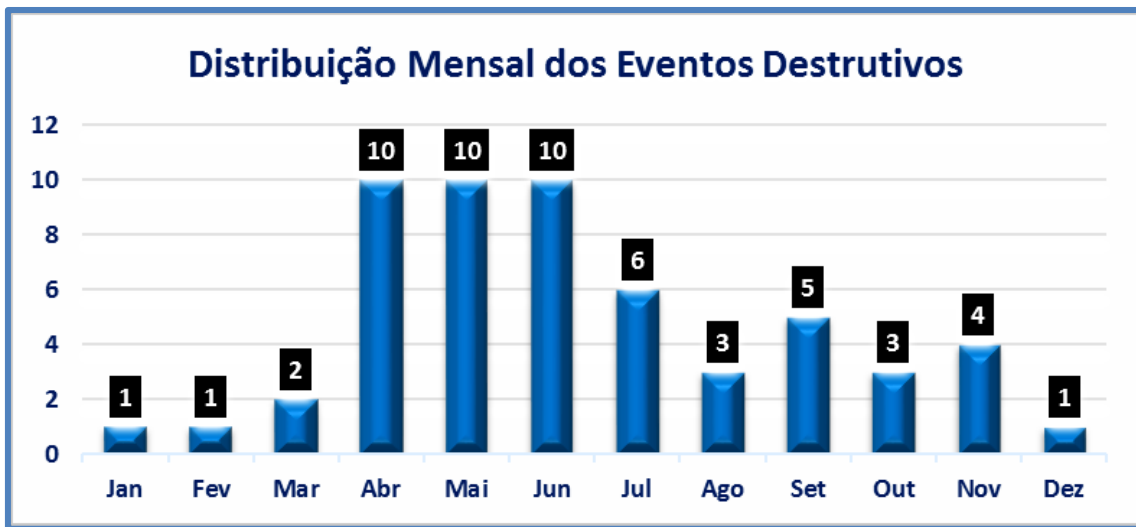


## CALENDÁRIO MENSAL - 2022

Agosto						
Dom	Seg	Ter	Qua	Qui	Sex	Sab
	1	2	3	4	5	6
7	8	9	10	11	12	13
14	15	16	17	18	19	20
21	22	23	24	25	26	27
28	29	30	31			

- A) EM QUE DIA DA SEMANA COMEÇA ESSE MÊS? \_\_\_\_\_
- B) QUANTOS SÁBADOS HÁ NESSE MÊS? \_\_\_\_\_
- C) SABENDO QUE O DIA DOS PAIS É COMEMORADO NO SEGUNDO DOMINGO DO MÊS DE AGOSTO, ESSE ANO VAI CAIR EM QUE DIA? \_\_\_\_\_
- D) QUANTOS DIAS TEM ESSE MÊS? \_\_\_\_\_
- E) PEDRO FAZ ANIVERSÁRIO DIA 19. QUE DIA DA SEMANA SERÁ O ANIVERSÁRIO DELE? \_\_\_\_\_
- F) JÚNIOR VAI AO DENTISTA DIA 03 DE AGOSTO E RETORNARÁ DIA 15. COM QUANTOS DIAS ELE RETORNARÁ AO DENTISTA? \_\_\_\_\_

2- OS ALUNOS DO 2º ANO CONSTRUÍRAM UM GRÁFICO PARA MOSTRAR QUANTOS ALUNOS DA ESCOLA FAZIAM ANIVERSÁRIO EM CADA MÊS DO ANO. OBSERVE:



A) EM QUE MÊS TEM 6 ANIVERSARIANTES? \_\_\_\_\_

B) QUAIS SÃO OS MESES EM QUE NÃO TEVE O NÚMERO DE ANIVERSARIANTES IGUAL? \_\_\_\_\_

C) EM QUAIS MESES O NÚMERO DE ANIVERSARIANTES É DE UMA DEZENA? \_\_\_\_\_

D) SOMANDO OS ANIVERSARIANTES DOS MESES DE SETEMBRO E NOVEMBRO, QUANTOS ANIVERSARIANTES TEREAMOS? \_\_\_\_\_

E) QUAL É O ÚLTIMO MÊS DO ANO? \_\_\_\_\_

F) QUAL É O MÊS DO SEU ANIVERSÁRIO? \_\_\_\_\_

G) EM QUE MÊS COMEMORAMOS O DIA DAS CRIANÇAS? \_\_\_\_\_

3- EFETUE AS ADIÇÕES E PINTE O RESULTADO:

29	69
<u>+40</u>	60
	96

55	23
<u>+32</u>	87
	89

71	79
<u>+18</u>	69
	89

UNIDADE ESCOLAR:

PROFESSOR(A)

ANO DE ESCOLARIDADE

DATA

NOME:

HOJE É?

SEGUNDA

TERÇA

QUARTA

QUINTA

SEXTA

CÓDIGO BNCC

EF02LP09/EF02LP19



## LÍNGUA PORTUGUESA

1- ESCREVA NOS QUADRINHOS **PONTO-FINAL** OU **PONTO DE INTERROGAÇÃO**.

### OS GOLFINHOS


VOCÊ SABIA QUE OS SALTOS DOS GOLFINHOS PODEM  
CHEGAR A CINCO METROS DE ALTURA

ELES TAMBÉM SABEM MERGULHAR MUITO BEM

PODEM FICAR ATÉ VINTE MINUTOS EMBAIXO DA ÁGUA

OS GOLFINHOS NADAM BEM RÁPIDO  SABE POR QUÊ

PORQUE A PELE DELES É LISA E OS AJUDA A DESLIZAR MAIS FACILMENTE PELA  
ÁGUA




CADA PARTE DO TEXTO É CHAMADA **PARÁGRAFO**.

CADA **PARÁGRAFO** COMEÇA EM UMA NOVA LINHA E COM LETRA  
MAIÚSCULA.


A PRIMEIRA FRASE DE CADA **PARÁGRAFO** INICIA UM POUCO À FRENTE  
DA MARGEM ESQUERDA DA PÁGINA.

2- QUANTOS PARÁGRAFOS TEM O TEXTO ACIMA? \_\_\_\_\_

3- OS QUADRINHOS ESTÃO FORA DE ORDEM. NUMERE-OS NA ORDEM CORRETA E ESCREVA UM TÍTULO PARA A HISTÓRIA USANDO O PONTO DE EXCLAMAÇÃO.



4- ESCREVA UMA FRASE PARA CADA QUADRINHO, SENDO A 1ª FRASE COM PONTO FINAL, A 2ª COM PONTO DE INTERROGAÇÃO E A 3ª COM PONTO DE EXCLAMAÇÃO. DEPOIS, APRESENTE ORALMENTE SUA HISTÓRIA PARA SUA TURMA.




---



---



---



UNIDADE ESCOLAR:

PROFESSOR(A)

ANO DE ESCOLARIDADE

DATA

NOME:

HOJE É?

SEGUNDA

TERÇA

QUARTA

QUINTA

SEXTA

CÓDIGO BNCC

EF02MA06/EF02MA05



## MATEMÁTICA

1- LÚCIA PASSOU TODO O MÊS DE DEZEMBRO E JANEIRO NA PRAIA. QUANTOS DIAS ELA PASSOU NA PRAIA?



R: \_\_\_\_\_

2- NA CIDADE ONDE MORA RAQUEL, CHOVEU UMA SEMANA INTEIRA, NO ÚLTIMO MÊS DE DEZEMBRO. DURANTE QUANTOS DIAS DO MÊS NÃO CHOVEU?



R: \_\_\_\_\_

3- O PAI DE MARTA TIROU FÉRIAS DURANTE TODO O MÊS DE JULHO E 7 DIAS DURANTE O MÊS DE AGOSTO. QUANTOS DIAS ELE FICOU DE FÉRIAS?




R: \_\_\_\_\_



# APRENDA BRINCANDO!

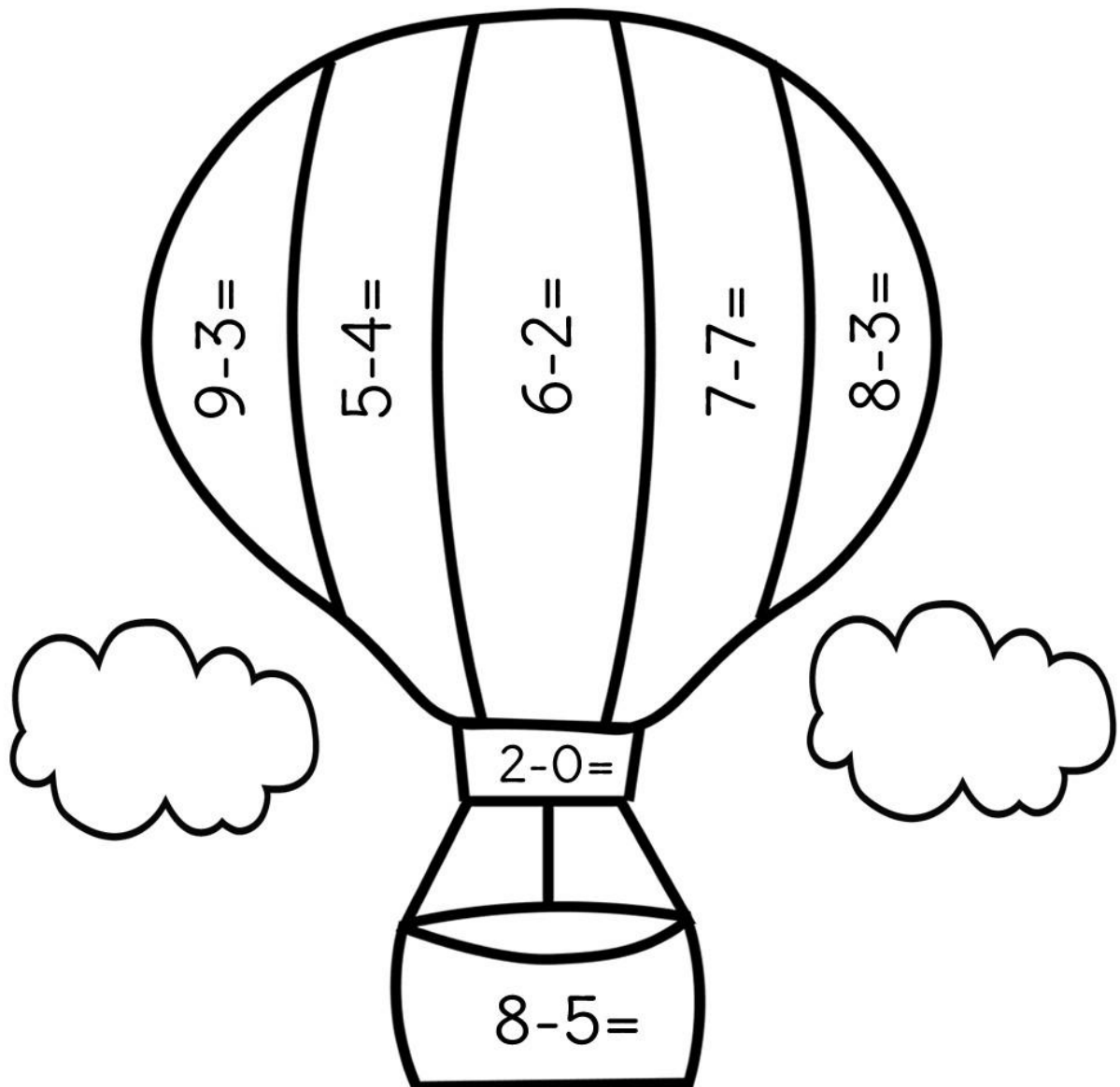
**FIQUE ESPERTO!** 



## HORA DE SUBTRAIR!

6	AZUL	1	VERMELHO	5	ROSA
3	VERDE	0	LARANJA	4	AMARELO
				2	LILÁS

1 - SIGA A LEGENDA ACIMA E PINTE O BALÃO DE ACORDO COM OS RESULTADOS DAS OPERAÇÕES.



[www.artedeensinareaprender.com.br](http://www.artedeensinareaprender.com.br)

UNIDADE ESCOLAR:

PROFESSOR(A)

ANO DE ESCOLARIDADE

DATA

NOME:

HOJE É?

SEGUNDA

TERÇA

QUARTA

QUINTA

SEXTA

CÓDIGO BNCC



# CIÊNCIAS

1- LIGUE CORRETAMENTE:

**BRAÇO**


**MÃO**

**CABEÇA**

**BARRIGA**

**PÉ**

**PERNA**



2- NOSSO CORPO É DIVIDIDO EM TRÊS PARTES: **CABEÇA – TRONCO – MEMBROS SUPERIORES E INFERIORES**. MARQUE A RESPOSTA CORRETA:

A) OS OLHOS, A BOCA, O NARIZ E OS OUVIDOS ESTÃO LOCALIZADOS NA:

( ) TRONCO                      ( ) CABEÇA                      ( ) MEMBROS SUPERIORES

B) OS BRAÇOS E AS MÃOS FAZEM PARTE DO:

( ) TRONCO                      ( ) CABEÇA                      ( ) MEMBROS SUPERIORES

C) AS PERNAS E OS PÉS FAZEM PARTE DOS:

( ) TRONCO                      ( ) CABEÇA                      ( ) MEMBROS INFERIORES

D) A BARRIGA FICA LOCALIZADA NO:

( ) TRONCO                      ( ) CABEÇA                      ( ) MEMBROS SUPERIORES

3- COMPLETE A CRUZADINHA.

1- PARTE DO CORPO QUE USAMOS PARA SENTIR OS CHEIROS.

2- PARTES DO CORPO QUE USAMOS PARA ENXERGAR.

3- PARTE DO CORPO QUE USAMOS PARA SENTIROS GOSTOS.

4- PARTES DO CORPO QUE USAMOS PARA OUVIR.

