

PREFEITURA MUNICIPAL DE BOM JESUS DO ITABAPOANA-RJ
SECRETARIA MUNICIPAL DE EDUCAÇÃO, ESPORTE E LAZER

SEMEEL

A mudança está em nossas mãos

Atividades Orientadoras



2º ano

Ensino Fundamental

UNIDADE ESCOLAR:

PROFESSOR(A)

ANO DE ESCOLARIDADE

2º ANO

DATA

22ª SEMANA (25 a 29/07)

NOME:

HOJE É?

SEGUNDA

TERÇA

QUARTA

QUINTA

SEXTA

CÓDIGO BNCC

EF02LP12



LÍNGUA PORTUGUESA



UM DIA DE CHUVA

O DIA ESTÁ CHUVOSO!

ESTER ADORA QUANDO ISSO ACONTECE,

POIS, BRINCAR NA POÇA DE ÁGUA É SEU

DIVERTIMENTO PREDILETO.

DONA GRAÇA, SUA MÃE, VIVE FALANDO:

— ESTER, SAI LOGO DESTA CHUVA, VOCÊ

PODE FICAR GRIPADA, MENINA!



ISABEL CRISTINA SILVEIRA SOARES

1- NUMERE OS PARÁGRAFOS DO TEXTO.

2- QUANTOS PARÁGRAFOS TEM O TEXTO?

3- QUAL É O TÍTULO DO TEXTO?

4- O GRAU DE PARENTESCO DAS PERSONAGENS QUE APARCEM NO TEXTO É:

() VOVÓ E NETINHA () TIA E SOBRINHA () MÃE E FILHA

5- QUAIS OS NOMES DELAS?

6- QUAL É O DIVERTIMENTO PREDILETO DE ESTER?


- () DANÇAR NA CHUVA.
- () BRINCAR NA POÇA DE ÁGUA QUE A CHUVA FAZ.
- () BRINCAR COM AS GOTINHAS DE CHUVA QUE CAEM DO TELHADO.



7- E O SEU DIVERTIMENTO PREDILETO, QUAL É?

8- DONA GRAÇA É MAMÃE BEM PREOCUPADA COM A FILHA. O QUE ELA DIZ QUANDO VÊ A FILHA BRINCANDO NO POÇA DE ÁGUA?

9- DE QUAL PARÁGRAFO VOCÊ RETIROU A RESPOSTA DA QUESTÃO ANTERIOR?



UNIDADE ESCOLAR:

PROFESSOR(A)

ANO DE ESCOLARIDADE

2º ANO

DATA

22ª SEMANA (25 a 29/07)

NOME:

HOJE É?

SEGUNDA

TERÇA

QUARTA

QUINTA

SEXTA

CÓDIGO BNCC

EF02MA14 / EF02MA15



MATEMÁTICA

ADIVINHAÇÃO DAS FORMAS GEOMÉTRICAS


QUEM SOU EU?

TENHO QUATRO LADOS IGUAIS.

SOU SEU AMIGO.

PODE-SE FAZER VÁRIOS DESENHOS COMIGO.


SOU O ... (*LIGUE NA FIGURA CORRETA*)



SOU LEGAL PARA BRINCAR.

TENHO APENAS TRÊS LADOS.

VOCÊ SABE ME DESENHAR?



SOU REDONDO COMO BOLA.

NÃO ME CONFUNDA COM MOLA.

PINTE-ME AGORA.




SOU ASSIM:

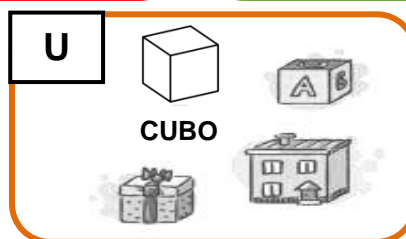

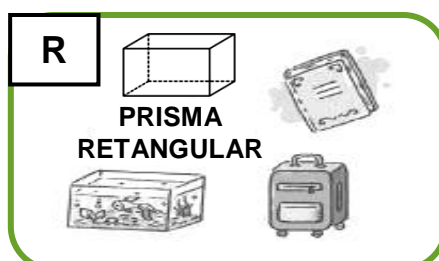
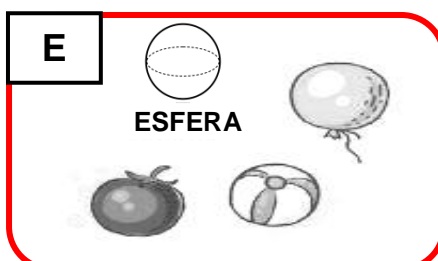
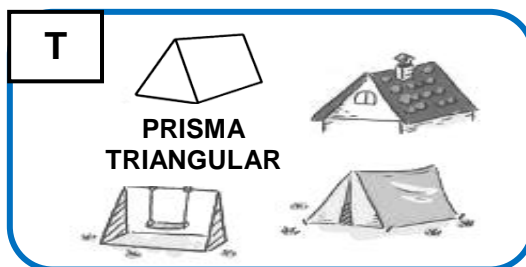
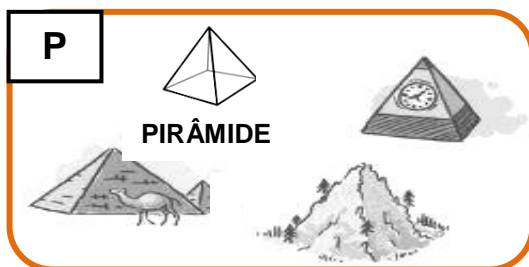
DOIS LADOS PEQUENOS

E DOIS MAIORES.



FAÇA UM **X** EM MIM.



2- VEJA ALGUNS EXEMPLOS DE SÓLIDOS GEOMÉTRICOS E ONDE OS ENCONTRAMOS NO NOSSO DIA A DIA.



3 – AGORA, OBSERVE OS OBJETOS ABAIXO E RELACIONE, DE ACORDO COM O CÓDIGO DE LETRAS DO SÓLIDO GEOMÉTRICO QUE CADA UM LEMBRA.



UNIDADE ESCOLAR: _____

PROFESSOR(A) _____

ANO DE ESCOLARIDADE _____

DATA _____

2º ANO

22ª SEMANA (25 a 29/07)

NOME: _____

HOJE É?

SEGUNDA

TERÇA

QUARTA

QUINTA

SEXTA

CÓDIGO BNCC

EF02LP01.RJ / EF02LP07



LÍNGUA PORTUGUESA

1- PINTA A SÍLABA QUE ESTÁ FALTANDO E COMPLETE A PALAVRA.

	LHO
	NHO
	CHO
COE_____	

	LHA
	NHA
	CHA
_____PÉU	

	LHO
	NHO
	CHO
O_____	

	LHA
	NHA
	CHA
FO_____	

	LHÃO
	NHÃO
	CHÃO
CAMI_____	





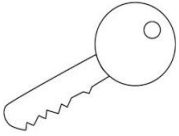





	CHU
	LHU
	NHU
_____VEIRO	

	LHA
	NHA
	CHA
GALI_____	

	LHA
	NHA
	CHA
_____VEIRO	



	LHA
	NHA
	NHA
PA_____ÇO	

2- COMPLETE AS PALAVRAS COM X OU CH:

X OU CH?	
 ____ ICLETE	 PEI ____ E
 ____ APÉU	 CA ____ ORRO
 ____ AVE	 ABACA ____ I
 LI ____ EIRA	 BE ____ IGA
 MO ____ ILA	 ____ ÍCARA



3 – REESCREVA AS PALAVRAS NO QUADRO ABAIXO, COLOCANDO-AS NO ESPAÇO ADEQUADO.

	
_____	_____
_____	_____
_____	_____
_____	_____
_____	_____

UNIDADE ESCOLAR:

PROFESSOR(A)

ANO DE ESCOLARIDADE

2º ANO

DATA

22ª SEMANA (25 a 29/07)

NOME:

HOJE É?

SEGUNDA

TERÇA

QUARTA

QUINTA

SEXTA

CÓDIGO BNCC

EF02MA14 / EF02MA15




MATEMÁTICA

FIGURAS PLANAS E NÃO PLANAS

➤ **FIGURAS PLANAS** SÃO AS FORMAS GEOMÉTRICAS FORMADAS POR SUPERFÍCIES PLANAS.



RETÂNGULO



CÍRCULO

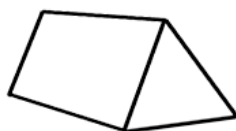


TRIÂNGULO

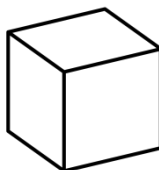


QUADRADO

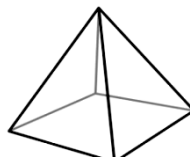
➤ **FIGURAS NÃO PLANAS** SÃO OS SÓLIDOS GEOMÉTRICOS. SÃO TRIDIMENSIONAIS E POSSUEM VOLUME.



PRISMA TRIANGULAR



CUBO

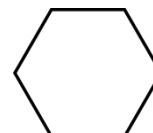
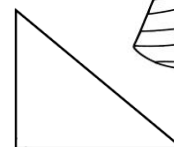
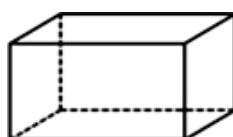




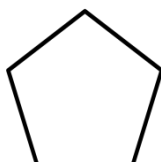
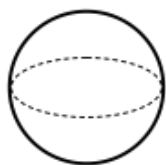


PIRÂMIDE



CILINDRO


1- FAÇA UM **X** APENAS NAS FIGURAS **NÃO** PLANAS.



DIVIRTA-SE!



2 – CONTE, CALCULE E PINTE AS FORMAS GEOMÉTRICAS.
EM SEGUIDA, REGISTRE QUANTAS FORMAS GEOMÉTRICAS
HÁ NA FIGURA.




HÁ _____ QUADRADOS.



HÁ _____ CÍRCULOS.



HÁ _____ TRIÂNGULOS.



HÁ _____ RETÂNGULOS.

UNIDADE ESCOLAR:

PROFESSOR(A)

ANO DE ESCOLARIDADE

2º ANO

DATA

22ª SEMANA (25 a 29/07)

NOME:

HOJE É?

SEGUNDA

TERÇA

QUARTA

QUINTA

SEXTA

CÓDIGO BNCC

EF02HI06 / EF02HI06



HISTÓRIA

OS COSTUMES ALIMENTARES DOS BRASILEIROS

SÃO TANTOS ALIMENTOS QUE FAZEM PARTE DE NOSSO DIA A DIA, QUE GERALMENTE, ESCOLHEMOS NOSSOS PREFERIDOS. VOCÊ JÁ PAROU PARA PENSAR DE ONDE VÊM NOSSAS PREFERÊNCIAS ALIMENTARES E PORQUE SOMOS ACOSTUMADOS A COMER DETERMINADOS ALIMENTOS E NÃO OUTROS?

A ALIMENTAÇÃO DOS BRASILEIROS, HOJE, É FRUTO DA INFLUÊNCIA DOS INDÍGENAS QUE VIVIAM NESTAS REGIÕES E DE OUTROS POVOS QUE PARA CÁ VIERAM. O TEXTO A SEGUIR, MOSTRA A ORIGEM DE ALGUNS ALIMENTOS PRESENTES EM NOSSA MESA.

- **ORIGEM AMERICANA:** MANDIOCA (EM ALGUMAS REGIÕES DO BRASIL, CONHECIDA COMO AIPIM, MACAXEIRA, MANIVA, PÃO-DE-POBRE), AMENDOIM, MILHO E BATATA.



- **ORIGEM AFRICANA:** BANANA, CAFÉ, AZEITE DE DENDÊ, PIMENTA-MALAGUETA.

- **ORIGEM EUROPEIA:** TRIGO E VÁRIOS TIPOS DE CARNE: GADO BOVINO, PATO, PORCO, CARNEIRO, GANSO E GALINHA.



- **ORIGEM ASIÁTICA:** COCO, ARROZ, CANELA, ALECRIM, ERVA-DOCE E CRAVO-DA-ÍNDIA.

A CONVIVÊNCIA ENTRE OS DIVERSOS POVOS FEZ COM QUE SEUS HÁBITOS ALIMENTARES SE MISTURASSEM AO LONGO DO TEMPO, FORMANDO A RICA CULINÁRIA BRASILEIRA.

QUAL É O PRATO TÍPICO DE SUA REGIÃO?

FESTAS E BRINCADEIRAS VARIAM DE UMA REGIÃO PARA OUTRA NO BRASIL. COM OS COSTUMES ALIMENTARES NÃO É DIFERENTE. OBSERVE O MAPA E LEIA AS LEGENDAS:



1- PESQUISE E ESCREVA O NOME DO PRATO TÍPICO DE SUA REGIÃO.

2- ESCREVA O NOME DOS ALIMENTOS QUE SUA FAMÍLIA NÃO TEM COSTUME DE CONSUMIR, DE ACORDO COM A ORIGEM.

A) ORIGEM ASIÁTICA: _____

B) ORIGEM EUROPEIA: _____

C) ORIGEM AFRICANA: _____

D) ORIGEM AMERICANA: _____

3- QUAL O PRATO PREFERIDO DA SUA FAMÍLIA? VOCÊ SABE A ORIGEM DELE?