

PREFEITURA MUNICIPAL DE BOM JESUS DO ITABAPOANA-RJ
SECRETARIA MUNICIPAL DE EDUCAÇÃO, ESPORTE E LAZER

Atividades Orientadoras



Educação de Jovens e Adultos

FASE II



UNIDADE ESCOLAR:

PROFESSORA

DATA

4ª SEMANA DE JULHO

NOME:

FASE

CÓDIGO BNCC

LP **LÍNGUA PORTUGUESA**

01 OBSERVE O ALFABETO E COMPLETE AS TABELAS ABAIXO:

A	B	C	D	E	F	G	H	I
J	K	L	M	N	O	P	Q	R
S	T	U	V	W	X	Y	Z	

A COMPLETE COM AS LETRAS QUE FALTAM PARA FORMAR O ALFABETO.

A		C		E			I		K		
	O		Q			T	U			Y	

B AGORA ESCREVA SÓ AS VOGAIS.

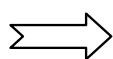
<input type="text"/>	<input type="text"/>	<input type="text"/>	<input type="text"/>	<input type="text"/>
----------------------	----------------------	----------------------	----------------------	----------------------

02 CONSULTE O ALFABETO ACIMA E ESCREVA AS LETRAS QUE VÊM ANTES, ENTRE E DEPOIS.

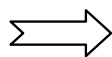
ANTES	ENTRE	DEPOIS
<input type="text"/> O	A <input type="text"/> C	E <input type="text"/>
<input type="text"/> T	I <input type="text"/> K	T <input type="text"/>
<input type="text"/> W	Q <input type="text"/> S	F <input type="text"/>
<input type="text"/> Q	X <input type="text"/> Z	B <input type="text"/>

03 QUANTOS PEDAÇOS TEM CADA NOME?

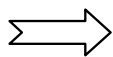
BOTA




VASSOURA



CAPACETE



CELULAR



CADA UM DESSES **PEDAÇOS** QUE VOCÊ FALOU É UMA **SÍLABA**.

A CIRCULE A PALAVRA QUE TEM MAIS PEDAÇOS OU SÍLABAS ACIMA.

- QUAL PALAVRA VOCÊ CIRCULOU?

04 COMPLETE A CRUZADINHA COM OS NOMES QUE ESTÃO NO RETÂNGULO.

1
3
4
5

2

© SMARTKIDS

1-CARNEIRO, 2-VACA, 3- CABRA,
4- GALINHA, 5- PATO

UNIDADE ESCOLAR:

PROFESSORA

DATA
4ª SEMANA DE JULHO

NOME:

FASE

CÓDIGO BNCC

MA MATEMÁTICA

01 COMPLETE A SEQUÊNCIA NUMÉRICA ABAIXO DE 1 A 50.

1									
		13							
			25						
							39		
	42								

02 COMPLETE AS CASINHAS COM OS VIZINHOS. QUEM VEM ANTES E QUEM VEM DEPOIS?

03 A COORDENADORA MUNICIPAL PESQUISOU ONDE MORAM ALGUNS ALUNOS DA EJA, DO MUNICÍPIO DE BOM JESUS DO ITABAPOANA. O RESULTADO FOI:

LOCALIDADES	NÚMERO DE ALUNOS
BOM JESUS DO ITABAPOANA	32
BARRA DO PIRAPETINGA	11
MUTUM	13
ROSAL	12

A JUNTANDO **TODOS OS ALUNOS** DA PESQUISA, QUANTOS ALUNOS TEM AO TODO NA TABELA?

B SE JUNTARMOS OS ALUNOS DA **BARRA DO PIRAPETINGA, MUTUM E ROSAL** DA TABELA, FICARÃO QUANTOS ALUNOS?

C QUAL LOCALIDADE TEM MAIS ALUNOS?

- () BOM JESUS DO ITABAPOANA
- () BARRA DO PIRAPETINGA
- () MUTUM
- () ROSAL





UNIDADE ESCOLAR:

PROFESSORA

DATA

4ª SEMANA DE JULHO

NOME:

FASE

CÓDIGO BNCC

LP **LÍNGUA PORTUGUESA**

01 OBSERVE O ALFABETO E FAÇA O QUE SE PEDE.

A	B	C	D	E	F	G
H	I	J	K	L	M	N
O	P	Q	R	S	T	U
V	W	X	Y	Z		

A CIRCULE AS VOGAIS ACIMA.

B QUAL A 1ª LETRA DO ALFABETO?

C E A ÚLTIMA LETRA DO ALFABETO?

D QUAL A LETRA QUE VEM APÓS O J?

E QUAL A LETRA QUE FICA ENTRE?

F QUANTAS LETRAS TEM O ALFABETO?

02

TENTE ESCREVER O SEU NOME DO SEU JEITO.

Blank writing area for the student's name.

03 ESCREVA OS NOMES DOS DESENHOS DO SEU JEITO, VAMOS LÁ!



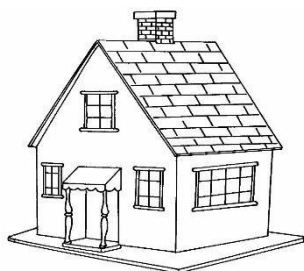
Blank writing area for the name of the pot.



Blank writing area for the name of the milk powder.



Blank writing area for the name of the bowl.



Blank writing area for the name of the house.



Blank writing area for the name of the bed.



UNIDADE ESCOLAR:

PROFESSORA

DATA

4ª SEMANA DE JULHO

NOME:

FASE

CÓDIGO BNCC

MA

MATEMÁTICA

01 NO SUPERMERCADO, ANA MARIA COMPROU OS SEGUINTE ITENS:



02 LITROS DE LEITE

01 ABACAXI

02 DESINFETANTES

01 SABÃO LÍQUIDO.

AGORA RESPONDA:

A QUANTOS ITENS ANA MARIA COMPROU?

() 5 ITENS () 6 ITENS () 10 ITENS () 4 ITENS

B SE RETIRAR OS 2 DESINFETANTES, QUANTOS ITENS RESTAM?

() 3 ITENS () 4 ITENS () 8 ITENS () 2 ITENS

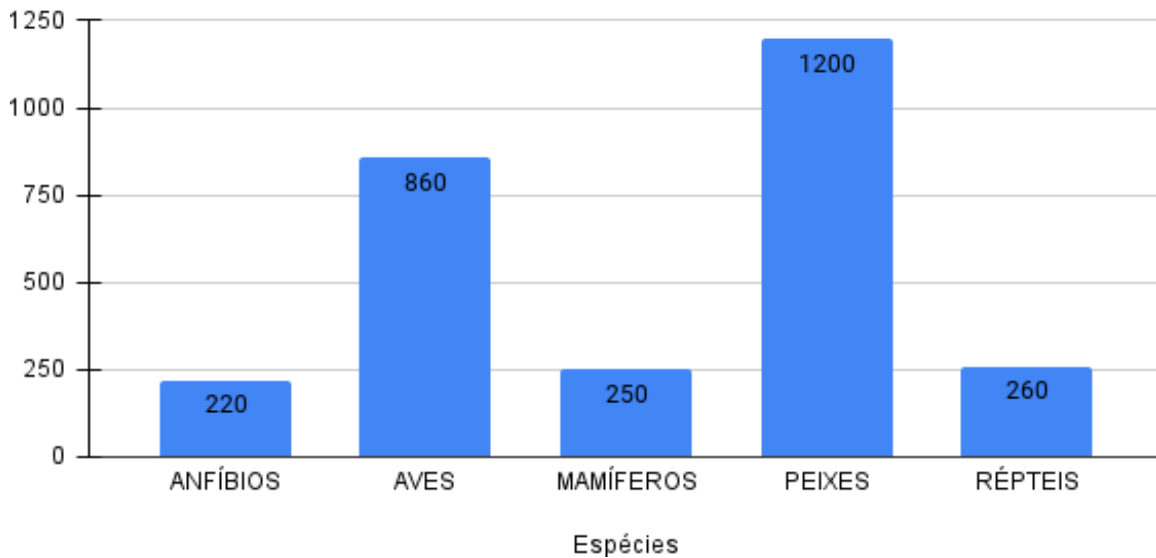
C SE TIVESSE COMPRADO 1 ITEM DE CADA UM, QUANTOS TERIAM?

() 4 ITENS () 3 ITENS () 2 ITENS () 5 ITENS

NO CERRADO VIVEM INÚMERAS ESPÉCIES DE ANIMAIS. ENTRE AS ESPÉCIES JÁ IDENTIFICADAS, TEMOS: **860** SÃO AVES, **250** SÃO MAMÍFEROS, **260** SÃO RÉPTEIS, **1.200** SÃO PEIXES E **220** SÃO ANFÍBIOS.

02 VEJA ESSES NÚMEROS NO GRÁFICO.

QUANTIDADE DE ESPÉCIES ANIMAIS IDENTIFICADAS NO CERRADO



Fonte: Instituto Jurumi - Natu Cerrado

DE ACORDO COM O GRÁFICO, RESPONDA:

A QUAL ESPÉCIE APRESENTA MAIOR QUANTIDADE?

B QUANTAS AVES JÁ FORAM IDENTIFICADAS NO CERRADO?

C QUAL ESPÉCIE APRESENTA MENOR QUANTIDADE?

D HÁ MAIS AVES OU RÉPTEIS IDENTIFICADOS NO CERRADO?



UNIDADE ESCOLAR:

PROFESSORA

DATA

4ª SEMANA DE JULHO

NOME:

FASE

CÓDIGO BNCC

LP **LÍNGUA PORTUGUESA**

01 VAMOS CONTAR AS LETRAS E AS SÍLABAS DAS PALAVRAS ABAIXO.

PALAVRA	QUANTIDADE DE LETRAS	QUANTIDADE DE SÍLABAS	SEPARAÇÃO SILÁBICA
BERMUDA	7	3	BER-MU-DA
VESTIDO			
CALÇA			
MEIA			
CASACO			

02 ESCREVA O NOME DAS FIGURAS ABAIXO.



03

COMPLETE O ALFABETO COM AS LETRAS QUE FALTAM.

A		C		E		G
	I		K		M	
O		Q		S		U
	W		Y			

04

JÁ TEMOS AS VOGAIS. AGORA COMPLETE O ALFABETO COM AS CONSOANTES.

A				E		
	I					
O						U