

PREFEITURA MUNICIPAL DE BOM JESUS DO ITABAPOANA-RJ
SECRETARIA MUNICIPAL DE EDUCAÇÃO, ESPORTE E LAZER

Atividades Orientadoras



Educação de Jovens e Adultos

FASE IV

UNIDADE ESCOLAR:

PROFESSORA

DATA

NOME:

FASE

IV e V

CÓDIGO BNCC

EF01LP25, EF01LP32, EF01LP33, EF01LP34, EF01LP02 e EF02LP26

LP

LÍNGUA PORTUGUESA

Atividade Diagnóstica

01 Escreva seu nome completo:



02 Escreva nos quadrinhos abaixo as letras que sua professora ditar.

<input type="text"/>	<input type="text"/>	<input type="text"/>	<input type="text"/>	<input type="text"/>	<input type="text"/>	<input type="text"/>	<input type="text"/>	<input type="text"/>
<input type="text"/>	<input type="text"/>	<input type="text"/>	<input type="text"/>	<input type="text"/>	<input type="text"/>	<input type="text"/>	<input type="text"/>	<input type="text"/>

03 Leia o texto abaixo e responda as questões a seguir.

Existem muitos animais no mundo. Desde aqueles tão pequenos que nem enxergamos, até os bem grandes.

Os animais podem viver no mar, nos rios, nas florestas, dentro da terra ou até mesmo em nossa casa.

Cada animal tem seu jeito de comer, dormir, andar, ter filhotes, etc.

Alguns têm pernas, outros têm pelos e podem ter muitas ou poucas patas, podem ter asas ou chifres, de acordo com o tipo de cada um.

04 Escreva um título para o texto acima.



05 Marque a resposta certa.

A Sobre o texto é correto afirmar que:

(A) traz informações sobre animais.

(B) é um poema de animais.

(C) faz propaganda de animais.

(D) é uma história de animais.

B O texto que você leu trata de:

(A) plantas e animais.

(B) como os animais podem ser perigosos.

(C) os vários tipos de animais que existem no mundo.

(D) os animais são todos iguais.

06 De acordo com o texto, onde podem viver os animais?

07 Escreva o nome dos animais abaixo.



A



B



C



D

UNIDADE ESCOLAR:

PROFESSORA

DATA

NOME:

FASE **IV e V**

CÓDIGO BNCC EF01MA03, EF01MA05, EF02MA06 e EF02MA04

MA

MATEMÁTICA

Atividade Diagnóstica

01 A professora entregou duas fichas numeradas a Pedro e pediu que respondesse às questões:

1ª ficha

2ª ficha

11

88

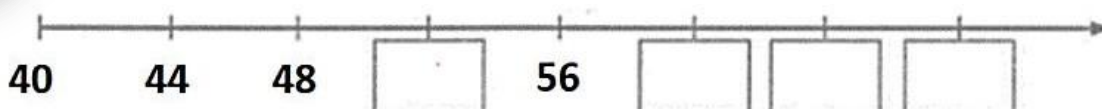
A Compare as duas fichas e encontre a diferença entre elas.

B Juntando as duas fichas, qual será o total?

C Retirando 5 da primeira ficha, qual será o resultado?

D Quanto preciso acrescentar à 1ª ficha para obter o valor da 2ª ficha?


02 Complete a reta numérica dos números que estão faltando.



03 Siga as dicas e encontre os números pedidos.

No caça-números, procure um número formado por:

- 3 centenas, 4 dezenas e 6 unidades.
- 7 centenas, 3 dezenas e 8 unidades.
- Oito centenas, duas dezenas e seis unidades.
- 6 centenas, 8 dezenas.
- Nove centenas e três unidades.
- 2 centenas, 1 dezena e 1 unidade.
- Sete centenas.
- 5 dezenas e 1 unidade.



04 Samanta vai fazer a festa de seu aniversário. Ela fez 36 docinhos. Marque um x na alternativa que representa a quantidade de docinhos que Samanta fez.

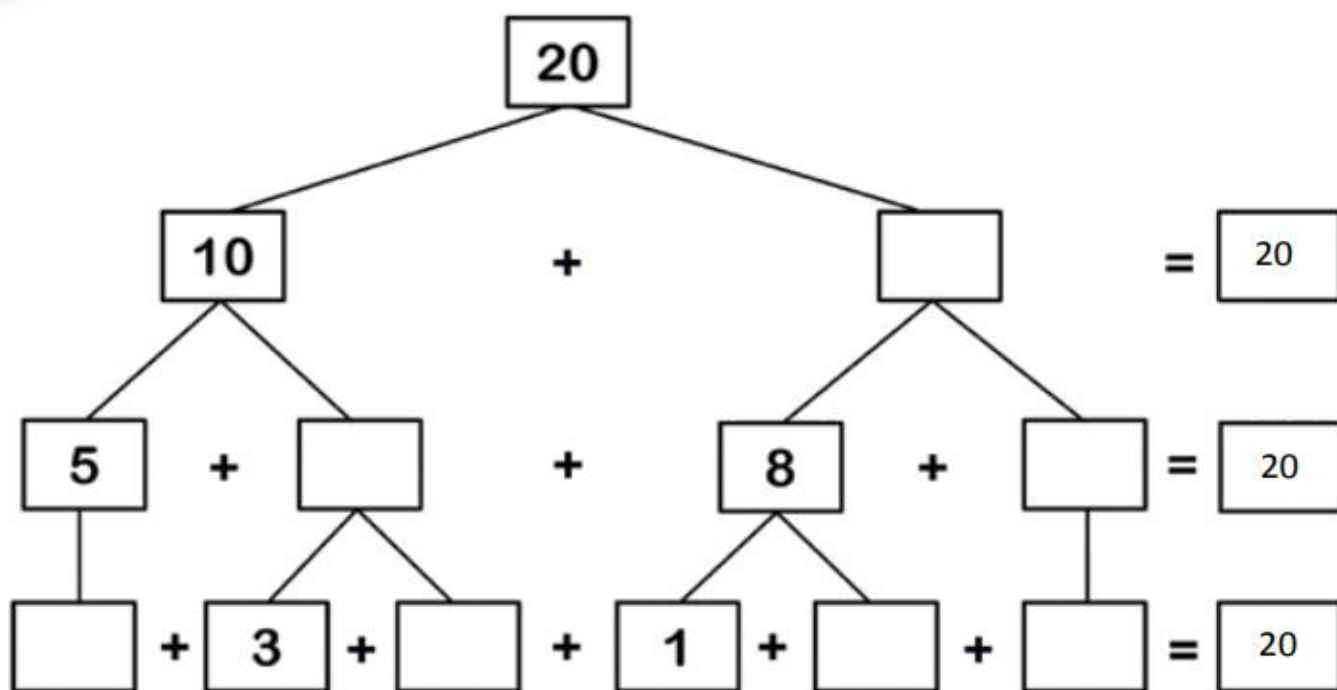
1 dezena e 3 unidades.

3 dezenas e 6 unidades.

3 dezenas e 1 unidade.

6 dezenas e 30 unidades.

05 Complete os cálculos preenchendo os quadrinhos.



UNIDADE ESCOLAR:

PROFESSORA

DATA

NOME:

FASE **IV e V**

CÓDIGO BNCC

LP

LÍNGUA PORTUGUESA

Atividade Diagnóstica

01 Leia o texto abaixo e responda a questões a seguir.



A borboleta fêmea põe ovos em cima de uma folha.



Dos ovos das borboletas nascem as lagartas.



Cada lagarta forma um casulo.



Passado o tempo o casulo é rompido, saindo dele uma borboleta.

02 Numere de 1 a 4 as frases de acordo com a ordem dos acontecimentos citados no texto.

- () A lagarta forma um casulo.
- () O casulo se transforma em nova borboleta.
- () A borboleta põe os ovos.
- () Dos ovos nascem lagartas.

03 Leia os nomes dos animais e coloque-os em ordem alfabética.

MOSCA

PAPAGAIO

BORBOLETA

COBRA

TIGRE

ABELHA

04

O número de sílabas da palavra borboleta é.

3

4

5

2



05

Muitas pessoas têm animais de estimação. Alguns são bem mansos, outros são bravos e perigosos. Independentemente de ser manso ou bravo, devemos ter alguns cuidados com os animais em casa. Escreva uma lista de cuidados que devemos ter com os animais em nossas casas.



lista de cuidados com os animais

- _____
- _____
- _____
- _____
- _____
- _____
- _____
- _____
- _____
- _____
- _____



UNIDADE ESCOLAR:

PROFESSORA

DATA

NOME:

FASE **IV e V**

CÓDIGO BNCC EF03MA01, EF03MA02, EF03MA06 e EF03MA24

MA MATEMÁTICA

Atividade Diagnóstica

01 Observe como quatro alunos fizeram a decomposição do número **2.345**.

A



Simone

B



Rubens

C



Juliana

D



Cássio

$$2000 + 30 + 40 + 5$$

$$2000 + 300 + 40 + 5$$

$$2000 + 330 + 45$$

$$2000 + 30 + 40 + 5$$

02 Quem acertou a resposta foi:

Juliana Cássio Rubens Simone

03 Alguns números estão faltando na tabela. Complete com os números que faltam.

901	902	903	904	905	906	907	908	909	910
911	912	913	914	915	916	917	918	919	920
921	922	923	924	925	926	927	928	929	930
931	932	933	934	935	936	937	938	939	940
941	942	943	944		946	947	948	949	950
951	952	953				957	958	959	960
961	962	963	964		966	967	968	969	970
971	972	973	974	975	976	977	978	979	980
981	982	983	984	985	986	987	988	989	990
991	992	993	994	995	996	997	998	999	

UNIDADE ESCOLAR:

PROFESSORA

DATA

NOME:

FASE **IV e V**

CÓDIGO BNCC EF12LP10, EF01LP12, EF02LP03 e EF12LP04

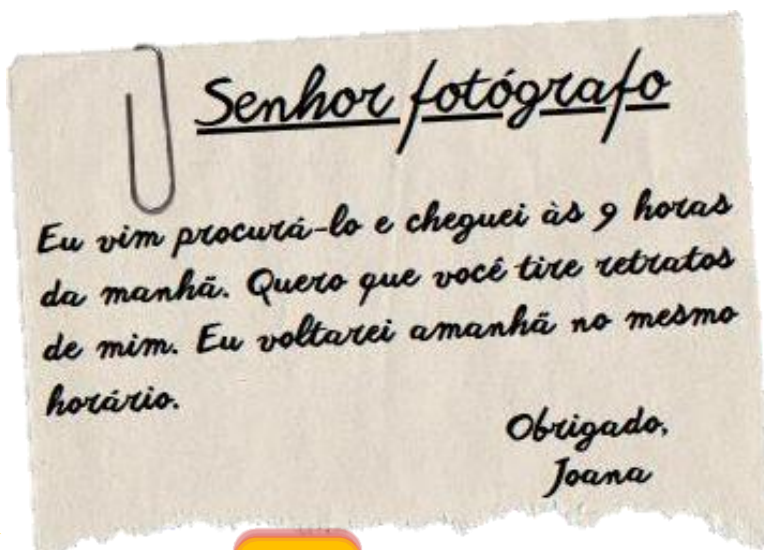
LP

LÍNGUA PORTUGUESA

Atividade Diagnóstica

01 Joana foi procurar o fotógrafo. Chegando à loja, não encontrou ninguém. Resolveu, então, deixar um bilhete:

A De acordo com o bilhete, a palavra **eu** está substituindo qual nome?



B E a palavra **você**, está substituindo qual nome?

02 Observe o cartaz e depois responda as perguntas a seguir.



A

O cartaz faz propaganda de vacinação contra:

- Gripe
- Poliomielite e Tríplice viral
- Hepatite
- Dengue

B

Segundo o cartaz, qual é o maior tesouro dos pais?

- Seu filho
- Suas joias
- Seu dinheiro
- Sua fortuna

C

Qual é o período em que acontecerá a vacinação?

D

Qual é a faixa etária própria para tomar a vacina, segundo o cartaz?


03

Leia e marque a palavra correspondente à figura.

A




- mocinha
- mochila
- montanha




- estojo
- escola
- espada

B



- tesouro
- telhado
- tesoura




- caderno
- camelo
- caverna

C



- remo
- reto
- régua




- gaveta
- caneta
- canaleta

D



- chaleira
- chaveiro
- chapeleiro



- sapo
- mato
- rato

04

O bilhete abaixo contém erros. Reescreva-o, corrigindo-o.

*Carlos,
O gais kbou, num
deu pra tremina a
cumida.
Dinha.*

05

Marque um x na frase que está escrita corretamente.

- Joanagosta de pudim.
- Joana gostade pudim.
- Joanagostade pudim.
- Joana gosta de pudim.

