

PREFEITURA MUNICIPAL DE BOM JESUS DO ITABAPOANA-RJ
SECRETARIA MUNICIPAL DE EDUCAÇÃO, ESPORTE E LAZER

SEMEEL

A mudança está em nossas mãos

Atividades Orientadoras



**2º
ano**

Ensino Fundamental



UNIDADE ESCOLAR:

PROFESSOR(A)

ANO DE ESCOLARIDADE

DATA

NOME:

HOJE É?

SEGUNDA

TERÇA

QUARTA

QUINTA

SEXTA

CÓDIGO BNCC

EF02MA05



MATEMÁTICA

SUBTRAÇÃO COM REAGRUPAMENTO

D	U
2 3 → 1	3
	8
<hr style="border-top: 1px solid black;"/>	
2	5

	D	U
	9	4
—	3	7

	D	U
	7	4
—	3	6

	D	U
	5	4
—	2	8

	D	U
	7	6
—	4	9

	D	U
	4	5
—	2	8


	D	U
	8	7
—	5	9



TERMOS FALTOSOS

2 – COMPLETE OS FATOS COM OS TERMOS QUE FALTAM.

$\square + 7 = 9$	$4 + \square = 8$
$7 - \square = 3$	$\square - 7 = 2$
$6 - 4 = \square$	$9 - 2 = \square$
$\square + 3 = 8$	$2 + \square = 7$
$5 + 4 = \square$	$3 - \square = 3$
$\square - 2 = 6$	$\square - 8 = 0$
$\square + 3 = 9$	$7 - 5 = \square$
$\square - 2 = 7$	$9 - 3 = \square$



UNIDADE ESCOLAR:

PROFESSOR(A)

ANO DE ESCOLARIDADE

2º ano

DATA

27ª semana (29/08 a 02/09)

NOME:

HOJE É?

SEGUNDA

TERÇA

QUARTA

QUINTA

SEXTA

CÓDIGO BNCC

EF02LP15



LÍNGUA PORTUGUESA

SE ESSA RUA FOSSE MINHA

CANTIGA POPULAR

SE ESSA RUA, SE ESSA RUA FOSSE MINHA
EU MANDAVA, EU MANDAVA LADRILHAR
COM PEDRINHAS, COM PEDRINHAS DE BRILHANTES
PARA O MEU, PARA O MEU AMOR PASSAR.

NESSA RUA, NESSA RUA TEM UM BOSQUE
QUE SE CHAMA, QUE SE CHAMA SOLIDÃO.
DENTRO DELE, DENTRO DELE MORA UM ANJO
QUE ROUBOU, QUE ROUBOU MEU CORAÇÃO.

SE EU ROUBEI, SE EU ROUBEI SEU CORAÇÃO
É PORQUE, É PORQUE TE QUERO BEM.

SE EU ROUBEI, SE EU ROUBEI SEU CORAÇÃO
É PORQUE TU ROUBASTE O MEU TAMBÉM.



1- ESSE TEXTO É UMA:

() RECEITA

() CANTIGA POPULAR

() BULA DE REMÉDIO

2- O QUE TEM NA RUA?

() FLORESTA

() BOSQUE

() PARQUE

3- COMO SE CHAMA O BOSQUE?

() SOLIDÃO

() ALEGRIA

() SAUDADE

4- QUEM MORA NO BOSQUE?

() UM LADRÃO

() UM CAÇADOR

() UM ANJO











5- POR QUE O ANJO ROUBOU O CORAÇÃO DELE(A)?

6- O QUE FARIA COM A RUA SE FOSSE DELE(A)?

7- PARA QUEM PASSAR?

8- PARA QUEM PASSAR VOCÊ ENFEITARIA A RUA, SE ELA FOSSE SUA?



UNIDADE ESCOLAR:

PROFESSOR(A)

ANO DE ESCOLARIDADE

DATA

NOME:

HOJE É?

SEGUNDA TERÇA QUARTA QUINTA SEXTA

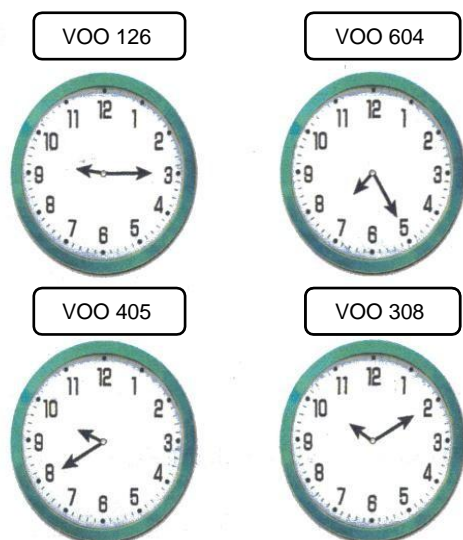
CÓDIGO BNCC

EF02MA18/ EF02MA19



MATEMÁTICA

1- CADA UM DOS RELÓGIOS ABAIXO INDICA A HORA DE CHEGADA DE DIFERENTES AVIÕES E O NÚMERO DO VOO CORRESPONDENTE. COMPLETE A TABELA COM O HORÁRIO DE CADA VOO NO PERÍODO DA MANHÃ.



HORÁRIO DE CHEGADA DE ALGUNS VOOS		
126	h	min
604	h	min
405	h	min
308	h	min

2- COLOQUE (V) PARA AS AFIRMAÇÕES VERDADEIRAS E (F) PARA AS FALSAS.

- () UM ANO, SEM SER O BISSEXTO, POSSUI 365DIAS.
- () DOS 12 MESES DO ANO, 5 DELES POSSUEM 30 DIAS.
- () O PRIMEIRO DIA DA SEMANA É SEGUNDA-FEIRA.
- () NO ANO BISSEXTO, FEVEREIRO POSSUI 28 DIAS.
- () UMA SEMANA TEM SETE DIAS.



2- ESCREVA COMO SE LÊ CADA UM DOS HORÁRIOS DOS RELÓGIOS ABAIXO, OBSERVANDO O PERÍODO DO DIA.



NOITE



NOITE



DIA



DIA



UNIDADE ESCOLAR:

PROFESSOR(A)

ANO DE ESCOLARIDADE

DATA

NOME:

HOJE É?

SEGUNDA

TERÇA

QUARTA

QUINTA

SEXTA

CÓDIGO BNCC

EF02LP05/EF02LP09/ EF02LP07



LÍNGUA PORTUGUESA

COMPLETE COM **M** OU **N**:

FIQUE
LIGADO!

DEPOIS QUE COMPLETAR, COPIE O
TEXTO COM LETRINHA CURSIVA.
CAPRICHE!



O te__po pergu__tou ao te__po

Qua__to te__po o te__po te__?

O te__po respo__deu ao te__po

Que o te__po te__ta__to te__po

Qua__to o te__po o te__po te__.

2- LEIA OS TÍTULOS DESTES LIVROS E CIRCULE AS PALAVRAS QUE FORAM ESCRITAS COM LETRAS INICIAIS MAIÚSCULAS.



3- VAMOS BRINCAR COM AS SÍLABAS E FORMAR NOVAS PALAVRAS.

FURACÃO	VISÃO	COLCHÃO	MELÃO	CORDÃO
TIRE AS DUAS PRIMEIRA SÍLABAS	TROQUE A PRIMEIRA SÍLABA POR <u>PRI</u>	TIRE A PRIMEIRA SÍLABA	TROQUE A PRIMEIRA SÍLABA POR <u>BA</u>	TROQUE A PRIMEIRA SÍLABA POR <u>DE</u>
_____	_____	_____	_____	_____

4- PONTUE CORRETAMENTE:

O MÉDICO E O LOUQUINHO

O MÉDICO VIU UMA MARCA NA TESTA DO LOUQUINHO E PERGUNTOU

O QUE FOI ISSO


O LOUQUINHO RESPONDEU

FOI UMA MORDIDA

MAS QUEM MORDEU VOCÊ

O LOUQUINHO EXPLICOU

EU MESMO, SUBI NUM BANQUINHO.



UNIDADE ESCOLAR:

PROFESSOR(A)

ANO DE ESCOLARIDADE

DATA

NOME:

HOJE É? SEGUNDA TERÇA QUARTA QUINTA SEXTA

CÓDIGO BNCC



MATEMÁTICA

1- OBSERVE O PREÇO DE CADA BRINQUEDO:

PIÃO



R\$ 5,00

BONECA



R\$ 40,00

CARRINHO



R\$ 30,00

URSIÑO



R\$ 20,00

A) QUAL É O BRINQUEDO MAIS CARO? _____

B) QUAL É O PREÇO DO BRINQUEDO MAIS BARATO E DO CARRINHO JUNTOS?

C) DEI 50 REAIS E RECEBI 10 REAIS DE TROCO. QUAL BRINQUEDO COMPRI?

D) QUANTAS NOTAS DE 5 REAIS PRECISO PARA COMPRAR O URSIÑO?





VAMOS TREINAR?

2 – EFETUE OS FATOS. ATENÇÃO!

$$\begin{array}{r} 149 \\ + 429 \\ \hline \end{array}$$

$$\begin{array}{r} 644 \\ + 127 \\ \hline \end{array}$$

$$\begin{array}{r} 135 \\ + 128 \\ \hline \end{array}$$

$$\begin{array}{r} 631 \\ + 127 \\ \hline \end{array}$$

$$\begin{array}{r} 426 \\ + 255 \\ \hline \end{array}$$

$$\begin{array}{r} 743 \\ - 127 \\ \hline \end{array}$$

$$\begin{array}{r} 578 \\ - 145 \\ \hline \end{array}$$

$$\begin{array}{r} 457 \\ - 139 \\ \hline \end{array}$$

$$\begin{array}{r} 983 \\ - 127 \\ \hline \end{array}$$

$$\begin{array}{r} 365 \\ - 129 \\ \hline \end{array}$$