

PREFEITURA MUNICIPAL DE BOM JESUS DO ITABAPOANA-RJ
SECRETARIA MUNICIPAL DE EDUCAÇÃO, ESPORTE E LAZER

Atividades Orientadoras



Educação de Jovens e Adultos

FASE I



UNIDADE ESCOLAR:

PROFESSORA

DATA

4ª SEMANA DE AGOSTO

NOME:

FASE

CÓDIGO BNCC

MA MATEMÁTICA

01 LIGUE CADA NOTA AO SEU VALOR CORRESPONDENTE.



R\$ 5,00

R\$ 10,00

R\$ 2,00

R\$ 20,00

R\$ 50,00

R\$ 100,00

02 QUANTOS REAIS HÁ EM CADA SITUAÇÃO?

HÁ _____ REAIS

HÁ _____ REAIS

HÁ _____ REAIS

HÁ _____ REAIS

HÁ _____ REAIS

HÁ _____ REAIS

HÁ _____ REAIS

HÁ _____ REAIS



03 REALIZE AS ADIÇÕES E COLOQUE OS RESULTADOS NOS RETÂNGULOS.

04

OBSERVE A QUANTIA DE CADA CRIANÇA E RESPONDA.

LUANA




DAVI




A

QUEM TEM MAIS DINHEIRO?

() LUANA () DAVI

B

QUANTO DAVI TEM?

C

QUANTO LUANA TEM A MAIS QUE DAVI?

05

SOMANDO A QUANTIA DE LUANA COM A DE DAVI, QUAL É O TOTAL?

UNIDADE ESCOLAR:

PROFESSORA

DATA

4ª SEMANA DE AGOSTO

NOME:

FASE

CÓDIGO BNCC



PUAIA, EMBORA SEJA O NOME DE UMA RAIZ MEDICINAL, AQUI EM BOM JESUS TEM UM SIGNIFICADO ÚNICO, QUE NÃO HÁ EM OUTRA PARTE DO PAÍS. SIGNIFICA UM "FALSO ELOGIO". DIZ-SE QUE "COMEU PUAIA" QUEM ACREDITA NO ELOGIO.

FONTE: <https://onortefluminense.blogspot.com/search?q=PUAIA>



COMPLETE O QUADRO ABAIXO COM O QUE SE PEDE.

ANALISANDO A PALAVRA	PUAIA
QUAL A PRIMEIRA SÍLABA?	
QUANTAS SÍLABAS TEM?	
QUANTAS VOGAIS TEM?	
QUANTAS LETRAS TEM?	
QUAL A CONSOANTE QUE TEM NA PALAVRA?	
QUAIS AS VOGAIS QUE SE REPETEM?	



A PALAVRA **FOLCLORE** TEM QUANTAS SÍLABAS?

() 1 SÍLABA

() 3 SÍLABAS

() 2 SÍLABAS

() 4 SÍLABAS



03 VAMOS FORMAR NOMES DE PERSONAGENS FOLCLÓRICOS?

A CU + RU + PI + RA= _____

B LO + BI + SO + MEM= _____

C BO + TO= _____

D I + A + RA= _____

04 LEIA A TIRINHA ABAIXO COM SEU PROFESSOR.



Copyright © 2002 Mauricio de Sousa Produções Ltda. Todos os direitos reservados.

6614

(Disponível em: <<http://goo.gl/p0in8>>. Acesso em: 15 de nov. de 2015).

AO TRABALHARMOS ESTA TIRINHA TÃO CONHECIDA DE CHICO BENTO DIALOGANDO COM A PROFESSORA, FOI UMA MANEIRA DE MOSTRAR QUE AS VARIAÇÕES LINGUÍSTICAS ESTÃO PRESENTES EM MUITOS LUGARES, ATÉ MESMO NA ESCOLA.

A DE ACORDO COM A TIRINHA, NUMERE A LINGUAGEM PADRÃO CORRESPONDENTE À LINGUAGEM COLOQUIAL USADA POR CHICO BENTO:

(1) FESSORA

() AINDA

(2) SINHORA

() ALGUMA

(3) CASTIGÁ

() PORQUE

(4) ARGUMA

() PROFESSORA

(5) PRUQUE

() CASTIGAR

(6) INDA

() SENHORA





UNIDADE ESCOLAR:

PROFESSORA

DATA

4ª SEMANA DE AGOSTO


NOME:

FASE

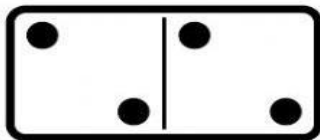
CÓDIGO BNCC

MA MATEMÁTICA


01 SOMANDO PEÇAS DE DOMINÓ.




$$\boxed{4} + \boxed{6} = \boxed{10}$$




$$\boxed{} + \boxed{} = \boxed{}$$




$$\boxed{} + \boxed{} = \boxed{}$$




$$\boxed{} + \boxed{} = \boxed{}$$



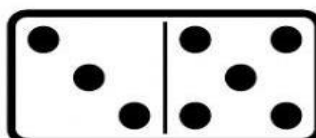
$$\boxed{} + \boxed{} = \boxed{}$$



$$\boxed{} + \boxed{} = \boxed{}$$



$$\boxed{} + \boxed{} = \boxed{}$$




$$\boxed{} + \boxed{} = \boxed{}$$

02 OBSERVE AS QUANTIAS EM DINHEIRO E MARQUE O QUE PODE COMPRAR.

TENHO ⇨



POSSO COMPRAR:



TENHO ⇨




POSSO COMPRAR:



TENHO ⇨



POSSO COMPRAR:



03 OBSERVE OS REGISTROS DE BRINQUEDOS PRODUZIDOS DAS FÁBRICAS ABAIXO E RESPONDA ÀS QUESTÕES A, B E C.

FÁBRICAS	BRINQUEDOS PRODUZIDOS
BAÚ DOS BRINQUEDOS	5
CASA DE BRINQUEDOS	3
SEU BRINQUEDO	7
REINO DE BRINQUEDOS	4

A QUANTOS BRINQUEDOS A FÁBRICA **SEU BRINQUEDO** PRODUZIU?

- () 7
- () 5
- () 4
- () 3

B QUAL FÁBRICA PRODUZIU **MENOS** BRINQUEDOS?

C QUAL FÁBRICA PRODUZIU **MAIS** BRINQUEDOS?

04 SARA TEM 1 REAL. CIRCULE A MOEDA CORRESPONDENTE A ESSE VALOR.



05 VEJA ABAIXO AS MOEDAS QUE ANA ENCONTROU EM SUA BOLSA:



A QUANTAS MOEDAS ELA ENCONTROU NO TOTAL?

- () 3 MOEDAS.
- () 5 MOEDAS.
- () 7 MOEDAS.
- () 9 MOEDAS.



UNIDADE ESCOLAR:

PROFESSORA

DATA

4ª SEMANA DE AGOSTO

NOME:

FASE


CÓDIGO BNCC

LP

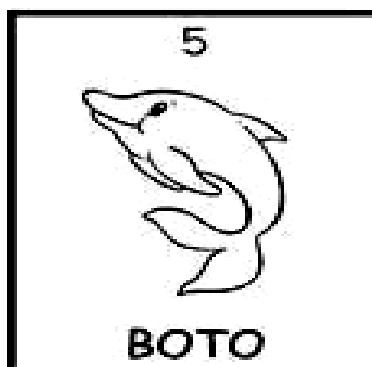
LÍNGUA PORTUGUESA

01 COMPLETE O ALFABETO E PINTE AS VOGAIS.

02 RESOLVA A CRUZADINHA DOS PERSONAGENS DO FOLCLORE.



				M			
1				U			
				L			
				A			
				-			
				S			
				E			
4				M			
				-			
				C			
				A			
				B			
				E			
				Ç			
6				A			




03 ENCONTRE NO CAÇA-PALAVRAS O NOME DE ALGUMAS LENDAS FOLCLÓRICAS.

S	A	C	I	W	C	U	R	U	P	I	R	A
A	S	L	O	B	I	S	O	M	E	M	O	Q
P	U	B	R	E	C	W	P	I	A	R	A	M
C	U	C	A	N	H	O	P	L	A	T	E	U
C	A	D	U	R	H	I	Ã	O	C	T	C	L
X	E	Á	T	A	B	O	I	T	A	T	Á	A

04 ESCREVA AS LETRAS VIZINHAS.

	J			S	
	N			H	
	E			X	
	A			D	
	Q			V	



05 ESCREVA AS VOGAIS NOS RETÂNGULOS ABAIXO.

--	--	--	--	--



UNIDADE ESCOLAR:

PROFESSORA

DATA

4ª SEMANA DE AGOSTO

NOME:

FASE

CÓDIGO BNCC

02LP31

MA MATEMÁTICA

01 OBSERVE A QUANTIDADE EM DINHEIRO QUE LÍVIA RECEBEU DE SUA AVÓ:



A O VALOR QUE LÍVIA RECEBEU FOI:

- () 2 REAIS.
- () 3 REAIS.
- () 10 REAIS.
- () 12 REAIS.

02 BERNARDO GANHOU 5 REAIS DE SUA MÃE.



A ELE RESOLVEU COMPRAR DOIS SORVETES DE 2 REAIS CADA. QUANTO SOBROU DO DINHEIRO DE BERNARDO?

- () 1 REAL.
- () 2 REAIS.
- () 3 REAIS.
- () 4 REAIS.

03 OBSERVE OS PRODUTOS DE UMA LOJA QUE ESTÃO EM PROMOÇÃO E DEPOIS RESPONDA ÀS PERGUNTAS.



A QUANTO CUSTAM A BICICLETA E A BONECA JUNTAS?

B SE ALGUÉM COMPRAR A BOLA COM UMA NOTA DE 20 REAIS, QUANTO SERÁ O TROCO?

C QUAL O PRODUTO DE MAIOR VALOR?

D QUANTO CUSTAM JUNTAS A BOLA E A PISCINA DE PLÁSTICO?

04 OBSERVE AS NOTAS ABAIXO.



A ESCREVA COMO SE LÊ O VALOR ACIMA.

04 JULIANA PRETENDE COMPRAR UM VESTIDO POR 35 REAIS E ELA POSSUI AS NOTAS ABAIXO.



A QUANTO VAI SOBRAR DO VALOR DE JULIANA AO COMPRAR O VESTIDO?

05 CAIO GANHOU 5 REAIS DE SEU PAI. MARQUE A ALTERNATIVA QUE REPRESENTA A CÉDULA QUE ELE GANHOU.

()



()



()



()



()

