

**PREFEITURA MUNICIPAL DE BOM JESUS DO ITABAPOANA-RJ**  
**SECRETARIA MUNICIPAL DE EDUCAÇÃO, ESPORTE E LAZER**

# **Atividades Orientadoras**



## **Educação de Jovens e Adultos**

### **FASE I**



UNIDADE ESCOLAR:

PROFESSORA

DATA

5ª SEMANA DE AGOSTO

NOME:

FASE

CÓDIGO BNCC

**LP** **LÍNGUA PORTUGUESA**

**01** COMPLETE COM AS LETRAS DO ALFABETO QUE ESTÃO FALTANDO.

A			D				H		
		M	N			Q			T
			X		Z				

**02** ESCREVA A LETRA QUE VEM ANTES E A QUE VEM DEPOIS DAS LETRAS EM DESTAQUE.

R

Q

V

F

B

O

E



C

K

G

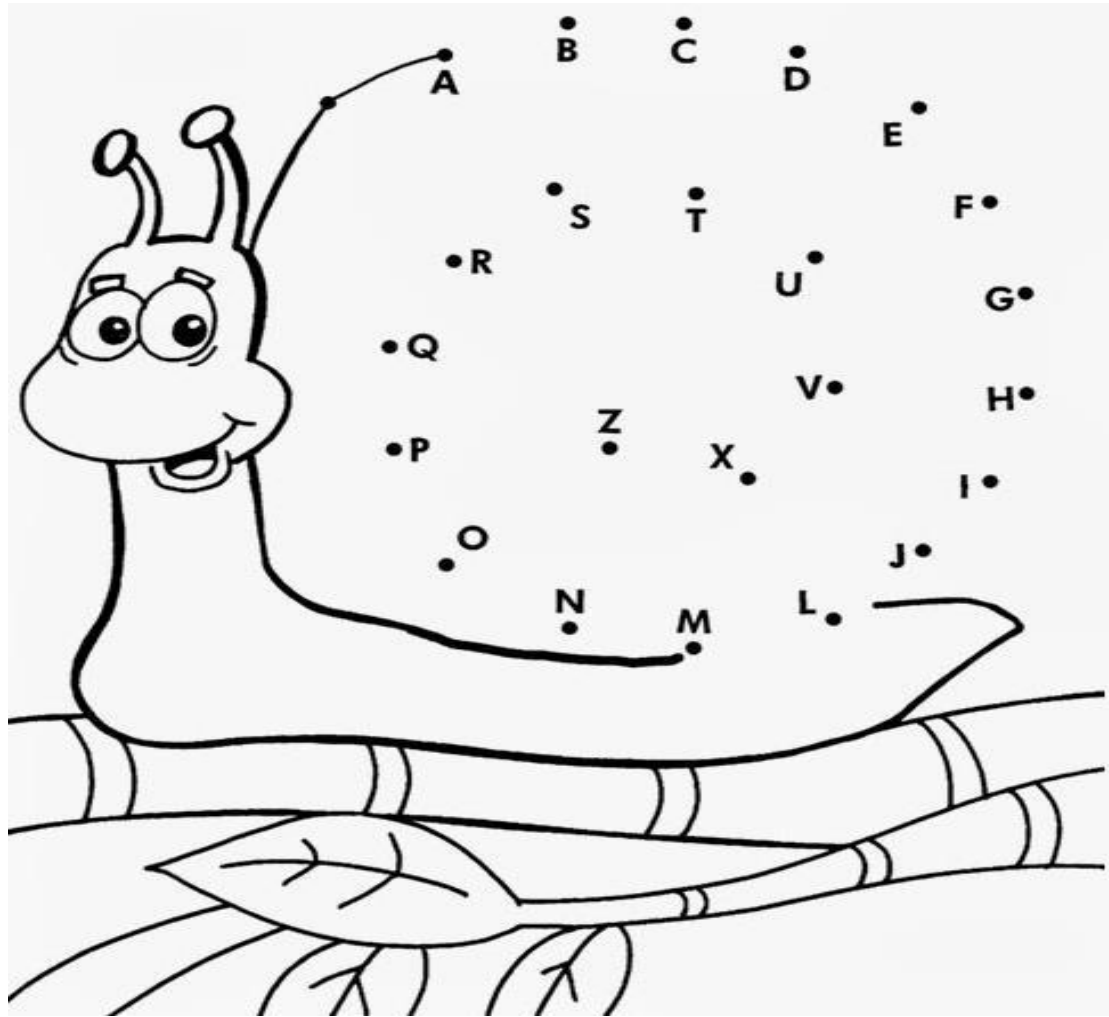
J

P







Y

M

03 LIGUE AS LETRAS SEGUINDO A ORDEM ALFABÉTICA.



04 SEPARE AS LETRAS E AS SÍLABAS NOS QUADRINHOS.

	SAPO [ ] [ ] [ ] [ ] [ ] [ ]		PIPA [ ] [ ] [ ] [ ] [ ] [ ]
	PATO [ ] [ ] [ ] [ ] [ ] [ ]		GATO [ ] [ ] [ ] [ ] [ ] [ ]
	DADO [ ] [ ] [ ] [ ] [ ] [ ]		MAÇÃ [ ] [ ] [ ] [ ] [ ] [ ]

05


JUNTE AS SÍLABAS E FORME OS NOMES DOS DESENHOS.



CA+SA



CU+E+CA



CA+MA




CE+NOU+RA



06

SEPARE OS NÚMEROS DAS LETRAS, PINTANDO OS NÚMEROS DE AZUL E AS LETRAS DE AMARELO.





UNIDADE ESCOLAR:

PROFESSORA

DATA  
5ª SEMANA DE AGOSTO

NOME:


FASE

CÓDIGO BNCC

# MA MATEMÁTICA

**01** OBSERVE O GRÁFICO DE UMA PESQUISA FEITA NO ZOOLOGICO E RESPONDA.

ANIMAIS



**A** QUAL ANIMAL FOI O FAVORITO NO GRÁFICO?

**B** QUAL ANIMAL FOI MENOS ESCOLHIDO?

**C** QUANTOS VOTOS TEVE O PATO?

**D** SOMANDO OS VOTOS DO GATO E DO MACACO, QUAL QUANTIDADE TEREI?

02 RESOLVA AS ADIÇÕES E COLOQUE AS RESPOSTAS NOS CÍRCULOS.

$1 + 2 = 3$      $1 + 3 = \bigcirc$

$2 + 2 = \bigcirc$      $2 + 3 = \bigcirc$

$3 + 2 = \bigcirc$      $3 + 3 = 6$

$4 + 2 = \bigcirc$      $4 + 3 = \bigcirc$

$5 + 2 = \bigcirc$      $5 + 3 = \bigcirc$

$6 + 2 = \bigcirc$      $6 + 3 = \bigcirc$

$7 + 2 = \bigcirc$      $7 + 3 = \bigcirc$



03 VEJA O MODELO E RESOLVA AS SUBTRAÇÕES.

$9 - 4 = 5$     ~~●~~ ~~●~~ ~~●~~ ● ● ● ● ● ● ● ●




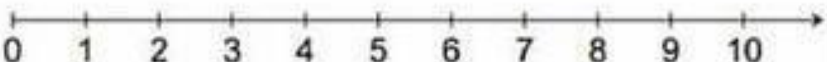







A  $8 - 3 = \square$

B  $7 - 2 = \square$

C  $6 - 5 = \square$

D  $5 - 1 = \square$

04 RESOLVA AS OPERAÇÕES ABAIXO E MARQUE OS RESULTADOS NA RETA NUMÉRICA.

$4 + 1 =$	
$4 - 2 =$	
$3 + 2 =$	
$5 - 3 =$	
$3 + 1 =$	
$1 + 3 =$	
$3 - 3 =$	
$1 + 1 =$	
$5 - 4 =$	
$3 - 2 =$	
$1 + 2 =$	



UNIDADE ESCOLAR:

PROFESSORA

DATA

5ª SEMANA DE AGOSTO

NOME:

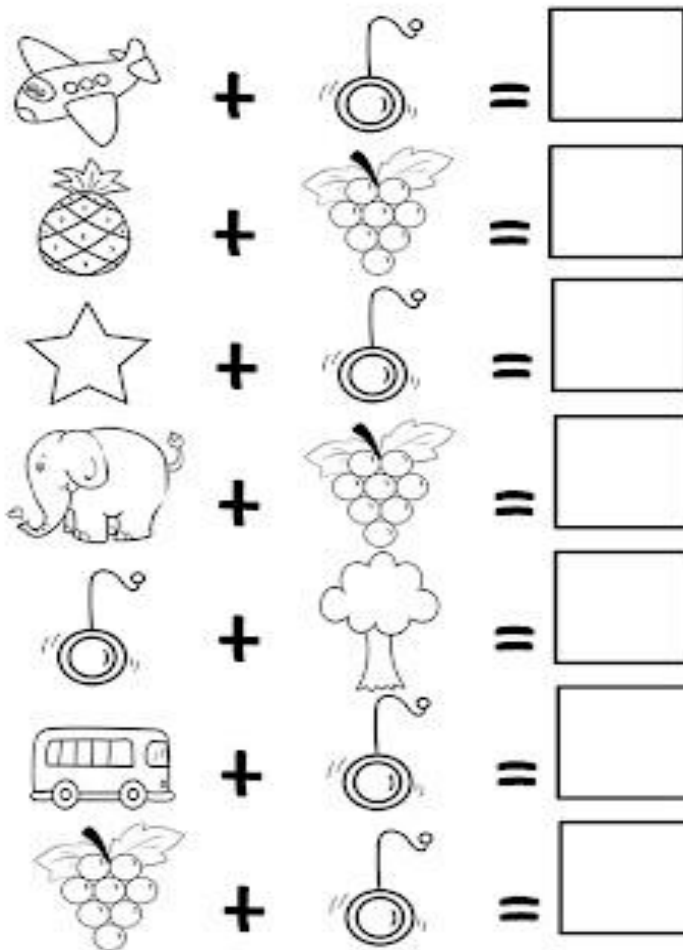

FASE

CÓDIGO BNCC

**LP**


**LÍNGUA PORTUGUESA**

**01** RESOLVA O ENIGMA E FORME OS ENCONTROS VOCÁLICOS.





02 PINTE OS ENCONTROS VOCÁLICOS QUE O PROFESSOR DITAR.



03 CIRCULE OS ENCONTROS CONSONANTAIS DAS PALAVRAS COM A AJUDA DO PROFESSOR.




FLOR



ILHA



ESTRELA



DINOSSAURO



ZEBRA



PRAIA



UNIDADE ESCOLAR:

PROFESSORA

DATA  
5ª SEMANA DE AGOSTO

NOME:

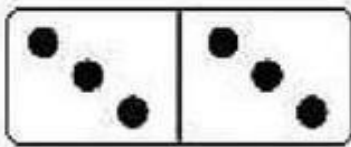
FASE

CÓDIGO BNCC


**MA**

**MATEMÁTICA**

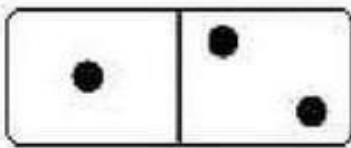
01 QUAIS SÃO AS SOMAS DOS DOMINÓS?




$$3 + 3 = 6$$




$$\_ + \_ = \_$$




$$\_ + \_ = \_$$




$$\_ + \_ = \_$$



$$\_ + \_ = \_$$



$$\_ + \_ = \_$$



$$\_ + \_ = \_$$

02 COM MUITA ATENÇÃO, RESOLVA AS ADIÇÕES.

 +  =

 +  =

 +  =

 +  =

 +  =



03 RESOLVA AS ADIÇÕES.


$3 + 1 = \square$        $7 + 2 = \square$

$5 + 5 = \square$        $8 + 1 = \square$

$3 + 4 = \square$        $4 + 2 = \square$

$2 + 7 = \square$        $1 + 3 = \square$

$4 + 3 = \square$        $4 + 4 = \square$



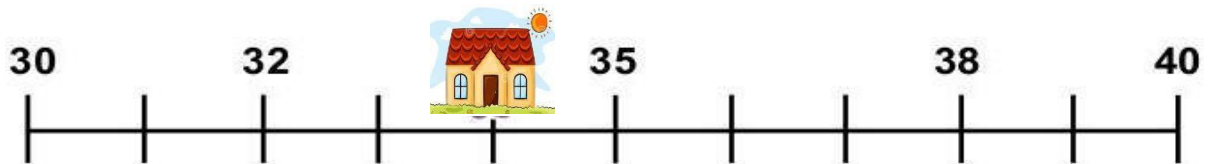
04



**OBSERVE A RETA NUMÉRICA ABAIXO:**  
DESCUBRA O VALOR DE **M** CONTANDO E  
REGISTRANDO DE 2 EM 2 .



QUAL O VALOR DO **M**? \_\_\_\_\_



QUAL O NÚMERO ESCONDIDO? \_\_\_\_\_

05

OBSERVE O MODELO E RESPONDA.



$$3+2= \square$$



$$3+3= \square$$



$$2+2= \square$$





UNIDADE ESCOLAR:

PROFESSORA

DATA

5ª SEMANA DE AGOSTO

NOME:

FASE

CÓDIGO BNCC

**LP** **LÍNGUA PORTUGUESA**

**01** ESCREVA OS ENCONTROS VOCÁLICOS ABAIXO.

A + I  
= \_\_\_\_\_

A + U  
= \_\_\_\_\_

E + I  
= \_\_\_\_\_

E + U  
= \_\_\_\_\_

O + I  
= \_\_\_\_\_

U + I  
= \_\_\_\_\_



**02** COMPLETE AS LETRAS QUE ESTÃO FALTANDO NO ALFABETO.

	<b>B</b>			<b>E</b>	<b>F</b>
	<b>G</b>			<b>J</b>	
	<b>L</b>				<b>P</b>
	<b>Q</b>				
<b>U</b>		<b>W</b>			<b>Z</b>

03 FORME PALAVRAS, PROCURANDO OS NUMERAIS IGUAIS COM A AJUDA DO PROFESSOR.

1	2	2	1	6	4	3
PI	PO	PI	CO	PA	PI	ÃO
5	1	3	6	2	6	4
PÃO	LÉ	PI	NE	CA	LA	PA



1 \_\_\_\_\_



2 \_\_\_\_\_



3 \_\_\_\_\_



4 \_\_\_\_\_



5 \_\_\_\_\_



6 \_\_\_\_\_

