

PREFEITURA MUNICIPAL DE BOM JESUS DO ITABAPOANA-RJ
SECRETARIA MUNICIPAL DE EDUCAÇÃO, ESPORTE E LAZER

Atividades Orientadoras



Educação de Jovens e Adultos

FASE II



UNIDADE ESCOLAR:

PROFESSORA

DATA

5ª SEMANA DE AGOSTO

NOME:

FASE

CÓDIGO BNCC

LP **LÍNGUA PORTUGUESA**

01 COMPLETE COM AS LETRAS DO ALFABETO QUE ESTÃO FALTANDO.

A			D				H		
		M	N			Q			T
			X		Z				

02 ESCREVA A LETRA QUE VEM ANTES E A QUE VEM DEPOIS DAS LETRAS EM DESTAQUE.

R

Q

V

F

B

O

E



C

K

G

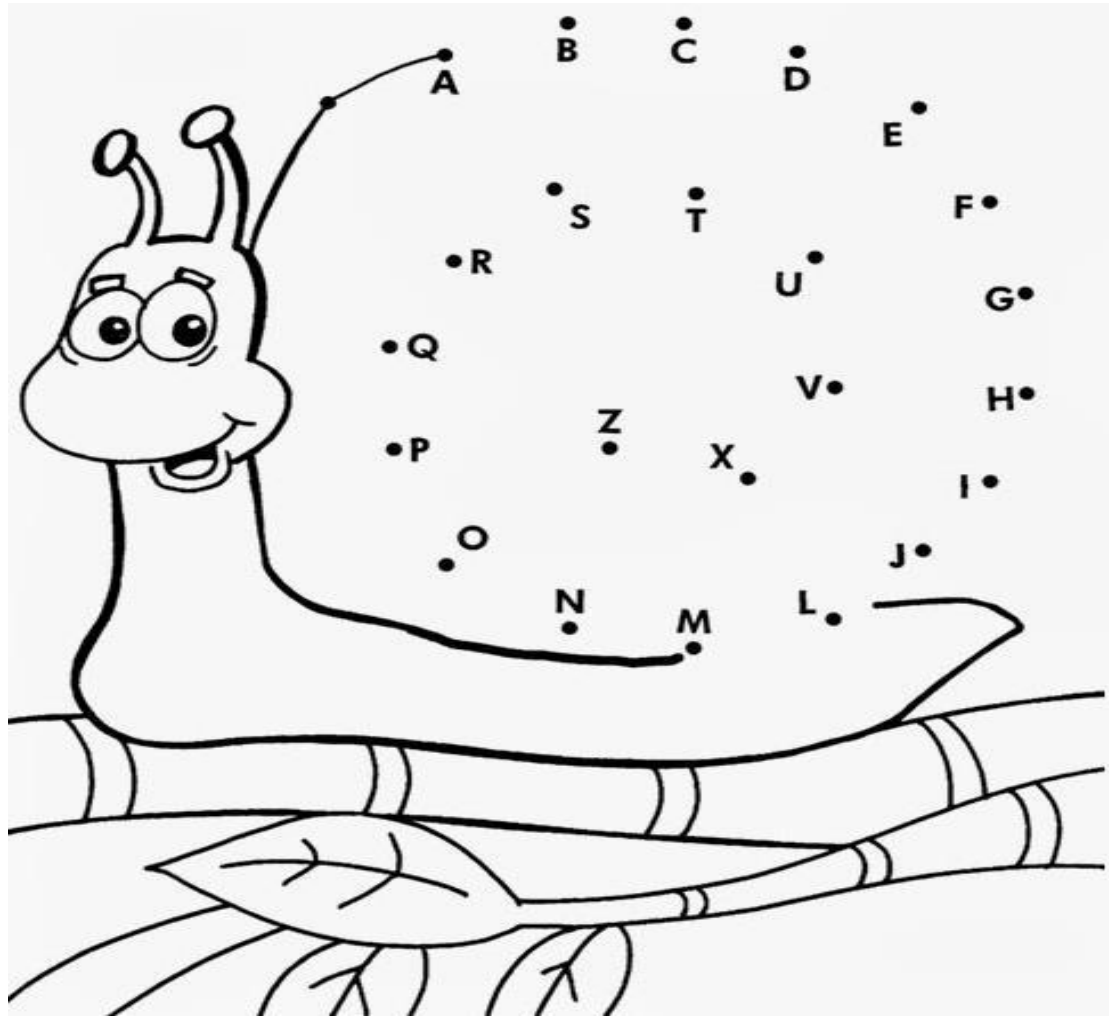
J

P

Y

M

03 LIGUE AS LETRAS SEGUINDO A ORDEM ALFABÉTICA.



04 SEPARE AS LETRAS E AS SÍLABAS NOS QUADRINHOS.

	SAPO [] [] [] [] [] []		PIPA [] [] [] [] [] []
	PATO [] [] [] [] [] []		GATO [] [] [] [] [] []
	DADO [] [] [] [] [] []		MAÇÃ [] [] [] [] [] []

05


JUNTE AS SÍLABAS E FORME OS NOMES DOS DESENHOS.



CA+SA



CU+E+CA



CA+MA




CE+NOU+RA



06

SEPARE OS NÚMEROS DAS LETRAS, PINTANDO OS NÚMEROS DE AZUL E AS LETRAS DE AMARELO.



UNIDADE ESCOLAR:

PROFESSORA

DATA
5ª SEMANA DE AGOSTO

NOME:


FASE

CÓDIGO BNCC

MA MATEMÁTICA

01 OBSERVE O GRÁFICO DE UMA PESQUISA FEITA NO ZOOLOGICO E RESPONDA.

ANIMAIS



A QUAL ANIMAL FOI O FAVORITO NO GRÁFICO?

B QUAL ANIMAL FOI MENOS ESCOLHIDO?

C QUANTOS VOTOS TEVE O PATO?

D SOMANDO OS VOTOS DO GATO E DO MACACO, QUAL QUANTIDADE TEREI?

02 RESOLVA AS ADIÇÕES E COLOQUE AS RESPOSTAS NOS CÍRCULOS.

$1 + 2 = 3$ $1 + 3 = \bigcirc$

$2 + 2 = \bigcirc$ $2 + 3 = \bigcirc$

$3 + 2 = \bigcirc$ $3 + 3 = 6$

$4 + 2 = \bigcirc$ $4 + 3 = \bigcirc$

$5 + 2 = \bigcirc$ $5 + 3 = \bigcirc$

$6 + 2 = \bigcirc$ $6 + 3 = \bigcirc$

$7 + 2 = \bigcirc$ $7 + 3 = \bigcirc$



03 VEJA O MODELO E RESOLVA AS SUBTRAÇÕES.

$9 - 4 = 5$ ~~●~~ ~~●~~ ~~●~~ ~~●~~ ● ● ● ● ● ● ● ●




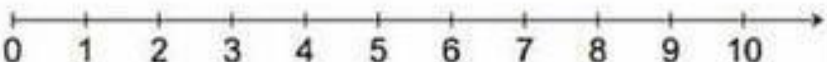







A $8 - 3 = \square$

B $7 - 2 = \square$

C $6 - 5 = \square$

D $5 - 1 = \square$

04 RESOLVA AS OPERAÇÕES ABAIXO E MARQUE OS RESULTADOS NA RETA NUMÉRICA.

$4 + 1 =$	
$4 - 2 =$	
$3 + 2 =$	
$5 - 3 =$	
$3 + 1 =$	
$1 + 3 =$	
$3 - 3 =$	
$1 + 1 =$	
$5 - 4 =$	
$3 - 2 =$	
$1 + 2 =$	



UNIDADE ESCOLAR:

PROFESSORA

DATA

5ª SEMANA DE AGOSTO

NOME:


FASE











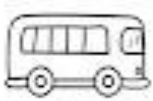



CÓDIGO BNCC

LP


LÍNGUA PORTUGUESA

01 RESOLVA O ENIGMA E FORME OS ENCONTROS VOCÁLICOS.



	+		=	<input type="text"/>
	+		=	<input type="text"/>
	+		=	<input type="text"/>
	+		=	<input type="text"/>
	+		=	<input type="text"/>
	+		=	<input type="text"/>
	+		=	<input type="text"/>

02 PINTE OS ENCONTROS VOCÁLICOS QUE O PROFESSOR DITAR.



03 CIRCULE OS ENCONTROS CONSONANTAIS DAS PALAVRAS COM A AJUDA DO PROFESSOR.




FLOR



ILHA



ESTRELA



DINOSSAURO



ZEBRA



PRAIA



UNIDADE ESCOLAR:

PROFESSORA

DATA
5ª SEMANA DE AGOSTO

NOME:

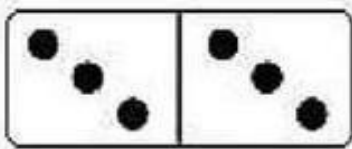
FASE

CÓDIGO BNCC


MA

MATEMÁTICA

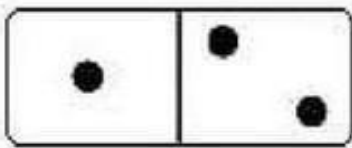
01 QUAIS SÃO AS SOMAS DOS DOMINÓS?




$$3 + 3 = 6$$




$$_ + _ = _$$




$$_ + _ = _$$




$$_ + _ = _$$



$$_ + _ = _$$



$$_ + _ = _$$



$$_ + _ = _$$

02 COM MUITA ATENÇÃO, RESOLVA AS ADIÇÕES.

 +  =

 +  =

 +  =

 +  =

 +  =



03 RESOLVA AS ADIÇÕES.


$3 + 1 = \square$ $7 + 2 = \square$

$5 + 5 = \square$ $8 + 1 = \square$

$3 + 4 = \square$ $4 + 2 = \square$

$2 + 7 = \square$ $1 + 3 = \square$

$4 + 3 = \square$ $4 + 4 = \square$



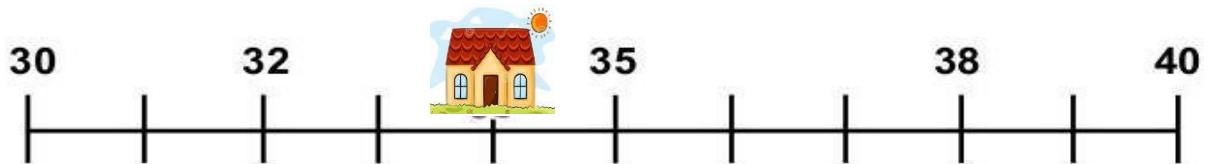
04



OBSERVE A RETA NUMÉRICA ABAIXO:
DESCUBRA O VALOR DE **M** CONTANDO E
REGISTRANDO DE 2 EM 2 .



QUAL O VALOR DO **M**? _____



QUAL O NÚMERO ESCONDIDO? _____

05

OBSERVE O MODELO E RESPONDA.



$$3+2= \square$$



$$3+3= \square$$



$$2+2= \square$$



UNIDADE ESCOLAR:

PROFESSORA

DATA

5ª SEMANA DE AGOSTO

NOME:

FASE

CÓDIGO BNCC

LP **LÍNGUA PORTUGUESA**

01 ESCREVA OS ENCONTROS VOCÁLICOS ABAIXO.

A + I
= _____

A + U
= _____

E + I
= _____

E + U
= _____

O + I
= _____

U + I
= _____



02 COMPLETE AS LETRAS QUE ESTÃO FALTANDO NO ALFABETO.

	B			E	F
	G			J	
	L				P
	Q				
U		W			Z

03 FORME PALAVRAS, PROCURANDO OS NUMERAIS IGUAIS COM A AJUDA DO PROFESSOR.

1	2	2	1	6	4	3
PI	PO	PI	CO	PA	PI	ÃO
5	1	3	6	2	6	4
PÃO	LÉ	PI	NE	CA	LA	PA



1 _____



2 _____



3 _____



4 _____



5 _____



6 _____

