

PREFEITURA MUNICIPAL DE BOM JESUS DO ITABAPOANA-RJ  
SECRETARIA MUNICIPAL DE EDUCAÇÃO, ESPORTE E LAZER

**SEMEEL**

*A mudança está em nossas mãos*

# Atividades Orientadoras



**2º  
ano**

# Ensino Fundamental

UNIDADE ESCOLAR:

PROFESSOR(A)

ANO DE ESCOLARIDADE

DATA

NOME:

HOJE É?

SEGUNDA

TERÇA

QUARTA

QUINTA

SEXTA

CÓDIGO BNCC

EF02LP12

## LÍNGUA PORTUGUESA



### UM PASSEIO NO ZOOLOGICO

O ZOOLOGICO ESTAVA EM FESTA!  
TODOS QUERIAM CONHECER O FILHOTINHO DA  
GIRAFÁ GINA, QUE TINHA ACABADO DE  
NASCER.

ROGÉRIO E GIOVANA OLHAVAM ENCANTADOS  
PARA AQUELE ANIMALZINHO.



\_ OLHE, MAMÃE, \_ DISSE ROGÉRIO  
TODO CURIOSO - O PESCOÇO DA GIRAFÁ É TÃO COMPRIDO! COMO ELA FAZ PARA  
COMER?

COM UM SORRISO, A MAMÃE RESPONDEU:

\_ FILHO, A GIRAFÁ É O ANIMAL MAIS ALTO QUE EXISTE. ELA SE ALIMENTA  
DAS FOLHAS DAS ÁRVORES.

\_ PUXA! - DISSE GIOVANA: \_ COMO ELA TEM AS PERNAS COMPRIDAS!  
QUE ALTURA TEM UMA GIRAFÁ, MAMÃE?

\_ UMA GIRAFÁ PODE CHEGAR A MEDIR ATÉ SEIS METROS DE ALTURA. E  
ISSO É MUITO BOM PARA ELA, POIS NA SELVA ELA CONSEGUE LOCALIZAR  
FACILMENTE UM LEÃO A DOIS QUILOMETROS DE DISTÂNCIA E FUGIR DELE.

\_ QUE LEGAL, MAMÃE! NÓS VAMOS ELEGER A GIRAFÁ O ANIMAL MAIS  
CHARMOSO DO ZOOLOGICO! VOCÊS CONCORDAM?

MAMÃE E ROGÉRIO RESPONDERAM JUNTOS:

\_ É CLARO QUE CONCORDAMOS, GIOVANA!

ROGÉRIA ARAÚJO



# TRABALHANDO O TEXTO...



1- ONDE SE PASSA A HISTÓRIA?

---

---

2- QUAIS SÃO OS PERSONAGENS DA HISTÓRIA?

---

---

3- POR QUE O ZOOLOGICO ESTAVA EM FESTA?

---

---

---

4- A QUE A GIRAFA FOI ELEITA?

---

---

5- QUAL ANIMAL DO ZOOLOGICO VOCÊ ACHA MAIS INTERESSANTE?

---

---


6- PINTA DE AMARELO, NO TEXTO, TODOS OS SINAIS DE INTERROGAÇÃO ( ? ) E DE AZUL, OS SINAIS DE EXCLAMAÇÃO ( ! ).

7- RETIRE DO TEXTO UMA PALAVRA COM:

A) ACENTO AGUDO: \_\_\_\_\_

B) ACENTO CIRCUNFLEXO: \_\_\_\_\_

C) TIL: \_\_\_\_\_



UNIDADE ESCOLAR:

PROFESSOR(A)

ANO DE ESCOLARIDADE

DATA

NOME:

HOJE É?

SEGUNDA  TERÇA  QUARTA  QUINTA  SEXTA

CÓDIGO BNCC

EF02MA05 / EF02MA09

# MATEMÁTICA



1 – PARA RESOLVER AS OPERAÇÕES, OBSERVE A LEGENDA:

10	24	35	46
22	15	33	40

ADIÇÃO	
<hr/>	

ADIÇÃO	
<hr/>	

SUBTRAÇÃO	
<hr/>	

SUBTRAÇÃO	
<hr/>	

ADIÇÃO	
<hr/>	

SUBTRAÇÃO	
<hr/>	

ADIÇÃO	
<hr/>	

ADIÇÃO	
<hr/>	

SUBTRAÇÃO	
<hr/>	

2 – COLOQUE OS RESULTADOS DAS OPERAÇÕES EM ORDEM DECRESCENTE.




<input type="text"/>	<input type="text"/>	<input type="text"/>	<input type="text"/>	<input type="text"/>	<input type="text"/>	<input type="text"/>	<input type="text"/>	<input type="text"/>	<input type="text"/>
----------------------	----------------------	----------------------	----------------------	----------------------	----------------------	----------------------	----------------------	----------------------	----------------------



# NUMERAIS EM LETRAS

3 – FAÇA A CRUZADINHA, ESCRREVENDO POR EXTENSO:



• NUMERAL QUE CORRESPONDE A 1 DEZENA E 3 UNIDADES.

• NUMERAL QUE ESTÁ ENTRE O 14 E O 16.

• NUMERAL QUE É O ANTECESSOR DE 12.

• NUMERAL QUE CORRESPONDE A UMA DEZENA.

• NUMERAL QUE É SUCESSOR DE 17.

• NUMERAL QUE CORRESPONDE A 1 DEZENA E 9 UNIDADES.



UNIDADE ESCOLAR:

PROFESSOR(A)

ANO DE ESCOLARIDADE

DATA

NOME:

HOJE É?

SEGUNDA  TERÇA  QUARTA  QUINTA  SEXTA

CÓDIGO BNCC

**LÍNGUA PORTUGUESA**



1 – AJUDE A GIRAFA GINA A DESFAZER O NÓ ESCREVENDO CADA NOME EM SEU LUGAR.

MÁGICO GELO GEMA GILETE GELADO GÊNIO GELATINA FUGIUREGINA

GI

GE

\_\_\_\_\_

\_\_\_\_\_


\_\_\_\_\_

\_\_\_\_\_



## DE OLHO NOS ANIMAIS

2 – GIOVANA E ROGÉRIO FICARAM ENCANTADOS COM O PASSEIO NO ZOOLOGICO. CONHECERAM VÁRIOS ANIMAIS. OBSERVE A CENA E MARQUE UM X NAS FRASES QUE ESTÃO DE ACORDO COM A ILUSTRAÇÃO.



- ( ) O GORILA CUTUCA A TARTARUGA COM UMA VARA.
- ( ) A GIRAFA ESTÁ COM SUA GIRAFINHA.
- ( ) A ARARA ESTÁ EM CIMA DA ÁRVORE.
- ( ) O JACARÉ OLHA PARA A GIRAFA.
- ( ) GIOVANA E ROGÉRIO OBSERVAM O PERU E A PERUA NO VIVEIRO.
- ( ) ROGÉRIO CHUPA UM DELICIOSO PIRULITO.
- ( ) A ARARA ESTÁ PRESA NO VIVEIRO.

3- ESCOLHA UM ANIMAL DA CENA E ESCREVA UMA FRASE.

---

UNIDADE ESCOLAR:

PROFESSOR(A)

ANO DE ESCOLARIDADE

DATA

NOME:

HOJE É?

SEGUNDA  TERÇA  QUARTA  QUINTA  SEXTA

CÓDIGO BNCC

EF02MA05 / EF02MA06

# MATEMÁTICA



1- JOÃO VENDE SALGADOS NA FEIRA. VEJA A TABELA DE VENDAS DESSA SEMANA.



SALGADOS	QUINTA-FEIRA	SEXTA-FEIRA	SÁBADO	DOMINGO
COXINHA	86	34	74	26
PASTEL FRITO	77	94	98	46
QUIBE	80	36	49	97

A) QUAL SALGADO FOI MAIS VENDIDO NO SÁBADO?

B) QUANTOS SALGADOS FORAM VENDIDOS NA QUINTA-FEIRA?


C) QUANTAS COXINHAS ELE VENDEU AO TODO NO SÁBADO E DOMINGO?

D) QUAL SALGADO VOCÊ COMPRARIA SE FOSSE ATÉ A BARRACA DO JOÃO?





2 – COMPLETE OS QUADRINHOS COM OS NÚMEROS FALTOSOS.



$8 + \square = 15$

$\square + 9 = 14$

$\square + 5 = 12$

$8 + \square = 13$

$7 + \square = 16$

$\square + 6 = 11$

$\square + 2 = 11$

$9 + \square = 12$

$3 + \square = 10$

$\square + 5 = 14$

$\square + 9 = 18$

$6 + \square = 16$

$8 + \square = 16$

$\square + 2 = 10$

$\square + 5 = 13$

$6 + \square = 13$

$8 + \square = 12$

$\square + 7 = 11$

UNIDADE ESCOLAR:

PROFESSOR(A)

ANO DE ESCOLARIDADE

2º ANO

DATA

30ª SEMANA (19 A 23/09)

NOME:

HOJE É?

SEGUNDA

TERÇA

QUARTA

QUINTA

SEXTA

CÓDIGO BNCC

EF02GE04 / EF02GE05 / EF02GE08 / EF02GE09

## GEOGRAFIA



### A RUA DE PEDRO

A RUA DE PEDRO NO PASSADO ERA CALMA, COM POUCOS AUTOMÓVEIS CIRCULANDO.


COM O PASSAR DO TEMPO, HOUE O AUMENTO DE MORADIAS E LOJAS DE COMÉRCIO, TRANSFORMANDO A RUA CALMA EM UMA RUA MOVIMENTADA.

A RUA GANHOU ASFALTO E UM SINAL DE TRÂNSITO, CONHECIDO COMO SEMÁFORO.

AS RUAS VÃO SE MODIFICANDO CONFORME VÃO SENDO OCUPADAS.

AS PESSOAS PRECISAM TER PRÓXIMO ÀS SUAS CASAS COMÉRCIO, ESCOLA, HOSPITAL, TRANSPORTE E MUITAS OUTRAS COISAS PARA FACILITAR SUAS VIDAS.

TODAS ESSAS NECESSIDADES VÃO TRANSFORMANDO OS LUGARES.



#### ATIVIDADES



1- COMO ERA A RUA DE PEDRO NO PASSADO?

\_\_\_\_\_

2- É POSSÍVEL JOGAR BOLA OU EMPINAR PIPA NA RUA DE PEDRO ATUALMENTE? POR QUÊ? \_\_\_\_\_

\_\_\_\_\_

3- QUAL DAS IMAGENS REPRESENTA A RUA DE PEDRO NO PASSADO? CIRCULE.



4- MUITAS PESSOAS TRABALHAM NAS RUAS. RELACIONE AS PROFISSÕES À SUA ESCRITA.



- ( 1 ) GARI
- ( 2 ) CARTEIRO
- ( 3 ) FEIRANTE
- ( 4 ) MOTORISTA
- ( 5 ) POLICIAL

