

PREFEITURA MUNICIPAL DE BOM JESUS DO ITABAPOANA-RJ
SECRETARIA MUNICIPAL DE EDUCAÇÃO, ESPORTE E LAZER

Atividades Orientadoras



Educação de Jovens e Adultos

FASE III

UNIDADE ESCOLAR:	<input type="text"/>	
PROFESSORA	<input type="text"/>	DATA <input type="text"/>
NOME:	<input type="text"/>	
FASE	<input type="text" value="III"/>	CÓDIGO BNCC <input type="text" value="EF35LP03, EF35LP04 e EF04LP04"/>



RESPEITO NO TRÂNSITO E AS RESPONSABILIDADES DE CADA UM

NO TRÂNSITO, O MOTORISTA NÃO POSSUI SOMENTE DIREITOS, MAS TAMBÉM DEVERES, E ESSES DEVERES NÃO DEVEM SOMENTE SER MANIFESTOS EM AÇÕES INDIVIDUAIS, MAS TAMBÉM EM COLETIVAS. UM EXEMPLO BÁSICO DE GENTILEZA E CIDADANIA NO TRÂNSITO É PARAR ANTES DA FAIXA DE PEDESTRES, SEMPRE QUE POSSÍVEL, E PERMITIR A TRAVESSIA SEGURA AO PEDESTRE.

FAZER UM TRÂNSITO MELHOR E MAIS SEGURO É RESPONSABILIDADE DE TODOS, POR ISSO, É IMPRESCINDÍVEL QUE CADA MOTORISTA, MOTOCICLISTA, CICLISTA E PEDESTRE FAÇA A SUA PARTE. NÃO É QUESTÃO SOMENTE DE EDUCAÇÃO, MAS TAMBÉM DE HUMANIDADE E RESPEITO AO PRÓXIMO.

FAIXAS DE PEDESTRES, SEMÁFOROS E PLACAS DE SINALIZAÇÃO, SÃO FEITAS NÃO SOMENTE PARA GARANTIR UM BOM FLUXO DOS VEÍCULOS, MAS TAMBÉM PARA PRESERVAR A VIDA DAS PESSOAS.

FONTE: <https://www.cursosdetransito.com.br/blog/2020/09/23/respeito-no-transito-e-as-responsabilidades-de-cada-um/>



ATIVIDADE


1- QUAL O ASSUNTO DO TEXTO?

2- CITE UM EXEMPLO BÁSICO DE GENTILEZA E CIDADANIA NO TRÂNSITO, MENCIONADA NO TEXTO.

3- DE QUEM É A RESPONSABILIDADE DE FAZER UM TRÂNSITO MAIS SEGURO?

4- RETIRE DO TEXTO 3 FERRAMENTAS DO TRÂNSITO FEITAS NÃO SOMENTE PARA GARANTIR UM BOM FLUXO DOS VEÍCULOS, MAS TAMBÉM PARA PRESERVAR A VIDA DAS PESSOAS

REVISÃO ACENTUAÇÃO GRÁFICA



5- ORGANIZE AS PALAVRAS QUE VOCÊ ENCONTRAR NO TEXTO, NO QUADRO ABAIXO, DE ACORDO COM A ACENTUAÇÃO GRÁFICA.

^ ACENTO CIRCUNFLEXO	~ TIL	´ ACENTO AGUDO

6- DÊ NOMES AOS DESENHOS, ACENTUANDO CORRETAMENTE AS PALAVRAS

ACENTO AGUDO
ACENTO CIRCUNFLETO

1. 6.
 2. 7.
 3. 8.
 4. 9.
 5. 10.

7- ESCOLHA UMA PALAVRA ACENTUADA DE CADA QUADRO DA QUESTÃO 6 E ESCREVA DUAS FRASES.

8- COMPLETE AS FRASES COM AS PALAVRAS DO QUADRO.

BEBE - BEBÊ
ESTA - ESTÁ
E - É
SÁBIA - SABIA - SABIÁ

- A)** O _____ NO BERÇO _____ TODO O LEITE DA MAMADEIRA.
- B)** _____ MENINA _____ COM DOR DE CABEÇA.
- C)** VERA _____ ALTA _____ MAGRA.
- D)** A MENINA _____ JÁ _____ QUE O _____ É UM PÁSSARO CANTOR.

UNIDADE ESCOLAR:

PROFESSORA

DATA

NOME:

FASE


CÓDIGO BNCC

MA

MATEMÁTICA

REVISÃO MEDIDAS DE COMPRIMENTO

1- PESQUISE E ESCREVA O NOME DOS INSTRUMENTOS DE MEDIDA.



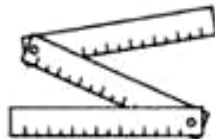
(USADA POR ALUNOS)



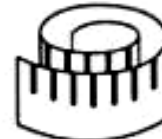
(USADO PARA MEDIR
FITAS OU TECIDOS)



(USADA PARA MEDIR
TERRENOS, LOTES)



(USADO POR PEDREIROS
PARA MEDIR PAREDES)



(USADA POR
COSTUREIRA)

2- DONA MARIA ESTUDA NA EJA NO MUNICÍPIO DE BOM JESUS DO ITABAPOANA. A DISTÂNCIA DA CASA DE DONA MARIA ATÉ A ESCOLA É DE 2KM. SABENDO QUE ELA CAMINHA 2KM PARA IR E 2KM PARA RETORNAR, QUANTOS QUILÔMETROS DONA MARIA ANDA EM UMA SEMANA?

CÁLCULO

3-QUAIS DOS OBJETOS A SEGUIR PODEMOS COMPRAR EM METROS?

CANETAS

MANGUEIRA

LIVROS


ARAME



- A) CANETAS E MANGUEIRA.
- B) MANGUEIRA E ARAME.
- C) LIVROS E CANETAS.
- D) ARAME E LIVROS.

PERÍMETRO

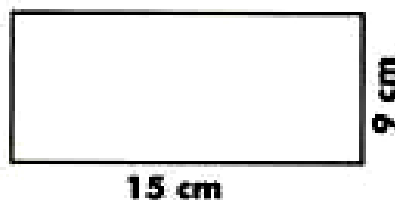
Perímetro é a soma das medidas dos lados de um polígono.




4- SABENDO QUE PERÍMETRO É A SOMA DO COMPRIMENTO DE TODOS OS LADOS DE UM POLÍGONO, DESCUBRA O PERÍMETRO DOS POLÍGONOS ABAIXO SOMANDO SEUS LADOS.



CÁLCULO:



CÁLCULO:



CÁLCULO:

UNIDADE ESCOLAR:

PROFESSORA

DATA

NOME:

FASE

CÓDIGO BNCC

LP

LÍNGUA PORTUGUESA

REVISÃO CLASSIFICAÇÃO DA SÍLABA TÔNICA

O MUNDO DE
Leloca

FALANDO
SÉRIO

VOCÊ E SUA IRMÃ
ESTÃO DE PARABÊNS!
VOCÊS SÃO MUITO
ORGANIZADOS!

MAMÃE, NÓS
NUNCA TIVEMOS
DÚVIDA DISSO!

NÃO É NADA DISSO
SEU ENGRAÇADINHO!
OLHA SÓ A BAGUNÇA DESTA SALA!
TÊNIS, ÁLBUM DE FIGURINHAS,
LÁPIS, TUDO ESPALHADO!

A GENTE SÓ
ESTAVA
BRINCANDO!

IMAGINA ENTÃO
QUANDO FOR A SÉRIO!

FONTE: https://sme.goiania.go.gov.br/conexaoescola/ensino_fundamental/continuacao-de-hq-classificacao-das-palavras-quanto-a-silaba-tonica-e-introducao-a-alguns-pronomes/

ATIVIDADE

1-A OPINIÃO DA MÃE SOBRE OS FILHOS É QUE:

- () SÃO ORGANIZADOS.
- () SÃO ENGRAÇADOS.
- () SÃO ESPERTOS.
- () SÃO BAGUNCEIROS.

2- É CORRETO AFIRMAR, EXCETO:

- () **PARABÉNS** E **VOCÊS**, SÃO PALAVRAS OXÍTONAS.
- () **DÚVIDA** É UMA PALAVRA PROPAROXÍTONA.
- () **TÊNIS**, **ÁLBUM** E **LÁPIS** SÃO PALAVRAS PAROXÍTONAS.
- () **IRMÃ** E **ESTÃO** SÃO PALAVRAS PAROXÍTONAS.

3- NA FALA DO ÚLTIMO QUADRINHO, A MÃE QUIS DIZER QUE:

- () FIZERAM BAGUNÇA DEMAIS.
- () SABIA QUE ESTAVAM BRINCANDO.
- () ESTAVAM DE CASTIGO.
- () AS COISAS ESTAVAM EM ORDEM.

4- CLASSIFIQUE AS SEGUINTE PALAVRAS EM OXÍTONA, PAROXÍTONA E PROPAROXÍTONA.

A) RAPIDAMENTE - _____

B) AÇÚCAR - _____

C) TRABALHO - _____

D) TRÂNSITO - _____

E) SÓTÃO - _____

F) VÍRUS - _____

G) DINÂMICO - _____

H) AIPIM - _____

I) MENU - _____

J) CAFÉ - _____



UNIDADE ESCOLAR:

PROFESSORA

DATA

NOME:

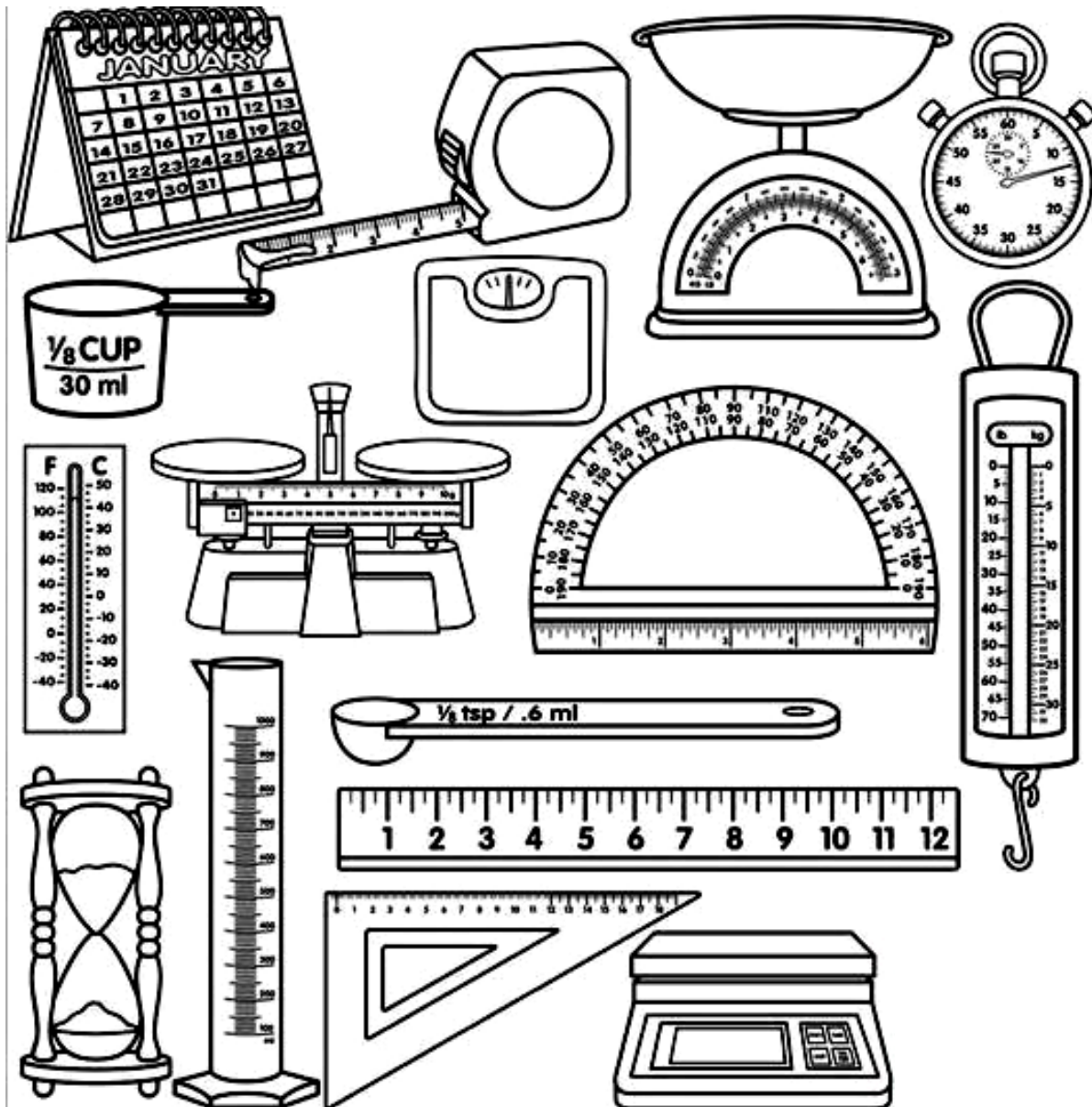
FASE

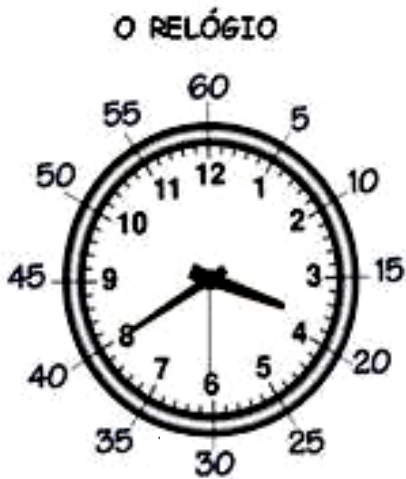
CÓDIGO BNCC

MA MATEMÁTICA

REVISÃO MEDIDAS DE TEMPO E SISTEMA MONETÁRIO

1- MARQUE UM (X) NOS INSTRUMENTOS QUE UTILIZAMOS PARA MEDIR O TEMPO.





2- OBSERVE A TABELA COM ALGUMAS MEDIDAS DE TEMPO:

1 DIA	24 horas
1 HORA	60 minutos
1 MINUTO	60 segundos
$\frac{1}{2}$ HORA	30 minutos
$\frac{1}{4}$ HORA	15 minutos

3 – OBSERVE O RELÓGIO ACIMA E ASSINALE AS OPÇÕES CORRETAS:

O PONTEIRO PEQUENO MARCA:

HORAS

SEGUNDOS

O PONTEIRO GRANDE MARCA:

MINUTOS

HORAS

O PONTEIRO FININHO MARCA:

MINUTOS

SEGUNDOS

O RELÓGIO ACIMA ESTÁ MARCANDO:

08:40 30s

04:30 8s

03:40 30s

2 DIAS POSSUEM:

28 HORAS

48 HORAS

UMA VOLTA COMPLETA DO PONTEIRO PEQUENO:

1 HORA

1 MINUTO

O PONTEIRO FININHO NO 10:

10 SEGUNDOS

50 SEGUNDOS

SÃO 8 HORAS DA NOITE:

08:00

20:00

00:08

PROBLEMINHAS

4- DONA MARIA LEVA 4 HORAS PARA FAZER UMA TOALHA DE CROCHÊ. ELA CONSEGUE VENDER ESSA TOALHA A R\$60 REAIS. SE DONA MARIA FIZER DUAS TOALHAS POR DIA, DURANTE 3 DIAS. QUANTO TEMPO ELA GASTARIA E QUAL O VALOR GANHARIA?

CÁLCULO

RESPOSTA: _____

5- SEU JOAQUIM TRABALHA A DIA NA ROÇA. ELE COBRA R\$60 NO DIA DE SERVIÇO E FOI CHAMADO PARA FAZER UMA EMPREITADA QUE DUROU 4 DIAS. QUANTO SEU JOAQUIM GANHOU AO FINAL DA EMPREITADA?

CÁLCULO

RESPOSTA: _____

6- CECÍLIA GANHA R\$15 REAIS POR HORA EM SEU TRABALHO. QUANTO CECÍLIA RECEBERÁ TRABALHANDO 5 HORAS?

CÁLCULO

RESPOSTA: _____



PORTAL SEMEEL

A mudança está em nossas mãos



PREFEITURA MUNICIPAL
BOM JESUS
DO ITABAPOANA

SECRETARIA MUNICIPAL
DE EDUCAÇÃO, ESPORTE E LAZER

UNIDADE ESCOLAR:

PROFESSORA

DATA

NOME:

FASE

III

CÓDIGO BNCC

EF04LP02

LP

LÍNGUA PORTUGUESA

REVISÃO DÍGRAFO

1- O QUE É DÍGRAFO?

2- DÊ DOIS EXEMPLOS DE DÍGRAFOS.

3- AGORA, ESCREVA TRÊS PALAVRAS QUE POSSUAM CADA UM DELES.

4- SEPARE AS SÍLABAS DAS PALAVRAS COM DÍGRAFOS CORRETAMENTE.

A) CARRO - _____

B) PASSARINHO- _____

C) CHAVE - _____

D) TRABALHO - _____

E) PISCINA - _____

F) PALHAÇO - _____

5- IDENTIFIQUE OS DÍGRAFOS NAS PALAVRAS.

PISCINA

CHUVA

GUITARRA

EXCESSO

ASSUNTO

TAMPA

GALINHA

6 - (UNIMONTES) NA DIVISÃO SILÁBICA, AS LETRAS COM QUE SE REPRESENTAM OS DÍGRAFOS DEVEM FICAR EM SÍLABAS DIFERENTES NA PALAVRA:

A) LEMBRANÇA.

B) SOBRINHA.

C) RASTEJASSEM.

D) PORQUE.

7 - ANALISE AS PALAVRAS ABAIXO E MARQUE A ALTERNATIVA QUE APRESENTA DÍGRAFO.

A) PNEUMÁTICO

B) GUITARRA

C) DIGNO

D) OBTER

E) RECEPÇÃO