

PREFEITURA MUNICIPAL DE BOM JESUS DO ITABAPOANA-RJ
SECRETARIA MUNICIPAL DE EDUCAÇÃO, ESPORTE E LAZER

Atividades Orientadoras



Educação de Jovens e Adultos

FASE V

UNIDADE ESCOLAR:

PROFESSORA DATA

NOME:

FASE **IV e V** CÓDIGO BNCC

LP

LÍNGUA PORTUGUESA

NOTÍCIA

JORNAL ÚLTIMA HORA

dezembro de
2020

BOM JESUS DO ITABAPOANA
E REGIÃO

Vol 8 de 22



O melhor Festival de Música da região

- Entreterimento
- Cultura

FESTIVAL DE CHORINHO E SANFONA DE ROSAL

Por Babi Wentz 7 de dezembro de 2020

O Festival de Chorinho e Sanfona começa na quinta-feira, 10 de dezembro de 2020, com a exibição do documentário "Rosal - 10 Anos de Música e Afetos". De sexta (11 de dezembro de 2020) a domingo (13 de dezembro de 2020), serão exibidas as apresentações inéditas de vários músicos, gravadas em Rosal, especialmente para a edição deste ano do Festival, promovido pela Firjan SESI.

A transmissão começa sempre às 19h30, pelo canal da Firjan SESI no Youtube. Por causa da pandemia o formato será totalmente online.

"O Festival de Chorinho e Sanfona de Rosal conquistou seu lugar entre os mais importantes eventos de música instrumental do interior do estado do Rio de Janeiro.

<https://diariodorio.com/festival-de-chorinho-e-sanfona-de-rosal-2020-celebra-10-anos-de-musica-e-afetos/>



ATIVIDADE



01 Sobre o que nos fala esse texto?

02 Que tipo de texto é esse? Marque a resposta certa.

recado

notícia

cartaz



03 Escreva informações sobre o festival do Chorinho e da Sanfona que ocorreu em 2020 de acordo com o texto da notícia:

Que dia começou?

Que dia terminou?

Onde foram gravadas as apresentações?

Quem promoveu?

Que horas começaram as transmissões?

Em qual canal foi feita a transmissão?

04 Escreva nos retângulos abaixo, algumas palavras com acento agudo e acento circunflexo, que estão escritas na notícia do jornal.



acento agudo



acento circunflexo



ACENTUAÇÃO E SÍLABA TÔNICA



Tirinha criada por Izabel C. D. da S. Carneiro

Tirinha criada por Izabel C. D. da S. Carneiro

05 Faça um círculo ao redor da sílaba tônica das palavras.

duração

régua

papai

sapato

lápis

gato

pássaro

cajá

nariz

noite

cadeira

jardim

06 Ordene as sílabas para formar palavras:

/ acento agudo		^ acento circunflexo	
bri fá ca	pis lá	trô me	lâm da pa
<input type="text"/>	<input type="text"/>	<input type="text"/>	<input type="text"/>
mi nó do	ré ja ca	lên cio si	ni co pâ
<input type="text"/>	<input type="text"/>	<input type="text"/>	<input type="text"/>
na pá gi	pé la ta	pês go se	cô tri
<input type="text"/>	<input type="text"/>	<input type="text"/>	<input type="text"/>
fé ca	gi co má	nis tê	mio prê
<input type="text"/>	<input type="text"/>	<input type="text"/>	<input type="text"/>

07 Acentue as palavras quando for preciso e escreva a sílaba tônica de cada palavra.

Acentue se necessário	Escreva a sílaba tônica
sofa	
triangulo	
lençol	
funil	
fabula	
arvore	
jardim	

Acentue se necessário	Escreva a sílaba tônica
publico	
boneca	
fosforo	
animal	
nariz	
espetaculo	
astro	



UNIDADE ESCOLAR:

PROFESSORA

DATA

NOME:

FASE **IV e V**

CÓDIGO BNCC EF02MA18, EF03MA24

MA

MATEMÁTICA

CALENDÁRIO E SISTEMA MONETÁRIO



2022 *mês das flores*

D	S	T	Q	Q	S	S
				1	2	3
4	5	6	7	8	9	10
11	12	13	14	15	16	17
18	19	20	21	22	23	24
25	26	27	28	29	30	

07 - Independência do Brasil
21 - dia da árvore
22 - Início da primavera

200 ANOS
INDEPENDÊNCIA

01 Observe o calendário e responda as questões a seguir.

A Quantos dias faltam para a última semana do mês?

B O que será comemorado no dia 7 de setembro?


C Quantas semanas completas tem o mês de setembro?

D Quantos dias úteis tem o mês de setembro? Lembrando que dia 7 é feriado nacional.

E Seu Nicolas recebe no 7º dia útil do mês. Em que data e dia da semana vai ser seu pagamento?

02

Quais grupos de cédulas correspondem a vinte reais? Marque as opções.



03

Dona Marta comprou uma blusa no valor de R\$ 75,00 e pagou com uma cédula de R\$100,00. Qual é o valor do troco? Marque as alternativas corretas quanto ao troco.



O que descobrimos sobre nosso dinheiro?

No nosso sistema monetário, as cédulas e moedas podem representar valores iguais, mesmo em quantidades diferentes. Exemplo:



Estabelecendo uma relação de equivalência (valores iguais). Assim, com as cédulas tem uma relação de valor. Uma nota de R\$ 50,00 vale mais do que, por exemplo, quatro cédulas de R\$ 10,00.

04 Relacione a coluna da direita com a coluna da esquerda.



05 Quantas moedas de R\$0,10 são necessárias para formar R\$1,60?

São necessárias moedas.


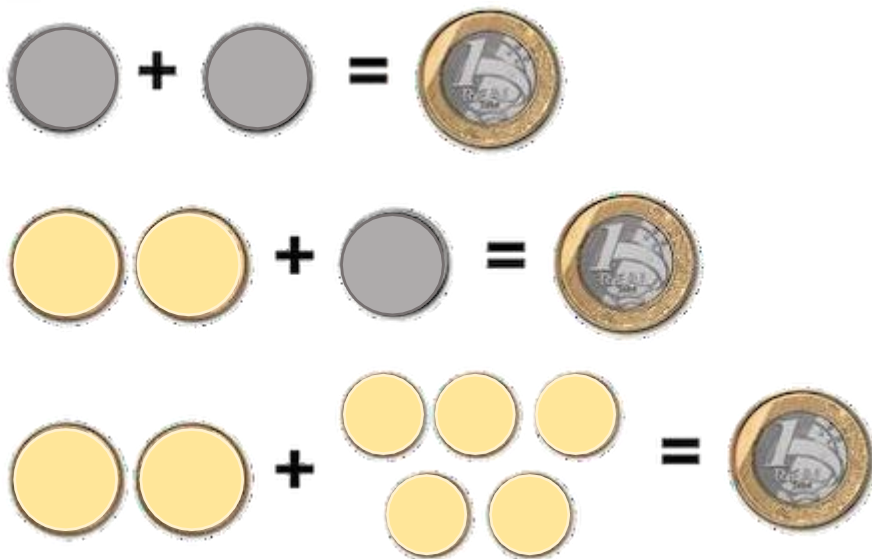
06 Quantas cédulas de R\$5,00 são necessárias para formar R\$45,00?

São necessárias cédulas.

07 Assinale a alternativa que indica uma opção de decomposição de R\$ 23,70.

- R\$10,00 + R\$10,00 + R\$2,00 + R\$0,50 + R\$0,25 + R\$0,10
- R\$20,00 + R\$20,00 + R\$1,00 + R\$0,50 + R\$0,10 + R\$0,10
- R\$20,00 + R\$2,00 + R\$1,00 + R\$0,50 + R\$0,10 + R\$0,10
- R\$10,00 + R\$10,00 + R\$2,00 + R\$0,50 + R\$0,50 + R\$0,10

08 Escreva dentro das moedas e das cédulas, as possibilidades de se obter R\$ 1,00 e depois R\$100,00.



UNIDADE ESCOLAR:

PROFESSORA DATA

NOME:

FASE **IV e V** CÓDIGO BNCC **EF04HI01**

HI

HISTÓRIA

INDEPENDÊNCIA DO BRASIL

QUANDO OCORREU?

Ocorreu em 7 de setembro de 1822

ONDE E COMO FOI?

Foi proclamada através do grito de independência às margens do Riacho Ipiranga

200 ANOS
INDEPENDÊNCIA
1822 • 2022

BRASIL

PRINCIPAL RESPONSÁVEL:

O ato foi realizado por Dom Pedro.

CONSEQUÊNCIAS:

Surgimento do Brasil como nação.

O estabelecimento da monarquia no Brasil.

OBJETIVOS:

Independência comercial, política e administrativa.

Chegamos a 2022, o ano que marca os 200 anos da proclamação da independência do nosso país. Em um ano como este, certamente a data será invocada por diversas camadas e setores da sociedade.

Somos brasileiros e apesar das dificuldades que todo país em desenvolvimento enfrenta, podemos dizer que nosso povo não desiste nunca.

ATIVIDADE

01 Leia um trecho do Hino da Independência.

**Já podeis, da Pátria filhos,
Ver contente a mãe gentil;
Já raiou a liberdade
No horizonte do Brasil.**

**Brava gente brasileira!
Longe vá... temor servil:
Ou ficar a pátria livre
Ou morrer pelo Brasil.**



02 Encontre as palavras destacadas no caça-palavras.

BRASILEIRA

PÁTRIA

BRASIL

HORIZONTE

LIBERDADE

LONGE

LIVRE

A F R E B R A S I L N R F G P
F L T C A E Y N B B I L O P N
A I L M P A T R I A L O N G E
P V Y F R M V D A E K E I J B
O R T N H O R I Z O N T E D C
A E R E A D L I B E R D A D E
B R A S I L E I R A O P A R E



03 Em que dia comemoramos o dia da Independência do Brasil?



04 Quem proclamou a Independência do Brasil?

05 Em que local foi proclamada a Independência do Brasil?

06 Escreva algumas consequências da proclamação da Independência do Brasil.

07 Qual era o objetivo de proclamar a Independência do Brasil?



UNIDADE ESCOLAR:

PROFESSORA

DATA

NOME:

FASE **IV e V**

CÓDIGO BNCC EF15AR04

AR ARTE

ARTESANATO

COMO FAZER UMA VASSOURA DE GARRAFAS PET PASSO A PASSO.

Materiais Necessários:

- 18 garrafas de refrigerante de plástico PET de 2 litros
- cabo de vassoura
- tesoura
- estilete
- furador
- arame
- martelo
- pregos



Como Fazer:

- 1) Retire o rótulo da garrafa;
 - 2) Retire o fundo cortando com estilete;
- Faça cortes até na parte arredondada da garrafa, como mostrado na figura;
- 4) A garrafa deverá ficar com várias tirinhas de cerca de 0,5 cm de comprimento;

5) Retire o gargalo com uma tesoura;

6) Faça 17 peças sem o gargalo e deixe somente uma com o gargalo;

7) Encaixe todas as peças sem o gargalo sobre a peça com o gargalo;

8) Está formada a base da vassoura;



9) Corte a parte superior de outra garrafa e encaixe por cima da base que você acabou de montar;

10) Encaixe com cuidado para não soltar as outras peças;

11) Faça 2 furos;

12) Encaixe o arame para amarrar a vassoura;



13) Puxe o arame até o outro lado e amarre as pontas bem firmemente com a ajuda de um alicate;

14) Encaixe a vassoura em um cabo;



15) Bata um prego para fixar;

16) Está pronta a vassoura!

Fonte:

[http://www.recicloteca.org.br/passo.asp?Ancora=5](http://www.recicloteca.org.br/ passo.asp?Ancora=5)