

PREFEITURA MUNICIPAL DE BOM JESUS DO ITABAPOANA-RJ
SECRETARIA MUNICIPAL DE EDUCAÇÃO, ESPORTE E LAZER

SEMEEL

A mudança está em nossas mãos

Atividades Orientadoras



1º
ano

Ensino Fundamental

UNIDADE ESCOLAR:

PROFESSOR(A)

ANO DE ESCOLARIDADE
1º ANO

DATA
36ª SEMANA (31/10 a 04/11)

NOME:

HOJE É?

SEGUNDA TERÇA QUARTA QUINTA SEXTA

CÓDIGO BNCC

EF01LP02.RJ / EF01LP03

 **LÍNGUA PORTUGUESA** 

1. LEIA O TEXTO COM AJUDA DO PROFESSOR E RESPONDA.



A CAIXA DA VOVÓ

WENIDARC CINTRA

ABRO A CAIXA DA VOVÓ,
E VEJO TUDO QUE ERA DELA.

LENÇO, COLAR, ANEL,
XÍCARA, PORTA-JOIAS
E SEU XALE AMARELO.



A VOVÓ DEIXOU ESTA CAIXA
PARA TODOS QUE A AMAM.
QUANDO A SAUDADE VEM,
LÁGRIMAS DE CARINHO
A GENTE DERRAMA.



2. DE QUEM ERA A CAIXA?

3. QUAIS SÃO OS OBJETOS QUE TÊM DENTRO DA CAIXA?

4. COMPLETE AS PALAVRAS QUE FALTAM NESSA PARTE DO TEXTO:

QUANDO A VEM,

LÁGRIMAS DE

A DERRAMA.



5. COMPLETE AS FRASES COM OS NOMES DOS DESENHOS:


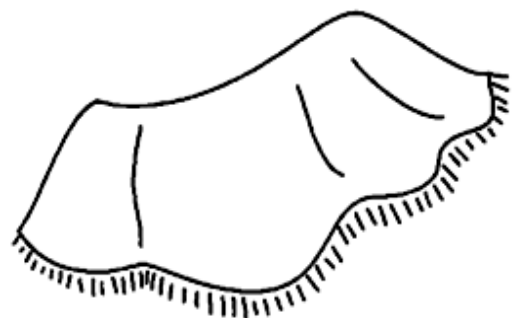
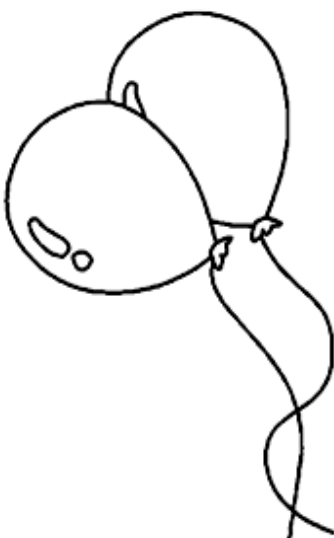
A) A É UMA FERRAMENTA DE TRABALHO.

B) O É UM AGASALHO.

C) A TAMBÉM É CHAMADA DE BALÃO.

D) O É UM ANIMAL QUE NASCE DO OVO.


E) A É PRÓPRIA PARA BEBER CAFÉ.




6. SUBSTITUA AS IMAGENS POR PALAVRAS E REESCREVA AS FRASES:

A) O  DA XÊNIA É UM LUXO.

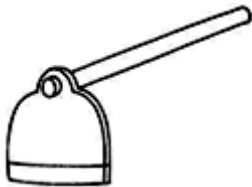
B) A PIXOXÓ PEGOU O  DA .

C) A  CAXUXA ASSUSTOU AS CRIANÇAS.

D) O PIXOXÓ ESTOUROU A .

E) A MAMÃE FRITOU  E FEZ SALADA DE MAXIXE.

7. COMPLETE AS PALAVRAS COM AS LETRAS QUE ESTÃO FALTANDO:



E	N	X	A	D	A
	N			D	
E					A



X	Í	C	A	R	A
		C		R	
			A		A



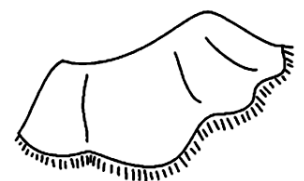
C	O	X	A
	O		
C			A



L	I	X	O
	I		
L			



B	R	U	X	A
	R			A
		U		



X	A	L	E
	A		
			E

UNIDADE ESCOLAR:

PROFESSOR(A)

ANO DE ESCOLARIDADE

DATA

NOME:

HOJE É?

SEGUNDA TERÇA QUARTA QUINTA SEXTA

CÓDIGO BNCC

EF01MA01 / EF01MA08 / EF01MA21




MATEMÁTICA




1. OBSERVE A QUANTIDADE DE BOLSAS QUE CARLA E ANA POSSUEM E RESPONDA:

CARLA



ANA



➤ QUANTAS BOLSAS ANA PRECISA PARA TER A MESMA QUANTIDADE QUE CARLA?


() 10

() 8

() 7

2. OBSERVE A QUANTIDADE DE FIGURINHAS QUE PEDRO E ANTÔNIO POSSUEM E RESPONDA:

PEDRO



ANTÔNIO



➤ QUEM TEM MAIS FIGURINHAS?


➤ QUANTAS FIGURINHAS PEDRO TEM A MAIS QUE ANTÔNIO?

() 5

() 4

() 3

3. OBSERVE OS NÚMEROS A SEGUIR E RESPONDA:



- ESSE NÚMERO TEM QUANTOS ALGARISMOS? _____

- ESSE NÚMERO É PAR OU ÍMPAR? _____

- QUAL ALGARISMO INDICA DEZENA? _____

- QUAL ALGARISMO INDICA UNIDADE? _____

- COMO SE LÊ ESTE NÚMERO?

- QUAL SEU ANTECESSOR? _____

- QUAL SEU SUCESSOR? _____

➤ RESOLVA:

$$36 + \underline{\quad\quad\quad} = 40$$

$$30 + \underline{\quad\quad\quad} = 36$$

$$36 - \underline{\quad\quad\quad} = 30$$



- ESSE NÚMERO TEM QUANTOS ALGARISMOS? _____

- ESSE NÚMERO É PAR OU ÍMPAR? _____

- QUAL ALGARISMO INDICA DEZENA? _____

- QUAL ALGARISMO INDICA UNIDADE? _____

- COMO SE LÊ ESTE NÚMERO?

- QUAL SEU ANTECESSOR? _____


- QUAL SEU SUCESSOR? _____

➤ RESOLVA:

$$46 + \underline{\quad\quad\quad} = 50$$


$$40 + \underline{\quad\quad\quad} = 50$$

$$43 - \underline{\quad\quad\quad} = 40$$



2. AS CRIANÇAS DO CLUBE DE LEITURA DA ESCOLA ESTÃO ENTREGANDO CONVITES PARA A FEIRA DO LIVRO DO PRIMEIRO ANO. OBSERVE NA TABELA A QUANTIDADE DE CONVITES ENTREGUES E RESPONDA:

NOME	CONVITES ENTREGUES
CLARA	5
VINÍCIUS	7
HENRIQUE	4
LUCAS	3
JÚLIA	2



A) QUEM ENTREGOU MAIS CONVITES?

B) QUEM ENTREGOU MENOS CONVITES DO QUE JÚLIA?

C) QUANTOS CONVITES ENTREGARAM JUNTAS AS MENINAS?

D) QUANTOS CONVITES OS MENINOS ENTREGARAM JUNTOS?

E) QUANTOS CONVITES FORAM ENTREGUES AO TODO?

F) QUANTOS CONVITES LUCAS ENTREGOU A MAIS QUE VINÍCIUS?

G) QUANTOS CONVITES CLARA ENTREGOU A MAIS QUE JÚLIA?

3. CALCULE:

$$\begin{array}{r} 29 \\ - 14 \\ \hline \end{array}$$

$$\begin{array}{r} 35 \\ - 23 \\ \hline \end{array}$$

$$\begin{array}{r} 76 \\ - 54 \\ \hline \end{array}$$

$$\begin{array}{r} 33 \\ - 22 \\ \hline \end{array}$$

$$\begin{array}{r} 65 \\ - 43 \\ \hline \end{array}$$

$$\begin{array}{r} 85 \\ - 65 \\ \hline \end{array}$$

$$\begin{array}{r} 53 \\ - 42 \\ \hline \end{array}$$

$$\begin{array}{r} 90 \\ - 50 \\ \hline \end{array}$$

$$\begin{array}{r} 59 \\ - 7 \\ \hline \end{array}$$

$$\begin{array}{r} 34 \\ - 21 \\ \hline \end{array}$$

UNIDADE ESCOLAR:

PROFESSOR(A) ANO DE ESCOLARIDADE DATA

1º ANO

36ª SEMANA (31/10 a 04/11)

NOME:

HOJE É?

SEGUNDA

TERÇA

QUARTA

QUINTA

SEXTA

CÓDIGO BNCC

EF01LP02.RJ/EF12LP02/EF01LP03



LÍNGUA PORTUGUESA



1. LEIA O TEXTO COM A AJUDA DA PROFESSORA E RESPONDA:



QUEM É QUEM DENTRO DA BOCA

OS ADULTOS TÊM 32 DENTES NA BOCA. QUANDO ELES CAEM, NÃO NASCEM OUTROS.

AS CRIANÇAS TÊM 20, QUE COMEÇAM A SER TROCADOS POR VOLTA DOS SETE ANOS.

OS DENTES DA FRENTE SÃO OS INCISIVOS. ELES SÃO OITO E CORTAM OS ALIMENTOS.

OS CANINOS SERVEM PARA RASGAR A COMIDA. ELES PARECEM DENTES DE CACHORRO. TODO MUNDO TEM QUATRO CANINOS.

OS PRÉ-MOLARES SÃO OS DENTES DO MEIO. AS CRIANÇAS NÃO TÊM DENTES PRÉ-MOLARES, OS ADULTOS TÊM OITO.

OS MOLARES SERVEM PARA AMASSAR O ALIMENTO. AS CRIANÇAS TÊM OITO DENTES MOLARES E OS ADULTOS, 12.

2. QUAL É O TÍTULO DO TEXTO? _____

3. ESSE TEXTO É: () DE HUMOR () INFORMATIVO () POEMA

4. QUAIS OS DENTES HUMANOS SE PARECEM COM OS DO CACHORRO?

5. QUAIS OS DENTES QUE AS CRIANÇAS NÃO TÊM?

6. QUANDO AS CRIANÇAS COMEÇAM A TROCAR OS DENTES? _____

7. QUANTOS DENTES DIFERENTES NÓS TEMOS? _____

8. QUANTOS DENTES TEM UMA CRIANÇA? _____

9. JUNTE OS NÚMEROS E FORME FRASES:

QUEM?	
1	A MULA LEVOU
2	MAGALI É UMA MENINA
3	A MINHOCAS FAMINTA
4	O MACACO MANECO



COMO?	
3	COMEU TODA A MAÇA
4	SEGURA A BANANA
1	A MALA NO PESCOÇO
2	QUE COME MELANCIA





ONDE?	
4	EM CIMA DA ÁRVORE.
2	NA ESCOLA.
1	PARA A MATA.
3	EM CIMA DA PIA.



10. LEIA ATENTAMENTE OS TEXTOS A SEGUIR E COMPLETE OS ESPAÇOS EM BRANCO COM OS SINAIS DE PONTUAÇÃO CORRETOS:



Copyright © 2001 Mauricio de Sousa Produções Ltda. Todos os direitos reservados.



7243

MÔNICA LIA UM LIVRO SOB A SOMBRA DE UMA ÁRVORE

DE REPENTE, MAGALI SE APROXIMOU E BUUUUUU

ENTÃO MÔNICA GRITOU

QUE SUSTO E SUBIU NA ÁRVORE.

MAGALI ENTÃO FALOU

PEGA UMA MAÇÃ PRA MIM

MÔNICA RESPONDEU

VOU PEGAR PRA VOCÊ PARA O CEBOLINHA CASCÃO E
PRA MIM



2. COMPLETE A SEQUÊNCIA NUMÉRICA:

2		6
	10	
14		18

20		24
	28	
32		36



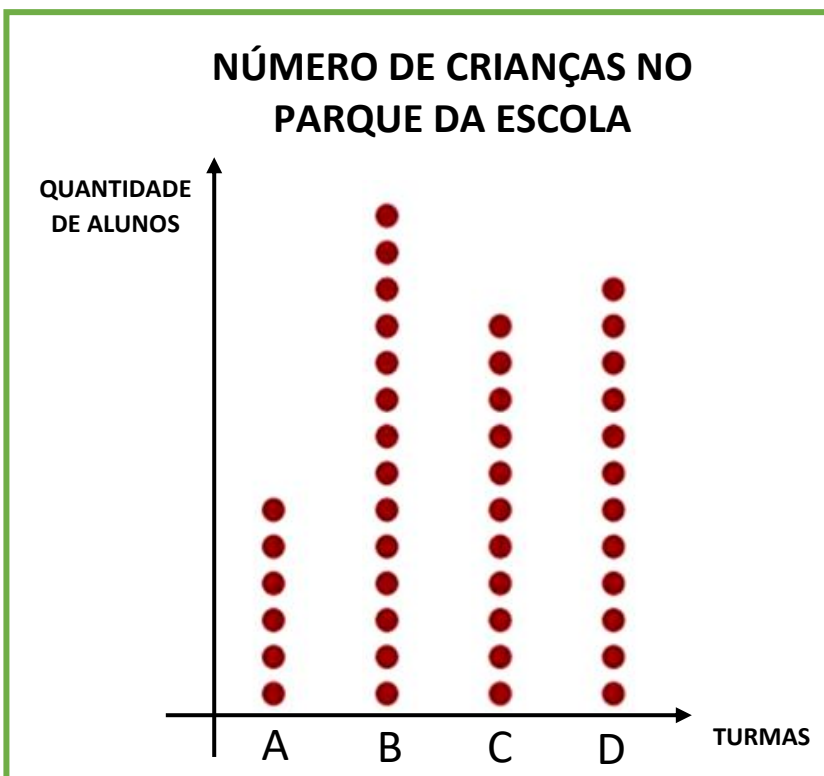
38		42
	46	
50		54



56		60
	64	
68		72

74		78
	82	
86		90

3. OBSERVE O GRÁFICO DE PONTOS E RESPONDA ÀS PERGUNTAS:



- QUAL TURMA TEVE MAIS ALUNOS?

_____.

- QUANTOS ALUNOS ESTIVERAM PRESENTES DA TURMA D?

_____.

- QUAL FOI O TOTAL DE ALUNOS PRESENTES NO PARQUE?

_____.

- QUAL TURMA TEVE MENOS ALUNOS?

_____.





- QUANTOS ALUNOS A TURMA B TEVE A MAIS QUE A TURMA A? _____.

- QUANTOS ALUNOS A TURMA B TEVE A MAIS QUE A TURMA C? _____.

- QUANTOS ALUNOS A TURMA C TEVE A MENOS QUE A TURMA D? _____.

- QUANTOS ALUNOS A TURMA B TEVE A MAIS QUE A TURMA D? _____.

4. RESOLVA AS SITUAÇÕES-PROBLEMAS:

PREÇO	PAGUEI COM	RECEBI DE TROCO
 R\$ 20,00	R\$ 50,00	<input type="checkbox"/> R\$ 15,00 <input type="checkbox"/> R\$ 75,00 <input type="checkbox"/> R\$ 3,00 <input type="checkbox"/> R\$ 30,00
 R\$ 60,00	R\$ 80,00	<input type="checkbox"/> R\$ 20,00 <input type="checkbox"/> R\$ 13,00 <input type="checkbox"/> R\$ 148,00 <input type="checkbox"/> R\$ 12,00
 R\$ 19,00	R\$ 29,00	<input type="checkbox"/> R\$ 10,00 <input type="checkbox"/> R\$ 11,00 <input type="checkbox"/> R\$ 39,00 <input type="checkbox"/> R\$ 2,00
 R\$ 86,00	R\$ 99,00	<input type="checkbox"/> R\$ 186,00 <input type="checkbox"/> R\$ 13,00 <input type="checkbox"/> R\$ 86,00 <input type="checkbox"/> R\$ 26,00

CÁLCULO

CÁLCULO

CÁLCULO

CÁLCULO

5. CALCULE:

$\begin{array}{r} 96 \\ - 11 \\ \hline \end{array}$	$\begin{array}{r} 95 \\ - 21 \\ \hline \end{array}$	$\begin{array}{r} 79 \\ - 46 \\ \hline \end{array}$	$\begin{array}{r} 79 \\ - 18 \\ \hline \end{array}$	$\begin{array}{r} 69 \\ - 30 \\ \hline \end{array}$	$\begin{array}{r} 58 \\ - 10 \\ \hline \end{array}$	$\begin{array}{r} 59 \\ - 31 \\ \hline \end{array}$
---	---	---	---	---	---	---

$\begin{array}{r} 55 \\ - 31 \\ \hline \end{array}$	$\begin{array}{r} 57 \\ - 31 \\ \hline \end{array}$	$\begin{array}{r} 89 \\ - 14 \\ \hline \end{array}$	$\begin{array}{r} 99 \\ - 10 \\ \hline \end{array}$	$\begin{array}{r} 79 \\ - 10 \\ \hline \end{array}$	$\begin{array}{r} 88 \\ - 12 \\ \hline \end{array}$	$\begin{array}{r} 95 \\ - 12 \\ \hline \end{array}$
---	---	---	---	---	---	---

UNIDADE ESCOLAR:

PROFESSOR(A) ANO DE ESCOLARIDADE DATA

1º ANO

36ª SEMANA (31/10 a 04/11)

NOME:

HOJE É?

SEGUNDA

TERÇA

QUARTA

QUINTA

SEXTA

CÓDIGO BNCC

EF01CI01




CIÊNCIAS



AO LONGO DO TEMPO, MUITOS MATERIAIS SÃO DESCOBERTOS OU CRIADOS E OS OBJETOS DO NOSSO DIA A DIA VÃO SOFRENDOS MUDANÇAS.

1. OBSERVE OS OBJETOS E RESPONDA:



2. QUAIS DELES VOCÊ CONHECE? ESCREVA O NOME.

3. NA SUA OPINIÃO, QUAIS MATERIAIS FORAM UTILIZADOS NA FABRICAÇÃO DESSES OBJETOS?

4. QUAIS AS DIFERENÇAS VOCÊ PERCEBE ENTRE OS OBJETOS DE ANTIGAMENTE E DE HOJE EM DIA?

5. OBSERVE A BRINCADEIRA E RESPONDA:



6. DE QUE AS CRIANÇAS NA IMAGEM ESTÃO BRINCANDO?

7. EM QUAL LOCAL AS CRIANÇAS ESTÃO BRINCANDO?

8. NA SUA OPINIÃO, QUE MATERIAIS PARECEM ESTAR RETRATADOS NA PINTURA? ASSINALE:

- () MADEIRA
- () VIDRO
- () PLÁSTICO
- () LINHA
- () ALGODÃO

