

PREFEITURA MUNICIPAL DE BOM JESUS DO ITABAPOANA-RJ
SECRETARIA MUNICIPAL DE EDUCAÇÃO, ESPORTE E LAZER

SEMEEL

A mudança está em nossas mãos

Atividades Orientadoras



1º
ano

Ensino Fundamental

UNIDADE ESCOLAR:

PROFESSOR(A) ANO DE ESCOLARIDADE DATA

NOME:


HOJE É?

CÓDIGO BNCC



1. LEIA O TRAVA-LÍNGUA E RESPONDA:

O SABIÁ NÃO SABIA QUE
O SÁBIO SABIA QUE O
SABIÁ NÃO SABIA ASSOBIAR.



- QUANTAS PALAVRAS TEM NO TRAVA-LÍNGUA? _____
- QUEM SÃO OS DOIS PERSONAGENS DO TRAVA-LÍNGUA? _____
- QUANTAS CONSOANTES TEM NO TRAVA-LÍNGUA? _____
- QUAIS SÃO AS PALAVRAS QUE COMEÇAM COM A LETRA S? _____
- QUANTAS VEZES VOCÊ ABRE A BOCA PARA FALAR **SABIÁ**? _____
- QUANTAS VEZES VOCÊ ABRE A BOCA PARA FALAR **ASSOBIAR**? _____
- QUANTAS VEZES VOCÊ ABRE A BOCA PARA FALAR **SÁBIO**? _____

2 - PREENCHA O TRAVA-LÍNGUA COM AS PALAVRAS FALTOSAS.


O _____ NÃO SABIA QUE
O _____ SABIA QUE O
SABIÁ NÃO SABIA _____.



3. COMPLETE OS QUADROS COM AS LETRAS QUE ESTÃO FALTANDO:



S	E	R	E	I	A
	E			I	A
S		R	E		



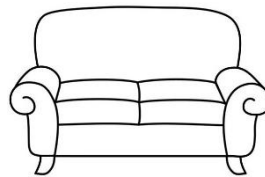
S	I	N	O
	I		O
S			



S	A	P	O
	A		O
S			



S	A	L	A	D	A
		L			A
	A			D	



S	O	F	Á
	O		Á
S			




S	A	P	A	T	O
S		P		T	
	A		A		O

4. PINTE A PALAVRA DE ACORDO COM O NOME DAS FIGURAS:

	SOLA SOL SOPA		SINO SAIA SELO
	SINO SALA SUCO		SACOLA SAPATO SABÃO
	SACOLA SAPATO SALAME		SABIÁ SOME SAIA
	SOPA SALADA SORVETE		SOFÁ SOCO SOPA
	SAPO SAPATO SACO		SOL SORVETE SOPA

5. COMPLETE A CRUZADINHA:

SAPO
SAPATO
SEREIA
SETE
SINO
SIRI
SOPA
SOL
SUCO



UNIDADE ESCOLAR:

PROFESSOR(A)

ANO DE ESCOLARIDADE

DATA

NOME:

HOJE É?

SEGUNDA

TERÇA

QUARTA

QUINTA


SEXTA

CÓDIGO BNCC



1. COMPLETE A SEQUÊNCIA NUMÉRICA COM OS NÚMEROS FALTOSOS:

	2	3				7			
				15				19	
		23							30
					36				
41							48		
			54			57			
	62							69	
				75					80
81		83							
			94			97			100



2. COMPLETE COM ANTECESSOR E SUCESSOR DE CADA NUMERAL:

	69	
--	----	--

	49	
--	----	--

	61	
--	----	--

	52	
--	----	--


	91	
--	----	--

	45	
--	----	--

	50	
--	----	--

	67	
--	----	--

3. OBSERVE O GRÁFICO DE BRINQUEDOS DE PEDRO. PINTE A QUANTIDADE DE CADA BRINQUEDO DE ACORDO COM A TABELA E RESPONDA:



PIPA – 5
 CARRO – 4
 PETECA – 3
 BOLA – 8
 BICICLETA – 1




- QUAL BRINQUEDO PEDRO TEM EM MENOR QUANTIDADE? _____

- QUAL BRINQUEDO PEDRO TEM EM MAIOR QUANTIDADE? _____

- ESCREVA, POR EXTENSO, QUANTAS BOLAS PEDRO TEM. _____


- ASSINALE QUANTAS PETECAS ELE TEM **A MAIS** QUE BICICLETA:

- () 4
- () 3
- () 2



- ASSINALE QUANTAS PIPAS ELE TEM **A MAIS** QUE CARROS:

- () 4
- () 6
- () 1



UNIDADE ESCOLAR:

PROFESSOR(A)

ANO DE ESCOLARIDADE

1º ANO

DATA

34ª SEMANA (17 A 21/10)

NOME:

HOJE É?

SEGUNDA

TERÇA

QUARTA

QUINTA

SEXTA

CÓDIGO BNCC

EF01LP02



FRASE

FRASE É TODO ENUNCIADO DE SENTIDO COMPLETO, PODENDO SER FORMADA POR UMA SÓ PALAVRA OU POR VÁRIAS. PODE SER AFIRMATIVA, NEGATIVA, INTERROGATIVA, EXCLAMATIVA OU IMPERATIVA.

1. COMPLETE AS FRASES COM A AJUDA DO BANCO DE PALAVRAS:

RODO


RELÓGIO

RALO

RENATA TEM UM _____ NOVO.

O _____ DA PIA SUMIU.

O PANO ESTÁ NO _____.



SOPA


SEREIA

SAPATO

O _____ ESTÁ NA SACOLA.

SUELI FEZ _____ DE FEIJÃO.

IARA É UMA LINDA _____.



PIANO


PANELA

PETECA

PAULA TOCA NO _____ DA IGREJA.

A _____ ESTÁ NA PIA.

A _____ É FEITA DE PENAS.



2. OBSERVE AS CENAS E FORME FRASES COM AS PALAVRAS EM DESTAQUE:



DO FEZ FOGUEIRA
FLÁVIO NO FUNDO
QUINTAL UMA



E BARCO BEATRIZ
BRUNO ESTAVAM
PASSEANDO DE

NA E CAMILA
TOMAM CAFETERIA.
CORINA CAFÉ





UNIDADE ESCOLAR:

PROFESSOR(A) ANO DE ESCOLARIDADE DATA

NOME:

HOJE É?

SEGUNDA TERÇA QUARTA QUINTA SEXTA

CÓDIGO BNCC

EF01MA01.RJ



MEDIDA DE TEMPO

O TEMPO PODE SER MEDIDO POR DIVERSAS MANEIRAS. O DIA É DIVIDIDO EM HORAS, AS HORAS, EM MINUTOS E OS MINUTOS EM SEGUNDOS. O RELÓGIO SERVE PARA MARCAR ESSAS MEDIDAS.

RELÓGIO DE PONTEIRO



RELÓGIO DIGITAL



1. VOCÊ PERCEBEU QUE EM NOSSO DIA A DIA TEMOS HORA PARA TUDO? COMPLETE O QUADRO COM OS SEUS HORÁRIOS.



BRINCO ÀS _____ HORAS.



TOMO BANHO ÀS _____ HORAS.



ESCOVO OS DENTES ÀS _____ HORAS.



VOU PARA A ESCOLA ÀS _____ HORAS.



2. MARQUE NOS RELÓGIOS OS HORÁRIOS EM QUE VOCÊ DORME E QUE VOCÊ ACORDA:



EU GOSTO DE DORMIR CEDO. E VOCÊ?



EU DURMO EU ACORDO

3. QUE HORAS CADA RELÓGIO ESTÁ MARCANDO?



4. AGORA É SUA VEZ DE MARCAR NOS RELÓGIOS AS HORAS PEDIDAS:

8 HORAS 9 HORAS 1 HORA



UNIDADE ESCOLAR:

PROFESSOR(A)

ANO DE ESCOLARIDADE

1º ANO

DATA

34ª SEMANA(17 A 21/10)

NOME:

HOJE É?

SEGUNDA

TERÇA

QUARTA

QUINTA

SEXTA

CÓDIGO BNCC

EF01CI06.RJ



OS OBJETOS E OS MATERIAIS


OS OBJETOS DO SEU DIA A DIA PODEM SER FEITOS DE MUITOS MATERIAIS. OBSERVE OS OBJETOS AO SEU REDOR. DE QUE ELES SÃO FEITOS?

1. LEIA COM A AJUDA DA PROFESSORA E RESPONDA:

A SALA DE AULA É
UM LOCAL ONDE HÁ
MUITOS OBJETOS FEITOS
DE DIFERENTES MATERIAIS.

A MESA DO PROFESSOR E
AS CARTEIRAS DOS ALUNOS
PODEM SER DE MADEIRA.

A LIXEIRA PODE SER FEITA DE PLÁSTICO
E OS CADERNOS E LIVROS SÃO DE PAPEL.



➤ DE ACORDO COM O TEXTO:

• A MESA DO PROFESSOR E A CARTEIRA
SÃO FEITAS DE QUAL MATERIAL?

() PLÁSTICO








() ARAME

() MADEIRA


• DE QUAL MATERIAL É FEITA A LIXEIRA?

• DE QUAL MATERIAL SÃO FEITOS OS
CADERNOS E LIVROS?

2. OBSERVE OS BRINQUEDOS ABAIXO E DEPOIS CLASSIFIQUE-OS DE ACORDO COM O MATERIAL QUE FORAM FABRICADOS:

PLÁSTICO	MADEIRA	METAL	VIDRO
<div data-bbox="379 398 598 474"> <p>TECIDO</p> </div>  <div data-bbox="233 703 537 768"> <input type="text"/> </div>	<div data-bbox="684 398 903 474"> <p>PAPEL</p> </div>  <div data-bbox="601 703 906 768"> <input type="text"/> </div>	<div data-bbox="994 398 1248 474"> <p>BORRACHA</p> </div>  <div data-bbox="976 703 1281 768"> <input type="text"/> </div>	
 <div data-bbox="244 1072 549 1137"> <input type="text"/> </div>	 <div data-bbox="606 1072 911 1137"> <input type="text"/> </div>	 <div data-bbox="976 1072 1281 1137"> <input type="text"/> </div>	
 <div data-bbox="606 1402 911 1467"> <input type="text"/> </div>			

3. IDENTIFIQUE NA IMAGEM ABAIXO O QUE É FEITO DE PAPEL, METAL, TECIDO, MADEIRA E VIDRO.



The illustration shows a bedroom with the following items labeled with empty boxes:

- Window blind
- Shelf
- Lamp
- Bed
- Bedside table
- Alarm clock
- Picture on the wall