

PREFEITURA MUNICIPAL DE BOM JESUS DO ITABAPOANA-RJ
SECRETARIA MUNICIPAL DE EDUCAÇÃO, ESPORTE E LAZER

Atividades Orientadoras



Educação de Jovens e Adultos

FASE I



UNIDADE ESCOLAR:

PROFESSORA

DATA

2ª SEMANA DE OUTUBRO

NOME:

FASE I e II

CÓDIGO BNCC EF03LP08/EF03LP09/EF02LP31

LP

LÍNGUA PORTUGUESA

01

LEITURA E EXPLICAÇÃO FEITA PELO PROFESSOR.

SUBSTANTIVOS
CONCRETOS
E
ABSTRATOS.

SUBSTANTIVOS CONCRETOS
SÃO AQUELES QUE NOMEIAM
SERES QUE POSSUEM
EXISTÊNCIA PRÓPRIA, OU SEJA,
NÃO DEPENDEM DE OUTROS
SERES. OS SUBSTANTIVOS
CONCRETOS NOMEIAM PESSOAS,
LUGARES, ANIMAIS, VEGETAIS,
MINERAIS E COISAS.

SUBSTANTIVOS ABSTRATOS
SÃO AQUELES QUE NOMEIAM
SERES QUE DEPENDEM DE
OUTROS SERES PARA EXISTIR.
OS SUBSTANTIVOS ABSTRATOS
DENOMINAM AÇÕES, ESTADOS E
QUALIDADES.

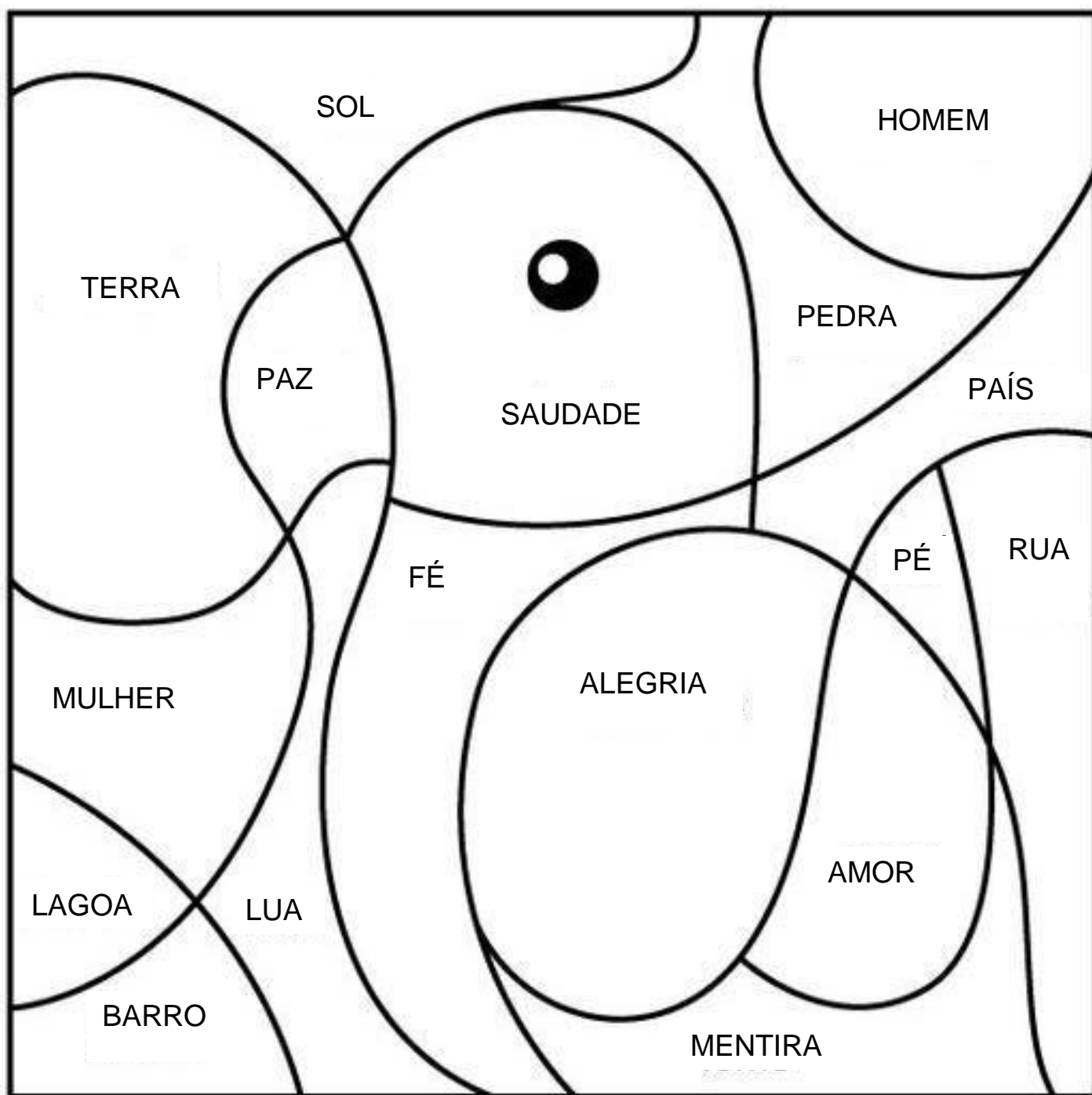
PRÉDIO - PAÍS - LAGOA -
MULHER - HOMEM - PÉ -
CRIANÇA - TERRA - RUA
BARRO - SOL - PEDRA -
LUA.

FELICIDADE - BELEZA -
MENTIRA - FALSIDADE -
DISPOSIÇÃO - ALEGRIA
FÉ - AMOR - RAPIDEZ -
PAZ - FOME - SAUDADE.

02 PINTE OS SUBSTANTIVOS DA CENA ABAIXO DE ACORDO COM A LEGENDA.

AMARELO - SUBSTANTIVOS CONCRETOS.

VERMELHO - SUBSTANTIVOS ABSTRATOS.



03 ESCREVA OS SUBSTANTIVOS QUE FORAM PINTADOS DE VERMELHO.

04 ENCONTRE NO CAÇA-PALAVRAS OS SUBSTANTIVOS QUE FORAM PINTADOS DE AMARELO.

A	N	O	A	D	P	I	N	A	R	W	T
P	A	Í	S	E	A	P	É	N	U	E	T
E	I	I	E	N	N	O	I	V	A	H	E
R	H	K	D	A	N	B	A	R	R	O	N
M	E	G	F	P	E	D	R	A	N	M	E
U	T	E	R	R	A	D	I	D	A	E	E
L	A	G	O	A	E	E	T	H	N	M	M
H	I	H	O	B	L	A	G	S	W	R	T
E	F	B	E	G	D	U	E	L	D	O	A
R	O	S	L	S	D	S	H	U	K	L	W
J	H	I	D	R	E	V	E	I	S	T	H
S	O	L	U	A	E	T	W	R	A	F	L

05 COMPLETE AS LETRAS QUE FALTAM NA SEQUÊNCIA ALFABÉTICA.

	B		D		F	
H		J		L		N
	P		R		T	
V		X		Z		

UNIDADE ESCOLAR:

PROFESSORA

DATA
2ª SEMANA DE OUTUBRO

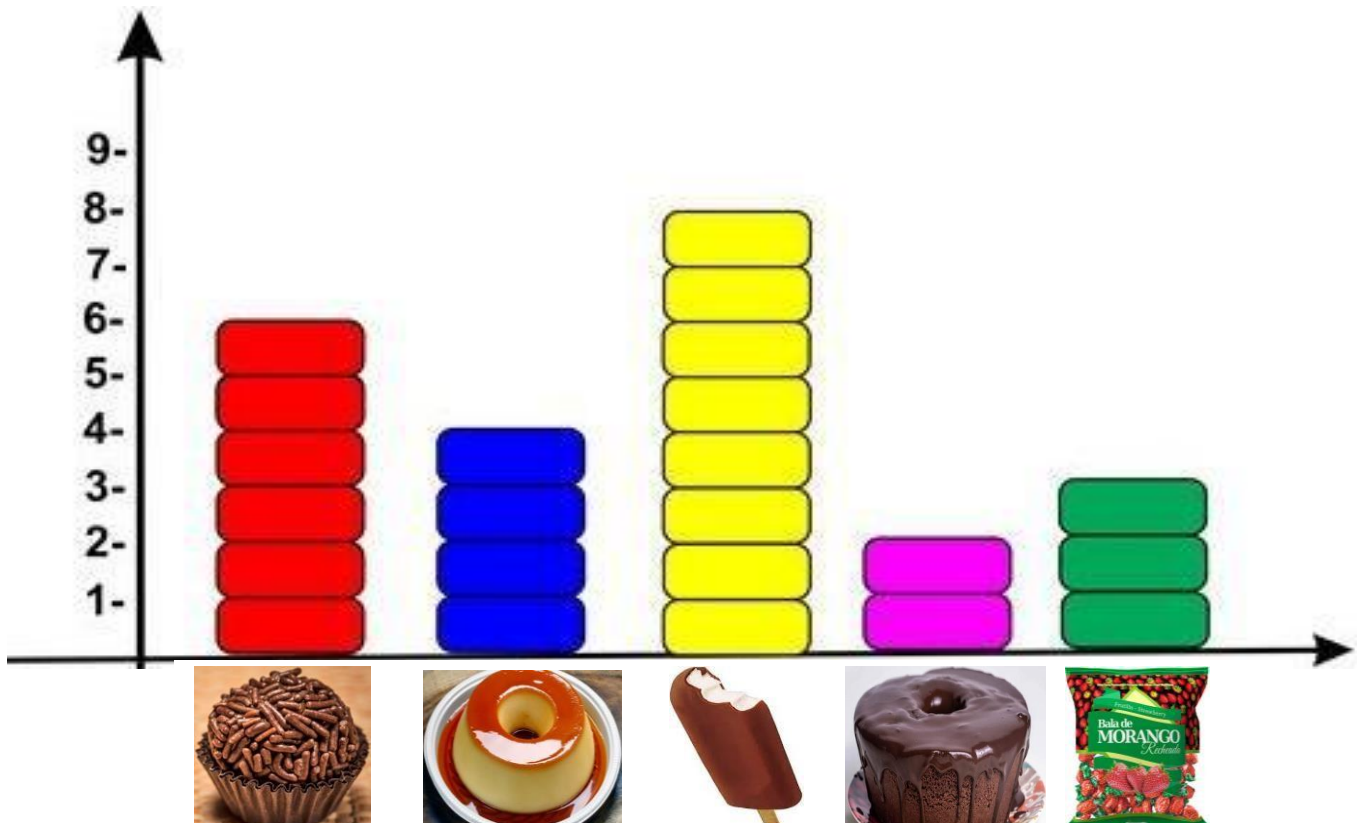
NOME:

FASE

CÓDIGO BNCC

MA MATEMÁTICA

01 OBSERVE O GRÁFICO QUE MOSTRA OS DOCES QUE FORAM SERVIDOS NA FESTA DO DIA DOS PROFESSORES.



02 RESPONDA:

A QUAL DOCE TEM MAIS QUANTIDADE? _____

B QUAL DOCE TEM MENOS QUANTIDADE? _____

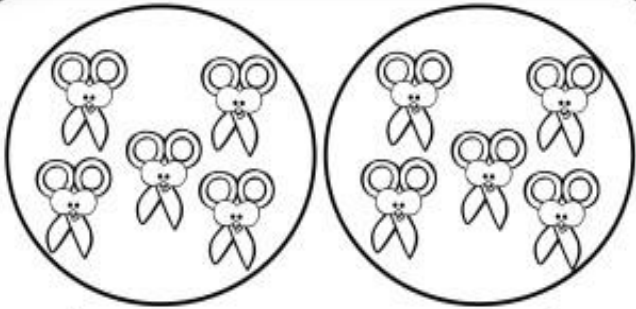
C QUAL O DOCE PREFERIDO DA SUA TURMA? _____

03 DE ACORDO COM O GRÁFICO, COMPLETE A TABELA ABAIXO, ESCRIVENDO OS NOMES DOS DOCES E SUAS RESPECTIVAS QUANTIDADES.

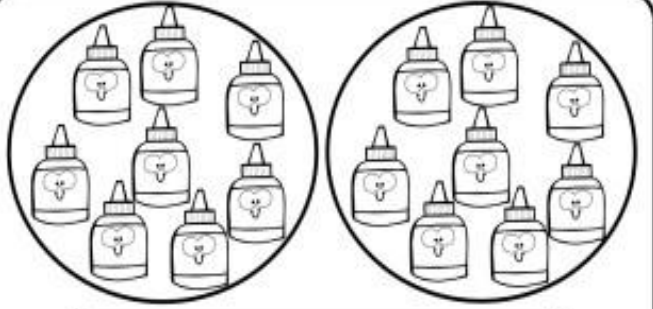
NOMES	QUANTIDADES

VOCÊ IRÁ OBTER O **DOBRO** DE UMA QUANTIDADE MULTIPLICANDO O NÚMERO POR 2 OU SOMANDO DUAS VEZES O NÚMERO.


04 ENCONTRE O DOBRO DAS QUESTÕES ABAIXO.



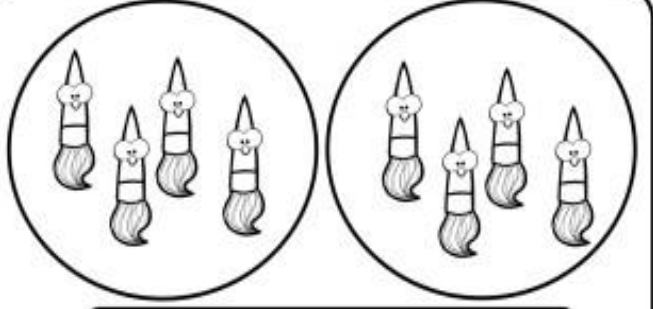
[Empty box for answer]



[Empty box for answer]



[Empty box for answer]



[Empty box for answer]

PARA ACHAR O **TRIPLO** DE UM NÚMERO, BASTA VOCÊ MULTIPLICÁ-LO POR 3 OU SOMAR TRÊS VEZES.

05

DÊ O TRIPLO DOS NÚMEROS ABAIXO.

x	1	2	3	4	5	6	7	8	9	10
3										

06

REPRESENTE AS OPERAÇÕES ABAIXO NA FORMA DE DESENHOS.

$3 \times 9 =$		

$3 \times 7 =$		

07

RESOLVA AS ADIÇÕES ABAIXO.

$2 + 2 = \underline{\quad}$	$3 + 3 = \underline{\quad}$	$4 + 4 = \underline{\quad}$	$5 + 5 = \underline{\quad}$
$2 + 2 + 2 = \underline{\quad}$	$3 + 3 + 3 = \underline{\quad}$	$4 + 4 + 4 = \underline{\quad}$	$5 + 5 + 5 = \underline{\quad}$



UNIDADE ESCOLAR:

PROFESSORA

DATA

2ª SEMANA DE OUTUBRO

NOME:

FASE

CÓDIGO BNCC



OUTUBRO ROSA: A IMPORTÂNCIA DA PREVENÇÃO AO CÂNCER DE MAMA.



OUTUBRO ROSA

O **CÂNCER** DE **MAMA** É UMA **DOENÇA** CAUSADA PELA MULTIPLICAÇÃO DESORDENADA DE **CÉLULAS** ANORMAIS DA MAMA, QUE FORMA UM **TUMOR** COM POTENCIAL DE INVADIR OUTROS **ÓRGÃOS**. HÁ VÁRIOS TIPOS DE CÂNCER DE MAMA. ALGUNS TÊM DESENVOLVIMENTO RÁPIDO, ENQUANTO OUTROS CRESCEM LENTAMENTE.

01 ENCONTRE NO CAÇA-PALAVRAS, AS PALAVRAS DESTACADAS NO TEXTO ACIMA.

T	B	L	G	D	W	H	K	F	R	W	S
E	M	I	Z	T	E	Ó	E	A	R	O	P
H	J	P	T	A	F	R	M	S	E	N	M
O	A	S	R	B	M	G	C	T	K	E	N
S	I	E	F	S	A	Ã	Â	K	I	H	G
T	A	R	U	T	M	O	N	E	O	L	H
C	É	L	U	L	A	S	C	E	O	T	T
M	B	N	I	B	D	O	E	N	Ç	A	G
Y	O	M	W	V	E	H	R	E	V	E	S
E	N	T	U	M	O	R	I	R	T	D	H
F	N	H	E	T	H	C	R	T	O	H	A
D	M	U	N	S	A	H	G	I	E	S	T

02 MARQUE UM X NA ALTERNATIVA ONDE ESTÁ ESCRITO O NOME DO ANIMAL:

- A () CACHORRO
- B () CABRITO
- C () CAVALO
- D () CAMELO



03 OBSERVE A FIGURA ABAIXO. A PALAVRA QUE CORRESPONDE AO NOME DESSA FIGURA É:

- A () FIVELA
- B () MARTELO
- C () FAROFA
- D () CINTURÃO



04 ASSINALE COM UM X A ALTERNATIVA ONDE A PALAVRA TEM TRÊS SÍLABAS:

- A () JACA
- B () JANELA
- C () GELATINA
- D () MANGA

05 FAÇA UM X NA PALAVRA QUE COMEÇA COM A MESMA SÍLABA (PEDAÇO) DO NOME DA FIGURA AO LADO.

- A () BATATA
- B () CENOURA
- C () LARANJA



CEBOLA



UNIDADE ESCOLAR:

PROFESSORA

DATA
2ª SEMANA DE OUTUBRO

NOME:

FASE

CÓDIGO BNCC

MA

MATEMÁTICA

01 RESOLVA OS PROBLEMAS ABAIXO.

A DONA ANA COLHEU 12 DE LARANJAS E 15 DE MAÇÃS. QUANTAS FRUTAS ELA COLHEU AO TODO?

ELA COLHEU _____ FRUTAS AO TODO.

B A DIRETORA COMPROU 39 LÁPIS E DEU 25 PARA A PROFESSORA MARTA. COM QUANTOS LÁPIS A DIRETORA FICOU?

A DIRETORA FICOU COM _____ LÁPIS.

02 FAÇA UM X NA NOTA DE CINQUENTA REAIS.



A ()



B ()

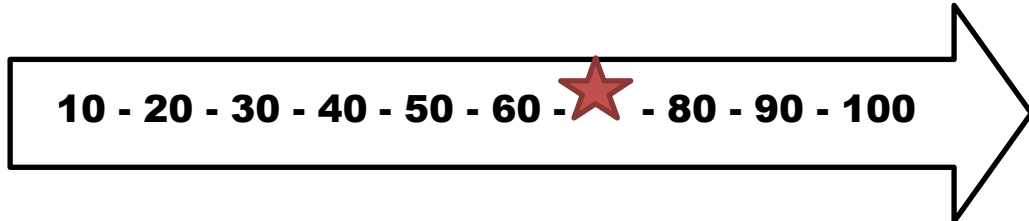


C ()



D ()

03 OS NÚMEROS NA SETA ESTÃO ORGANIZADOS DE 10 EM 10, EM ORDEM CRESCENTE.



FAÇA UM X NO NÚMERO QUE DEVE ESTAR NO LUGAR DA ESTRELA.

A () 65

B () 85

C () 70

D () 55

04 COMPLETE A SEQUÊNCIA NUMÉRICA ABAIXO DE 1 A 50.

1									10
11									20
21									30
31									40
41									50